

2018

778838



ಪ್ರಶ್ನೆಪತ್ರಿಕೆ ಶ್ರೇಣಿ

ಪ್ರಶ್ನೆಪುಸ್ತಿಕೆ

ಸಾಮಾನ್ಯ ಜ್ಞಾನ (ಪತ್ರಿಕೆ III)

B

FDA

ಸಮಯ : 1 1/2 ಗಂಟೆಗಳು

ವಿಷಯ ಸಂಕೇತ : 281

ಗರಿಷ್ಠ ಅಂಕಗಳು : 100

ಸೂಚನೆಗಳು

1. ಪರೀಕ್ಷೆ ಪ್ರಾರಂಭವಾದ ಕೂಡಲೇ ನಿಮ್ಮ ಪ್ರಶ್ನೆಪತ್ರಿಕೆಯಲ್ಲಿ ಅಮುದ್ರಿತ ಅಥವಾ ಹರಿದಿರುವ ಅಥವಾ ಬಿಟ್ಟು ಹೋಗಿರುವ ಪುಟಗಳು ಅಥವಾ ಪ್ರಶ್ನೆಗಳು ಇತ್ಯಾದಿಗಳು ಕಂಡುಬಂದಲ್ಲಿ ನಿಮ್ಮ ಒ.ಎಂ.ಆರ್. ಉತ್ತರ ಹಾಳೆಯಲ್ಲಿ ಮುದ್ರಿತವಾಗಿರುವ ಅದೇ ಶ್ರೇಣಿಯ ಪೂರ್ಣ ಪ್ರಶ್ನೆ ಪತ್ರಿಕೆ ಯೊಂದಿಗೆ ಬದಲಾಯಿಸಿ ಕೊಳ್ಳತಕ್ಕದ್ದು.
2. ಅಭ್ಯರ್ಥಿಯು ಪ್ರಶ್ನೆ ಪತ್ರಿಕೆಯ ಶ್ರೇಣಿಯು, ತಮ್ಮ ಒ.ಎಂ.ಆರ್. ಉತ್ತರ ಹಾಳೆಯಲ್ಲಿ ಮುದ್ರಿತವಾಗಿರುವ ಅದೇ ಪ್ರಶ್ನೆಪತ್ರಿಕೆಯ ಶ್ರೇಣಿಯಾಗಿರುವುದೇ ಎಂಬುದನ್ನು ಖಚಿತಪಡಿಸಿಕೊಳ್ಳಬೇಕು. ವ್ಯತ್ಯಾಸಗಳು ಕಂಡುಬಂದಲ್ಲಿ, ಸಂವೀಕ್ಷಕರ ಗಮನಕ್ಕೆ ತರುವುದು ಮತ್ತು ಪ್ರಶ್ನೆಪತ್ರಿಕೆಯ ಶ್ರೇಣಿಯು ತಮಗೆ ಹೊಂದುವ (ಅದೇ) ಪ್ರಶ್ನೆ ಪತ್ರಿಕೆಯಾದ ಮತ್ತು ಒ.ಎಂ.ಆರ್. ಉತ್ತರ ಹಾಳೆಯಲ್ಲಿ ಮುದ್ರಿತವಾಗಿರುವ ಶ್ರೇಣಿಯ ಪ್ರಶ್ನೆ ಪತ್ರಿಕೆಯನ್ನೇ ಪಡೆಯತಕ್ಕದ್ದು.
3. ಪಕ್ಕದಲ್ಲಿ ಒದಗಿಸಿರುವ ಪ್ರಶ್ನೆಪತ್ರಿಕೆಯ ಚೌಕದಲ್ಲೇ ನಿಮ್ಮ ನೋಂದಣಿ ಸಂಖ್ಯೆಯನ್ನು ನಮೂದಿಸಬೇಕು. ಪ್ರಶ್ನೆ ಪುಸ್ತಿಕೆಯಲ್ಲಿ ಬೇರೆ ಏನನ್ನೂ ಬರೆಯಬಾರದು.

ನೋಂದಣಿ ಸಂಖ್ಯೆ						
2	0	0	0	4	9	7
4. ಈ ಪ್ರಶ್ನೆ ಪುಸ್ತಿಕೆ 100 ಪ್ರಶ್ನೆಗಳನ್ನು ಒಳಗೊಂಡಿರುತ್ತದೆ. ಪ್ರತಿಯೊಂದು ಪ್ರಶ್ನೆಯು 4 ಪ್ರತಿಕ್ರಿಯೆಗಳನ್ನು (ಉತ್ತರಗಳನ್ನು) ಒಳಗೊಂಡಿರುತ್ತದೆ. ನೀವು ಉತ್ತರ ಹಾಳೆಯಲ್ಲಿ ಗುರುತು ಮಾಡಬೇಕೆನಿಸುವ ಉತ್ತರವನ್ನು ಆಯ್ಕೆ ಮಾಡಿಕೊಳ್ಳಿ. ಒಂದು ವೇಳೆ ಅಲ್ಲಿ ಒಂದಕ್ಕಿಂತ ಹೆಚ್ಚು ಸರಿಯಾದ ಉತ್ತರಗಳಿವೆಯೆಂದು ನೀವು ಭಾವಿಸಿದರೆ ನಿಮಗೆ ಅತ್ಯುತ್ತಮವೆನಿಸುವ ಉತ್ತರಕ್ಕೆ ಗುರುತು ಮಾಡಿ. ಏನೇ ಅದರೂ ಪ್ರತಿ ಪ್ರಶ್ನೆಗೆ ನೀವು ಕೇವಲ ಒಂದು ಉತ್ತರವನ್ನು ಮಾತ್ರ ಆಯ್ಕೆ ಮಾಡಬೇಕು.
5. ಎಲ್ಲಾ ಉತ್ತರಗಳನ್ನು ನಿಮಗೆ ಒದಗಿಸಲಾಗಿರುವ ಪ್ರತ್ಯೇಕ ಒ.ಎಂ.ಆರ್. ಉತ್ತರ ಹಾಳೆಯ ಮೇಲೆ ಕೇವಲ ಕಪ್ಪು ಅಥವಾ ನೀಲಿ ಶಾಯಿಯ ಬಾಲ್‌ಪಾಯಿಂಟ್ ಪೆನ್ನಿನಲ್ಲಿ ಮಾತ್ರ ಗುರುತು ಮಾಡಬೇಕು. ಒ.ಎಂ.ಆರ್. ಉತ್ತರ ಪತ್ರಿಕೆ ಹಾಳೆಯಲ್ಲಿನ ವಿವರವಾದ ಸೂಚನೆಗಳನ್ನು ಗಮನಿಸುವುದು.
6. ಎಲ್ಲಾ ಪ್ರಶ್ನೆಗಳಿಗೆ ಸಮಾನ ಅಂಕಗಳು. ಎಲ್ಲಾ ಪ್ರಶ್ನೆಗಳಿಗೆ ಉತ್ತರಿಸಿ. ನೀವು ಗಳಿಸುವ ಒಟ್ಟಾರೆ ಅಂಕಗಳು ನೀವು ಉತ್ತರ ಪತ್ರಿಕೆ ಹಾಳೆಯಲ್ಲಿ ಗುರುತು ಮಾಡುವ ಸರಿಯಾದ ಉತ್ತರಗಳ ಸಂಖ್ಯೆಯನ್ನು ಮಾತ್ರ ಆಧರಿಸಿರುತ್ತದೆ.
7. ಚಿತ್ತು ಕೆಲಸಕ್ಕಾಗಿ ಹಾಳೆಗಳನ್ನು ಪ್ರಶ್ನೆ ಪುಸ್ತಿಕೆಯ ಕೊನೆಯಲ್ಲಿ ಸೇರಿಸಲಾಗಿದೆ. ಪ್ರಶ್ನೆ ಪುಸ್ತಿಕೆಯ ಇನ್ನೂಳದ ಯಾವ ಭಾಗದಲ್ಲಿಯೂ ನೀವು ಯಾವ ರೀತಿಯ ಗುರುತನ್ನು ಮಾಡತಕ್ಕದ್ದಲ್ಲ.
8. ಪರೀಕ್ಷೆಯ ಮುಕ್ತಾಯವನ್ನು ಸೂಚಿಸುವ ಅಂತಿಮ ಗಂಟೆ ಬಾರಿಸಿದ ತಕ್ಷಣವೇ ಒ.ಎಂ.ಆರ್. ಉತ್ತರ ಪತ್ರಿಕೆ ಹಾಳೆಯಲ್ಲಿ ಇನ್ನಾವುದೇ ಗುರುತು ಮಾಡುವುದನ್ನು ನಿಲ್ಲಿಸಬೇಕು. ಸಂವೀಕ್ಷಕರು ಬಂದು ನಿಮ್ಮಲ್ಲಿರುವ ಒ.ಎಂ.ಆರ್. ಉತ್ತರ ಹಾಳೆಯನ್ನು ತಮ್ಮ ವಶಕ್ಕೆ ಪಡೆದುಕೊಂಡು ಲೆಕ್ಕಕ್ಕೆ ತೆಗೆದುಕೊಳ್ಳುವವರೆಗೂ ನಿಮ್ಮ ನಿಮ್ಮ ಆಸನದಲ್ಲಿಯೇ ಕುಳಿತಿರತಕ್ಕದ್ದು.
9. ಪ್ರಶ್ನೆಗಳು ಕನ್ನಡ ಮತ್ತು ಆಂಗ್ಲ ಭಾಷೆಯಲ್ಲಿರುತ್ತವೆ. ಕನ್ನಡ ಪ್ರಶ್ನೆಗಳಲ್ಲಿ ಸಂದೇಹ ಉಂಟಾದರೆ, ದಯವಿಟ್ಟು ಆಂಗ್ಲ ಭಾಷೆಯ ಪ್ರಶ್ನೆಗಳನ್ನು ಗಮನಿಸುವುದು. ಪ್ರಶ್ನೆ ಪತ್ರಿಕೆಯ ಪ್ರಶ್ನೆಗಳಲ್ಲಿ ಯಾವುದೇ ಗೊಂದಲಗಳಿದ್ದರೂ ಆಂಗ್ಲಭಾಷೆಯ ಪ್ರಶ್ನೆಗಳೇ ಅಂತಿಮವಾಗಿರುತ್ತದೆ.

ಯಾವುದೇ ರೀತಿಯ ಮೊಬೈಲ್ ಫೋನ್, ಕ್ಯಾಲ್‌ಕ್ಯುಲೇಟರ್ ಮತ್ತು ಇತರೆ ರೀತಿಯ ಎಲೆಕ್ಟ್ರಾನಿಕ್/ಕಮ್ಯೂನಿಕೇಷನ್ ಸಾಧನಗಳು ಇತ್ಯಾದಿಗಳನ್ನು ಪರೀಕ್ಷಾ ಕೇಂದ್ರದ ಆವರಣದೊಳಗೆ ತರುವುದನ್ನು ನಿಷೇಧಿಸಿದೆ.

Note : English version of the instructions is printed on the back cover of this booklet.

1. ಸಾಮಾನ್ಯವಾಗಿ ಮೊಬೈಲ್ ಫೋನ್ ಹ್ಯಾಂಡ್ ಸೆಟ್‌ಗಳಲ್ಲಿ ಬಳಸುವ ಪುನಃ ವಿದ್ಯುದಾವಿಷ್ಟ ಗೊಳಿಸಬಹುದಾದ (ರೀ ಚಾರ್ಜ್‌ಬಲ್) ಬ್ಯಾಟರಿಗಳು
- (1) ಲಿಥಿಯಂ ಆಯಾನು ಬ್ಯಾಟರಿ
 - (2) ಸತುವಿನ ಆಯಾನು ಬ್ಯಾಟರಿ
 - (3) ಮ್ಯಾಗ್ನೀಷಿಯಂ ಆಯಾನು ಬ್ಯಾಟರಿ
 - (4) ತಾಮ್ರ ಆಯಾನು ಬ್ಯಾಟರಿ
2. ಗಣರಾಜ್ಯೋತ್ಸವ ದಿನದ ಪೆರೇಡ್‌ನಲ್ಲಿ ಮುಖ್ಯ ಅತಿಥಿಯಾಗಿ 2015 ನೇ ಜನವರಿ 26 ರಂದು ಭಾರತಕ್ಕೆ ಅಮೆರಿಕಾದ ಹಿಂದಿನ ಅಧ್ಯಕ್ಷರಾದ ಬರಾಕ್ ಒಬಾಮಾರವರು ಭೇಟಿಯಿತ್ತರು. ಭಾರತಕ್ಕೆ ಭೇಟಿ ನೀಡಿದ ಪ್ರಥಮ ಅಮೆರಿಕಾ ಅಧ್ಯಕ್ಷರು ಯಾರು ?
- (1) ರಿಚರ್ಡ್ ನಿಕನ್
 - (2) ಜಿಮ್ಮಿ ಕಾರ್ಟರ್
 - (3) ಡ್ವೈಟ್ ಡಿ. ಐಸೆನ್‌ಹೋವರ್
 - (4) ಜಾರ್ಜ್ ಡಬ್ಲ್ಯೂ. ಬುಶ್
3. ಭಾರತೀಯ ಒಕ್ಕೂಟದ ರಾಜ್ಯಗಳನ್ನು ಪುನರ್ರಚಿಸುವುದು ಅಥವಾ ಅವುಗಳ ಎಲ್ಲೆಗಳನ್ನು ಬದಲಿಸುವುದು ಇದರಿಂದ
- (1) ಸಂಬಂಧಿತ ರಾಜ್ಯ ಸರ್ಕಾರದ ಸಮ್ಮತಿಯೊಂದಿಗೆ ಕೇಂದ್ರ ಸರ್ಕಾರದ ಕಾರ್ಯಕಾರಿ ಆದೇಶ.
 - (2) ಕೇಂದ್ರ ಸಂಸತ್ತು, ಸಾಮಾನ್ಯ / ಸಾಧಾರಣರೂಢಿಯ ಶಾಸನ ಪ್ರಕ್ರಿಯೆಯಲ್ಲಿ ಸರಳ ಬಹುಮತದಿಂದ.
 - (3) ಸಂಸತ್ತಿನ ಎರಡೂ ಸದನಗಳ 2/3 ರಷ್ಟು ಬಹುಮತದಿಂದ.
 - (4) ಸಂಸತ್ತಿನ ಎರಡೂ ಸದನಗಳ 2/3 ರಷ್ಟು ಬಹುಮತದಿಂದ ಮತ್ತು ಸಂಬಂಧಿತ ರಾಜ್ಯ ವಿಧಾನಮಂಡಲದ ಸಮ್ಮತಿಯಿಂದ.
4. ಈ ಕೆಳಗಿನವುಗಳಲ್ಲಿ ಯಾವ ಮೂಲಭೂತ ಹಕ್ಕುಗಳು ಭಾರತೀಯ ಪೌರರಿಗೆ ಲಭ್ಯವಾಗುತ್ತದೆ ? ಆದರೆ ಅನ್ಯ ದೇಶೀಯರಿಗಲ್ಲ?
- A. ಕಾನೂನಿನ ಮುಂದೆ ಸಮಾನತೆ
 - B. ಅಭಿವ್ಯಕ್ತಿ ಮತ್ತು ವಾಕ್ ಸ್ವಾತಂತ್ರ್ಯ
 - C. ಅಲ್ಪ ಸಂಖ್ಯಾತರು ತಮ್ಮದೇ ಭಾಷೆ ಮತ್ತು ಸಂಸ್ಕೃತಿಯನ್ನು ಸಂರಕ್ಷಿಸಿಕೊಳ್ಳುವ ಹಕ್ಕು
 - D. ಜೀವ ಮತ್ತು ಸ್ವಾತಂತ್ರ್ಯದ ಸಂರಕ್ಷಣೆ
- ಕೆಳಗೆ ನೀಡಿರುವ ಆಯ್ಕೆಗಳಿಂದ ಸರಿಯಾದ ಉತ್ತರಕ್ಕಾಗಿ ಸಂಕೇತವನ್ನಾರಿಸಿ :
- (1) A, B ಮತ್ತು D ಮಾತ್ರ
 - (2) A, B ಮತ್ತು C ಮಾತ್ರ
 - (3) B, C ಮತ್ತು D ಮಾತ್ರ
 - (4) B ಮತ್ತು C ಮಾತ್ರ
5. ಶಿವಾಜಿಯನ್ನು ಶಿಕ್ಷಿಸಲೋಸುಗ ಬಿಜಾಪುರದ ದೊರೆಯಿಂದ ಕಳುಹಿಸಲ್ಪಟ್ಟವನಾರು ?
- (1) ರುಮಿ ಖಾನ್
 - (2) ಶಯಿಸ್ತಾ ಖಾನ್
 - (3) ಅಫ್ಜಲ್ ಖಾನ್
 - (4) ಇನಾಯತ್ ಖಾನ್

1. The rechargeable battery used in a mobile phone handset is generally
- (1) Lithium Ion Battery
 - (2) Zinc Ion Battery
 - (3) Magnesium Ion Battery
 - (4) Copper Ion Battery
2. Former US President Barack Obama visited India on 26th January 2015 as the Chief Guest at the Republic Day Parade. Who was the first American President to visit India ?
- (1) Richard Nixon
 - (2) Jimmy Carter
 - (3) Dwight D. Eisenhower
 - (4) George W. Bush
3. The States of the Indian Union can be reorganized or their boundaries can be altered by
- (1) An executive order of the Union Government with the consent of the concerned State Government.
 - (2) The Union Parliament by a simple majority in the ordinary process of legislation.
 - (3) Two-thirds majority of both the Houses of the Parliament.
 - (4) Two-thirds majority of both the Houses of the Parliament and the consent of the concerned State Legislature.
4. Which of the following Fundamental Rights are available to Indian citizens but not to aliens ?
- A. Equality before law
 - B. Freedom of expression and speech
 - C. Right of minorities to conserve their language and culture
 - D. Protection to life and liberty
- Select the code for the correct answer from the options given below :
- (1) A, B and D only
 - (2) A, B and C only
 - (3) B, C and D only
 - (4) B and C only
5. Who was sent by the ruler of Bijapur to punish Shivaji ?
- (1) Rumi Khan
 - (2) Shaista Khan
 - (3) Afzal Khan
 - (4) Inayat Khan

6. ಈ ಕೆಳಗಿನವುಗಳಲ್ಲಿ ಸರಿ ಹೊಂದುವುದು ಯಾವುದು ?

- A. ಸಂವಿಧಾನದ III ನೇ ಭಾಗ - ಮೂಲಭೂತ ಹಕ್ಕುಗಳು
- B. ಸಂವಿಧಾನದ II ನೇ ಭಾಗ - ಪೌರತ್ವ
- C. ಸಂವಿಧಾನದ IV A ಭಾಗ - ಮೂಲಭೂತ ಕರ್ತವ್ಯಗಳು
- D. ಸಂವಿಧಾನದ V ನೇ ಭಾಗ - ರಾಜ್ಯ ನೀತಿ ನಿರ್ದೇಶಕ ತತ್ವಗಳು

ಕೆಳಗೆ ನೀಡಿರುವ ಆಯ್ಕೆಗಳಿಂದ ಸರಿಯಾದ ಉತ್ತರಕ್ಕಾಗಿ ಸಂಕೇತವನ್ನಾರಿಸಿ :

- (1) A ಮತ್ತು B ಮಾತ್ರ
- (2) B ಮತ್ತು C ಮಾತ್ರ
- (3) A, B ಮತ್ತು C ಮಾತ್ರ
- (4) C ಮತ್ತು D ಮಾತ್ರ

7. ಈ ಕೆಳಗಿನವರಲ್ಲಿ ಯಾರು ಭಾರತರತ್ನ ಪ್ರಶಸ್ತಿಯನ್ನು ಮರಣೋತ್ತರವಾಗಿ ಸ್ವೀಕರಿಸಿದವರು ?

- A. ಖಾನ್ ಅಬ್ದುಲ್ ಗಫಾರ್ ಖಾನ್
- B. ಡಾ. ಬಿ.ಆರ್. ಅಂಬೇಡ್ಕರ್
- C. ಜಯ ಪ್ರಕಾಶ್ ನಾರಾಯಣ್

ಕೆಳಗೆ ನೀಡಿರುವ ಆಯ್ಕೆಗಳಿಂದ ಸರಿಯಾದ ಉತ್ತರಕ್ಕಾಗಿ ಸಂಕೇತವನ್ನಾರಿಸಿ :

- (1) A ಮತ್ತು B ಮಾತ್ರ
- (2) B ಮತ್ತು C ಮಾತ್ರ
- (3) A, B ಮತ್ತು C
- (4) ಮೇಲಿನ ಯಾವುದೂ ಅಲ್ಲ

8. ಕೆಳಗಿನ ಪೇಶ್ವೆಗಳ ಕಾಲಾನುಕ್ರಮಣಿಕೆಯ ಸರಣಿಯೇನು ?

- A. ಬಾಲಾಜಿ ವಿಶ್ವನಾಥ್
- B. ಬಾಲಾಜಿ ಬಾಜೀ ರಾವ್
- C. ಮೊದಲನೆ ಬಾಜೀ ರಾವ್
- D. ನಾರಾಯಣ್ ರಾವ್

ಕೆಳಗೆ ನೀಡಿರುವ ಆಯ್ಕೆಗಳಿಂದ ಸರಿಯಾದ ಉತ್ತರಕ್ಕಾಗಿ ಸಂಕೇತವನ್ನಾರಿಸಿ :

- (1) A, C, B, D
- (2) A, C, D, B
- (3) A, B, C, D
- (4) C, B, A, D

9. ಕೆಳಗಿನ ಹೇಳಿಕೆಗಳನ್ನು ಪರಿಗಣಿಸಿ :

- A. ವಿದರ್ಭ ಕ್ರಿಕೆಟ್ ತಂಡವು 2017 ರ ರಣಜಿ ಟ್ರೋಫಿ ಪಂದ್ಯಾವಳಿಯನ್ನು ಗೆದ್ದಿತು.
- B. ಅದು ವಿದರ್ಭದ ಮೊದಲ ರಣಜಿ ಟ್ರೋಫಿ ಬಿರುದು / ಪ್ರಶಸ್ತಿ.

ಈ ಮೇಲಿನ ಹೇಳಿಕೆಗಳಲ್ಲಿ ಯಾವುದು /ವು ಸರಿ ?

ನೀಡಿರುವ ಆಯ್ಕೆಗಳಲ್ಲಿ ಸರಿಯಾದ ಉತ್ತರಕ್ಕಾಗಿ ಸಂಕೇತವನ್ನಾರಿಸಿ :

- (1) A ಮಾತ್ರ
- (2) B ಮಾತ್ರ
- (3) A ಮತ್ತು B ಇವೆರಡೂ
- (4) A ಆಗಲೀ ಅಥವಾ B ಆಗಲೀ ಅಲ್ಲ

6. Which of the following are correctly matched ?

- A. Part III of the Constitution - Fundamental Rights
- B. Part II of the Constitution - Citizenship
- C. Part IV A of the Constitution - Fundamental Duties
- D. Part V of the Constitution - Directive Principles of State Policy

Select the code for the correct answer from the options given below :

- (1) A and B only
- (2) B and C only
- (3) A, B and C only
- (4) C and D only

7. Who among the following received the Bharat Ratna posthumously ?

- A. Khan Abdul Ghaffar Khan
- B. Dr. B.R. Ambedkar
- C. Jai Prakash Narayan

Select the code for the correct answer from the options given below :

- (1) A and B only
- (2) B and C only
- (3) A, B and C
- (4) None of the above

8. What is the chronological sequence of the following Peshwas ?

- A. Balaji Vishwanath
- B. Balaji Baji Rao
- C. Baji Rao I
- D. Narayan Rao

Select the code for the correct answer from the options given below :

- (1) A, C, B, D
- (2) A, C, D, B
- (3) A, B, C, D
- (4) C, B, A, D

9. Consider the following statements :

- A. Vidarbha cricket team won the 2017 Ranji Trophy Tournament.
- B. It is Vidarbha's first Ranji Trophy title.

Which of the above statements is/are correct ?

Select the code for the correct answer from the options given below :

- (1) A only
- (2) B only
- (3) Both A and B
- (4) Neither A nor B

10. ಕೆಳಗಿನ ಹೇಳಿಕೆಗಳನ್ನು ಪರಿಗಣಿಸಿ :

- A. ಔರಂಗ್‌ಜೇಬ್‌ನು ಆತನ ಆಸ್ಥಾನದಿಂದ ಸಂಗೀತದ ಎಲ್ಲ ರೂಪಗಳನ್ನೂ ಬಹಿಷ್ಕರಿಸಿದ್ದನು.
- B. ಆತನು ವೈಯಕ್ತಿಕ ಧಾರ್ಮಿಕ ಹೊರನೋಟದಲ್ಲಿ ಸಂಪ್ರದಾಯೀ ಸುನ್ನಿ ಮುಸ್ಲಿಮನಾಗಿದ್ದನು.

ಈ ಮೇಲಿನ ಹೇಳಿಕೆಗಳಲ್ಲಿ ಯಾವುದು /ವು ಸರಿ ?

ನೀಡಿರುವ ಆಯ್ಕೆಗಳಲ್ಲಿ ಸರಿಯಾದ ಉತ್ತರಕ್ಕಾಗಿ ಸಂಕೇತವನ್ನಾರಿಸಿ :

- (1) A ಮಾತ್ರ
(2) B ಮಾತ್ರ
(3) A ಮತ್ತು B ಇವೆರಡೂ
(4) A ಆಗಲೀ ಅಥವಾ B ಆಗಲೀ ಅಲ್ಲ

11. ಭಾರತೀಯ ಇತಿಹಾಸದಲ್ಲಿ, ಅಬ್ದುಲ್ ಹಮೀದ್ ಲಾಹೋರಿಯು ಯಾರು ?

- (1) ಅಕ್ಬರ್‌ನ ಆಳ್ವಿಕೆಯ ಅವಧಿಯಲ್ಲಿ ಅವನು ಪ್ರಮುಖ ಸೈನಿಕ ಕಮಾಂಡರ್ ಆಗಿದ್ದನು.
- (2) ಷಹಜಹಾನ್‌ನ ಆಳ್ವಿಕೆಯಲ್ಲಿ ಅವನು ಅಧಿಕೃತ ಚರಿತ್ರಕಾರನಾಗಿದ್ದನು.
- (3) ಔರಂಗ್‌ಜೇಬನ ಆಳ್ವಿಕೆಯ ಅವಧಿಯಲ್ಲಿ ಅವನು ಪ್ರಮುಖ ಶ್ರೇಷ್ಠ ಮತ್ತು ಔರಂಗ್‌ಜೇಬನಿಗೆ ಆತ್ಮಂತ ಆತ್ಮೀಯನಾಗಿದ್ದವನು.
- (4) ಮುಹಮ್ಮದ್ ಷಾನ ಕಾಲಾವಧಿಯಲ್ಲಿನ ಆಸ್ಥಾನ ಕವಿ.

12. ಕೆಳಗಿನ ಪ್ರಶ್ನೆಯಲ್ಲಿ ಎರಡು ಹೇಳಿಕೆಗಳನ್ನು ನೀಡಲಾಗಿದ್ದು ಇವುಗಳನ್ನು ಹೊಂದಿಕೊಂಡಂತೆ ಎರಡು ತೀರ್ಮಾನಗಳಿವೆ. ಅವು ತಿಳಿದಿರುವ ಸಂಗತಿಗಳೊಂದಿಗೆ ಅನುರೂಪವಾಗಿರದಿದ್ದರೂ, ಹೇಳಿಕೆಗಳನ್ನು ನೀವು ಸತ್ಯ ಎಂತಲೇ ಪರಿಗಣಿಸಬೇಕಾಗುತ್ತದೆ. ನೀಡಿರುವ ಹೇಳಿಕೆಗಳಿಗೆ ತಾರ್ಕಿಕವಾಗಿ ಅವುಗಳನ್ನು ಅನುಸರಿಸುವ ತೀರ್ಮಾನಗಳ ಯಾವುವು ?

ಹೇಳಿಕೆ I : ಎಲ್ಲಾ ಮನುಷ್ಯರೂ ಬೆಕ್ಕುಗಳು.

ಹೇಳಿಕೆ II : ಎಲ್ಲಾ ಬೆಕ್ಕುಗಳೂ ನಾಯಿಗಳು.

ತೀರ್ಮಾನಗಳು A : ಎಲ್ಲಾ ಮನುಷ್ಯರೂ ನಾಯಿಗಳು.

ತೀರ್ಮಾನಗಳು B : ಎಲ್ಲಾ ನಾಯಿಗಳೂ ಮನುಷ್ಯರು.

ಈ ಕೆಳಗಿನವುಗಳಲ್ಲಿ ಯಾವುದು ಸರಿಯಾಗಿದೆ ?

- (1) ನೀಡಿದ ಹೇಳಿಕೆಗಳನ್ನು, A ತೀರ್ಮಾನ ಮಾತ್ರವೇ ಅನುಸರಿಸುತ್ತದೆ.
(2) ನೀಡಿದ ಹೇಳಿಕೆಗಳನ್ನು, B ತೀರ್ಮಾನ ಮಾತ್ರವೇ ಅನುಸರಿಸುತ್ತದೆ.
(3) A ಮತ್ತು B ಎರಡೂ ತೀರ್ಮಾನಗಳು ನೀಡಿರುವ ಹೇಳಿಕೆಗಳನ್ನು ಅನುಸರಿಸುತ್ತದೆ.
(4) ನೀಡಲಾದ ಹೇಳಿಕೆಗಳನ್ನು A ಆಗಲೀ ಅಥವಾ B ತೀರ್ಮಾನವಾಗಲೀ ಅನುಸರಿಸುವುದಿಲ್ಲ.

13. ಕುಜ್ಜೆಟ್ಸ್ ಕಲ್ದಿದ್ದಲು ಬೋಗುಣಿಯು (ಬೇಸಿನ್) ವಿಶ್ವದಲ್ಲಿಯೇ ಅತ್ಯಂತ ದೊಡ್ಡದಾದವುಗಳಲ್ಲೊಂದು ಮತ್ತು ಇದು 70,000 ಚ.ಕಿ.ಮಿ. ಗಳಷ್ಟು ಆವರಿಸಿದೆ ಹಾಗೂ 300 ಬಿಲಿಯನ್ ಟನ್ ಗಳಿಗಿಂತಲೂ ಅಧಿಕವಾದ ಗಣಿಗಾರಿಕಾ ಸಂಪನ್ಮೂಲಗಳನ್ನು ಹೊಂದಿದೆ. ಈ ಕೆಳಗಿನ ಯಾವ ದೇಶದಲ್ಲಿ ಇದು ನೆಲೆಯಾಗಿದೆ ?

- (1) ತಜಿಕಿಸ್ತಾನ್
(2) ಎಸ್ತೋನಿಯಾ
(3) ರಷ್ಯಾ
(4) ಲಿಥುವೇನಿಯಾ

10. Consider the following statements :

- A. Aurangzeb banished all forms of music from his court.
- B. He was an orthodox Sunni Muslim in his personal religious outlook.

Which of the statements given above is/are correct ?

Select the code for the correct answer from the options given below :

- (1) A only
- (2) B only
- (3) Both A and B
- (4) Neither A nor B

11. In Indian history, who was Abdul Hamid Lahori ?

- (1) He was an important military commander during the reign of Akbar.
- (2) He was an official historian of the reign of Shah Jahan.
- (3) He was an important noble and very close to Aurangzeb during his rule.
- (4) He was the court poet during the time of Muhammad Shah.

12. Two statements have been given followed by two conclusions. You have to consider the statements to be true, even if they do not conform to the well-known facts. Which conclusion(s) logically follow(s) from the given statements ?

Statement I : All men are cats.

Statement II : All cats are dogs.

Conclusion A : All men are dogs.

Conclusion B : All dogs are men.

Which of the following is correct ?

- (1) Only conclusion A follows from the given statements.
- (2) Only conclusion B follows from the given statements.
- (3) Both conclusion A and conclusion B follow from the given statements.
- (4) Neither conclusion A nor conclusion B follows from the given statements.

13. Kuznetsk coal basin is one of the largest in the world and covers about 70,000 square kilometres and contains mineable resources in excess of 300 billion tonnes. In which of the following countries is it located ?

- (1) Tajikistan
- (2) Estonia
- (3) Russia
- (4) Lithuania

14. ಭಾರತದ ಸಂವಿಧಾನದ ಯಾವ ಕಲಮು ಹೀಗೆಂದು ನಿರ್ದೇಶಿಸುತ್ತದೆ “ರಾಜ್ಯವು ಪರಿಸರದ ಸಂರಕ್ಷಣೆ ಮತ್ತು ಅಭಿವೃದ್ಧಿಗೆ ಪ್ರಯತ್ನಿಸಬೇಕು ಹಾಗೂ ದೇಶದಲ್ಲಿನ ಅರಣ್ಯಗಳು ಮತ್ತು ವನ್ಯ ಜೀವನವನ್ನು ರಕ್ಷಣೆ ಮಾಡಬೇಕು” ?

- (1) ಕಲಮು 48 A
- (2) ಕಲಮು 47 A
- (3) ಕಲಮು 50 A
- (4) ಕಲಮು 51 A

15. ಕರ್ನಾಟಕದ ಕಲೆ ಮತ್ತು ಸಂಸ್ಕೃತಿಗೆ ಸಂಬಂಧಿಸಿದಂತೆ ಕೆಳಗಿನ ಹೇಳಿಕೆಗಳನ್ನು ಪರಿಗಣಿಸಿ :

A. ಭೂತ ಆರಾಧನೆ ಎಂಬ ತುಳು ಜನರ ಒಂದು ಆರಾಧನಾ ಮಾರ್ಗವು, ಧಾರ್ಮಿಕ ವಿಧಿಗಳ ಒಂದು ನೈತೃವಾಗಿದ್ದು, ಕರ್ನಾಟಕದ ಕಡಲ/ಕರಾವಳಿ ತೀರ ಭಾಗಗಳಲ್ಲಿ ಅದರ ಮೂಲವನ್ನು ಗುರ್ತಿಸಲಾಗಿದೆ.

B. ನಾಗಮಂಡಲ ಎಂಬುದು ಹಾವುಗಳನ್ನು ಆರಾಧಿಸುವ ಒಂದು ಜನಪದ ಕಲೆಯಾಗಿದ್ದು ಉತ್ತರ ಕರ್ನಾಟಕದಲ್ಲಿ ಪ್ರಚಲಿತದಲ್ಲಿದೆ.

ಈ ಮೇಲಿನ ಹೇಳಿಕೆಗಳಲ್ಲಿ ಯಾವುದು /ವು ಸರಿ ?

ನೀಡಿರುವ ಆಯ್ಕೆಗಳಲ್ಲಿ ಸರಿಯಾದ ಉತ್ತರಕ್ಕಾಗಿ ಸಂಕೇತವನ್ನಾರಿಸಿ :

- (1) A ಮಾತ್ರ
- (2) B ಮಾತ್ರ
- (3) A ಮತ್ತು B ಎರಡೂ
- (4) A ಆಗಲೀ ಅಥವಾ B ಆಗಲೀ ಅಲ್ಲ

16. ಒಂದು ರೈಲಿನಲ್ಲಿ ಜನರ ಗುಂಪೊಂದು ಪ್ರಯಾಣಿಸುತ್ತಿದ್ದು 8 ವ್ಯಕ್ತಿಗಳು ಹಿಂದಿಯಲ್ಲಿ 15 ವ್ಯಕ್ತಿಗಳು ಕನ್ನಡದಲ್ಲಿ ಮತ್ತು 10 ವ್ಯಕ್ತಿಗಳು ಇಂಗ್ಲಿಷ್‌ನಲ್ಲಿ ಮಾತನಾಡುವರು. ಈ ಗುಂಪಿನಲ್ಲಿ ಯಾರೂ ಈ ಮೂರು ಭಾಷೆಗಳ ಹೊರತಾಗಿ ಬೇರೆ ಯಾವುದೇ ಭಾಷೆಯಲ್ಲಿ ಮಾತನಾಡಲಾರರು. ಈ ಗುಂಪಿನಲ್ಲಿ ಇಬ್ಬರು ವ್ಯಕ್ತಿಗಳು ಎರಡು ಭಾಷೆಗಳಲ್ಲಿ ಮತ್ತು ಮೂರು ವ್ಯಕ್ತಿಗಳು ಮೂರು ಭಾಷೆಗಳಲ್ಲಿ ಮಾತನಾಡಬಲ್ಲರು. ಹಾಗಿದ್ದಲ್ಲಿ ಗುಂಪಿನಲ್ಲಿ ಎಷ್ಟು ವ್ಯಕ್ತಿಗಳಿದ್ದಾರೆ ?

- (1) 21
- (2) 25
- (3) 29
- (4) 24

17. ಒಂದು ಮೋಟಾರುದೋಣಿಯು (ಮೋಟಾರುಬೋಟ್) ಹರಿವಿನುದ್ದಕ್ಕೂ ಒಂದು ಘಂಟೆಗೆ 12 ಕಿ.ಮೀ. ಗಳಷ್ಟು ಮತ್ತು ಹರಿವಿನ ವಿರುದ್ಧವಾಗಿ 6 ಕಿ.ಮೀ. ಗಳಷ್ಟು ಚಲಿಸುತ್ತದೆ. (ನಿಶ್ಚಲ) ಸ್ವಲ್ಪ ನೀರಿನಲ್ಲಿ ಈ ದೋಣಿಯ ವೇಗವೆಷ್ಟು ?

- (1) 8 ಕಿ.ಮೀ./ಗಂಟೆ
- (2) 10 ಕಿ.ಮೀ./ಗಂಟೆ
- (3) 9 ಕಿ.ಮೀ./ಗಂಟೆ
- (4) 12 ಕಿ.ಮೀ./ಗಂಟೆ

14. Which Article of the Constitution of India directs that "the State shall endeavour to protect and improve the environment and to safeguard the forests and wildlife of the country" ?

- (1) Article 48 A
- (2) Article 47 A
- (3) Article 50 A
- (4) Article 51 A

15. With reference to the art and culture of Karnataka, consider the following statements :

- A. Bhootha Aradhane, a way of Tulu worship is a ritualistic dance with its origin traced to the coastal parts of Karnataka.
- B. Nagamandala is a folk art of worshipping snakes prevalent in northern Karnataka.

Which of the statements given above is/are correct ?

Select the code for the correct answer from the options given below :

- (1) A only
- (2) B only
- (3) Both A and B
- (4) Neither A nor B

16. In a group of persons travelling in a train, 8 persons can speak Hindi, 15 can speak Kannada and 10 can speak English. In that group no one can speak any language other than these three languages. 2 persons in the group can speak 2 languages and 3 persons can speak all 3 languages. How many persons are there in the group ?

- (1) 21
- (2) 25
- (3) 29
- (4) 24

17. In one hour a motorboat goes 12 km along the stream and 6 km against the stream. What is the speed of the boat in still water ?

- (1) 8 km/hour
- (2) 10 km/hour
- (3) 9 km/hour
- (4) 12 km/hour

18. ಪ್ರತಿಯೊಂದು ಕೆಂಪು, ನೀಲಿ, ಹಸಿರು ಮತ್ತು ಬಿಳಿಯ ಬಣ್ಣಗಳನ್ನುಳ್ಳ ನಾಲ್ಕು ಪೆಟ್ಟಿಗೆಗಳು ಮತ್ತು ನಾಲ್ಕು ಚೆಂಡುಗಳಿವೆ. ಪ್ರತಿಯೊಂದು ಚೆಂಡನ್ನೂ ಒಂದು ಪೆಟ್ಟಿಗೆಯಲ್ಲಿಟ್ಟಾಗ, ಯಾವುದೇ ಪೆಟ್ಟಿಗೆಯಲ್ಲಿಯೂ ಅದರದೇ ಬಣ್ಣದ ಚೆಂಡನ್ನು ಇಟ್ಟಿಲ್ಲ. ಯಾವ ಬಣ್ಣದ ಚೆಂಡು ಯಾವ ಬಣ್ಣದ ಪೆಟ್ಟಿಗೆಯಲ್ಲಿದೆ ಎಂಬುದನ್ನು ಗುರ್ತಿಸಲು ತೆರೆಯಬೇಕಾಗಿರುವ ಪೆಟ್ಟಿಗೆಗಳ ಕನಿಷ್ಠ ಸಂಖ್ಯೆಯು

- (1) 1
- (2) 2
- (3) 3
- (4) 4

19. ಪಟ್ಟಿ I ರಲ್ಲಿನ ದ್ವಿಪಗಳ ಬಗೆಗಳೊಂದಿಗೆ ಪಟ್ಟಿ II ರಲ್ಲಿನ ದ್ವಿಪಗಳನ್ನು ಸರಿ ಹೊಂದಿಸಿ :

ಪಟ್ಟಿ I (ದ್ವಿಪದ ಬಗೆಗಳು)	ಪಟ್ಟಿ II (ದ್ವಿಪ)
A. ಕಾಂಟನೆಂಟಲ್ ದ್ವಿಪ	I. ಮಾರಿಷಸ್
B. ಕೋರಲ್ ದ್ವಿಪ (ಹವಳ)	II. ಮಡಗಾಸ್ಕರ್
C. ಜ್ವಾಲಾಮುಖೀಯ ಉಗಮದ ದ್ವಿಪ	III. ಮಾರ್ಶ್‌ಲ್ಸ್

ಸಂಕೇತಗಳ ಸಹಾಯದಿಂದ ಸರಿ ಉತ್ತರಗಳನ್ನು ಆರಿಸಿ :

	A	B	C
(1)	II	III	I
(2)	III	II	I
(3)	II	I	III
(4)	III	I	II

20. ವಿಶ್ವದ ವಾಯುಗುಣದ ವರ್ಗೀಕರಣವನ್ನು ಉಷ್ಣ, ಸಮಶೀತೋಷ್ಣ ಮತ್ತು ಶೀತವಲಯಗಳಾಗಿ, ಈ ಕೆಳಗಿನವರುಗಳಿಂದ ನಿರ್ಮಿತವಾದ ತಾಪದ ಆಧಾರದ ಮೇಲೆ ವರ್ಗೀಕರಿಸಲಾಗಿದೆ

- (1) ಕೊಪೆನ್
- (2) ಥಾನ್‌ಫೋರ್
- (3) ಮಧ್ಯಕಾಲೀನ ಭೂಗೋಳಶಾಸ್ತ್ರಜ್ಞರು
- (4) ಪುರಾತನ ಗ್ರೀಕ್ ಭೂಗೋಳಶಾಸ್ತ್ರಜ್ಞರು

21. ಪಟ್ಟಿ I ರಲ್ಲಿನ ಪ್ರಸ್ತಕಗಳನ್ನು ಪಟ್ಟಿ II ರಲ್ಲಿನ ಅವುಗಳ ಲೇಖಕರೊಂದಿಗೆ ಸರಿ ಹೊಂದಿಸಿ :

ಪಟ್ಟಿ I (ಪ್ರಸ್ತಕಗಳು)	ಪಟ್ಟಿ II (ಲೇಖಕರು)
A. ಟೊ ಲೈವ್ಸ್	I. ರಸ್ಕಿನ್ ಬಾಂಡ್
B. ದಿ ಬ್ಲೂ ಅಂಬ್ರೆಲ್ಲಾ	II. ವಿಕ್ರಮ ಸೇಟ್
C. ಎ ಬ್ರೀಫ್ ಹಿಸ್ಟರಿ ಆಫ್ ಟೈಂ	III. ಡಾನ್ ಬ್ರೌನ್
D. ದಿ ಡ ವಿನ್ಸಿ ಕೋಡ್	IV. ಸ್ಪೀಫನ್ ಹಾಕಿಂಗ್
	V. ಶಶಿ ತರೂರ್

ಸಂಕೇತಗಳ ಸಹಾಯದಿಂದ ಸರಿ ಉತ್ತರಗಳನ್ನು ಆರಿಸಿ :

	A	B	C	D
(1)	II	I	IV	III
(2)	I	II	V	IV
(3)	I	V	IV	III
(4)	I	III	IV	V

18. There are four boxes and four balls each of colours Red, Blue, Green and White. Each ball is put in a box such that no box has a ball of its colour. The minimum number of boxes to be opened such that we can identify which coloured ball is in which coloured box, is

- (1) 1
- (2) 2
- (3) 3
- (4) 4

19. Match the Types of Islands (List I) with the Islands (List II) :

<i>List I</i> (Type of Island)	<i>List II</i> (Island)
A. Continental Island	I. Mauritius
B. Coral Island	II. Madagascar
C. Island of volcanic origin	III. Maldives

Select the code for the correct answer from the options given below :

	A	B	C
(1)	II	III	I
(2)	III	II	I
(3)	II	I	III
(4)	III	I	II

20. The classification of the world's climate into torrid, temperate and frigid zones on the basis of temperature was made by

- (1) Köppen
- (2) Thornthwaite
- (3) Medieval Geographers
- (4) Ancient Greek Geographers

21. Match the Books (List I) with their Authors (List II) :

<i>List I</i> (Book)	<i>List II</i> (Author)
A. <i>Two Lives</i>	I. Ruskin Bond
B. <i>The Blue Umbrella</i>	II. Vikram Seth
C. <i>A Brief History of Time</i>	III. Dan Brown
D. <i>The Da Vinci Code</i>	IV. Stephen Hawking
	V. Shashi Tharoor

Select the code for the correct answer from the options given below :

	A	B	C	D
(1)	II	I	IV	III
(2)	I	II	V	IV
(3)	I	V	IV	III
(4)	I	III	IV	V

22. ಲೋಕ ಸಭೆಯ ಸಭಾಧ್ಯಕ್ಷರನ್ನು (ಸ್ಪೀಕರ್) ಅಧಿಕಾರದಿಂದ ತೆಗೆದು ಹಾಕುವುದು ಹೀಗೆ
- (1) ಸದನದಲ್ಲಿನ ಬಹುಮತದ ಪಕ್ಷವು ಒಂದು ಅವಿಶ್ವಾಸ ಸೂಚನೆಯನ್ನು ಅಳವಡಿಸಿಕೊಳ್ಳುವುದರಿಂದ.
 - (2) ಸದನದ ಒಟ್ಟು ಸದಸ್ಯತ್ವದಲ್ಲಿ ಅರ್ಧಕ್ಕಿಂತಲೂ ಕಡಿಮೆ ಇರದಷ್ಟು ಸದಸ್ಯರಿಂದ ಠರಾವನ್ನು / ನಿರ್ಣಯವನ್ನು ಹೊರಡಿಸುವುದರಿಂದ.
 - (3) ಸದನದ ಒಟ್ಟು ಸದಸ್ಯತ್ವದಲ್ಲಿ ಕನಿಷ್ಠ ಪಕ್ಷ ಮೂರನೇ ಎರಡು ಸದಸ್ಯರಿಂದ ಠರಾವನ್ನು ನಿರ್ಣಯವನ್ನು ಹೊರಡಿಸುವುದರಿಂದ.
 - (4) ಸದನದ ಎಲ್ಲಾ ಸದಸ್ಯರ ಬಹುಮತದಿಂದ ಠರಾವನ್ನು / ನಿರ್ಣಯವನ್ನು ಹೊರಡಿಸುವುದರಿಂದ.

23. ಭಾರತದ ಅಧ್ಯಕ್ಷರಲ್ಲಿ ಈ ಕೆಳಗಿನ ಯಾವ ವೀಟೋ ಅಧಿಕಾರವು ನಿಹಿತವಾಗಿರುತ್ತದೆ ?

- A. ನಿರುಪಾಧಿಕ ವೀಟೋ
- B. ತಾತ್ಕಾಲಿಕ ನಿಷೇಧಾಧಿಕಾರ (ಸ್ಥಗನಾಧಿಕಾರ)
- C. ಪಾಕೆಟ್ ವೀಟೋ (ಪರೋಕ್ಷ ಕ್ರಿಯೆಯ ವೀಟೋ ಅಧಿಕಾರ)
- D. ಕ್ವಾಲಿಫೈಡ್ ವೀಟೋ (ಅರ್ಹತಾ ನಿರ್ಧಾರಕ ವೀಟೋ ಅಧಿಕಾರ)

ಕೆಳಗೆ ನೀಡಿರುವ ಆಯ್ಕೆಗಳಿಂದ ಸರಿಯಾದ ಉತ್ತರಕ್ಕಾಗಿ ಸಂಕೇತವನ್ನಾರಿಸಿ :

- (1) B, C ಮತ್ತು D ಮಾತ್ರ
- (2) B ಮತ್ತು C ಮಾತ್ರ
- (3) A, B ಮತ್ತು C ಮಾತ್ರ
- (4) A, B, C ಮತ್ತು D

24. “ನೊಳಂಬವಾಡಿಗೊಂಡ” ಮತ್ತು “ತಲಕಾಡುಗೊಂಡ” ವಿಶೇಷಣಗಳು ಈ ಕೆಳಗಿನವರಲ್ಲಿ ಯಾರ ನಾಣ್ಯದ ಮೇಲೆ ಕಂಡು ಬಂದಿವೆ ?

- (1) II ನೇ ಬಲ್ಲಾಳ
- (2) ಬಿಟ್ಟಿದೇವ
- (3) ವೀರ ಸೋಮೇಶ್ವರ
- (4) III ನೇ ನರಸಿಂಹ

25. ಭಾರತ ಸಂವಿಧಾನದ 156 ನೇ ಕಲಮು, ಒಬ್ಬ ರಾಜ್ಯಪಾಲರು ಅವರು ಅಧಿಕಾರ ಸ್ವೀಕರಿಸಿದಾಗಿನಿಂದ ಐದು ವರ್ಷಗಳ ಅವಧಿಯವರೆಗೂ ಅಧಿಕಾರದಲ್ಲಿರುತ್ತಾರೆ ಎಂದು ಉಪಬಂಧಿಸಿದೆ.

ಈ ಮೇಲಿನ ಕಲಮಿನಿಂದ ಕೆಳಗಿನ ಯಾವುದನ್ನು ತರ್ಕಿಸಬಹುದಾಗಿದೆ ?

- A. ಯಾವುದೇ ರಾಜ್ಯಪಾಲರನ್ನು ಅವರ ಅವಧಿಯು ಪೂರ್ಣಗೊಳ್ಳುವವರೆಗೂ ತೆಗೆದು ಹಾಕಲಾಗುವುದಿಲ್ಲ.
- B. 5 ವರ್ಷಗಳ ಅವಧಿಯನ್ನು ಮೀರಿದ ನಂತರ ಯಾವ ರಾಜ್ಯಪಾಲರೂ ಅಧಿಕಾರದಲ್ಲಿ ಮುಂದುವರಿಯುವಂತಿಲ್ಲ.

ನೀಡಿರುವ ಆಯ್ಕೆಗಳಲ್ಲಿ ಸರಿಯಾದ ಉತ್ತರಕ್ಕಾಗಿ ಸಂಕೇತವನ್ನಾರಿಸಿ :

- (1) A ಮಾತ್ರ
- (2) B ಮಾತ್ರ
- (3) A ಮತ್ತು B ಇವೆರಡೂ
- (4) A ಆಗಲೀ ಅಥವಾ B ಆಗಲೀ ಅಲ್ಲ

22. The Speaker of the Lok Sabha may be removed from office by

- (1) The majority party in the House adopting a no-confidence motion.
- (2) A resolution passed by not less than half of the total membership of the House.
- (3) A resolution passed by at least two-thirds of the total membership of the House.
- (4) A resolution passed by a majority of all the members of the House.

23. Which of the following vetoes are the President of India vested with ?

- A. Absolute veto
- B. Suspensive veto
- C. Pocket veto
- D. Qualified veto

Select the code for the correct answer from the options given below :

- (1) B, C and D only
- (2) B and C only
- (3) A, B and C only
- (4) A, B, C and D

24. The epithets "Nolambavadigonda" and "Talakadugonda" are found on the coins of which of the following ?

- (1) Ballala II
- (2) Bittideva
- (3) Veera Someshwara
- (4) Narasimha III

25. Article 156 of the Constitution of India provides that a Governor shall hold office for a term of five years from the date on which he enters upon his office.

Which of the following can be deduced from the above Article ?

- A. No Governor can be removed from his office till the completion of his term.
- B. No Governor can continue in office beyond a period of 5 years.

Select the code for the correct answer from the options given below :

- (1) A only
- (2) B only
- (3) Both A and B
- (4) Neither A nor B

26. ಕೆಳಗಿನ ಹೇಳಿಕೆಗಳನ್ನು ಪರಿಗಣಿಸಿ :

- A. ಭಾರತದ ಮುಖ್ಯ ನ್ಯಾಯಾಧೀಶರು 6 ವರ್ಷಗಳು ಅಥವಾ ಅವರು 65 ವರ್ಷ ವಯಸ್ಸನ್ನು ಹೊಂದುವವರೆಗೂ ಅಧಿಕಾರದಲ್ಲಿರಬಹುದು.
- B. ಸರ್ವೋಚ್ಚ ನ್ಯಾಯಾಲಯದ ನ್ಯಾಯಾಧೀಶರು, ಭಾರತದ ಮುಖ್ಯ ನ್ಯಾಯಾಧೀಶರಿಗೆ, ಲಿಖಿತ ರೂಪದಲ್ಲಿ ಅರ್ಜಿ ನೀಡಿ, ತಮ್ಮ ಅಧಿಕಾರಕ್ಕೆ ರಾಜೀನಾಮೆಯನ್ನು ನೀಡಬಹುದು.
- C. ಸಂಸತ್ತಿನ ಶಿಫಾರಸ್ಸಿನ ಮೇರೆಗೆ ರಾಷ್ಟ್ರಾಧ್ಯಕ್ಷರು ಸರ್ವೋಚ್ಚ ನ್ಯಾಯಾಲಯದ ನ್ಯಾಯಾಧೀಶರನ್ನು ಅಧಿಕಾರದಿಂದ ತೆಗೆದು ಹಾಕಬಹುದು.

ಈ ಮೇಲಿನ ಹೇಳಿಕೆಗಳಲ್ಲಿ ಯಾವುದು /ವು ಸರಿ ?

ನೀಡಿರುವ ಆಯ್ಕೆಗಳಲ್ಲಿ ಸರಿಯಾದ ಉತ್ತರಕ್ಕಾಗಿ ಸಂಕೇತವನ್ನಾರಿಸಿ :

- (1) A ಮತ್ತು B ಮಾತ್ರ
(2) B ಮತ್ತು C ಮಾತ್ರ
(3) C ಮಾತ್ರ
(4) ಮೇಲಿನ ಯಾವುದೂ ಅಲ್ಲ

27. ಪ್ರಸಿದ್ಧ ಜೈನ ಪಂಡಿತನಾದ ಜಿನಸೇನನು ಈ ಕೆಳಗಿನ ಯಾವ ದೊರೆಯ ಆಸ್ಥಾನದಲ್ಲಿದ್ದನು ?

- (1) ಅಮೋಘವರ್ಷ
(2) ಕೃಷ್ಣ
(3) ಧ್ರುವ
(4) ದಂತಿದುರ್ಗ

28. ಯಾವ ಪ್ರಾಂತ್ಯದ ಮೇಲೆ ವಿಜಯವನ್ನು ಗಳಿಸಿದ ನೆನಪಿಗಾಗಿ ಅಕ್ಬರನು ಫತೇಪುರ ಸಿಕ್ರಿಯಲ್ಲಿ 'ಬುಲಂದ್ ದರ್ವಾಜಾ' ವನ್ನು ನಿರ್ಮಿಸಿದನು ?

- (1) ಗುಜರಾತ್
(2) ಸಿಂಧ್
(3) ಪಂಜಾಬ್
(4) ಮೇವಾರ್

29. ರಾಜ್ಯ ಸಭೆಯನ್ನು ಕುರಿತಂತೆ ಈ ಕೆಳಗಿನ ಯಾವ ಹೇಳಿಕೆಯು / ಗಳು ಸರಿಯಾಗಿವೆ ?

- A. ರಾಜ್ಯ ಸಭೆಯ ಅನುಮತಿಸಲಾದ ಗರಿಷ್ಠಸಂಖ್ಯಾಬಲವು 250 ಸದಸ್ಯರು.
- B. ರಾಜ್ಯ ಸಭೆಯಲ್ಲಿ 238 ಸದಸ್ಯರುಗಳು ಅಪರೋಕ್ಷವಾಗಿ ರಾಜ್ಯಗಳಿಂದ ಮತ್ತು ಕೇಂದ್ರಾಡಳಿತ ಪ್ರದೇಶಗಳಿಂದ ಆಯ್ಕೆಯಾಗಿರುತ್ತಾರೆ.
- C. ಅಖಿಲ ಭಾರತ ಸೇವೆಗಳ ಸೃಷ್ಟಿಯಂತಹ ವಿಷಯಗಳಲ್ಲಿ ಲೋಕ ಸಭೆಯೊಂದಿಗೆ ಸಂಸದೀಯ ಅಧಿಕಾರಗಳನ್ನು ಸಮಾನವಾಗಿ ಹಂಚಿ ಕೊಳ್ಳುತ್ತದೆ.

ನೀಡಿರುವ ಆಯ್ಕೆಗಳಲ್ಲಿ ಸರಿಯಾದ ಉತ್ತರಕ್ಕಾಗಿ ಸಂಕೇತವನ್ನಾರಿಸಿ :

- (1) A ಮತ್ತು B ಮಾತ್ರ
(2) A, B ಮತ್ತು C
(3) B ಮತ್ತು C ಮಾತ್ರ
(4) A ಮಾತ್ರ

26. Consider the following statements :

- A. The Chief Justice of India holds office for six years or until he attains the age of 65 years.
- B. The Judge of the Supreme Court can resign from the office by writing to the Chief Justice of India.
- C. The Judge of the Supreme Court can be removed from his office by the President on the recommendation of the Parliament.

Which of the statements given above is/are correct ?

Select the code for the correct answer from the options given below :

- (1) A and B only
- (2) B and C only
- (3) C only
- (4) None of the above

27. The famous Jain scholar Jinasena was in the court of which of the following kings ?

- (1) Amoghavarsha
- (2) Krishna
- (3) Dhruva
- (4) Dantidurga

28. 'Buland Darwaza' at Fatehpur Sikri was built by Akbar to commemorate his victory over which province ?

- (1) Gujarat
- (2) Sindh
- (3) Punjab
- (4) Mewar

29. Which of the following statements regarding the Rajya Sabha is/are correct ?

- A. The maximum permissible strength of the Rajya Sabha is 250 members.
- B. In the Rajya Sabha, 238 members are elected indirectly from the States and Union Territories.
- C. It shares legislative powers equally with the Lok Sabha in matters such as creation of All India Services.

Select the code for the correct answer from the options given below :

- (1) A and B only
- (2) A, B and C
- (3) B and C only
- (4) A only

30. ಮುದ್ರಾ ಬ್ಯಾಂಕ್‌ನ MUDRA ಎಂಬ ಅಕ್ರಾನಿಂ (ಪ್ರಥಮಾಕ್ಷರಕ) ವು ಕೆಳಗಿನ ಯಾವುದನ್ನು ಸಂಕೇತಿಸುತ್ತದೆ ?

- (1) ಮ್ಯಾಕ್ರೋ ಯೂನಿಟ್ಸ್ ಡೆವಲಪ್‌ಮೆಂಟ್ ಅಂಡ್ ರಿಕ್‌ನ್‌ಸ್ಟ್ರಕ್ಚರ್ ಏಜೆನ್ಸಿ ಬ್ಯಾಂಕ್
- (2) ಮಾಡಿಫೈಡ್ ಡೆವಲಪ್‌ಮೆಂಟ್ ಅಂಡ್ ರಿಸ್ಟ್ರಕ್ಚರಿಂಗ್ ಏಜೆನ್ಸಿ ಬ್ಯಾಂಕ್
- (3) ಮೈಕ್ರೋ ಯೂನಿಟ್ಸ್ ಡೆವಲಪ್‌ಮೆಂಟ್ ಅಂಡ್ ರೀಫೈನಾನ್ಸ್ ಏಜೆನ್ಸಿ ಬ್ಯಾಂಕ್
- (4) ಮ್ಯಾನುಫ್ಯಾಕ್ಚರಿಂಗ್ ಯೂನಿಟ್ಸ್ ಡೆವಲಪ್‌ಮೆಂಟ್ ಅಂಡ್ ರೀಫೈನಾನ್ಸ್ ಏಜೆನ್ಸಿ ಬ್ಯಾಂಕ್

31. ವಿಜಯನಗರ ಆಳ್ವಿಕೆಯಡಿ ಜಮೀನುದಾರರು ಮತ್ತು ಗೇಣಿದಾರರ ನಡುವೆ ಇದ್ದಪಾಲಾಗಾರಿಕೆ ವ್ಯವಸ್ಥೆಯನ್ನು ಹೀಗೆಂದು ಕರೆಯುವರು

- (1) ಕಾವಲ್‌ಗಾರ
- (2) ಕೈರಿನೈಕುಡಿ
- (3) ವರಮ್
- (4) ಕುಟ್ಟಗೈ

32. A ಮತ್ತು B ಗಳು ಒಂದು ಕೆಲಸವನ್ನು ಒಟ್ಟಿಗೆ 12 ದಿನಗಳಲ್ಲಿ ಮುಗಿಸಬಲ್ಲರು, B ಒಬ್ಬನೇ ಅದೇ ಕೆಲಸವನ್ನು 30 ದಿನಗಳಲ್ಲಿ ಮುಗಿಸಬಲ್ಲ. A ಒಬ್ಬನೇ ಆ ಕೆಲಸವನ್ನು ಎಷ್ಟು ದಿನಗಳಲ್ಲಿ ಮುಗಿಸಬಲ್ಲ ?

- (1) 10 ದಿನಗಳು
- (2) 12 ದಿನಗಳು
- (3) 18 ದಿನಗಳು
- (4) 20 ದಿನಗಳು

33. ಒಬ್ಬ ವ್ಯಕ್ತಿಯ ಪ್ರತಿದಿನದ ಸರಾಸರಿ ದೈನಂದಿನ ವೆಚ್ಚವು ಮೊದಲ 5 ದಿನಗಳಿಗೆ ₹ 120 ಮತ್ತು ನಂತರದ 4 ದಿನಗಳಿಗೆ ₹ 80 ಆಗಿದೆ. ಈ 9 ದಿನಗಳ ಅವಧಿಯಲ್ಲಿ ಅವನು ಒಟ್ಟು ₹ 25 ನ್ನು ಉಳಿಸಿದ್ದಲ್ಲಿ ಅವನ ದಿನನಿತ್ಯದ ಸರಾಸರಿ ಆದಾಯವೆಷ್ಟು ?

- (1) ₹ 9
- (2) ₹ 105
- (3) ₹ 945
- (4) ₹ 120

34. ಈ ಕೆಳಗಿನ ಯಾವ ಒಂದು ಹಾರ್ಮೋನು ಪ್ರಜೋದಿಸುವುದರಿಂದ ಸಸ್ಯ ಜೀವಕೋಶಗಳು ಬೆಳೆಯುವ ರೀತಿಯಲ್ಲಿ, ಆ ಸಸ್ಯವು ಬೆಳಕಿನತ್ತ ಬಾಗುತ್ತಿರುವುದು ಗೋಚರವಾಗುತ್ತದೆ ?

- (1) ಸೈಟೋಕಿನಿನ್
- (2) ಆಕ್ಸಿನ್
- (3) ಗಿಬ್ಬರಾಲಿನ್
- (4) ಅಬ್‌ಸಿಸಿಕ್ ಆಮ್ಲ

35. ಅಲ್ಯೂಮಿನಿಯಂವು ಕಬ್ಬಿಣಕ್ಕಿಂತಲೂ ಹೆಚ್ಚು ಪ್ರತಿಕ್ರಿಯಾತ್ಮಕ ಆದರೆ ಅಲ್ಯೂಮಿನಿಯಂವು ಕಬ್ಬಿಣಕ್ಕಿಂತಲೂ ಸ್ವಲ್ಪ ಸುಲಭವಾಗಿ ಕೊರತೆ (ಸವೆತ) ಕೊಳ್ಳಲಾಗುತ್ತದೆ ಏಕೆಂದರೆ

- (1) ಆಮ್ಲಜನಕವು ಸುರಕ್ಷಣಾ ಆಕ್ಸೈಡ್ ಪದರವನ್ನು ರೂಪಿಸುತ್ತದೆ.
- (2) ಅಲ್ಯೂಮಿನಿಯಂ ಒಂದು ಶ್ರೇಷ್ಠ ಲೋಹ.
- (3) ಕಬ್ಬಿಣವು ನೀರಿನೊಂದಿಗೆ ಸುಲಭವಾಗಿ ವರ್ತಿಸುತ್ತದೆ.
- (4) ಕಬ್ಬಿಣವು ಅಯಾನುಗಳನ್ನು ರಚಿಸುವ ಸಾಮರ್ಥ್ಯವನ್ನು ಹೊಂದಿದೆ.

30. Acronym MUDRA in MUDRA Bank stands for which of the following ?

- (1) Macro Units Development and Reconstruction Agency Bank
- (2) Modified Development and Restructuring Agency Bank
- (3) Micro Units Development and Refinance Agency Bank
- (4) Manufacturing Units Development and Refinance Agency Bank

31. Under the Vijayanagar rulers what was the system of sharing between the landlord and the tenant known as ?

- (1) Kavalgar
- (2) Kairinaikuddi
- (3) Varam
- (4) Kuttagai

32. A and B can finish a job together in 12 days while B alone can finish the same job in 30 days. In how many days can A alone finish the job ?

- (1) 10 days
- (2) 12 days
- (3) 18 days
- (4) 20 days

33. The average daily expenditure for a person for the first five days is ₹ 120 and for the next four days is ₹ 80. If he has saved total ₹ 25 during the period of nine days, then what is his average daily income ?

- (1) ₹ 9
- (2) ₹ 105
- (3) ₹ 945
- (4) ₹ 120

34. Which one among the following hormones stimulates the plant cells to grow in a manner such that the plant appears to be bent towards light ?

- (1) Cytokinin
- (2) Auxin
- (3) Gibberellin
- (4) Abscisic acid

35. Aluminium is more reactive than iron but aluminium is less easily corroded than iron because

- (1) Oxygen forms a protective oxide layer.
- (2) Aluminium is a noble metal.
- (3) Iron undergoes reaction easily with water.
- (4) Iron has the capability to form ions.

36. ಪಟ್ಟಿ I ರಲ್ಲಿನ ಮಿಶ್ರಲೋಹಗಳನ್ನು ಮತ್ತು ಪಟ್ಟಿ II ರಲ್ಲಿರುವ ಅದರ ಘಟಕಗಳೊಡನೆ ಸರಿ ಹೊಂದಿಸಿ :

ಪಟ್ಟಿ I (ಮಿಶ್ರಲೋಹಗಳು)	ಪಟ್ಟಿ II (ಘಟಕಗಳು)
A. ಸೋಲ್ಡರ್	I. ತಾಮ್ರ, ಅಲ್ಯೂಮಿನಿಯಂ
B. ರೋಲ್ಡ್ ಗೋಲ್ಡ್	II. ಸೀಸ, ತವರ
C. ಮಾಗ್ನಾಲಿಯಂ	III. ತಾಮ್ರ, ಸತು
D. ಹಿತ್ತಾಳೆ	IV. ಮೆಗ್ನೀಷಿಯಂ, ಅಲ್ಯೂಮಿನಿಯಂ
	V. ತಾಮ್ರ, ತವರ

ಸಂಕೇತಗಳ ಸಹಾಯದಿಂದ ಸರಿ ಉತ್ತರಗಳನ್ನು ಆರಿಸಿ :

	A	B	C	D
(1)	II	I	IV	V
(2)	II	I	IV	III
(3)	I	II	V	III
(4)	I	II	IV	V

37. ನಾಲ್ಕು ಚಕ್ರದ ವಾಹನಗಳು ಮತ್ತು ಆಧುನಿಕ ಆಟೋಮೊಬೈಲ್‌ಗಳಲ್ಲಿ ಹೊರಗಿನ ದರ್ಪಣದಲ್ಲಿ "ದರ್ಪಣದಲ್ಲಿರುವ ವಸ್ತುಗಳು ಅವುಗಳು ಗೋಚರಿಸುವುದಕ್ಕಿಂತಲೂ ಸಮೀಪದಲ್ಲಿರುತ್ತದೆ" ಎಂಬ ಎಚ್ಚರಿಕೆಯನ್ನು ನೀಡಲಾಗಿರುತ್ತದೆ. ಇಂತಹ ದರ್ಪಣಗಳು

- (1) ಸಮತಲ ದರ್ಪಣಗಳು
- (2) ಅಧಿಕ ದೊಡ್ಡದಾದ ನಾಭಿದೂರದೊಂದಿಗಿರುವ ನಿಮ್ಮ ಮಸೂರಗಳು
- (3) ಅತಿ ಕಡಿಮೆ ನಾಭಿ ದೂರದೊಂದಿಗಿರುವ ನಿಮ್ಮ ಮಸೂರಗಳು
- (4) ಪೀನ ಮಸೂರಗಳು

38. URL ಎಂದರೇನು ?

- (1) ಇದು ಕಂಪ್ಯೂಟರ್‌ನ ಡಿಸ್ಕ್ ನ ಡಿಫ್ರಾಗ್‌ಮೆಂಟೇಷನ್‌ನಲ್ಲಿ ಬಳಸುವ ತಂತ್ರಾಂಶವಾಗಿದೆ.
- (2) ಇದು ಕಂಪ್ಯೂಟರ್ ಪರದೆಯನ್ನು ಪ್ರಕಾಶಮಾನವಾಗಿ ಮಾಡುವ ಒಂದು ತಂತ್ರಾಂಶ.
- (3) ಇದು ಅಂತರ್ಜಾಲ ಸಂಪನ್ಮೂಲಕ್ಕೆ ರೆಫರೆನ್ಸ್ (ಉಲ್ಲೇಖಗಳನ್ನೊದಗಿಸುವ) ಅನ್ನು ರಚಿಸುವ ಒಂದು ನಿರ್ದಿಷ್ಟ ಕ್ಯಾರಕ್ಟರ್ ತಂತುವಾಗಿದೆ.
- (4) ಇದು ಕಂಪ್ಯೂಟರ್ ತಂತ್ರಾಂಶದ ಒಂದು ನಿರ್ದಿಷ್ಟ ಏಕರೂಪದ (ಯೂನಿಫಾರ್ಮ್) ಜೋಡಣೆ (ಸರಿಹೊಂದಿಕೆ) ಯಾಗಿದ್ದು ಕಂಪ್ಯೂಟರ್‌ನ್ನು ವೇಗವಾಗಿ ನಡೆಯುವಂತೆ ಮಾಡುತ್ತದೆ.

39. ಕೆಳಗಿನವುಗಳಲ್ಲಿ ಯಾವ ಜೋಡಿ ಸರಿ ಹೊಂದುತ್ತದೆ ?

ಜಲಪಾತಗಳು	ನದಿಗಳು
A. ಕಪಿಲಧಾರೆ	- ಗೋದಾವರಿ
B. ಜೋಗ್ ಜಲಪಾತ	- ಶರಾವತಿ
C. ಶಿವನಸಮುದ್ರ	- ಕಾವೇರಿ

ನೀಡಿರುವ ಆಯ್ಕೆಗಳಲ್ಲಿ ಸರಿಯಾದ ಉತ್ತರಕ್ಕಾಗಿ ಸಂಕೇತವನ್ನಾರಿಸಿ :

- (1) A ಮತ್ತು B ಮಾತ್ರ
- (2) A ಮತ್ತು C ಮಾತ್ರ
- (3) B ಮತ್ತು C ಮಾತ್ರ
- (4) A, B ಮತ್ತು C

36. Match the Alloys (List I) with the Constituents (List II) :

<i>List I</i> (Alloys)	<i>List II</i> (Constituents)
A. Solder	I. Copper, Aluminium
B. Rolled Gold	II. Lead, Tin
C. Magnalium	III. Copper, Zinc
D. Brass	IV. Magnesium, Aluminium
	V. Copper, Tin

Select the code for the correct answer from the options given below :

	A	B	C	D
(1)	II	I	IV	V
(2)	II	I	IV	III
(3)	I	II	V	III
(4)	I	II	IV	V

37. In four-wheelers and modern automobiles, the outside mirror is marked with the warning that "Objects in mirror are closer than they appear". Such mirrors are

- (1) Plane mirrors
- (2) Concave mirrors with very large focal lengths
- (3) Concave mirrors with very small focal lengths
- (4) Convex mirrors

38. What is a URL ?

- (1) It is the software used in defragmentation of the disk of a computer.
- (2) It is a software to make the computer screen bright.
- (3) It is a specific character string that constitutes a reference to an Internet resource.
- (4) It is a specific uniform alignment of the computer software to make it run faster.

39. Which of the following pairs are correctly matched ?

<u>Waterfalls</u>	<u>Rivers</u>
A. Kapildhara	– Godavari
B. Jog Falls	– Sharavathi
C. Shivanasamudram	– Cauvery

Select the code for the correct answer from the options given below :

- (1) A and B only
- (2) A and C only
- (3) B and C only
- (4) A, B and C

40. ಪಟ್ಟಿ I ರಲ್ಲಿನ ಸಿಡಿತಲೆ/ಕ್ಷಿಪಣಿಯ ಹೆಸರು ಮತ್ತು ಪಟ್ಟಿ II ರಲ್ಲಿರುವ ಅವುಗಳ ವಿಧಗಳೊಂದಿಗೆ ಸರಿ ಹೊಂದಿಸಿ :

ಪಟ್ಟಿ I (ಸಿಡಿತಲೆ/ ಕ್ಷಿಪಣಿಯ ಹೆಸರು)	ಪಟ್ಟಿ II (ವಿಧ)
A. ತೇಜಸ್	I. ಪ್ರಧಾನ ಯುದ್ಧ ಟ್ಯಾಂಕು
B. ಧ್ವಜ	II. ಲಘು ಯುದ್ಧ ವಾಯುನೌಕೆ
C. ಅರ್ಜುನ್	III. ಮುಂದುವರಿದ ಲಘು/ಹಗುರ ಹೆಲಿಕಾಪ್ಟರ್
D. ಧನುಷ್	IV. ಹಡಗು ಆಧಾರಿತ ಮಿಸೈಲ್

ಸಂಕೇತಗಳ ಸಹಾಯದಿಂದ ಸರಿ ಉತ್ತರಗಳನ್ನು ಆರಿಸಿ :

	A	B	C	D
(1)	II	I	III	IV
(2)	II	III	I	IV
(3)	IV	III	I	II
(4)	IV	II	I	III

41. ಈ ಕೆಳಗಿನ ಯಾವ ಸಂಸ್ಥೆಗಳಿಗೆ ಸಂಬಂಧಿಸಿದಂತೆ ನೈರ್ಮಲ್ಯ ಮತ್ತು ಸಸ್ಯಮೂಲನೈರ್ಮಲ್ಯಾದಿ ಕ್ರಮಗಳ (SPS) ಒಪ್ಪಂದವು, ಸರ್ಕಾರವು ಆಹಾರ ಸುರಕ್ಷತೆ, ಪ್ರಾಣಿ ಮತ್ತು ಸಸ್ಯ ಆರೋಗ್ಯ ಕ್ರಮಗಳನ್ನು ಹೇಗೆ ಅನ್ವಯಿಸಬಹುದೆಂಬುದನ್ನು ಅಧಿಕೃತ ಗೊಳಿಸುತ್ತದೆ ?

- (1) ವಿಶ್ವ ಆರ್ಥಿಕ ಪೋರಂ
- (2) ವಿಶ್ವ ಆರೋಗ್ಯ ಸಂಸ್ಥೆ
- (3) ವಿಶ್ವ ವ್ಯಾಪಾರ ಸಂಸ್ಥೆ
- (4) ಆಹಾರ ಮತ್ತು ಕೃಷಿ ಸಂಸ್ಥೆ

42. ಸಂಸತ್ತಿನ ಜಂಟಿ ಅಧಿವೇಶನವನ್ನು ಕುರಿತಂತೆ ಕೆಳಗಿನವುಗಳಲ್ಲಿ ಯಾವುದು ಸರಿಯಾಗಿದೆ ?

- A. ಇದಕ್ಕೆ ರಾಷ್ಟ್ರಾಧ್ಯಕ್ಷರು ಕರೆ ನೀಡಬಹುದು.
- B. ರಾಜ್ಯ ಸಭೆಯ ಅಧ್ಯಕ್ಷರು ಅದರ ಅಧ್ಯಕ್ಷತೆಯನ್ನು ವಹಿಸುವರು.

ನೀಡಿರುವ ಆಯ್ಕೆಗಳಲ್ಲಿ ಸರಿಯಾದ ಉತ್ತರಕ್ಕಾಗಿ ಸಂಕೇತವನ್ನಾರಿಸಿ :

- (1) A ಮಾತ್ರ
- (2) B ಮಾತ್ರ
- (3) A ಮತ್ತು B ಇವೆರಡೂ
- (4) A ಆಗಲೀ ಅಥವಾ B ಆಗಲೀ ಅಲ್ಲ

43. ವಾಷಿಂಗ್ಟನ್ ಡಿ.ಸಿ.ಯಲ್ಲಿ ನಡೆದ ಅಂತರರಾಷ್ಟ್ರೀಯ ಪ್ರಶಸ್ತಿ ಸಮಾರಂಭದಲ್ಲಿ "ವೀ ಕನೆಕ್ಟ್ ಇಂಟರ್‌ನ್ಯಾಷನಲ್ (WEConnect International)" ರಿಂದ ನೀಡಿದ ಅತ್ಯಧಿಕ ಬೆಂಬಲಾತ್ಮಕ ಸರ್ಕಾರಿ ಪ್ರಶಸ್ತಿ 2017 ನ್ನು ಯಾವ ರಾಜ್ಯ ಸರ್ಕಾರವು ಸ್ವೀಕರಿಸಿತು ?

- (1) ಆಂಧ್ರ ಪ್ರದೇಶ್
- (2) ತೆಲಂಗಾಣ
- (3) ಕರ್ನಾಟಕ
- (4) ಕೇರಳ

44. ಮೈಸೂರಿನಲ್ಲಿ ನಡೆದ 83 ನೇ ಅಖಿಲ ಭಾರತ ಕನ್ನಡ ಸಾಹಿತ್ಯ ಸಮ್ಮೇಳನದ ಅಧ್ಯಕ್ಷರಾಗಿದ್ದವರು ಯಾರು ?

- (1) ಡಾ. ಸಿದ್ದಲಿಂಗಯ್ಯ
- (2) ಬರಗೂರು ರಾಮಚಂದ್ರಪ್ಪ
- (3) ಚಂದ್ರಶೇಖರ ಪಾಟೀಲ
- (4) ಚಂದ್ರಶೇಖರ ಕಂಬಾರ

40. Match the Names of Warheads (List I) with their Types (List II) :

<i>List I</i> (Name of Warhead)	<i>List II</i> (Type)
A. Tejas	I. Main Battle Tank
B. Dhruva	II. Light Combat Aircraft
C. Arjun	III. Advance Light Helicopter
D. Dhanush	IV. Ship based Missile

Select the code for the correct answer from the options given below :

	A	B	C	D
(1)	II	I	III	IV
(2)	II	III	I	IV
(3)	IV	III	I	II
(4)	IV	II	I	III

41. Sanitary and Phytosanitary Measures (SPS) Agreement, that mandates how governments can apply food safety, animal and plant health measures, is related to which of the following organisations ?

- (1) World Economic Forum
- (2) World Health Organisation
- (3) World Trade Organisation
- (4) Food and Agriculture Organisation

42. Which of the following is correct about the Joint Session of the Parliament ?

- A. It is summoned by the President.
- B. It is presided over by the Chairman Rajya Sabha.

Select the code for the correct answer from the options given below :

- (1) A only
- (2) B only
- (3) Both A and B
- (4) Neither A nor B

43. Which State Government received the Most Supportive Government Award, 2017 at the International Awards Ceremony held in Washington DC where the Award was given by WEConnect International ?

- (1) Andhra Pradesh
- (2) Telangana
- (3) Karnataka
- (4) Kerala

44. Who was the Chairman of 83rd All India Kannada Sahitya Sammelan held at Mysuru ?

- (1) Dr. Siddalingaiah
- (2) Baraguru Ramachandrappa
- (3) Chandrashekhara Patil
- (4) Chandrashekhara Kambara

45. ಕರ್ನಾಟಕದ ಪ್ರವಾಸೋದ್ಯಮವನ್ನು ಸುಲಭಗೊಳಿಸಲಿಕ್ಕಾಗಿ, ತಮ್ಮ ದೇಶದಲ್ಲಿ ಪ್ರವಾಸೋದ್ಯಮಮಾಹಿತಿ ಕಛೇರಿಯನ್ನು ಸ್ಥಾಪಿಸಲು, ಕರ್ನಾಟಕ ಸರ್ಕಾರದ ಮುಂದೆ ಜೂನ್ 2017 ರಲ್ಲಿ ದೇಶವೊಂದು ಪ್ರಸ್ತಾವನೆಯೊಂದನ್ನು ಮುಂದಿಟ್ಟದ್ದು, ಈ ಪ್ರಸ್ತಾವನೆಯನ್ನು ಸಲ್ಲಿಸಿರುವ ದೇಶ ಯಾವುದು ?
- (1) ಫ್ರಾನ್ಸ್
 - (2) ಕೊರಿಯಾ
 - (3) ನೈಜೀರಿಯಾ
 - (4) ಜಪಾನ್
46. ಈ ಕೆಳಗಿನ ಯಾವ ಶ್ರೇಣಿಯ ನದಿಗಳು ಕರ್ನಾಟಕ ರಾಜ್ಯದ ಪಶ್ಚಿಮ ದಿಕ್ಕಿಗೆ ಹರಿಯುತ್ತವೆ ?
- (1) ಭೀಮಾ - ಹಿರಣ್ಯಕೇಶಿ - ಕೃಷ್ಣಾ
 - (2) ಕಾಳಿ - ಗಂಗಾವತಿ - ಕೃಷ್ಣಾ
 - (3) ಅಘನಾಶಿನಿ - ಘಟಪ್ರಭಾ - ಭೀಮಾ
 - (4) ನೇತ್ರಾವತಿ - ಗಂಗಾವಲ್ಲಿ - ಕಾಳಿ
47. ಸೂಪರ್ ಕಂಪ್ಯೂಟಿಂಗ್‌ನ ಪಿತ ಎಂದು ಯಾರನ್ನು ಭಾವಿಸಲಾಗಿದೆ ?
- (1) ಸೆಯ್‌ಮೆರ್ ಕ್ರೆ
 - (2) ಆಡಂ ಡಂಕೆಲ್ಸ್
 - (3) ಹೇವಿಡ್ ಜೆ. ಬ್ರೌನ್
 - (4) ಜೀನ್ ಅಮಾಲ್
48. ಜನವರಿ 2018 ರಲ್ಲಿ ವಿಶ್ವದ ಸಿಹಿ ಉತ್ಪಾದನೆಯನ್ನು ಭಾರತದ ಯಾವ ನಗರವು ಚಾಲನೆಗೊಳಿಸಿದೆ ?
- (1) ನವ ದೆಹಲಿ
 - (2) ಹೈದರಾಬಾದ್
 - (3) ಲಕ್ನೋ
 - (4) ಚೆನ್ನೈ

49. ಈ ಕೆಳಗಿನ ಯಾವ ದೇಶಗಳಲ್ಲೊಂದಾದ ದಕ್ಷಿಣ ಮುಸ್ಲಿಂ ರಾಜ್ಯವು ಪರ್ಷಿಯನ್ ಬದಲಿಗೆ 'ಹಿಂದು ಅಥವಾ 'ದಖನಿ ಉರ್ದು' ವನ್ನು ರಾಜ್ಯದ ಅಧಿಕೃತ ಭಾಷೆಯನ್ನಾಗಿ ಘೋಷಿಸಿತು ?
- (1) ಗೋಲ್ಕೊಂಡಾ
 - (2) ಅಹ್ಮದ್ ನಗರ
 - (3) ಬೀರಾರ್
 - (4) ಬೆಜಾಪುರ
50. ಮಲ್ಟಿ ಬಳಿಯಲ್ಲಿರುವ ಸೆಂಟ್ ಮೇರೀಸ್ ದ್ವೀಪದ ಸ್ಥಳೀಯ ಹೆಸರೇನು ?
- (1) ಪಿಜನ್ ದ್ವೀಪ
 - (2) ತೊನ್ನೆಪಾರ್ ದ್ವೀಪ
 - (3) ನೇತ್ರಾಣಿ ದ್ವೀಪ
 - (4) ದರಿಯಾ ಬಹಾದೂರ್ ಘರ್
51. ಈ ಕೆಳಗಿನ ಯಾವ ಭಕ್ತಿ ಪಂಥದ ಸಂತರಿಂದ ಬೋಧಿಸಲ್ಪಟ್ಟ ಅದ್ವೈತವು ಶುದ್ಧಾದ್ವೈತ ಅಥವಾ ಶುದ್ಧ ದ್ವೈತ ರಹಿತ ಎಂದು ಕರೆಯಲ್ಪಟ್ಟಿದೆ ?
- (1) ನರ್ಸಿ ಮೆಹತಾ
 - (2) ನಾನಕ್
 - (3) ಕಬೀರ್
 - (4) ವಲ್ಲಭಾಚಾರ್ಯ
52. ಕರ್ನಾಟಕದ ಕೆಳಗಿನ ಯಾವ ಜಿಲ್ಲೆಯು "ಪದಾತಿ ಪಡೆಯ ತೊಟ್ಟಲು" ಎಂಬ ಅಂಕಿತ / ಉಪನಾಮವನ್ನು ಹೊಂದಿದೆ ?
- (1) ಬೆಂಗಳೂರು
 - (2) ಮೈಸೂರು
 - (3) ಬೆಳಗಾಂ
 - (4) ಬೀದರ್

45. In June 2017, a country put forward a proposal before the Government of Karnataka to establish a Tourism Information Office in their country to facilitate tourism in Karnataka. Which country made the proposal ?
- (1) France
 - (2) Korea
 - (3) Nigeria
 - (4) Japan
46. Which of the following sequence of rivers flows in western direction of Karnataka State ?
- (1) Bhima – Hiranyakeshi – Krishna
 - (2) Kali – Gangavathi – Krishna
 - (3) Aghanashini – Ghataprabha – Bhima
 - (4) Netravati – Gangavalli – Kali
47. Who is known as the Father of supercomputing ?
- (1) Seymour Cray
 - (2) Adam Dunkels
 - (3) David J. Brown
 - (4) Gene Amdahl
48. Which city hosted the World Sweet Festival in January 2018 ?
- (1) New Delhi
 - (2) Hyderabad
 - (3) Lucknow
 - (4) Chennai
49. Which of the following was the Deccani Muslim State which declared 'Hindi' or 'Dakhini Urdu' as the official language of the State instead of Persian ?
- (1) Golconda
 - (2) Ahmednagar
 - (3) Berar
 - (4) Bijapur
50. What is the local name of St. Mary's Island near Malpe ?
- (1) Pigeon Island
 - (2) Thonsepar
 - (3) Netrani Island
 - (4) Daria Bahadurgarh
51. The monism preached by which of the following Bhakti Saints is known as Shuddhadvaita or pure non-duality ?
- (1) Narsi Mehta
 - (2) Nanak
 - (3) Kabir
 - (4) Vallabhacharya
52. Which of the following districts of Karnataka holds the sobriquet "Cradle of Infantry" ?
- (1) Bengaluru
 - (2) Mysuru
 - (3) Belgaum
 - (4) Bidar

53. ಕೇಂದ್ರ ಮಾಹಿತಿ ಮತ್ತು ಪ್ರಸರಣ ಮಂತ್ರಿಮಂಡಲದಡಿ (I ಮತ್ತು B) ಭಾರತದ ಪ್ರಥಮ ಚಲನಚಿತ್ರ ಮತ್ತು ದೂರದರ್ಶನ ಸಂಸ್ಥೆಯು (FTII) ಪುಣೆಯಲ್ಲಿ ಸ್ವಾಯತ್ತ ಸಂಸ್ಥೆಯಾಗಿ ನಿರ್ಮಿತವಾಗಿದ್ದು, ಎರಡನೆಯ FTII ನ್ನು ಶಿಫ್ರದಲ್ಲಿಯೇ ಎಲ್ಲಿ ನಿರ್ಮಿಸಲು ಯೋಜಿಸಲಾಗಿದೆ ?

- (1) ಮಿಜೋರಾಂ
- (2) ತ್ರಿಪುರ
- (3) ಅರುಣಾಚಲ ಪ್ರದೇಶ
- (4) ಒರಿಸ್ಸಾ

54. 9ನೇ ಜನವರಿ 2018 ರಂದು ನವದೆಹಲಿಯಲ್ಲಿ ಮೊದಲನೇ PIO (ಭಾರತೀಯ ಮೂಲದ ಜನರ) ಸಂಸದೀಯ ಸಮಾವೇಶವು ಜರುಗಿತು. ಈ ಸಮಾವೇಶವನ್ನು ಉದ್ಘಾಟಿಸಿದವರಾರು ?

- (1) ಶ್ರೀ ನರೇಂದ್ರ ಮೋದಿ
- (2) ಶ್ರೀಮತಿ ಸುಷ್ಮಾ ಸ್ವರಾಜ್
- (3) ಶ್ರೀ ಎಂ. ವೆಂಕಯ್ಯ ನಾಯ್ಡು
- (4) ಶ್ರೀ ರಾಮ ನಾಥ್ ಕೋವಿಂದ್

55. ಕೇಂದ್ರ ರಕ್ಷಣಾ ಖಾತೆ ಸಚಿವರಾದ ನಿರ್ಮಲಾ ಸೀತಾರಾಮನ್ ರವರು 'ಡಿಫೆನ್ಸ್ ಇನ್ನೋವೇಷನ್ ಸೆಂಟರ್' (DIC) ನ್ನು ನಿರ್ಮಿಸಲು ಪ್ರಸ್ತಾಪಿಸಿದ್ದು ರಕ್ಷಣಾ ವಲಯದ ಘಟಕಗಳ ತಯಾರಿಕೆಯಲ್ಲಿ ಸಣ್ಣ ಉದ್ಯಮಿಗಳಿಗೆ ಸಹಾಯ ಮಾಡಲು ಈ ಕೆಳಗಿನ ಯಾವ ಸ್ಥಳದಲ್ಲಿ ಅದನ್ನು ನಿರ್ಮಿಸಲು ಉದ್ದೇಶಿಸಲಾಗಿದೆ ?

- (1) ಕೋಯಿಮೋರ್
- (2) ಬೆಂಗಳೂರು
- (3) ಕೊಯಂಬತ್ತೂರು
- (4) ಚೆನ್ನೈ

56. 2022 ರಲ್ಲಿನ 39 ನೇ ರಾಷ್ಟ್ರೀಯ ಕ್ರೀಡೆಗಳ ಚಾಲನೆಗಾಗಿ ಭಾರತೀಯ ಒಲಂಪಿಕ್ ಅಸೋಸಿಯೇಷನ್ (IOA) ನೊಂದಿಗೆ ಯಾವ ರಾಜ್ಯವು ಇತ್ತೀಚೆಗೆ ಅತಿಥೇಯ ನಗರ ಒಪ್ಪಂದಕ್ಕೆ ಸಹಿ ಹಾಕಿತು ?

- (1) ನಾಗಾಲ್ಯಾಂಡ್
- (2) ಮಣಿಪುರ್
- (3) ಮಿಜೋರಾಂ
- (4) ಮೇಘಾಲಯ

57. 28 ಫೆಬ್ರವರಿ, 2018 ರಿಂದ ನಡೆಯುವ 'ಕರ್ನಾಟಕ ಇಂಟರ್‌ನ್ಯಾಷನಲ್ ಟ್ರಾವೆಲ್ ಎಕ್ಸ್‌ಪೋ (KITE)' ದ ಮೊದಲ ಅವೃತ್ತಿಯನ್ನು ಭಾರತದ ಯಾವ ನಗರವು ಚಾಲನೆ ಮಾಡಲಿದೆ ?

- (1) ಬೆಂಗಳೂರು
- (2) ಬಿಜಾಪುರ್
- (3) ಧಾರವಾಡ್
- (4) ಮೈಸೂರು

58. ಕರ್ನಾಟಕದ ಘನತೆವೆತ್ತ ರಾಜ್ಯಪಾಲರಾಗಿ ನೇಮಕಾತಿ ಹೊಂದುವ ಮುನ್ನ ಶ್ರೀ ವಾಜುಭಾಯಿ ರುದಾಭಾಯಿ ವಾಲಾರವರು ಈ ಕೆಳಗಿನ ಯಾವ ವಿಧಾನಮಂಡಲದ ಸಭಾಧ್ಯಕ್ಷರಾಗಿ ಸೇವೆ ಸಲ್ಲಿಸಿದ್ದರು ?

- (1) ರಾಜಸ್ಥಾನ ವಿಧಾನಮಂಡಲ
- (2) ಮಧ್ಯ ಪ್ರದೇಶ ವಿಧಾನಮಂಡಲ
- (3) ದೆಹಲಿ ವಿಧಾನಮಂಡಲ
- (4) ಗುಜರಾತ್ ವಿಧಾನಮಂಡಲ

53. India's first Film and Television Institute (FTII) was set up in Pune as an autonomous institute under the Union Ministry of Information and Broadcasting (I&B). Where is it planned to set up the second FTII soon ?

- (1) Mizoram
- (2) Tripura
- (3) Arunachal Pradesh
- (4) Orissa

54. First ever People of Indian Origin (PIO) Parliamentary Conference took place in New Delhi on 9th January 2018. Who inaugurated the conference ?

- (1) Shri Narendra Modi
- (2) Smt. Sushma Swaraj
- (3) Shri M. Venkaiah Naidu
- (4) Shri Ram Nath Kovind

55. Union Defence Minister Nirmala Sitharaman proposed to set up a Defence Innovation Centre (DIC) in which of the following cities to assist small industries in manufacturing the components of defence sector ?

- (1) Kozhikode
- (2) Bengaluru
- (3) Coimbatore
- (4) Chennai

56. Which State has recently signed the host city contract with the Indian Olympic Association (IOA) for hosting the 39th National Games in 2022 ?

- (1) Nagaland
- (2) Manipur
- (3) Mizoram
- (4) Meghalaya

57. Which city will host the first edition of Karnataka International Travel Expo (KITE) from February 28, 2018 ?

- (1) Bengaluru
- (2) Bijapur
- (3) Dharwad
- (4) Mysuru

58. Before he was appointed as Hon'ble Governor of Karnataka, Shri Vajubhai Rudabhai Vala had served as the Speaker of which of the following assemblies ?

- (1) Rajasthan Legislative Assembly
- (2) Madhya Pradesh Legislative Assembly
- (3) Delhi Legislative Assembly
- (4) Gujarat Legislative Assembly

59. ಜನರನ್ನು ಮತ್ತು ಸರಕುಗಳನ್ನು ಸಾಗಣೆ ಮಾಡುವಲ್ಲಿ ರೈಲ್ವೆಯು ಮುಖ್ಯ ಪಾತ್ರವನ್ನು ವಹಿಸುತ್ತದೆ. ರೈಲ್ವೆ ಪಥಗಳು ವಿಭಿನ್ನ ಭೌಗೋಳಿಕ ಪ್ರದೇಶಗಳ ಮುಖಾಂತರ ಸಂಚರಿಸುತ್ತವೆ / ಅಡ್ಡಹಾಯುತ್ತವೆ ಪ್ರಪಂಚದಲ್ಲಿಯೇ ಅತ್ಯಂತ ಉನ್ನತವಾದ ರೈಲ್ವೆ ಪಥವು ಎಲ್ಲಿದೆ ?

- (1) ಚೀನಾದಲ್ಲಿ ಕಿಂಗೈ - ಟಿಬೆಟ್ ರೈಲು ಮಾರ್ಗ
- (2) ಪೆರುವಿನಲ್ಲಿ ಲೀಮಾ - ಹ್ಯೂಯೆನ್‌ಕಯೋ
- (3) ಬೊಲಿವಿಯಾದಲ್ಲಿ ರಿಯೊ ಮುಲಟೊಸ - ಪೊಟೊಸಿ
- (4) ಸ್ವಿಟ್ಜರ್ಲೆಂಡ್‌ನಲ್ಲಿಯ ಜಂಗ್‌ಪ್ರೊಬ್ಬಾನ್

60. ಪಟ್ಟಿ I ರಲ್ಲಿನ ಮಂಡಲಿಗಳೊಂದಿಗೆ ಪಟ್ಟಿ II ರಲ್ಲಿನ ಅವುಗಳ ಕೇಂದ್ರ ಕಾರ್ಯಸ್ಥಾನಗಳನ್ನು ಹೊಂದಿಸಿ :

ಪಟ್ಟಿ I (ಮಂಡಲಿ)	ಪಟ್ಟಿ II (ಕೇಂದ್ರ ಕಾರ್ಯಸ್ಥಾನ)
--------------------	---------------------------------

- | | |
|---------------------|---------------|
| A. ಕಾಫಿ ಮಂಡಲಿ | I. ಗುಂಟೂರು |
| B. ರಬ್ಬರ್ ಮಂಡಲಿ | II. ಬೆಂಗಳೂರು |
| C. ಚಹಾ ಮಂಡಲಿ | III. ಕೊಟ್ಟಾಯಂ |
| D. ಹೊಗೆಸೊಪ್ಪು ಮಂಡಲಿ | IV. ಕೋಲ್ಕತ್ತಾ |
| | V. ಮುಂಬಯಿ |

ಸಂಕೇತಗಳ ಸಹಾಯದಿಂದ ಸರಿ ಉತ್ತರಗಳನ್ನು ಆರಿಸಿ :

- | | A | B | C | D |
|-----|-----|-----|----|----|
| (1) | III | II | V | I |
| (2) | II | III | IV | I |
| (3) | II | III | I | IV |
| (4) | III | II | IV | V |

61. ಪಟ್ಟಿ I ರಲ್ಲಿನ ಅಂತರರಾಷ್ಟ್ರೀಯ ಸಂಘಟನೆಗಳೊಂದಿಗೆ ಪಟ್ಟಿ II ರಲ್ಲಿನ ಅವುಗಳ ಕೇಂದ್ರ ಕಾರ್ಯಸ್ಥಾನಗಳನ್ನು ಹೊಂದಿಸಿ :

ಪಟ್ಟಿ I (ಅಂತರರಾಷ್ಟ್ರೀಯ ಸಂಘಟನೆಗಳು)	ಪಟ್ಟಿ II (ಕೇಂದ್ರ ಕಾರ್ಯಸ್ಥಾನಗಳು)
--------------------------------------	------------------------------------

- | | |
|---------------|-------------|
| A. ಇಂಟರ್‌ಪೋಲ್ | I. ಪ್ಯಾರಿಸ್ |
| B. OECD | II. ಲಿಯಾನ್ |
| C. ADB | III. ಢಾಕಾ |
| D. BIMSTEC | IV. ಮನಿಲಾ |

ಸಂಕೇತಗಳ ಸಹಾಯದಿಂದ ಸರಿ ಉತ್ತರಗಳನ್ನು ಆರಿಸಿ :

- | | A | B | C | D |
|-----|----|----|-----|-----|
| (1) | I | II | IV | III |
| (2) | I | II | III | IV |
| (3) | II | I | III | IV |
| (4) | II | I | IV | III |

62. ಟ್ರಾಫಿಕ್ ಹರಿವು ಮತ್ತು ಅತ್ಯುತ್ತಮ ಸರಕು ಕಾರ್ಯಾಚರಣೆ ಯೋಜನೆಗೆ ನೆರವಾಗುವ ಪ್ರಮುಖ ಡಿಜಿಟಲ್ ಪ್ರಯತ್ನದಲ್ಲಿ ರೈಲ್ವೆ ಮಂತ್ರಿಮಂಡಲವು ಸರಕು ವ್ಯವಸ್ಥಾಪಕರಿಗೆ ಆಪ್ ಒಂದನ್ನು ಇತ್ತೀಚೆಗೆ ಚಾಲನೆ ಮಾಡಿದೆ. ಈ ಆಪ್‌ವು GIS ನೋಟಗಳು ಮತ್ತು ಡ್ಯಾಶ್‌ಬೋರ್ಡ್‌ನ್ನು ಬಳಸಿಕೊಂಡು ಸರಕು ವ್ಯವಹಾರವನ್ನು ನಿಯಂತ್ರಿಸಲು ಮತ್ತು ನಿರ್ವಹಿಸುವ ಉಪಯೋಗಗಳನ್ನು ಒದಗಿಸುತ್ತದೆ. ಈ ಆಪ್‌ನ ಹೆಸರೇನು ?

- (1) SFOORTI
- (2) SPOORTI
- (3) RELFRE
- (4) RAILLOAD

59. The Railways play an important role in transporting people and goods. The railway lines traverse through diverse geographical regions. Which is the highest railway line in the world ?

- (1) Qinghai – Tibet Railway in China
- (2) Lima – Huancayo in Peru
- (3) Rio Mulatos – Potosi in Bolivia
- (4) Jungfraubahn in Switzerland

60. Match the Boards (List I) with their Headquarters (List II) :

<i>List I</i> (Board)	<i>List II</i> (Headquarters)
A. Coffee Board	I. Guntur
B. Rubber Board	II. Bengaluru
C. Tea Board	III. Kottayam
D. Tobacco Board	IV. Kolkata
	V. Mumbai

Select the code for the correct answer from the options given below :

	A	B	C	D
(1)	III	II	V	I
(2)	II	III	IV	I
(3)	II	III	I	IV
(4)	III	II	IV	V

61. Match the International Organisations (List I) with their Headquarters (List II) :

<i>List I</i> (International Organisation)	<i>List II</i> (Headquarters)
A. Interpol	I. Paris
B. OECD	II. Lyon
C. ADB	III. Dhaka
D. BIMSTEC	IV. Manila

Select the code for the correct answer from the options given below :

	A	B	C	D
(1)	I	II	IV	III
(2)	I	II	III	IV
(3)	II	I	III	IV
(4)	II	I	IV	III

62. In a major digital initiative to help plan the traffic flows and optimise freight operations, Ministry of Railways has launched an App for freight managers recently. The App provides features for monitoring and managing freight business using GIS views and Dashboard. What is the name of the App ?

- (1) SFOORTI
- (2) SPOORTI
- (3) RELFRE
- (4) RAILLOAD

63. ಆಯುರ್ವೇದ, ಎಂಬುದರ ಸಾಹಿತ್ಯಿಕ ಅರ್ಥವು ಜೀವನದ ವಿಜ್ಞಾನವಾಗಿದ್ದು ಇದು ಪುರಾತನ ವೈದ್ಯಕೀಯ ವಿಜ್ಞಾನವಾಗಿದ್ದು ಭಾರತದಲ್ಲಿ ಸಾವಿರಾರು ವರ್ಷಗಳ ಹಿಂದೆ ಅಭಿವೃದ್ಧಿ ಹೊಂದಿತು. ಆಯುರ್ವೇದದ ಸ್ಥಾಪಕರಲ್ಲಿ ಒಬ್ಬರು ಯಾರು ?

- (1) ಚರಕ
- (2) ಬ್ರಹ್ಮ
- (3) ಆಚಾರ್ಯ ಪುನರ್ವಸು
- (4) ಪತಂಜಲಿ

64. ಪಟ್ಟಿ I ರಲ್ಲಿನ ರೈಲ್ವೆ ವಲಯಗಳೊಂದಿಗೆ ಪಟ್ಟಿ II ರಲ್ಲಿನ ಅವುಗಳ ಕೇಂದ್ರ ಕಾರ್ಯಸ್ಥಾನಗಳನ್ನು ಹೊಂದಿಸಿ :

ಪಟ್ಟಿ I (ರೈಲ್ವೆ ವಲಯಗಳು)	ಪಟ್ಟಿ II (ಕೇಂದ್ರ ಕಾರ್ಯಸ್ಥಾನಗಳು)
A. ಮಧ್ಯ ರೈಲ್ವೆ	I. ಹಾಜೀಪುರ್
B. ಪೂರ್ವ ಮಧ್ಯ ರೈಲ್ವೆ	II. ಜಬಲ್ ಪುರ್
C. ದಕ್ಷಿಣ ಮಧ್ಯ ರೈಲ್ವೆ	III. ಮುಂಬಯಿ
D. ಪಶ್ಚಿಮ ಮಧ್ಯ ರೈಲ್ವೆ	IV. ಸಿಕಂದರಾಬಾದ್
	V. ಬಿಲಾಸಪುರ

ಸಂಕೇತಗಳ ಸಹಾಯದಿಂದ ಸರಿ ಉತ್ತರಗಳನ್ನು ಆರಿಸಿ :

	A	B	C	D
(1)	III	I	IV	II
(2)	III	I	II	IV
(3)	II	V	IV	III
(4)	II	V	III	IV

65. ಈ ಹೇಳಿಕೆಗಳನ್ನು ಪರಿಗಣಿಸಿ :

- A. ರೀಗರ್ ಮಣ್ಣು ಅಧಿಕವಾಗಿ ಫಲವತ್ತಾಗಿದೆ.
- B. ರೀಗರ್ ಮಣ್ಣು ಸಿಟ್ರಿಸ್ ಹಣ್ಣುಗಳಿಗೆ ಉತ್ತಮ.
- C. ರೀಗರ್ ಮಣ್ಣು ಮಹಾರಾಷ್ಟ್ರದಾದ್ಯಂತ ಹರಡಿದೆ.
- D. ರೀಗರ್ ಮಣ್ಣು ಲೆಗ್ಯುಮಿನಸ್ ಬೆಳೆಗಳಿಗೆ ಸೂಕ್ತವಾದುದು.

ಈ ಮೇಲಿನ ಹೇಳಿಕೆಗಳಲ್ಲಿ ಯಾವುದು /ವು ಸರಿ ?

ನೀಡಿರುವ ಆಯ್ಕೆಗಳಲ್ಲಿ ಸರಿಯಾದ ಉತ್ತರಕ್ಕಾಗಿ ಸಂಕೇತವನ್ನಾರಿಸಿ :

- (1) A, B ಮತ್ತು C ಮಾತ್ರ
- (2) A, C ಮತ್ತು D ಮಾತ್ರ
- (3) B, C ಮತ್ತು D ಮಾತ್ರ
- (4) A, B, C ಮತ್ತು D

66. 2011 ರ ಜನಗಣತಿಯ ಮೇರೆಗೆ ಜನಸಂಖ್ಯೆಯ ಆರೋಹಣ ಕ್ರಮದಲ್ಲಿ ಕೆಳಗಿನ ರಾಜ್ಯಗಳನ್ನು ಜೋಡಿಸಿ :

- A. ಪಶ್ಚಿಮ ಬಂಗಾಳ
- B. ಉತ್ತರ ಪ್ರದೇಶ್
- C. ಬಿಹಾರ್
- D. ಕರ್ನಾಟಕ

ನೀಡಿರುವ ಆಯ್ಕೆಗಳಲ್ಲಿ ಸರಿಯಾದ ಉತ್ತರಕ್ಕಾಗಿ ಸಂಕೇತವನ್ನಾರಿಸಿ :

- (1) D, A, C, B
- (2) D, C, A, B
- (3) A, D, C, B
- (4) A, D, B, C

63. Ayurveda, which literally means the science of life, is an ancient medical science which was developed in India thousands of years ago. Who is said to be the founder of Ayurveda ?

- (1) Charaka
- (2) Brahma
- (3) Acharya Punarvasu
- (4) Patanjali

64. Match the Railway Zones (List I) with their Headquarters (List II) :

<i>List I</i> (Railway Zone)	<i>List II</i> (Headquarters)
A. Central Railway	I. Hajipur
B. East Central Railway	II. Jabalpur
C. South Central Railway	III. Mumbai
D. West Central Railway	IV. Secunderabad
	V. Bilaspur

Select the code for the correct answer from the options given below :

- | | A | B | C | D |
|-----|-----|---|-----|-----|
| (1) | III | I | IV | II |
| (2) | III | I | II | IV |
| (3) | II | V | IV | III |
| (4) | II | V | III | IV |

65. Consider the following statements :

- A. Regur soils are highly fertile.
- B. Regur soils are good for citrus fruits.
- C. Regur soils are widespread in Maharashtra.
- D. Regur soils are suitable for leguminous crops.

Which of the above statements are correct ?

Select the code for the correct answer from the options given below :

- (1) A, B and C only
- (2) A, C and D only
- (3) B, C and D only
- (4) A, B, C and D

66. Arrange the following states in increasing order of population as per Census 2011 :

- A. West Bengal
- B. Uttar Pradesh
- C. Bihar
- D. Karnataka

Select the code for the correct answer from the options given below :

- (1) D, A, C, B
- (2) D, C, A, B
- (3) A, D, C, B
- (4) A, D, B, C

67. ಪಟ್ಟಿ I ರಲ್ಲಿನ ಕೃಷಿ ವಲಯಗಳನ್ನು ಪಟ್ಟಿ II ರಲ್ಲಿನ ಜಿಲ್ಲೆಗಳೊಂದಿಗೆ ಅವುಗಳು ಕರ್ನಾಟಕ ರಾಜ್ಯದ ಯಾವ ಕೃಷಿ ವಲಯದಡಿ ಬರುವುದೋ ಅದಕ್ಕನುಗುಣವಾಗಿ ಹೊಂದಿಸಿ :

ಪಟ್ಟಿ I (ಕೃಷಿ ವಲಯಗಳು)	ಪಟ್ಟಿ II (ಜಿಲ್ಲೆಗಳು)
A. ಕರಾವಳಿ/ ಕಡಲತೀರ ವಲಯ	I. ಹಾಸನ, ತುಮಕೂರು, ಮಂಡ್ಯ, ಮೈಸೂರು, ಚಾಮರಾಜನಗರ
B. ಈಶಾನ್ಯ ಶುಷ್ಕ ವಲಯ	II. ಉ. ಕನ್ನಡ, ದ. ಕನ್ನಡ, ಉಡುಪಿ
C. ಉತ್ತರ ಪರಿವರ್ತನಾ ವಲಯ	III. ಬೆಳಗಾವಿ, ಧಾರವಾಡ, ಹಾವೇರಿ, ಗದಗ್
D. ದಕ್ಷಿಣ ಶುಷ್ಕ ವಲಯ	IV. ಗುಲ್ಬರ್ಗಾ, ರಾಯಚೂರು, ಯಾದಗಿರ್

ಸಂಕೇತಗಳ ಸಹಾಯದಿಂದ ಸರಿ ಉತ್ತರಗಳನ್ನು ಆರಿಸಿ :

	A	B	C	D
(1)	I	II	IV	III
(2)	III	IV	I	II
(3)	IV	III	II	I
(4)	II	IV	III	I

68. ಪಟ್ಟಿ I ರಲ್ಲಿನ ಅನ್ವೇಷಣೆಗಳು ಮತ್ತು ಪಟ್ಟಿ II ರಲ್ಲಿನ ಅನ್ವೇಷಕರನ್ನು ಹೊಂದಿಸಿ :

ಪಟ್ಟಿ I (ಅನ್ವೇಷಣೆ)	ಪಟ್ಟಿ II (ಅನ್ವೇಷಕರು)
A. ಅಮೇರಿಕಾ	I. ಅಮಂಡ್‌ಸನ್
B. ಉತ್ತರ ಧ್ರುವ	II. ಕೊಲಂಬಸ್
C. ದಕ್ಷಿಣ ಧ್ರುವ	III. ಕೆಪ್ಲರ್
D. ಗ್ರಹೀಯ ಚಲನೆ	IV. ರಾಬರ್ಟ್ ಪಿಯರಿ
	V. ವಾಸ್ಕೋಡೆಗಾಮಾ

ಸಂಕೇತಗಳ ಸಹಾಯದಿಂದ ಸರಿ ಉತ್ತರಗಳನ್ನು ಆರಿಸಿ :

	A	B	C	D
(1)	II	I	IV	III
(2)	V	IV	I	III
(3)	II	IV	I	III
(4)	II	I	IV	V

69. ಈ ಕೆಳಗಿನ ಮಾತುಗಳನ್ನು ಹೇಳಿದವರಾರು ?

“ಪರಿಶೀಲಿಸದಿದ್ದಾಗ ಜನಸಂಖ್ಯೆಯು ಜ್ಯಾಮಿತೀಯ ಅನುಪಾತದಲ್ಲಿ ಏರುತ್ತದೆ. ಜೀವನಾಧಾರವು ಮಾತ್ರ ಅಂಕಗಣಿತೀಯ ಅನುಪಾತದಲ್ಲಿ ಹೆಚ್ಚುತ್ತದೆ.”

- (1) ಕಾರ್ಲ್ ಮಾರ್ಕ್ಸ್
- (2) ಮಾಲ್ಥಸ್
- (3) ಡಬಲ್ಡೆ
- (4) ಸೆಂಪ್ಲೆ

67. Match the Agricultural Zones (List I) with the Districts (List II) which come under that agricultural zone in the State of Karnataka :

<i>List I</i> (Agricultural Zone)	<i>List II</i> (Districts)
A. Coastal Zone	I. Hassan, Tumkur, Mandya, Mysuru, Chamarajnagar
B. North Eastern Dry Zone	II. U. Kannada, D. Kannada, Udupi
C. Northern Transitional Zone	III. Belagavi, Dharwad, Haveri, Gadag
D. Southern Dry Zone	IV. Gulbarga, Raichur, Yadgir

Select the code for the correct answer from the options given below :

	A	B	C	D
(1)	I	II	IV	III
(2)	III	IV	I	II
(3)	IV	III	II	I
(4)	II	IV	III	I

68. Match the Discoveries (List I) with the Discoverers List II) :

<i>List I</i> (Discovery)	<i>List II</i> (Discoverer)
A. America	I. Amundsen
B. North Pole	II. Columbus
C. South Pole	III. Kepler
D. Planetary Motion	IV. Robert Peary
	V. Vasco Da Gama

Select the code for the correct answer from the options given below :

	A	B	C	D
(1)	II	I	IV	III
(2)	V	IV	I	III
(3)	II	IV	I	III
(4)	II	I	IV	V

69. Who said the following ?

“Population, when unchecked, increases in a geometrical ratio. Subsistence increases only in an arithmetical ratio.”

- (1) Karl Marx
- (2) Malthus
- (3) Doubleday
- (4) Semple

70. 1940 ರಲ್ಲಿ ಮಹಾತ್ಮ ಗಾಂಧಿಯವರು ಪರಿಮಿತ ಸತ್ಯಾಗ್ರಹವನ್ನು ವೈಯಕ್ತಿಕ ನೆಲೆಯಲ್ಲಿ ಪ್ರಾರಂಭಿಸಿದುದು ಏಕೆಂದರೆ

- (1) ರಾಷ್ಟ್ರೀಯ ಚಳುವಳಿಯ ಅವಧಿಯಲ್ಲಿ ಅಖಿಲ ಭಾರತ ರಾಷ್ಟ್ರೀಯ ಕಾಂಗ್ರೆಸ್‌ನ ಎಡ ಮತ್ತು ಬಲ ಪಂಥಗಳೆರಡನ್ನೂ ಒಟ್ಟುಗೂಡಿಸಲು ಬಯಸಿದರು.
- (2) ಅವರು ಬ್ರಿಟಿಷ್ ಆಳ್ವಿಕೆಗೆ ಸಾಂಕೇತಿಕವಾಗಿ ವಿರೋಧವನ್ನು ವ್ಯಕ್ತಪಡಿಸಲು ಬಯಸಿದ್ದು ಅದು ಯುರೋಪ್‌ನಲ್ಲಿ ಫ್ಯಾಸಿಸ್ಟ್ ಶಕ್ತಿ ಬಣಗಳನ್ನು ಶಮನಮಾಡುತ್ತಿದ್ದುದರಿಂದ.
- (3) ಭಾರತದ ಸ್ವಾತಂತ್ರ್ಯ ಬೇಡಿಕೆಯನ್ನು ಶಾಂತಿಯುತವಾಗಿ ಒಪ್ಪಿಕೊಳ್ಳಲಿಕ್ಕಾಗಿ ಮತ್ತು ತತ್ಕ್ಷಣವೇ ಮಧ್ಯಂತರ ಭಾರತೀಯ ಸರ್ಕಾರವನ್ನು ರಚಿಸಲಿಕ್ಕಾಗಿ, ಬ್ರಿಟಿಷ್ ಆಳ್ವಿಕೆಗೆ ಒಂದು ಅವಕಾಶವನ್ನು ನೀಡಬಯಸಿದರು.
- (4) ಯುರೋಪ್‌ನಲ್ಲಿನ ಫ್ಯಾಸಿಸ್ಟ್ ಶಕ್ತಿಬಣಗಳನ್ನು ವಿರೋಧಿಸಲಿಕ್ಕಾಗಿ ಬ್ರಿಟಿಷ್ ಆಳ್ವಿಕೆಗೆ ಅವರ ಸಕ್ರಿಯ ಬೆಂಬಲವನ್ನು ನೀಡಲು ಬಯಸಿದರು.

71. ಈ ಕೆಳಗಿನ ಉರ್ದು ಪಂಡಿತರಲ್ಲಿ ಯಾರನ್ನು ಎರಡನೇ ಮತ್ತು ಮೂರನೇ ದುಂಡುಮೇಜಿನ ಸಮಾವೇಶಕ್ಕೆ / ಪರಿಷತ್ತಿಗೆ ಆಹ್ವಾನಿಸಲಾಗಿತ್ತು ?

- (1) ಫಯಾಜ್ ಅಹ್ಮದ್ ಫಯಾಜ್
- (2) ಜೋಷ್ ಮಲಿಹಾಬಾದಿ
- (3) ಮುಹಮ್ಮದ್ ಇಕ್ಬಾಲ್
- (4) ಫಿರಾಖ್ ಗೋರಕ್‌ಪುರಿ

72. ಈ ಕೆಳಗಿನವುಗಳಲ್ಲಿ ಯಾವುದು ಯುದ್ಧಾವಧಿಯ ಶೌರ್ಯ ಪುರಸ್ಕಾರವಾಗಿದೆ ?

- (1) ಅಶೋಕ್ ಚಕ್ರ
- (2) ಕೀರ್ತಿ ಚಕ್ರ
- (3) ವೀರ ಚಕ್ರ
- (4) ಶೌರ್ಯ ಚಕ್ರ

73. ಈ ಕೆಳಗಿನ ಯಾವ ಕಾಯ್ದೆಯನ್ನು ಜವಾಹರ್‌ಲಾಲ್ ನೆಹರೂರವರು “ದಾಸ್ಯತ್ವದ ಹೊಸ ಸನ್ನದು (ಚಾರ್ಟರ್)” ಎಂಬುದಾಗಿ ವಿವರಿಸಿದರು ?

- (1) ಭಾರತ ಸರ್ಕಾರದ 1919 ರ ಕಾಯ್ದೆ (ಆಕ್ಟ್)
- (2) ಭಾರತ ಸರ್ಕಾರದ 1935 ರ ಕಾಯ್ದೆ (ಆಕ್ಟ್)
- (3) ಪಿಟ್ಸ್ ಇಂಡಿಯಾ ಕಾಯ್ದೆ (ಆಕ್ಟ್), 1784
- (4) ರೆಗ್ಯುಲೇಟಿಂಗ್ ಕಾಯ್ದೆ (ಆಕ್ಟ್), 1773

74. “ಪೋಲೋ ಕಾರ್ಯಾಚರಣೆ” ಯು ಈ ಕೆಳಗಿನ ಯಾವುದಕ್ಕೆ ಸಂಬಂಧಿಸಿದೆ ?

- (1) ಕ್ವಿಟ್ ಇಂಡಿಯಾ ಚಳುವಳಿಯ ಅವಧಿಯಲ್ಲಿ ಜವಾಹರ್‌ಲಾಲ್ ನೆಹರೂರವರ ಬಂಧನ
- (2) ಬ್ರಿಟಿಷ್ ಭಾರತದ ಮೇಲೆ ಭಾರತೀಯ ರಾಷ್ಟ್ರೀಯ ಸೈನ್ಯದ ಆಕ್ರಮಣ
- (3) ಭಾರತ ಸರ್ಕಾರದಿಂದ ಹೈದರಾಬಾದ್ ಮಾಂಡಲಿಕ ರಾಜ್ಯದ ಸ್ವಾಧೀನಪಡಿಸಿಕೊಳ್ಳುವಿಕೆ
- (4) ಪೋರ್ಚುಗೀಸರ ವಿರುದ್ಧ ಗೋವಾದ ಸ್ವಾತಂತ್ರ್ಯ ಹೋರಾಟ

70. In 1940, Mahatma Gandhi initiated limited Satyagraha on an individual basis because

- (1) He wanted to unite both, the left and right wings of the All India National Congress during the National Movement.
- (2) He wanted to express the symbolic opposition against the British rule as it was appeasing the Fascist powers in Europe.
- (3) He wanted to give the British rule a chance to peacefully accept the Indian demands of freedom and to immediately constitute an interim Indian government.
- (4) He wanted to provide his active support to the British rule to oppose the Fascist powers in Europe.

71. Who, among the following Urdu poets, was invited to the Second and Third Round Table Conferences ?

- (1) Faiz Ahmad Faiz
- (2) Josh Malihabadi
- (3) Muhammad Iqbal
- (4) Firaq Gorakhpuri

72. Which of the following is a wartime gallantry award ?

- (1) Ashok Chakra
- (2) Kirti Chakra
- (3) Vir Chakra
- (4) Shaurya Chakra

73. Which of the following Acts was described by Jawaharlal Nehru as the "New Charter of Slavery" ?

- (1) Government of India Act, 1919
- (2) Government of India Act, 1935
- (3) Pitt's India Act, 1784
- (4) Regulating Act, 1773

74. "Operation Polo" was related to which of the following ?

- (1) Arrest of Jawaharlal Nehru during the Quit India Movement
- (2) Invasion of Indian National Army over British India
- (3) Annexation of Hyderabad Princely State by the Government of India
- (4) Freedom struggle of Goa against the Portuguese

75. 1927 ರ ಬಟ್ಲರ್ ಸಮಿತಿಯ ಧ್ಯೇಯವು
- (1) ಭಾರತೀಯ ಸೈನ್ಯದ ಆಧುನೀಕರಣ.
 - (2) ಭಾರತೀಯ ಕೃಷಿಯ ಆಧುನೀಕರಣ.
 - (3) ರಾಷ್ಟ್ರೀಯ ಮುದ್ರಣಾಲಯದ ಮೇಲೆ ಸೆನ್ಸಾರ್‌ಷಿಪ್‌ನ ಹೇರಿಕೆ.
 - (4) ಭಾರತ ಸರ್ಕಾರ ಮತ್ತು ಭಾರತೀಯ ಮಾಂಡಲೀಕ ರಾಜ್ಯಗಳ ನಡುವಣ ಸಂಬಂಧವನ್ನು ಸುಧಾರಿಸುವುದು.

76. ಪಟ್ಟಿ I ರಲ್ಲಿನ ಪ್ರಮುಖ ದಿನಗಳನ್ನು ಪಟ್ಟಿ II ರಲ್ಲಿನ ದಿನಾಂಕಗಳೊಂದಿಗೆ ಸರಿ ಹೊಂದಿಸಿ :

ಪಟ್ಟಿ I (ಪ್ರಮುಖ ದಿನಗಳು)	ಪಟ್ಟಿ II (ದಿನಾಂಕಗಳು)
A. ವಿಶ್ವರೇಡ್ ಕ್ರಾಸ್ ದಿನ	I. 21 ನೇ ಜೂನ್
B. ಅಂತರರಾಷ್ಟ್ರೀಯ ಯೋಗ ದಿನ	II. 8 ನೇ ಮೇ
C. ಭಾರತದ ವಾಯುದಳ ದಿನ	III. 8 ನೇ ಸೆಪ್ಟೆಂಬರ್
D. ಅಂತರರಾಷ್ಟ್ರೀಯ ಸಾಕ್ಷರತೆ ದಿನ	IV. 8 ನೇ ಅಕ್ಟೋಬರ್
	V. 7 ನೇ ನವೆಂಬರ್

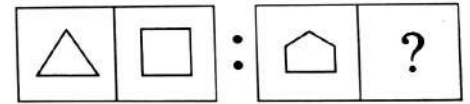
ಸಂಕೇತಗಳ ಸಹಾಯದಿಂದ ಸರಿ ಉತ್ತರಗಳನ್ನು ಆರಿಸಿ :

	A	B	C	D
(1)	I	II	IV	V
(2)	III	I	II	IV
(3)	II	I	IV	III
(4)	II	I	IV	V

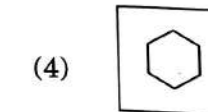
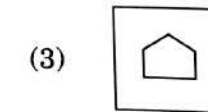
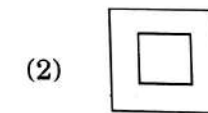
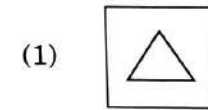
77. P, Q ಮತ್ತು R ರ ವಯಸ್ಸುಗಳ ಮೊತ್ತವು 50 ವರ್ಷಗಳು. 'Q' ನ ವಯಸ್ಸೇನು ?
- A. P ಯು Q ಗಿಂತ 10 ವರ್ಷ ದೊಡ್ಡವನು.
B. R 30 ವರ್ಷ ವಯಸ್ಸಿನವನು.
ಮೇಲಿನ ಪ್ರಶ್ನೆಗಳಲ್ಲಿ ಯಾವುದು ಪ್ರಶ್ನೆಗೆ ಉತ್ತರಿಸಲು ಸಾಕಷ್ಟು ದತ್ತಾಂಶವನ್ನು ಹೊಂದಿದೆ ? ಕೆಳಗೆ ನೀಡಿರುವ ಆಯ್ಕೆಗಳಿಂದ ಸರಿಯಾದ ಉತ್ತರಕ್ಕಾಗಿ ಸಂಕೇತವನ್ನಾರಿಸಿ :
- (1) ಪ್ರಶ್ನೆಗೆ ಉತ್ತರಿಸಲು ಕೇವಲ A ಹೇಳಿಕೆಯಲ್ಲಿನ ದತ್ತಾಂಶವೊಂದೇ ಸಾಕು.
 - (2) ಹೇಳಿಕೆ B ನಲ್ಲಿರುವ ಮಾಹಿತಿಯೊಂದೇ ಪ್ರಶ್ನೆಗೆ ಉತ್ತರಿಸಲು ಸಾಕಾಗುತ್ತದೆ.
 - (3) ಪ್ರಶ್ನೆಗಳಿಗೆ ಉತ್ತರಿಸಲು A ಮತ್ತು B ಗಳೆರಡೂ ಹೇಳಿಕೆಗಳ ಒಟ್ಟು ಮಾಹಿತಿಯು ಸಾಕಾಗುವುದಿಲ್ಲ.
 - (4) ಪ್ರಶ್ನೆಗಳಿಗೆ ಉತ್ತರಿಸಲು ಹೇಳಿಕೆಗಳಾದ A ಮತ್ತು B ಗಳೆರಡರಲ್ಲಿನ ಒಟ್ಟು ಮಾಹಿತಿಯು ಅವಶ್ಯಕವಾಗಿದೆ.

78. ಈ ಕೆಳಗಿನ ಸಮಸ್ಯೆಯ ಚಿತ್ರದಲ್ಲಿ ಪ್ರಶ್ನಾರ್ಥಕ ಚಿಹ್ನೆಯುಳ್ಳ (?) ಸ್ಥಳಕ್ಕೆ ಹೊಂದಿಕೆಯಾಗಬಲ್ಲ ಸರಿ ಚಿತ್ರವನ್ನು ಉತ್ತರದ ಚಿತ್ರಗಳಿಂದ ಆರಿಸಿ.

ಪ್ರಶ್ನೆ ಚಿತ್ರ :



ಸರಿಯಾದ ಆಯ್ಕೆಯನ್ನು ಆರಿಸಿ :



75. The object of the Butler Committee of 1927 was

- (1) To modernize the Indian Army.
- (2) To modernize Indian agriculture.
- (3) To impose censorship on national press.
- (4) To improve the relationship between the Government of India and Indian Princely States.

76. Match the Important Days (List I) with the Dates (List II) :

<i>List I</i> (Important Day)	<i>List II</i> (Date)
----------------------------------	--------------------------

- | | |
|-------------------------------|--------------------------------|
| A. World Red Cross Day | I. 21 st June |
| B. International Day of Yoga | II. 8 th May |
| C. Indian Air Force Day | III. 8 th September |
| D. International Literacy Day | IV. 8 th October |
| | V. 7 th November |

Select the code for the correct answer from the options given below :

- | | A | B | C | D |
|-----|----------|----------|----------|----------|
| (1) | I | II | IV | V |
| (2) | III | I | II | IV |
| (3) | II | I | IV | III |
| (4) | II | I | IV | V |

77. The sum of the ages of P, Q and R is 50 years. What is Q's age ?

- A. P is 10 years older than Q.
- B. R is 30 years old.

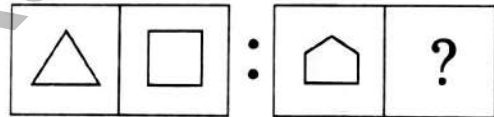
Which of the above statements contain sufficient data to answer the question ?

Select the code for the correct answer from the options given below :

- (1) The data in Statement A alone is sufficient to answer the question.
- (2) The data in Statement B alone is sufficient to answer the question.
- (3) The data given in both Statements A and B together is not sufficient to answer the question.
- (4) The data in both Statements A and B together is necessary to answer the question.

78. Find the correct figure from the answer figures that will replace the question mark (?) in the question figure.

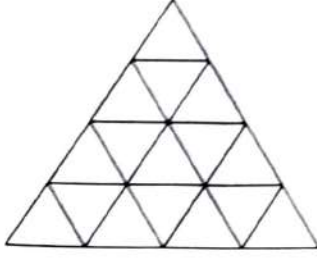
Question figure :



Select the correct option :

- (1)
- (2)
- (3)
- (4)

79. ಈ ಕೆಳಗಿನ ಚಿತ್ರದಲ್ಲಿ ಎಷ್ಟು ಸರಳ ರೇಖೆಗಳಿವೆ ?



- (1) 11
- (2) 12
- (3) 15
- (4) 48

80. ಈ ಕೆಳಗಿನ ಹೇಳಿಕೆಗಳನ್ನು ಪರಿಶೀಲಿಸಿ :

- A. ಅಜಯನು ರಾಹುಲ್ ಗಿಂತಲೂ ಹೆಚ್ಚು ಅಂಕಗಳನ್ನು ಗಳಿಸಿದ್ದಾನೆ.
- B. ರಾಹುಲ್ ನು ಮನೀಶ್ ಗಿಂತಲೂ ಕಡಿಮೆ ಅಂಕಗಳನ್ನು ಗಳಿಸಿದ್ದಾನೆ.
- C. ಮನೀಶ್ ನು ಅಜಯ್ ಗಿಂತಲೂ ಹೆಚ್ಚು ಅಂಕಗಳನ್ನು ಗಳಿಸಿದ್ದಾನೆ.
- D. ವಿಜಯ್ ನು ಅಜಯ್ ಗಿಂತಲೂ ಹೆಚ್ಚು ಅಂಕಗಳನ್ನು ಗಳಿಸಿದ್ದಾನೆ ಆದರೆ ಮನೀಶ್ ಗಿಂತಲೂ ಕಡಿಮೆ ಅಂಕಗಳನ್ನು ಗಳಿಸಿದ್ದಾನೆ.

ಮೇಲಿನ ಹೇಳಿಕೆಗಳ ಮೇರೆಗೆ ಯಾರು ಅತ್ಯಧಿಕ ಅಂಕಗಳನ್ನು ಗಳಿಸಿದ್ದಾರೆ ?

- (1) ಅಜಯ್
- (2) ರಾಹುಲ್
- (3) ಮನೀಶ್
- (4) ವಿಜಯ್

81. ಈ ಕೆಳಗಿನ ಪ್ರಶ್ನೆಯಲ್ಲಿ ಒಂದು ಹೇಳಿಕೆಯನ್ನು, A ಮತ್ತು B ಎಂಬ ಎರಡು ಊಹನೆಗಳು ಅನುಸರಿಸುತ್ತವೆ. ನೀವು ಹೇಳಿಕೆಯನ್ನು ಮತ್ತು ಅದನ್ನು ಸರಿಸುವ ಊಹನೆಗಳನ್ನು ಪರಿಗಣಿಸಬೇಕು ಮತ್ತು ಯಾವ ಊಹನೆಯು/ಗಳು ಹೇಳಿಕೆಯಲ್ಲಿ ಧ್ವನಿಸುತ್ತದೆ/ವೆ ಎಂಬುದನ್ನು ನಿರ್ಧರಿಸಿ.

ಹೇಳಿಕೆ : ರಾಜ್ಯ ಸರ್ಕಾರವು ನಾಲ್ಕು ಸಾವಿರ ಪ್ರಾಥಮಿಕ ಶಾಲೆಗಳ ಉಪಾಧ್ಯಾಯರನ್ನು ಮುಂದಿನ ಹಣಕಾಸಿನ ವರ್ಷದಲ್ಲಿ ನೇಮಕ ಮಾಡಲು ನಿರ್ಧರಿಸಿದೆ.

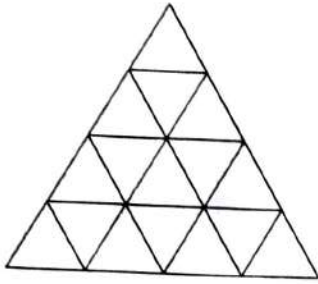
ಊಹನೆ A : ನಾಲ್ಕು ಸಾವಿರ ಹೆಚ್ಚುವರಿ ಉಪಾಧ್ಯಾಯರನ್ನು ಒಳಗೊಳ್ಳಲು ರಾಜ್ಯದಲ್ಲಿ ಸಾಕಷ್ಟು ಶಾಲೆಗಳಿವೆ.

ಊಹನೆ B : ಅರ್ಹ ವಿದ್ಯಾರ್ಥಿಗಳು ಅರ್ಜಿ ಸಲ್ಲಿಸಲು ಆಸಕ್ತಿ ಹೊಂದದಿರಬಹುದು ಅಥವಾ ಅಂತಿಮವಾಗಿ ಸರ್ಕಾರದಿಂದ ಅಷ್ಟು ಹೆಚ್ಚಿನ ಸಂಖ್ಯೆಯ ಪ್ರಾಥಮಿಕ ಶಾಲಾ ಉಪಾಧ್ಯಾಯರನ್ನು ನೇಮಿಸಲಾಗುವುದಿಲ್ಲ.

ನೀಡಿರುವ ಆಯ್ಕೆಗಳಲ್ಲಿ ಸರಿಯಾದ ಉತ್ತರಕ್ಕಾಗಿ ಸಂಕೇತವನ್ನಾರಿಸಿ :

- (1) A ಊಹನೆ ಮಾತ್ರ ಧ್ವನಿಸುತ್ತದೆ
- (2) B ಊಹನೆ ಮಾತ್ರ ಧ್ವನಿಸುತ್ತದೆ
- (3) A ಊಹನೆ ಮತ್ತು B ಊಹನೆಗಳೆರಡೂ ಧ್ವನಿಸುತ್ತವೆ
- (4) A ಊಹನೆ ಆಗಲೀ ಅಥವಾ B ಊಹನೆ ಆಗಲೀ ಧ್ವನಿಸುವುದಿಲ್ಲ.

79. How many straight lines are there in the following figure ?



- (1) 11
- (2) 12
- (3) 15
- (4) 48

80. Examine the following statements :

- A. Ajay scored more than Rahul.
- B. Rahul scored less than Manish.
- C. Manish scored more than Ajay.
- D. Vijay scored more than Ajay but less than Manish.

Who scored the highest according to the above statements ?

- (1) Ajay
- (2) Rahul
- (3) Manish
- (4) Vijay

81. In the question, a statement is followed by two assumptions A and B. You have to consider the statement and the following assumptions and decide which of the assumptions is/are implicit in the statement.

Statement : The State Government has decided to appoint four thousand primary school teachers during the next financial year.

Assumption A : There are enough schools in the State to accommodate four thousand additional primary school teachers.

Assumption B : The eligible students may not be interested to apply or the Government may not finally appoint such a large number of primary school teachers.

Select the code for the correct answer from the options given below :

- (1) Only Assumption A is implicit
- (2) Only Assumption B is implicit
- (3) Both Assumption A and Assumption B are implicit
- (4) Neither Assumption A nor Assumption B is implicit

82. ಪ್ರಕಾಶನಿಗೆ ಆಶೀಷನು ಹೇಳಿದನು
“ಫುಟ್‌ಬಾಲ್‌ನೊಂದಿಗೆ ಆಡುತ್ತಿರುವ ಆ ಹುಡುಗನು
ನನ್ನ ತಂದೆಯ ಪತ್ನಿಯ ಮಗಳ ಇಬ್ಬರು ಸೋದರರಲ್ಲಿ
ಕಿರಿಯವನು” ಫುಟ್‌ಬಾಲ್‌ನ್ನು ಆಡುತ್ತಿರುವ
ಹುಡುಗನು ಆಶೀಷ್‌ಗೆ ಯಾವ ರೀತಿಯಲ್ಲಿ
ಸಂಬಂಧ ಹೊಂದಿದ್ದಾನೆ ?

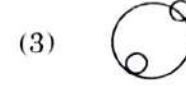

- (1) ಮಗ
- (2) ಸಹೋದರ
- (3) ಮೈದುನ /ಭಾವ/ಸೋದರಿಯ ಗಂಡ
- (4) ಚಿಕ್ಕಪ್ಪನ ಮಗ

83. ಈ ಕೆಳಗಿನ ಪ್ರಶ್ನೆಯಲ್ಲಿ, ನಿರ್ದಿಷ್ಟ ಸಂಖ್ಯೆಗಳನ್ನು ಉಳ್ಳ
ಒಂದು ಚಿತ್ರವನ್ನು ನೀಡಿದೆ. ಈ ಚಿತ್ರದಲ್ಲಿನ ಸಂಖ್ಯೆಗಳು
ಒಂದು ಸದೃಶ ನಮೂನೆಯನ್ನು ಅನುಸರಿಸುತ್ತವೆ
ಎಂದು ಭಾವಿಸಿ ಬಿಟ್ಟುಹೋಗಿರುವ ಸಂಖ್ಯೆಯನ್ನು
ಕಂಡುಹಿಡಿಯಿರಿ.

17	8	5	5
13	7	5	4
6	12	6	3
10	6	4	?

- (1) 4
- (2) 5
- (3) 6
- (4) 2

84. ಕೆಳಗಿನ ಯಾವ ರೇಖಾಚಿತ್ರಗಳು ಕರೆನ್ನಿ, ರೂಪಾಯಿ
ಮತ್ತು ಡಾಲರ್‌ಗಳ ನಡುವಣ ಸರಿಯಾದ
ಸಂಬಂಧವನ್ನು ಪ್ರತಿನಿಧಿಸುತ್ತವೆ ?



85. ಒಬ್ಬ ಬಾಲಕನು ಪ್ರಾತಃಕಾಲದಲ್ಲಿ ಮನೆಯಿಂದ
ಹೊರಡುತ್ತಾನೆ ಮತ್ತು ಸೂರ್ಯನಿಗಭಿಮುಖವಾಗಿ
ನೇರವಾಗಿ 8 ಕಿ.ಮೀ. ಗಳಷ್ಟು ನಡೆಯುತ್ತಾನೆ. ನಂತರ
ಅವನು ಬಲಕ್ಕೆ ತಿರುಗುತ್ತಾನೆ ಮತ್ತು 3 ಕಿ.ಮೀ. ಗಳಷ್ಟು
ನಡೆಯುತ್ತಾನೆ. ಪುನಃ ಬಲಕ್ಕೆ ತಿರುಗುತ್ತಾನೆ ಮತ್ತು
2 ಕಿ.ಮೀ. ಗಳಷ್ಟು ನಡೆಯುತ್ತಾನೆ ಮತ್ತು ನಂತರ
ಎಡಕ್ಕೆ ತಿರುಗುತ್ತಾನೆ ಹಾಗೂ 1 ಕಿ.ಮೀ. ನಡೆಯುತ್ತಾನೆ
ಪುನಃ ಬಲಕ್ಕೆ ತಿರುಗುತ್ತಾನೆ ಮತ್ತು 1 ಕಿ.ಮೀ.
ನಡೆಯುತ್ತಾನೆ. ಪುನಃ ಬಲಕ್ಕೆ ತಿರುಗುತ್ತಾನೆ ಮತ್ತು
ನೇರವಾಗಿ 4 ಕಿ.ಮೀ. ಗಳಷ್ಟು ನಡೆಯುತ್ತಾನೆ.
ಪ್ರಾರಂಭಿತ ಬಿಂದುವಿನಿಂದ ಅವನು ಎಷ್ಟು
ದೂರದಲ್ಲಿದ್ದಾನೆ ?

- (1) 5 ಕಿ.ಮೀ.
- (2) 6 ಕಿ.ಮೀ.
- (3) 2 ಕಿ.ಮೀ.
- (4) 4 ಕಿ.ಮೀ.

82. Ashish said to Prakash, "That boy playing with the football is the younger of the two brothers of the daughter of my father's wife." How is the boy playing football related to Ashish ?

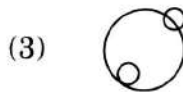
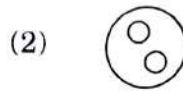
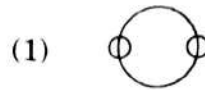
- (1) Son
- (2) Brother
- (3) Brother-in-law
- (4) Cousin

83. In the following question, a figure carrying certain numbers is given. Assuming that the numbers in the figure follow a similar pattern, find the missing number.

17	8	5	5
13	7	5	4
6	12	6	3
10	6	4	?

- (1) 4
- (2) 5
- (3) 6
- (4) 2

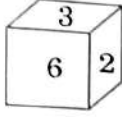
84. Which of the following diagrams represents the correct relationship between Currency, Rupee and Dollar ?



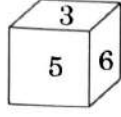
85. A boy starts from home early in the morning and walks straight for 8 km facing the Sun. Then he takes a right turn and walks for 3 km. Then he turns right again and walks for 2 km and then he turns left and walks for 1 km. Again he turns right and walks for 1 km. Then he turns right and walks for 4 km straight. How far is he from the starting point now ?

- (1) 5 km
- (2) 6 km
- (3) 2 km
- (4) 4 km

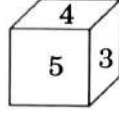
86. ಒಂದು ವಾಳದ ಮೂರು ಸ್ಥಾನಗಳನ್ನು ಕೆಳಗೆ ನೀಡಲಾಗಿದೆ :



A



B



C

6 ರ ಸಂಖ್ಯೆಯ ವಿರುದ್ಧಮುಖದ ಮೇಲಿನ ಸಂಖ್ಯೆ ಎಷ್ಟು ?

- (1) 1
- (2) 4
- (3) 5
- (4) 7

87. ಕೆಳಗಿನ ಬದಲಾವಣೆಗಳನ್ನು ಪರಿಗಣಿಸಿ :

- A. ಹಾಲು ಹೆಚ್ಚುಗಟ್ಟುವುದು
 - B. ಬಣ್ಣವು ಶುಷ್ಕಗೊಳ್ಳುವುದು (ಒಣಗುವುದು)
 - C. ಕರ್ಪೂರದ ಉತ್ಪತ್ತಿ
 - D. SO_2 ನಿಂದ SO_3 ಗೆ ಆಕ್ಸಿಡೀಕರಣಗೊಳ್ಳುವುದು
- ಮೇಲಿನವುಗಳಲ್ಲಿ ಯಾವುದು ರಾಸಾಯನಿಕ ಬದಲಾವಣೆಯಾಗಿದೆ ?

- (1) A, B ಮತ್ತು D ಮಾತ್ರ
- (2) A, C ಮತ್ತು D ಮಾತ್ರ
- (3) A, B, C ಮತ್ತು D
- (4) A, B ಮತ್ತು C ಮಾತ್ರ

88. ಈ ಕೆಳಗಿನ ಯಾವ ಪಂಚವಾರ್ಷಿಕ ಯೋಜನೆಯು 1977 - 78 ರಲ್ಲಿ ಜನತಾ ಪಕ್ಷದ ಸರ್ಕಾರದಿಂದ ಅಂತ್ಯಗೊಳಿಸಲ್ಪಟ್ಟಿತು ?

- (1) 4 ನೇ ಪಂಚವಾರ್ಷಿಕ ಯೋಜನೆ
- (2) 5 ನೇ ಪಂಚವಾರ್ಷಿಕ ಯೋಜನೆ
- (3) 7 ನೇ ಪಂಚವಾರ್ಷಿಕ ಯೋಜನೆ
- (4) 8 ನೇ ಪಂಚವಾರ್ಷಿಕ ಯೋಜನೆ

89. ಮೊಘಲರ ಆಸ್ಥಾನದಲ್ಲಿದ್ದ ಯಾರನ್ನು ತುರಾನಿನ್ ಎಂದು ಕರೆಯಲಾಗುತ್ತಿತ್ತು ?

- (1) ಇರಾಕ್‌ನಿಂದ ಬಂದವರನ್ನು
- (2) ಆಫ್ಘಾನಿಸ್ತಾನಕ್ಕೆ ಸೇರಿದವರನ್ನು
- (3) ಮಧ್ಯ ಏಷ್ಯಾ ಪ್ರದೇಶಗಳ ಮೂಲದಿಂದ ಬಂದವರನ್ನು
- (4) ಇರಾನ್‌ನಿಂದ ಬಂದವರನ್ನು

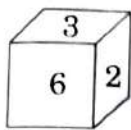
90. ಈ ಕೆಳಗಿನ ಯಾವುದರ ನಡುವೆ ಪಾಕ್ ಕೊಲ್ಲಿಯು ನೆಲೆಸಿದೆ ?

- (1) ಗಲ್ಫ್ ಆಫ್ ಕಚ್ ಮತ್ತು ಗಲ್ಫ್ ಆಫ್ ಖಿಂಭಾಟ್
- (2) ಗಲ್ಫ್ ಆಫ್ ಮನ್ನಾರ್ ಮತ್ತು ಬೇ ಆಫ್ ಬೆಂಗಾಲ್
- (3) ಲಕ್ಷದ್ವೀಪ್ ಮತ್ತು ಮಾಲ್ಡೀವ್ಸ್ ದ್ವೀಪಗಳು
- (4) ಅಂಡಮಾನ್ ಮತ್ತು ನಿಕೋಬಾರ್ ದ್ವೀಪಗಳು

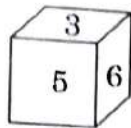
91. ಈ ಕೆಳಗಿನ ಯಾವ ಸ್ಥಳದಲ್ಲಿ ನವಿಲು ಅಭಯಧಾಮವು ಸ್ಥಾಪಿತವಾಗಿದೆ ?

- (1) ಮಂಡಗದ್ದೆ
- (2) ಮಾಗಡಿ
- (3) ಬೊನಲ್
- (4) ಬಂಕಾಪುರ

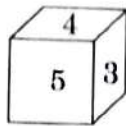
86. Three positions of a dice are given below :



A



B



C

What is the number on the face opposite to 6 ?

- (1) 1
- (2) 4
- (3) 5
- (4) 7

87. Consider the following changes :

- A. Curdling of milk
- B. Drying of paint
- C. Sublimation of camphor
- D. Oxidation of SO_2 to SO_3

Which of the above are chemical changes ?

- (1) A, B and D only
- (2) A, C and D only
- (3) A, B, C and D
- (4) A, B and C only

88. Which one of the following Five Year Plans was terminated by the Janata Party Government in 1977 - 78 ?

- (1) 4th Five Year Plan
- (2) 5th Five Year Plan
- (3) 7th Five Year Plan
- (4) 8th Five Year Plan

89. At the Mughal Court, who were known as Turanis ?

- (1) Those who came from Iraq
- (2) Those who belonged to Afghanistan
- (3) Those who hailed from regions of Central Asia
- (4) Those who came from Iran

90. The Palk Bay lies between which of the following ?

- (1) Gulf of Kutch and Gulf of Khambhat
- (2) Gulf of Mannar and Bay of Bengal
- (3) Lakshadweep and Maldives Islands
- (4) Andaman and Nicobar Islands

91. In which of the following places is the Peacock Sanctuary located ?

- (1) Mandagadde
- (2) Magadi
- (3) Bonal
- (4) Bankapura

92. ಈ ಕೆಳಗಿನ ಯಾವ ನದಿ ಮುಖಜ ಭೂಮಿಯಲ್ಲಿ ಭಟ್ಟಳ ಬಂದರು ನೆಲೆಯಾಗಿದೆ ?

- (1) ಸೀತಾನದಿ
- (2) ಶರಬಿ
- (3) ತಾಡ್ರಿ
- (4) ಶರಾವತಿ

93. ಹಣದುಬ್ಬರಕ್ಕೆ ಕೆಳಗಿನ ಯಾವುದು ಹೊಣೆಯಾಗುವುದಿಲ್ಲ ?

- (1) ಆರ್ಥಿಕತೆಯಲ್ಲಿನ ಹೆಚ್ಚುವರಿ ದ್ರವ್ಯ
- (2) ಜನರಿಂದ ಉಳಿತಾಯದಲ್ಲಿನ ಹೆಚ್ಚಳ
- (3) ಬ್ಯಾಂಕ್ ಸಾಲಗಳಲ್ಲಿನ ತೀವ್ರಗತಿಯ ವಿಸ್ತರಣೆ
- (4) ಸರ್ಕಾರದಿಂದ ಹೆಚ್ಚುವರಿಯಾಗಿ ಆದ ವೆಚ್ಚ

94. ವಿದ್ಯುತ್ ಉಪಕರಣವನ್ನು ಭೂ ಅಂತರ್ಗತ / ಸಂಪರ್ಕ (ಅರ್ಥ್) ಗೊಳಿಸುವುದು ಇದಕ್ಕಾಗಿ

- A. ಉಪಕರಣವನ್ನು ಯಾವುದೇ ಹಾನಿಗೊಳಗಾಗದಂತೆ ರಕ್ಷಿಸಲಿಕ್ಕಾಗಿ.
- B. ವಿದ್ಯುತ್ ಆಘಾತಗಳನ್ನು ತಡೆಯಲು.
- C. ಶಾರ್ಟ್‌ಸರ್ಕೀಟ್ ಆಗುವುದನ್ನು ತಡೆಯಲು.
- D. ಶಕ್ತಿಯ ಉಳಿತಾಯಕ್ಕಾಗಿ.

ಮೇಲಿನ ಹೇಳಿಕೆಗಳಲ್ಲಿ ಯಾವುದು/ವು ಸರಿ ?

ಕೆಳಗೆ ನೀಡಿರುವ ಆಯ್ಕೆಗಳಿಂದ ಸರಿಯಾದ ಉತ್ತರಕ್ಕಾಗಿ ಸಂಕೇತವನ್ನಾರಿಸಿ :

- (1) A ಮಾತ್ರ
- (2) B ಮಾತ್ರ
- (3) B ಮತ್ತು C ಮಾತ್ರ
- (4) C ಮತ್ತು D ಮಾತ್ರ

95. ಪಟ್ಟಿ I ರಲ್ಲಿನ ಪ್ರಸಿದ್ಧ ಸ್ಥಳಗಳನ್ನು ಪಟ್ಟಿ II ರಲ್ಲಿನ ಅವುಗಳ ಸಂಬಂಧ ಹೊಂದಿರುವ ಪ್ರಖ್ಯಾತ ವ್ಯಕ್ತಿಗಳೊಂದಿಗೆ ಸರಿ ಹೊಂದಿಸಿ :

ಪಟ್ಟಿ I (ಪ್ರಸಿದ್ಧ ಸ್ಥಳಗಳು)	ಪಟ್ಟಿ II (ಪ್ರಖ್ಯಾತ ವ್ಯಕ್ತಿಗಳು)
A. ಕೊರ್ನಿಕ್	I. ಅಲೆಕ್ಸಾಂಡರ್ ಮಹಾಶಯ
B. ಮ್ಯಾಸಿಡೋನಿಯಾ	II. ನೆಪೋಲಿಯನ್ ಬೋನಪಾರ್ಟ್
C. ಟ್ರಫಾಲ್ಗರ್	III. ನೆಲ್ಸನ್
D. ಮೆಕ್ಸಾ	IV. ಪ್ರವಾದಿ ಮೊಹಮ್ಮದ್

ಸಂಕೇತಗಳ ಸಹಾಯದಿಂದ ಸರಿ ಉತ್ತರಗಳನ್ನು ಆರಿಸಿ :

	A	B	C	D
(1)	I	II	III	IV
(2)	II	I	III	IV
(3)	II	I	IV	III
(4)	III	II	I	IV

96. ಈ ಕೆಳಗಿನವರಲ್ಲಿ ಯಾರು ಪ್ರತಿ ವರ್ಷವೂ ಅಧಿಕೃತವಾಗಿ ಭಾರತದ ಆರ್ಥಿಕ ಸಮೀಕ್ಷೆಯನ್ನು ಪ್ರಕಟಿಸುವರು ?

- (1) ಭಾರತದ ರಿಸರ್ವ್ ಬ್ಯಾಂಕ್
- (2) ಭಾರತದ ಯೋಜನಾ ಆಯೋಗ
- (3) ಭಾರತ ಸರ್ಕಾರದ ಹಣಕಾಸು ಮಂತ್ರಿಮಂಡಲ
- (4) ಭಾರತ ಸರ್ಕಾರದ ಕೈಗಾರಿಕಾ ಮಂತ್ರಿಮಂಡಲ

92. In which of the following river mouths is Bhatkal Port situated ?

- (1) Sitanadi
- (2) Sharabi
- (3) Tadri
- (4) Sharavathi

93. Which of the following is **not** responsible for inflation ?

- (1) Excess liquidity in the economy
- (2) Increased savings by the people
- (3) Rapid expansion of the bank credit
- (4) Excessive spending by the Government

94. An electrical appliance is earthed to

- A. prevent the appliance against any damage.
- B. prevent electric shocks.
- C. avoid short-circuiting.
- D. save energy.

Which of the statements given above is/are correct ?

Select the code for the correct answer from the options given below :

- (1) A only
- (2) B only
- (3) B and C only
- (4) C and D only

95. Match the Famous Places (List I) associated with the Eminent Personalities (List II) :

List I
(Famous Place)

List II
(Eminent Personality)

- | | |
|--------------|------------------------|
| A. Corsica | I. Alexander the Great |
| B. Macedonia | II. Napoleon Bonaparte |
| C. Trafalgar | III. Nelson |
| D. Mecca | IV. Prophet Mohammad |

Select the code for the correct answer from the options given below :

- | | A | B | C | D |
|-----|----------|----------|----------|----------|
| (1) | I | II | III | IV |
| (2) | II | I | III | IV |
| (3) | II | I | IV | III |
| (4) | III | II | I | IV |

96. The Economic Survey of India is published officially every year by which of the following ?

- (1) Reserve Bank of India
- (2) Planning Commission of India
- (3) Ministry of Finance, Government of India
- (4) Ministry of Industries, Government of India

97. ಪಟ್ಟಿ I ರಲ್ಲಿನ ಸ್ಮಾರಕಗಳನ್ನು ಪಟ್ಟಿ II ರಲ್ಲಿನ ಮನೆತನಗಳೊಂದಿಗೆ ಸರಿ ಹೊಂದಿಸಿ :

ಪಟ್ಟಿ I (ಸ್ಮಾರಕಗಳು)	ಪಟ್ಟಿ II (ಮನೆತನ)
A. ಅಲಾಯ್ ದರ್ವಾಜಿ	I. ಗುಲಾಮಿ ಮನೆತನ
B. ಹಾಜ್ ಖಾನ್	II. ಮೊಘಲ್ ಮನೆತನ
C. ಶಾಲೀಮಾರ್ ಬಾಗ್	III. ಖಿಲ್ಜಿ ಮನೆತನ
D. ಅಥಾಯಿ ದಿನ್ ಕಾ ರೋಪ್ಪಾ	IV. ತುಘಲಕ್ ಮನೆತನ
	V. ಲೋದಿ ಮನೆತನ

ಸಂಕೇತಗಳ ಸಹಾಯದಿಂದ ಸರಿ ಉತ್ತರಗಳನ್ನು ಆರಿಸಿ :

	A	B	C	D
(1)	I	III	II	V
(2)	III	IV	II	I
(3)	IV	III	I	II
(4)	III	IV	V	II

98. ಕೆಳಗಿನ ಕಾರ್ಯಕಾರಿಗಳನ್ನು ಪರಿಗಣಿಸಿ :

- ಕ್ಯಾಬಿನೆಟ್ ಕಾರ್ಯದರ್ಶಿ
 - ಮುಖ್ಯ ಚುನಾವಣಾ ಆಯುಕ್ತರು
 - ಕೇಂದ್ರ ಕ್ಯಾಬಿನೆಟ್ ಮಂತ್ರಿಗಳು
 - ಭಾರತದ ಮುಖ್ಯ ನ್ಯಾಯಾಧೀಶರು
- ಇವರುಗಳ ಅಗ್ರತೆಯ ಕ್ರಮದಲ್ಲಿನ ಸರಿಯಾದ ಶ್ರೇಣಿಯು :

- (1) C, D, B, A
- (2) D, C, A, B
- (3) D, C, B, A
- (4) C, D, A, B

99. ಮುಖ್ಯ ಮಾಹಿತಿ ಆಯುಕ್ತರ / ಮಾಹಿತಿ ಆಯುಕ್ತರು ಅಧಿಕಾರಾವಧಿಯು ಎಷ್ಟು?

- (1) ನಿಶ್ಚಿತವಾದ ಅವಧಿಯು ಇಲ್ಲ. ರಾಷ್ಟ್ರಾಧ್ಯಕ್ಷರು ಬಯಸುವವರೆಗೆ ಆಯುಕ್ತರು ಕಾರ್ಯನಿರ್ವಹಿಸಬಹುದು.
- (2) 5 ವರ್ಷಗಳ ಅವಧಿ ಅಥವಾ 65 ವರ್ಷ ವಯಸ್ಸಾಗುವವರೆಗೆ ಯಾವುದು ಮೊದಲೋ ಅಲ್ಲಿಯವರೆಗಿನ ಅವಧಿಗೆ ನೇಮಿಸಲಾಗುವುದು.
- (3) 3 ವರ್ಷಗಳ ಅವಧಿ ಅಥವಾ 65 ವರ್ಷ ವಯೋಮಿತಿಯವರೆಗೆ ಯಾವುದು ಮೊದಲೋ ಅಲ್ಲಿಯವರೆಗಿನ ಅವಧಿಗೆ ನೇಮಿಸಲಾಗುವುದು.
- (4) ಆಯುಕ್ತರು 70 ವರ್ಷಗಳ ವಯಸ್ಸನ್ನು ಮುಟ್ಟುವವರೆಗೆ ನೇಮಿಸಲಾಗುವುದು.

100. ಭಾರತದ ಪ್ರಥಮ ಗೌರ್ನರ್ ಜನರಲ್‌ನಾದ ವಾರನ್ ಹೇಸ್ಟಿಂಗ್‌ನು ದುರ್ನಡತೆಯ ಆಪಾದಿತನಾಗಿದ್ದು ಅವನ ವಿರುದ್ಧವಾಗಿ ಕೈಗೊಳ್ಳಲಾದ ಕ್ರಮವೇನು ?

- (1) ಅವನನ್ನು ಬ್ರಿಟನ್‌ಗೆ ಹಿಂದಿರುಗುವಂತೆ ಹೇಳಲಾಯಿತು.
- (2) ಅವನ ವಿರುದ್ಧವಾಗಿ ಖಂಡಿಸುವ ವ್ಯವಹಾರಗಳನ್ನು ಪ್ರಾರಂಭಿಸಲಾಯಿತು.
- (3) ಅವನು ಅಧಿಕ ಮೊತ್ತದ ದಂಡವನ್ನು ಪಾವತಿಸಲು ಹೇಳಲಾಯಿತು.
- (4) ಬ್ರಿಟಿಷ್ ಸಾಮ್ರಾಜ್ಯದಿಂದ ಕ್ಷಮೆಯಾಚಿಸಲು ಅವನಿಗೆ ಹೇಳಲಾಯಿತು.

97. Match the Monuments (List I) associated with the Dynasties (List II) :

<i>List I</i> (Monument)	<i>List II</i> (Dynasty)
A. Alai Darwaja	I. Slave Dynasty
B. Hauz Khas	II. Mughal Dynasty
C. Shalimar Bagh	III. Khilji Dynasty
D. Adhai Din Ka Jhopra	IV. Tughlaq Dynasty
	V. Lodi Dynasty

Select the code for the correct answer from the options given below :

	A	B	C	D
(1)	I	III	II	V
(2)	III	IV	II	I
(3)	IV	III	I	II
(4)	III	IV	V	II

98. Consider the following functionaries :

- A. Cabinet Secretary
- B. Chief Election Commissioner
- C. Union Cabinet Ministers
- D. Chief Justice of India

The correct sequence in the order of precedence is

- (1) C, D, B, A
- (2) D, C, A, B
- (3) D, C, B, A
- (4) C, D, A, B

99. What is the duration of the term of the Chief Information Commissioner / Information Commissioners ?

- (1) There is no fixed term. The Commissioners work till the pleasure of the President.
- (2) Appointed for a term of five years or till the age of 65, whichever is earlier.
- (3) Appointed for a term of three years or till the age of 65, whichever is earlier.
- (4) Appointed till the Commissioner reaches the age of 70 years.

100. The first British Governor General of India, Warren Hastings was accused of misconduct. What action was taken against him ?

- (1) He was asked to return to Britain.
- (2) Impeachment proceedings were started against him.
- (3) He was asked to pay a heavy fine.
- (4) He was asked to apologize to the British Empire.

DO NOT OPEN THIS QUESTION BOOKLET UNTIL YOU ARE ASKED TO DO SO

2018

Question Paper Version Code

QUESTION BOOKLET
GENERAL KNOWLEDGE (PAPER III)

B

SUBJECT CODE : 281

Time Allowed : $1\frac{1}{2}$ Hours

Maximum Marks : 100

INSTRUCTIONS

1. Immediately after the commencement of the Examination, you should check that this Question Booklet does NOT have any unprinted or torn or missing pages or questions etc. If so, get it replaced by a complete 'Question Booklet' of the same Question Paper Version Code as printed in your OMR Answer Sheet.
2. Candidate has to ensure that Question Paper Version Code of the Question Booklet given is same as the Question Paper Version Code printed on OMR Answer Sheet. Discrepancy, if any should be reported to the Invigilator and a new Question Booklet should be taken whose Question Paper Version Code tallies with the Question Paper Version Code printed on the OMR Answer Sheet.
3. You have to enter your Register Number in the Question Booklet in the box provided alongside. DO NOT write anything else on the Question Booklet.
4. This Question Booklet contains 100 questions. Each question contains four responses (answers). Select the response which you want to mark on the Answer Sheet. In case you feel that there is more than one correct response, mark the response which you consider the most appropriate. In any case, choose ONLY ONE RESPONSE for each question.
5. All the responses should be marked ONLY on the separate OMR Answer Sheet provided and ONLY in Black or Blue Ball Point Pen. See detailed instructions in the OMR Answer Sheet.
6. All questions carry equal marks. Attempt all questions. Your total marks will depend only on the number of correct responses marked by you in the Answer Sheet.
7. Sheets for rough work are appended in the Question Booklet at the end. You should not make any marking on any other part of the Question Booklet.
8. Immediately after the final bell indicating the conclusion of the examination, stop making any further markings in the OMR Answer Sheet. Be seated till the OMR Answer Sheets are collected and accounted for by the Invigilator.
9. Questions are printed both in Kannada and English. If any confusion arises in the Kannada Version, please refer to the English Version of the questions. Please note that in case of any confusion the English Version of the Question Booklet is final.

Register Number					

Possession of Mobile Phones, Calculators and other Electronic/Communication gadgets of any kind is prohibited inside the Examination venue.

ಗಮನಿಸಿ: ಸೂಚನೆಗಳ ಕನ್ನಡ ಆವೃತ್ತಿಯು ಈ ಪ್ರಶ್ನೆ ಪುಸ್ತಿಕೆಯ ಮುಂಭಾಗದಲ್ಲಿ ಮುದ್ರಿಸಲ್ಪಟ್ಟಿದೆ.