

**UPSC/KAS COMPETITIVE EXAMINATION-2019  
PROVISIONAL ANSWER KEYS**

**UPSC/KAS**

QNNO	Set-A	Set-B	Set-C	Set-D	Set-E	Set-F	Set-G	Set-H
1	B	D	C	B	A	C	D	D
2	C	C	A	D	B	A	B	C
3	B	B	D	B	B	A	C	C
4	D	C	B	D	B	A	D	D
5	A	A	C	C	C	C	C	B
6	C	D	A	B	B	B	A	C
7	A	C	C	C	C	A	D	B
8	B	C	B	B	D	C	A	D
9	C	D	D	A	D	D	B	B
10	A	B	B	B	B	C	C	C
11	B	C	C	B	B	A	C	B
12	C	B	D	B	D	A	D	C
13	A	D	C	C	D	C	A	A
14	C	B	A	B	C	B	B	A
15	B	C	D	B	A	D	B	A
16	D	B	A	B	D	B	D	C
17	C	C	B	D	B	D	C	B
18	B	A	C	A	C	C	A	A
19	C	A	C	B	A	B	B	C
20	A	A	D	B	C	C	C	D
21	D	C	A	B	B	B	B	C
22	C	B	B	C	D	A	D	A
23	C	A	B	B	B	B	A	A
24	D	C	D	C	C	B	C	C
25	B	D	C	D	D	B	A	B
26	C	C	A	D	C	C	B	D
27	B	A	B	B	A	B	C	B
28	D	A	C	B	D	B	A	D
29	B	C	B	D	A	B	B	C
30	C	B	D	D	B	D	C	B
31	B	D	A	C	C	A	A	C
32	C	B	C	A	C	B	C	B
33	A	D	A	D	D	B	B	A
34	A	C	B	B	A	B	D	B
35	A	B	C	C	B	C	C	B
36	C	C	A	A	B	B	B	B
37	B	B	B	C	D	C	C	C
38	A	A	C	B	C	D	A	B
39	C	B	A	D	A	D	D	B
40	D	B	C	B	B	B	C	B
41	C	B	B	C	C	B	C	D
42	A	C	D	D	B	D	D	A
43	A	B	C	C	D	D	B	B
44	C	B	B	A	A	C	C	B
45	B	B	C	D	C	A	B	B
46	D	D	A	A	A	D	D	C
47	B	A	D	B	B	B	B	B
48	D	B	C	C	C	C	C	C
49	C	B	C	C	A	A	B	D
50	B	B	D	D	B	C	C	D

QNNO	Set-A	Set-B	Set-C	Set-D	Set-E	Set-F	Set-G	Set-H
51	C	C	B	A	C	B	A	B
52	B	B	C	B	A	D	A	B
53	A	C	B	B	C	B	A	D
54	B	D	D	D	B	C	C	D
55	B	D	B	C	D	D	B	C
56	B	B	C	A	C	C	A	A
57	C	B	B	B	B	A	C	D
58	B	D	C	C	C	D	D	B
59	B	D	A	B	A	A	C	C
60	B	C	A	D	D	B	A	A
61	D	A	A	A	C	C	A	C
62	A	D	C	C	C	C	C	B
63	B	B	B	A	D	D	B	D
64	B	C	A	B	B	A	D	B
65	B	A	C	C	C	B	B	C
66	C	C	D	A	B	B	D	D
67	B	B	C	B	D	D	C	C
68	C	D	A	C	B	C	B	A
69	D	B	A	A	C	A	C	D
70	D	C	C	C	B	B	B	A
71	B	D	B	B	C	C	A	B
72	B	C	D	D	A	B	B	C
73	D	A	B	C	A	D	B	C
74	D	D	D	B	A	A	B	D
75	C	A	C	C	C	C	C	A
76	A	B	B	A	B	A	B	B
77	D	C	C	D	A	B	B	B
78	B	C	B	C	C	C	B	D
79	C	D	A	C	D	A	D	C
80	A	A	B	D	C	B	A	A
81	C	B	B	B	A	C	B	B
82	B	B	B	C	A	A	B	C
83	D	D	C	B	C	C	B	B
84	B	C	B	D	B	B	C	D
85	C	A	B	B	D	D	B	A
86	D	B	B	C	B	C	C	C
87	C	C	D	B	D	B	D	A
88	A	B	A	C	C	C	D	B
89	D	D	B	A	B	A	B	C
90	A	A	B	A	C	D	B	A
91	B	C	B	A	B	C	D	B
92	C	A	C	C	A	C	D	C
93	C	B	B	B	B	D	C	A
94	D	C	C	A	B	B	A	C
95	A	A	D	C	B	C	D	B
96	B	B	D	D	C	B	B	D
97	B	C	B	C	B	D	C	C
98	D	A	B	A	B	B	A	B
99	C	C	D	A	B	C	C	C
100	A	B	D	C	D	B	B	A

Objections, if any, should be submitted with justification through e-mail: keauthority-ka@nic.in (mail should be titled as UPSC/KAS-2019 - Objection - Version with attachment) on or before 16-09-2019 before 05.30 pm. While submitting the objections the subject, version code, question number should clearly be mentioned. Objections without justifications will not be considered.

## ಸ್ವರ್ಧಾತ್ಮಕ ಪರೀಕ್ಷೆ - 2019

ದಿನಾಂಕ	ವಿಷಯ	ಸಮಯ	ಗರಿಷ್ಠ ಅಂಕಗಳು	ಒಟ್ಟು ಅವಧಿ	ಉತ್ತರಿಸಲು ಇರುವ ಗರಿಷ್ಠ ಅವಧಿ
08-09-2019	ಸಾಮಾನ್ಯ ಅಧ್ಯಯನ (ಯುಪಿಎಸ್ಸಿ / ಕೆಎಎಸ್)	ಬೆ. 10.30 ರಿಂದ ಮ. 12.30 ರ ವರೆಗೆ	100	150 ನಿಮಿಷಗಳು	120 ನಿಮಿಷಗಳು
ನಿಮ್ಮ ನೊಂದಣಿ ಸಂಖ್ಯೆಯನ್ನು ಬರೆಯಿರಿ			ಪ್ರಶ್ನೆಪತ್ರಿಕೆಯ		
			ವರ್ಷನ್ ಕೋಡ್	ಕ್ರಮ ಸಂಖ್ಯೆ	
			A		

### ಮಾಡಿ

- ಓ.ಎಂ.ಆರ್ ಉತ್ತರ ಪತ್ರಿಕೆಯಲ್ಲಿ ಮತ್ತು ಪ್ರವೇಶ ಪತ್ರದಲ್ಲಿ ಮುದ್ರಿತವಾಗಿರುವ ನೊಂದಣಿ ಸಂಖ್ಯೆ ಮತ್ತು ಹೆಸರು ಒಂದೇ ಆಗಿದೆಯೆ ಎಂದು ಮತ್ತೊಮ್ಮೆ ದೃಢೀಕರಿಸಿಕೊಳ್ಳಿ. ವ್ಯತ್ಯಾಸವಿದ್ದಲ್ಲಿ ಕೊಠಡಿ ಮೇಲ್ವಿಚಾರಕರಿಗೆ ತಿಳಿಸಿ.
- ಕೊಠಡಿ ಮೇಲ್ವಿಚಾರಕರಿಂದ ಈ ಪ್ರಶ್ನೆ ಪತ್ರಿಕೆಯನ್ನು ನಿಮಗೆ 2ನೇ ಬೆಲ್ ಆದ ನಂತರ, ಅಂದರೆ ಬೆ. 10.25 ಆದ ನಂತರ ಕೊಡಲಾಗುವುದು.
- ನಿಮಗೆ ನೀಡಿರುವ ಪ್ರಶ್ನೆಪತ್ರಿಕೆಯ ಮತ್ತು ಓ.ಎಂ.ಆರ್ ಉತ್ತರ ಪತ್ರಿಕೆಯ ವರ್ಷನ್ ಕೋಡ್ ಒಂದೇ ಆಗಿರುವುದನ್ನು ಪರಿಶೀಲಿಸಿಕೊಳ್ಳಿ. ವ್ಯತ್ಯಾಸವಿದ್ದಲ್ಲಿ ಕೊಠಡಿ ಮೇಲ್ವಿಚಾರಕರಿಗೆ ತಿಳಿಸಿ.
- ಪ್ರಶ್ನೆ ಪತ್ರಿಕೆಯ ವರ್ಷನ್ ಕೋಡ್ ಮತ್ತು ಕ್ರಮ ಸಂಖ್ಯೆಯನ್ನು ನಾಮಿನಲ್ ರೋಲ್‌ನಲ್ಲಿ ತಪ್ಪಿಲ್ಲದೆ ಬರೆಯಬೇಕು.
- ಓ.ಎಂ.ಆರ್ ಉತ್ತರ ಪತ್ರಿಕೆಯ ಕೆಳಭಾಗದ ನಿಗದಿತ ಜಾಗದಲ್ಲಿ ಪೂರ್ಣ ಸಹಿ ಮಾಡಬೇಕು.

### ಮಾಡಬೇಡಿ

- ಓ.ಎಂ.ಆರ್ ಉತ್ತರ ಪತ್ರಿಕೆಯಲ್ಲಿ ಮುದ್ರಿತವಾಗಿರುವ ಟೈಪಿಂಗ್ ಮಾರ್ಕನ್ನು ತಿದ್ದಬಾರದು / ಹಾಳುಮಾಡಬಾರದು / ಅಳಿಸಬಾರದು.
- ಮೂರನೇ ಬೆಲ್ ಬೆ. 10.30 ಕ್ಕೆ ಆಗುತ್ತದೆ. ಅಲ್ಲಿಯವರೆಗೂ.
  - ಪ್ರಶ್ನೆ ಪತ್ರಿಕೆಯ ಬಲಭಾಗದಲ್ಲಿರುವ ಸೀಲ್ ಅನ್ನು ತೆಗೆಯಬಾರದು.
  - ಪ್ರಶ್ನೆ ಪತ್ರಿಕೆಯ ಒಳಗಡೆ ಇರುವ ಪ್ರಶ್ನೆಗಳನ್ನು ನೋಡಲು ಪ್ರಯತ್ನಿಸಬಾರದು
  - ಓ.ಎಂ.ಆರ್ ಉತ್ತರ ಪತ್ರಿಕೆಯಲ್ಲಿ ಉತ್ತರಿಸಲು ಪ್ರಾರಂಭಿಸಬಾರದು.

### ಅಭ್ಯರ್ಥಿಗಳಿಗೆ ಮುಖ್ಯ ಸೂಚನೆಗಳು

- ಪ್ರಶ್ನೆ ಪತ್ರಿಕೆಯಲ್ಲಿ ಒಟ್ಟು 100 ಪ್ರಶ್ನೆಗಳಿದ್ದು, ಪ್ರತಿ ಪ್ರಶ್ನೆಗೂ 4 ಬಹು ಆಯ್ಕೆ ಉತ್ತರಗಳು ಇರುತ್ತವೆ.
- ಮೂರನೇ ಬೆಲ್ ಅಂದರೆ ಬೆ. 10.30 ರ ನಂತರ ಪ್ರಶ್ನೆ ಪತ್ರಿಕೆಯ ಬಲಭಾಗದಲ್ಲಿರುವ ಸೀಲ್ ತೆಗೆದು ಈ ಪ್ರಶ್ನೆ ಪತ್ರಿಕೆಯಲ್ಲಿ ಯಾವುದೇ ಪುಟಗಳು ಮುದ್ರಿತವಾಗಿಲ್ಲದೇ ಇರುವುದು ಕಂಡು ಬಂದಲ್ಲಿ ಅಥವಾ ಹರಿದು ಹೋಗಿದ್ದಲ್ಲಿ ಅಥವಾ ಯಾವುದೇ ಪುಟಗಳು ಬಿಟ್ಟುಹೋಗಿದೆಯೇ ಎಂಬುದನ್ನು ಖಚಿತಪಡಿಸಿಕೊಂಡು, ಈ ರೀತಿ ಆಗಿದ್ದರೆ ಕೊಠಡಿ ಮೇಲ್ವಿಚಾರಕರಿಂದ ಪ್ರಶ್ನೆಪತ್ರಿಕೆಯನ್ನು ಬದಲಾಯಿಸಿಕೊಳ್ಳಿ ನಂತರ ಓ.ಎಂ.ಆರ್ ಉತ್ತರ ಪತ್ರಿಕೆಯಲ್ಲಿ ಉತ್ತರಿಸಲು ಪ್ರಾರಂಭಿಸುವುದು.
- ಮುಂದಿನ 120 ನಿಮಿಷಗಳಲ್ಲಿ
  - ಪ್ರತಿ ಪ್ರಶ್ನೆಯನ್ನು ಎಚ್ಚರಿಕೆಯಿಂದ ಓದಿ.
  - ಪ್ರತಿ ಪ್ರಶ್ನೆಯ ಕೆಳಗೆ ಕೊಟ್ಟಿರುವ ನಾಲ್ಕು ಬಹು ಆಯ್ಕೆಯ ಉತ್ತರಗಳಲ್ಲಿ ಸರಿಯಾದ ಉತ್ತರವನ್ನು ಆಯ್ಕೆ ಮಾಡಿ.
  - ಪ್ರಶ್ನೆ ಪತ್ರಿಕೆಯಲ್ಲಿನ ಪ್ರಶ್ನೆಗೆ ಅನುಗುಣವಾಗಿರುವ ಸರಿ ಉತ್ತರವನ್ನು ಓ.ಎಂ.ಆರ್ ಉತ್ತರ ಪತ್ರಿಕೆಯಲ್ಲಿ ಅದೇ ಕ್ರಮ ಸಂಖ್ಯೆಯ ಮುಂದೆ ನೀಡಿರುವ ಸಂಬಂಧಿಸಿದ ವೃತ್ತವನ್ನು ನೀಡಿ ಅಥವಾ ಕಪ್ಪು ಶಾಯಿಯ ಬಾಲ್ ಪಾಯಿಂಟ್ ಪೆನ್‌ನಿಂದ ಸಂಪೂರ್ಣ ತುಂಬುವುದು.

ಸರಿಯಾದ ಕ್ರಮ CORRECT METHOD	ತಪ್ಪು ಕ್ರಮಗಳು WRONG METHODS									
(A) ● (C) (D)	⊗ (B) (C) (D) (A) (B) (C) (D) (A) ● ● (D)									
(A) ● (C) (D)	⊗ (B) (C) (D) (A) ● (C) (D)									

- ಈ ಓ.ಎಂ.ಆರ್ ಉತ್ತರ ಪತ್ರಿಕೆಯನ್ನು ಸ್ಟ್ಯಾನ್ ಮಾಡುವ ಸ್ಟ್ಯಾನ್ ಬಹಳ ಸೂಕ್ಷ್ಮವಾಗಿದ್ದು ಸಣ್ಣ ಗುರುತನ್ನು ಸಹ ದಾಖಲಿಸುತ್ತದೆ. ಆದ್ದರಿಂದ ಓ.ಎಂ.ಆರ್ ಉತ್ತರ ಪತ್ರಿಕೆಯಲ್ಲಿ ಉತ್ತರಿಸುವಾಗ ಎಚ್ಚರಿಕೆ ವಹಿಸಿ.
- ಪ್ರಶ್ನೆ ಪತ್ರಿಕೆಯಲ್ಲಿ ಕೊಟ್ಟಿರುವ ಖಾಲಿ ಜಾಗವನ್ನು ರಫ್ ಕೆಲಸಕ್ಕೆ ಉಪಯೋಗಿಸಿ. ಓ.ಎಂ.ಆರ್ ಉತ್ತರ ಪತ್ರಿಕೆಯನ್ನು ಇದಕ್ಕೆ ಉಪಯೋಗಿಸಬೇಡಿ.
- ಕೊನೆಯ ಬೆಲ್ ಅಂದರೆ ಮ. 12.30 ಆದ ನಂತರ ಉತ್ತರಿಸುವುದನ್ನು ನಿಲ್ಲಿಸಿ. ನಿಮ್ಮ ಎಡಗೈ ಹೆಬ್ಬರಳ ಗುರುತನ್ನು ನಿಗದಿತ ಜಾಗದಲ್ಲಿ ಹಾಕಿ.
- ಓ.ಎಂ.ಆರ್ ಉತ್ತರ ಪತ್ರಿಕೆಯನ್ನು ಕೊಠಡಿ ಮೇಲ್ವಿಚಾರಕರಿಗೆ ಯಥಾಸ್ಥಿತಿಯಲ್ಲಿ ನೀಡಿ.
- ಕೊಠಡಿ ಮೇಲ್ವಿಚಾರಕರು ಮೇಲ್ಭಾಗದ ಹಾಳೆಯನ್ನು ಪ್ರತ್ಯೇಕಿಸಿ (ಕೆಎಎ ಪ್ರತಿ) ತನ್ನ ವಶದಲ್ಲಿ ಇಟ್ಟುಕೊಂಡು ತಳಬದಿಯ ಯಥಾಪ್ರತಿಯನ್ನು (Candidate's Copy) ಅಭ್ಯರ್ಥಿಗಳಿಗೆ ಸ್ವಯಂ ಮೌಲ್ಯಮಾಪನಕ್ಕಾಗಿ ಮನೆಗೆ ಕೊಂಡೊಯ್ಯಲು ಕೊಡುತ್ತಾರೆ.
- ಉತ್ತರ ಪತ್ರಿಕೆಯ ನಕಲನ್ನು ಒಂದು ವರ್ಷ ಕಾಲ ಸುರಕ್ಷಿತವಾಗಿ ಇಡಿ.
- ಪ್ರತಿ ತಪ್ಪು ಉತ್ತರಗಳಿಗೆ 0.25 ಅಂಕಗಳನ್ನು ಕಳೆಯಲಾಗುವುದು.

**ಸೂಚನೆ:** ಕನ್ನಡ ಆವೃತ್ತಿಯ ಪ್ರಶ್ನೆಗಳಲ್ಲಿ ಉತ್ತರಿಸುವ ಅಭ್ಯರ್ಥಿಗಳಿಗೆ ಕನ್ನಡದಲ್ಲಿ ಮುದ್ರಿತವಾಗಿರುವ ಪ್ರಶ್ನೆಗಳ ಬಗ್ಗೆ ಏನಾದರೂ ಸಂದೇಹವಿದ್ದಲ್ಲಿ ಇಂಗ್ಲೀಷ್ ಆವೃತ್ತಿಯ ಪ್ರಶ್ನೆಪತ್ರಿಕೆಯನ್ನು ನೋಡಬಹುದು. ಏನಾದರೂ ವ್ಯತ್ಯಾಸ ಕಂಡುಬಂದಲ್ಲಿ ಇಂಗ್ಲೀಷ್ ಆವೃತ್ತಿಯನ್ನು ಅಂತಿಮ ಎಂದು ಪರಿಗಣಿಸಲಾಗುವುದು.



1. ಈ ಕೆಳಗಿನ ಯಾವ ವಿಧಿ ಮತ್ತು ವಿಷಯವನ್ನು ಸರಿಯಾಗಿ ಹೊಂದಿಕೆಯಾಗುವುದಿಲ್ಲ ?  
 (A) ಅಸ್ಪೃಶ್ಯತೆಯ ನಿಷೇಧ - ವಿಧಿ 17  
 (B) ಬಿರುದುಗಳನ್ನು ರದ್ದುಪಡಿಸುವುದು - ವಿಧಿ 19  
 (C) ಕಾನೂನಿನ ಎದುರು ಸಮಾನತೆ - ವಿಧಿ 14  
 (D) ರಾಜ್ಯದಿಂದ ಎಲ್ಲಾ ರೀತಿಯ ತಾರತಮ್ಯಗಳ ನಿಷೇಧ - ವಿಧಿ 15
2. ಮತದಾನದ ವಯಸ್ಸನ್ನು 21 ರಿಂದ 18 ಕ್ಕೆ ಇಳಿಸಿದ 61 ನೇ ಸಂವಿಧಾನಿಕ ತಿದ್ದುಪಡಿಯನ್ನು ಯಾವಾಗ ಜಾರಿಗೆ ತರಲಾಯಿತು ?  
 (A) 1985  
 (B) 1987  
 (C) 1988  
 (D) 1989
3. ಸಂವಿಧಾನ ರಚನಾ ಸಭೆಯಲ್ಲಿ ಎಷ್ಟು ಮಹಿಳಾ ಸದಸ್ಯರಿದ್ದರು ?  
 (A) 10  
 (B) 15  
 (C) 20  
 (D) 25
4. ಪಂಜಾಬ್‌ನ ಫಲವತ್ತಾದ ಬಯಲಿಗೆ ಐದು ನದಿಗಳಾದ ಝಿಲಂ, ಚೀನಾಬ್, ರಾವಿ, ಬಿಯಾಸ್, ಮತ್ತು ಸತ್ಲೆಜ್ ನದಿಗಳು ನೀರುಣಿಸುತ್ತವೆ. ಈ ನದಿಗಳು ಕೆಳಗಿನ ಯಾವ ನದಿಯ ಉಪನದಿಗಳಾಗಿವೆ ?  
 (A) ಗಂಗಾ  
 (B) ಯಮುನಾ  
 (C) ಬ್ರಹ್ಮಪುತ್ರಾ  
 (D) ಸಿಂಧೂ
5. 1922 ರಲ್ಲಿ ಸಿಂಧ್‌ನ ಮೊಹಂಜೊದಾರೊನಲ್ಲಿ ಮುದ್ರೆಯನ್ನು ಪತ್ತೆ ಮಾಡಿದವರು  
 (A) ಆರ್.ಡಿ. ಬ್ಯಾನರ್ಜಿ  
 (B) ಸರ್ ಆರ್ ಜಿ ಭಂಡಾರ್ಕರ್  
 (C) ಡಾ. ಎ. ಫೋರ್ಡ್  
 (D) ರಾಜೇಂದ್ರಲಾಲ್ ಮಿತ್ರಾ
6. 'ರಾಜರ ನದಿ' ಎಂಬ ಅರ್ಥವಿರುವ 'ರಾಜತರಂಗಿಣಿ' ಅನ್ನು ಬರೆದ ಕಾವ್ಯೀರದ ಕವಿ  
 (A) ಕಾಳಿದಾಸ  
 (B) ಬಾಣ  
 (C) ಕಲ್ಹಣ  
 (D) ಬರಾನಿ
7. 'ದ ಕ್ರೌನ್ ಆಫ್ ಎಕ್ಸ್‌ಪ್ಲಾಯ್ಡ್' ಎಂದು ಸಹ ಕರೆಯಲಾಗುವ 'ತಜುಲ್ ಮಾಸಿರ್' ಬರೆದವರು  
 (A) ಹಸನ್ ನಿರ್ದೂಮಿ  
 (B) ಅಬ್ದುಲ್ ಫಜ್ಲ್  
 (C) ಉತ್ತಿ  
 (D) ಅಲ್‌ಬರೂನಿ
8. ಸುಲ್ತಾನ್ ಫಿರೋಜ್ ಶಾ ತುಘಲಕ್ ಬರೆದ 32 ಪುಟಗಳ ಆತ್ಮಕಥನ ಬರಹ  
 (A) ತಾರಿಖ್ ಇ ಫಿರೋಜ್ ಶಾಹಿ  
 (B) ಫುತುಹತ್ ಇ ಫಿರೋಜ್ ಶಾಹಿ  
 (C) ತಬಖತ್ ಇ ನಾಸಿರಿ  
 (D) ಇವುಗಳಲ್ಲಿ ಯಾವುದೂ ಅಲ್ಲ

Space For Rough Work

1. Which of the following pair of Articles and provision is NOT correctly matched ?
- (A) Abolishing Untouchability - Article 17  
(B) Abolishing titles of honour - Article 19  
(C) Equality before law - Article 14  
(D) Prohibition of all kinds of discrimination by the state. - Article 15
2. The 61<sup>st</sup> Constitutional Amendment which lowered the voting age from 21 to 18 was enacted in
- (A) 1985  
(B) 1987  
(C) 1988  
(D) 1989
3. How many women members were there in the Constituent Assembly ?
- (A) 10  
(B) 15  
(C) 20  
(D) 25
4. The fertile plain of Punjab is watered by five rivers, the Jhelum, Chenab, Ravi, Beas and Sutluj. They are the tributaries of \_\_\_\_\_
- (A) Ganga  
(B) Yamuna  
(C) Brahmaputra  
(D) Indus
5. In the year 1922, the seals at Mohenjodaro in Sind was discovered by
- (A) R.D. Banerji  
(B) Sir. R.G. Bhandarkar  
(C) Dr. A. Ghosh  
(D) Rajendralal Mitra
6. 'Rajatarangini', which means "River of Kings" was written by the Kashmiri poet \_\_\_\_\_
- (A) Kalidasa  
(B) Bana  
(C) Kalhana  
(D) Barani
7. 'Tajul Maasir', also known as 'The Crown of Exploits' was written by
- (A) Hasan Nizami  
(B) Abul Fazl  
(C) Utbi  
(D) Alberuni
8. An autobiographical writing of 32 pages by Sultan Firoze Shah Tughlaq was \_\_\_\_\_
- (A) Tarikh-i Firoze Shahi  
(B) Futuhat-i Firoze Shahi  
(C) Tabaqat-i Nasiri  
(D) None of these

Space For Rough Work

9. ಗಾಂಧಿಯವರು ದಕ್ಷಿಣ ಆಫ್ರಿಕಾದಲ್ಲಿ ತಮ್ಮ ಸತ್ಯಾಗ್ರಹ ಪ್ರಾರಂಭಿಸಿದ್ದು ಈ ದಿನದಂದು  
 (A) 30 ಜೂನ್, 1914  
 (B) 1 ನವೆಂಬರ್, 1913  
 (C) ಮಾರ್ಚ್ 14, 1913  
 (D) ಆಗಸ್ಟ್ 4, 1914

10. 1875 ರಲ್ಲಿ ಆರ್ಯ ಸಮಾಜವು ಇವರಿಂದ ಸ್ಥಾಪಿತವಾಯಿತು  
 (A) ದಯಾನಂದ ಸರಸ್ವತಿ  
 (B) ರಾಜಾರಾಂ ಮೋಹನ್ ರಾಯ್  
 (C) ಆರ್.ಎಲ್. ದತ್  
 (D) ಹರ್‌ದಯಾಳ್

11. ದೇಶಬಂಧು ಎನ್ನುವ ಹೆಸರು ಯಾವ ವ್ಯಕ್ತಿಗೆ ಸಂಬಂಧಿಸಿ ಜನಪ್ರಿಯವಾಗಿದೆ ?  
 (A) ದಯಾನಂದ ಸರಸ್ವತಿ  
 (B) ಚಿತ್ತರಂಜನ್ ದಾಸ್  
 (C) ಹೆನ್ರಿ ಡಿರೋಜಿಯ  
 (D) ಆರ್ ಸಿ. ದತ್

12. ದಕ್ಷಿಣ ಮಲಬಾರ್‌ನ ಮುಸ್ಲಿಂ ಗೇಣಿದಾರರು ಮತ್ತು ಸಾಗುವಳಿದಾರರು ಈ ಹೆಸರಿನಿಂದ ಜನಪ್ರಿಯರಾಗಿದ್ದರು  
 (A) ಕೈರಾ  
 (B) ಸಂತಾಲ್  
 (C) ಮೋಘಾಗಳು  
 (D) ಇವುಗಳಲ್ಲಿ ಯಾವುದೂ ಅಲ್ಲ

13. ಎ.ಓ. ಹ್ಯೂಮ್ ಅವರ ಪ್ರಯತ್ನಗಳಿಂದ ಭಾರತೀಯ ರಾಷ್ಟ್ರೀಯ ಕಾಂಗ್ರೆಸ್ ಸ್ಥಾಪನೆಗೊಂಡಿದ್ದು ಈ ವರ್ಷದಲ್ಲಿ  
 (A) 1885  
 (B) 1883  
 (C) 1900  
 (D) 1905

14. ವಸತಿ ನಿಲಯಗಳಲ್ಲಿ ತಂಗಿ ಶಿಕ್ಷಣ ಪಡೆಯಲು ಆಗದೇ ಇರುವ ಹಿಂದುಳಿದ ವರ್ಗಗಳ ವಿದ್ಯಾರ್ಥಿಗಳಿಗೆ ಪ್ರತಿ ತಿಂಗಳಿಗೆ ರೂ. 1500 ಅನ್ನು ವಸತಿ ಮತ್ತು ಆಹಾರ ವೆಚ್ಚವಾಗಿ ನೀಡುವ ಕರ್ನಾಟಕ ಸರ್ಕಾರದ ಉಪಕ್ರಮವು ಈ ಕೆಳಗಿನವುಗಳಲ್ಲಿ ಯಾವುದಾಗಿದೆ ?  
 (A) ಋಣಮುಕ್ತ ಭಾಗ್ಯ  
 (B) ಕ್ಷೀರಧಾರೆ  
 (C) ವಿದ್ಯಾಸಿರಿ  
 (D) ಗುಡಿಸಲು ಮುಕ್ತ ರಾಜ್ಯ

15. ಯಾವ ಇ - ವಾಣಿಜ್ಯ ಸಂಸ್ಥೆಯು ಎಂಎಸ್‌ಎಂಇ ಗಳನ್ನು ಸಬಲೀಕರಣಗೊಳಿಸಲು ಮಾರಾಟಗಾರರ ಹಣಕಾಸಿನ ಸಹಾಯದ ಕಾರ್ಯಕ್ರಮ 'ಗ್ರೋಥ್ ಕ್ಯಾಪಿಟಲ್' ಅನ್ನು ಮರುವಿನ್ಯಾಸಗೊಳಿಸಿದೆ ?  
 (A) ಸ್ವಾಪ್‌ಡೀಲ್  
 (B) ಫಿಫ್‌ಕಾರ್ಟ್  
 (C) ಅಮೆರಿಯಾನ್  
 (D) ಮಿಂಟ್ರಾ

Space For Rough Work

9. Gandhi started his satyagraha campaign in South Africa on  
(A) 30<sup>th</sup> June, 1914  
(B) 1<sup>st</sup> November, 1913  
(C) March 14<sup>th</sup>, 1913  
(D) August 4<sup>th</sup>, 1914
10. Arya Samaj was founded in the year 1875 by  
(A) Dayanand Saraswati  
(B) Raja Ram Mohan Roy  
(C) R.L. Dutt  
(D) Har Dayal
11. Deshbandhu was the name popularly referred to  
(A) Dayanand Saraswati  
(B) Chittaranjan Das  
(C) Henry Derozio  
(D) R.C. Dutt
12. The Muslim leaseholders and cultivators of South Malabar were popularly known as  
(A) Kaira  
(B) Santhal  
(C) Moplahs  
(D) None of these
13. The Indian National Congress by the efforts of A.O. Hume was founded in the year  
(A) 1885  
(B) 1883  
(C) 1900  
(D) 1905
14. Which of the following is an initiative of Karnataka Government that provides accommodation and food charges of ₹ 1500 per month to students of backward classes who cannot afford to stay in hostels to continue their education?  
(A) Runamukta Bhagya  
(B) Ksheera Dhaare  
(C) Vidya Siri  
(D) Hut-Free State
15. Which E-Commerce firm has revamped seller financing program 'Growth Capital' to empower MSMEs?  
(A) Snapdeal  
(B) Flipkart  
(C) Amazon  
(D) Myntra

Space For Rough Work

16. ಕೆಳಗಿನ ಹೇಳಿಕೆಗಳನ್ನು ಗಮನಿಸಿ.
1. ಭಾರತ ಸರ್ಕಾರವು ಕ್ಲೌಡ್ ಕಂಪ್ಯೂಟಿಂಗ್ ಅನ್ನು ಒಳಸುವ ಹಾಗೂ ಅದರ ಪ್ರಯೋಜನಗಳನ್ನು ಪಡೆಯುವ ಉದ್ದೇಶದಿಂದ ಜಿಐ - ಕ್ಲೌಡ್ ಎಂಬ ಉಪಕ್ರಮವನ್ನು ಪ್ರಾರಂಭಿಸಿದೆ.
  2. ಜಿಐ - ಕ್ಲೌಡ್ ಉಪಕ್ರಮವು ಮೇಘರಾಜ್ ಎಂಬ ಹೆಸರನ್ನು ಸಹ ಹೊಂದಿದೆ.
  3. ಅದು ದೇಶದಲ್ಲಿ ಇ-ಸೇವೆಗಳನ್ನು ತ್ವರಿತವಾಗಿ ನೀಡುವುದಕ್ಕೆ ಒತ್ತು ನೀಡುತ್ತದೆ.
  4. ಜಿಐ - ಕ್ಲೌಡ್ ಉಪಕ್ರಮವನ್ನು 2018 ರಲ್ಲಿ ಪ್ರಾರಂಭಿಸಲಾಯಿತು.

ಮೇಲಿನವುಗಳಲ್ಲಿ ಯಾವ ಹೇಳಿಕೆ/ಹೇಳಿಕೆಗಳು ಸರಿ ?

- (A) 1 ಮತ್ತು 4 ಮಾತ್ರ
- (B) 1, 2 ಮತ್ತು 4 ಮಾತ್ರ
- (C) 1 ಮತ್ತು 3 ಮಾತ್ರ
- (D) 1, 2 ಮತ್ತು 3 ಮಾತ್ರ

17. ಆಧಾರ್ ಪ್ರಯೋಜನಗಳನ್ನು ಕುರಿತು ಕೆಳಗಿನ ಹೇಳಿಕೆಗಳನ್ನು ಗಮನಿಸಿ.

- (i) ಪ್ರಧಾನಮಂತ್ರಿ ಜನ್ ಧನ್ ಯೋಜನೆಯು ಬ್ಯಾಂಕ್ ಖಾತೆ ತೆರೆಯಲು ಆಧಾರ್ ಕಾರ್ಡ್ ಅನ್ನು ಏಕ ಮಾತ್ರ ದಾಖಲೆ ಎಂದು ಸ್ವೀಕರಿಸುತ್ತದೆ.
- (ii) ಪಿಂಚಣಿದಾರರು ತಮ್ಮ ಆಧಾರ್ ಕಾರ್ಡ್ ಅನ್ನು ಆನ್‌ಲೈನ್‌ನಲ್ಲಿ ಗಣಕೀಕೃತ ಜೀವಿತ ಪ್ರಮಾಣಪತ್ರ ಪಡೆಯಲು ಬಳಸಬಹುದು.

ಈ ಹೇಳಿಕೆ/ಹೇಳಿಕೆಗಳ ಪೈಕಿ ಯಾವುದು/ವು ಸರಿ ?

- (A) (ii) ಮಾತ್ರ
- (B) (i) ಮಾತ್ರ
- (C) (i) ಮತ್ತು (ii)
- (D) (i) ಮತ್ತು (ii) ರ ಪೈಕಿ ಯಾವುದೂ ಅಲ್ಲ

18. 'SWAYATT' ಎಂಬುದು ಕೆಳಗಿನ ಯಾವುದಕ್ಕೆ ತೆಗೆದುಕೊಂಡ ಉಪಕ್ರಮವಾಗಿದೆ.

- (i) ಗವರ್ನಮೆಂಟ್ ಇ - ಮಾರ್ಕೆಟ್ ಪ್ಲೇಸ್‌ನಲ್ಲಿ ಇ - ವ್ಯವಹಾರದ ಮೂಲಕ ಮಹಿಳೆಯರು ಮತ್ತು ಯುವಕರ ಅನುಕೂಲಕ್ಕೆ ಸೌಲಭ್ಯಗಳನ್ನು ಸೃಷ್ಟಿಸುವುದು.
  - (ii) ನವೋದ್ಯಮಗಳನ್ನು ಪ್ರೋತ್ಸಾಹಿಸುವುದು.
- (A) (ii) ಮಾತ್ರ
  - (B) (i) ಮತ್ತು (ii)
  - (C) (i) ಮಾತ್ರ
  - (D) (i) ಮತ್ತು (ii) ರಲ್ಲಿ ಯಾವುದೂ ಅಲ್ಲ

19. ಪ್ರಪಂಚದ ಬೃಹತ್, ಬಹುಹಂತದ, ವಿವಿಧೋದ್ದೇಶ ಯೋಜನೆಯಾದ ಕಾಲೆಶ್ವರಂ ಏತ ನೀರಾವರಿ ಯೋಜನೆಯನ್ನು (ಕೆಎಲ್ಐಪಿ) ಎಲ್ಲಿ ಉದ್ಘಾಟಿಸಲಾಯಿತು ?

- (A) ವಯನಾಡ್, ಕೇರಳ
- (B) ಕಡಪಾ, ಆಂಧ್ರ ಪ್ರದೇಶ
- (C) ಮೇದಿಗಡ್ಡ, ತೆಲಂಗಾಣ
- (D) ಬಳ್ಳಾರಿ, ಕರ್ನಾಟಕ

20. ಕೇಂದ್ರ ಸಚಿವ ಸಂಪುಟವು 'ವಿಲೀನ ಯೋಜನೆ' ಗೆ ಅನುಮತಿ ನೀಡಿದ ಹಿನ್ನೆಲೆಯಲ್ಲಿ ಯಾವ ಮೂರು ಬ್ಯಾಂಕ್‌ಗಳು ಏಪ್ರಿಲ್ 2019 ರಲ್ಲಿ ವಿಲೀನಗೊಂಡವು ?

- (A) ಬ್ಯಾಂಕ್ ಆಫ್ ಬರೋಡ, ವಿಜಯ ಬ್ಯಾಂಕ್, ದೇನಾ ಬ್ಯಾಂಕ್
- (B) ಬ್ಯಾಂಕ್ ಆಫ್ ಬರೋಡ, ಯೂನಿಯನ್ ಬ್ಯಾಂಕ್ ಮತ್ತು ದೇನಾ ಬ್ಯಾಂಕ್
- (C) ಬ್ಯಾಂಕ್ ಆಫ್ ಬರೋಡ, ಯುನೈಟೆಡ್ ಬ್ಯಾಂಕ್ ಆಫ್ ಇಂಡಿಯ ಮತ್ತು ದೇನಾ ಬ್ಯಾಂಕ್
- (D) ಬ್ಯಾಂಕ್ ಆಫ್ ಬರೋಡ, ಪಂಜಾಬ್ ನ್ಯಾಷನಲ್ ಬ್ಯಾಂಕ್ ಮತ್ತು ವಿಜಯ ಬ್ಯಾಂಕ್

Space For Rough Work

16. Consider the following statements :

1. In order to utilise and harness the benefits of cloud computing, Government of India has launched an initiative 'GI-Cloud'.
2. 'GI-Cloud' initiative is also named as Meghraj.
3. It focusses to accelerate delivery of e-services in the country.
4. "GI-Cloud" initiative was launched in the year 2018.

- (A) 1 and 4 only  
(B) 1, 2 and 4 only  
(C) 1 and 3 only  
(D) 1, 2 and 3 only

17. Consider the following statements on AADHAAR benefits :

- (i) Pradhan Mantri Jan Dhan Yojana accepts Aadhaar Card as the only document sufficient to open the bank account.
- (ii) Pensioners can use their Aadhaar Card Number online to get a digital life certificate.

Which of the statements are correct ?

- (A) (ii) only  
(B) (i) only  
(C) both (i) and (ii)  
(D) neither (i) nor (ii)

18. SWAYATT is an initiative to

- (i) Creating facilities for women and youth advantage through e-transaction on govt. e-market place.
  - (ii) Promote start-ups.
- (A) (ii) only  
(B) (i) and (ii)  
(C) (i) only  
(D) Neither (i) nor (ii)

19. Where was the World's largest multi-stage, multi-purpose scheme Kaleshwaram Lift Irrigation Project (KLIP) inaugurated ?

- (A) Wayanad, Kerala  
(B) Cuddapah, Andhra Pradesh  
(C) Medigadda, Telangana  
(D) Bellary, Karnataka

20. Which of the three banks were merged in April, 2019 as per the Union Cabinet's approval given to 'scheme of amalgamation' ?

- (A) Bank of Baroda, Vijaya Bank and Dena Bank.  
(B) Bank of Baroda, Union Bank and Dena Bank.  
(C) Bank of Baroda, United Bank of India and Dena Bank.  
(D) Bank of Baroda, Punjab National Bank and Vijaya Bank.

Space For Rough Work



21. 2019 ರ ಫೆಬ್ರವರಿ ತಿಂಗಳಲ್ಲಿ ಪ್ರಾರಂಭಿಸಲಾದ ಕೆಳಗಿನ ಯೋಜನೆಗಳ ಪೈಕಿ ಯಾವುದು ಸಮಗ್ರ ಜೈವಿಕ ಇಥನಾಲ್ ಯೋಜನೆಗಳಿಗೆ ಮತ್ತು ಇತರ ನವೀಕರಿಸಬಹುದಾದ ಕಚ್ಚಾ ಸಾಮಗ್ರಿಗೆ ಆರ್ಥಿಕ ಸಹಾಯ ನೀಡುತ್ತದೆ ?

- (A) ಪ್ರಧಾನಮಂತ್ರಿ ಶ್ರಮ ಯೋಜನೆ ಮಾನ್ ಧನ್ ಯೋಜನೆ
- (B) ಪ್ರಧಾನಮಂತ್ರಿ ಜನ್ ಧನ್ ಯೋಜನೆ
- (C) ಪ್ರಧಾನಮಂತ್ರಿ ಮುದ್ರಾ ಯೋಜನೆ
- (D) ಪ್ರಧಾನಮಂತ್ರಿ ಜೀ - ವನ್ ಯೋಜನೆ

22. ಕರ್ನಾಟಕ ಸರ್ಕಾರವು ತನ್ನ 2018-19 ನೇ ಸಾಲಿನ ಆಯವ್ಯಯದಲ್ಲಿ ಶೂನ್ಯ ಬಡ್ಡಿದರ/ ಸಹಾಯಧನದ ಮೂಲಕ ಸಾಲದ ರೂಪದಲ್ಲಿ ಆರ್ಥಿಕ ಸಹಾಯ ಮಾಡುವ ಮೂಲಕ ಮಹಿಳೆಯರನ್ನು ಮತ್ತು ಸ್ವಸಹಾಯ ಗುಂಪುಗಳನ್ನು ಸಬಲೀಕರಣಗೊಳಿಸಲು ಒಂದು ಯೋಜನೆಯನ್ನು ಪ್ರಾರಂಭಿಸಿದೆ. ಈ ಯೋಜನೆಯ ಹೆಸರೇನು ?

- (A) ಜೀವನ ಪ್ರಮಾಣ
- (B) ಭಾಗ್ಯ ಲಕ್ಷ್ಮಿ
- (C) ಕರ್ನಾಟಕ ಕಾಯಕ ಯೋಜನೆ
- (D) ಉನ್ನತಿ

### COMPREHENSION

Gandhiji had to travel by train from Durban to Pretoria in connection with his job. Once while travelling by train, he was asked by the white passengers to leave the first class compartment. He refused to do so. Thereafter

he was pushed forcibly out of the compartment and his luggage was thrown on the platform. It was winter and he kept shivering all night. He did not go to the waiting room because the white men sleeping there might insult him further. This event was a turning point in the life Gandhiji and he decided to stay back in South Africa and fight against this blatant injustice.

23. The white people asked Gandhiji to abandon the first class compartment because

- (A) they wanted to annoy him.
- (B) they wanted to average themselves on Gandhi.
- (C) they treated Indians as inferior to them.
- (D) they were looking for a change to talk to him.

24. Why was he thrown out of the compartment ? Because

- (A) he misbehaved with the whites.
- (B) they wanted him to spend the night in the waiting room.
- (C) they wanted to insult him.
- (D) he refused to shift to the van compartment.

25. Choose the word which is most SIMILAR in meaning of the word given in below as used in the passage.

### Blatant

- (A) Diplomatic
- (B) Offensive
- (C) Defensive
- (D) Polite

Space For Rough Work

21. Which of the following schemes launched in Feb. 2019 provides financial support to integrated bio-ethanol projects and other renewable feedstock ?

- (A) Pradhan Mantri Shram Yogi Maandhan Yojana.
- (B) Pradhan Mantri Jan Dhan Yojana.
- (C) Pradhan Mantri Mudra Yojana.
- (D) Pradhan Mantri JI-VAN Yojana.

22. Karnataka Government in its budget of 2018-19, has launched a scheme to empower women and self help groups by providing financial assistance in the form of zero interest/subsidised loans. What is the name of the scheme ?

- (A) Jeevan Praman
- (B) Bhagyalakshmi
- (C) Karnataka Kayaka Yojana
- (D) Unnati

### COMPREHENSION

Gandhiji had to travel by train from Durban to Pretoria in connection with his job. Once while travelling by train, he was asked by the white passengers to leave the first class compartment. He refused to do so. Thereafter he was pushed forcibly out of the compartment and his luggage was thrown on

the platform. It was winter and he kept shivering all night. He did not go to the waiting room because the white men sleeping there might insult him further. This event was a turning point in the life of Gandhiji and he decided to stay back in South Africa and fight against this blatant injustice.

23. The white people asked Gandhiji to abandon the first class compartment because

- (A) they wanted to annoy him.
- (B) they wanted to avenge themselves on Gandhiji.
- (C) they treated Indians as inferior to them.
- (D) they were looking for a change to talk to him.

24. Why was he thrown out of the compartment ? Because

- (A) he misbehaved with the whites.
- (B) they wanted him to spend the night in the waiting room.
- (C) they wanted to insult him.
- (D) he refused to shift to the van compartment.

25. Choose the word which is most SIMILAR in meaning of the word given in below as used in the passage.

#### Blatant

- (A) Diplomatic
- (B) Offensive
- (C) Defensive
- (D) Polite

Space For Rough Work

26. Choose the word which is most OPPOSITE in meaning of the word given below as used in passage ?

Refuse

- (A) Reject
- (B) Disapprove
- (C) Accept
- (D) Decline

27. "Once, while travelling by train"... In this sentence, which parts of speech does the word, 'Once' belong to

- (A) Verb
- (B) Adverb
- (C) Pronoun
- (D) None of these

28. 'ಹಂಗುಲ್' ಯೋಜನೆ ಕುರಿತ ಕೆಳಗಿನ ಹೇಳಿಕೆಗಳನ್ನು ಗಮನಿಸಿ.

1. ಕಾಶ್ಮೀರದ ಗಂಡು ಜಿಂಕೆಗೆ 'ಹಂಗುಲ್' ಎನ್ನುವರು.
2. ಹಿಮಾಲಯದ ರಾಜ್ಯಗಳಲ್ಲಿ ಕಂಡು ಬರುವ ಹಿಮಚಿರತೆಗೆ ಹಂಗುಲ್ ಎನ್ನುವರು.
3. ಐದು ಹಿಮಾಲಯದ ರಾಜ್ಯಗಳಲ್ಲಿ ಕೇವಲ 750 ಹಿಮಚಿರತೆಗಳು ವಾಸಿಸುತ್ತವೆಂದು ನಂಬಲಾಗಿದೆ.
4. ಹಂಗುಲ್/ಕಾಶ್ಮೀರದ ಗಂಡು ಜಿಂಕೆಯು ಜಮ್ಮು ಕಾಶ್ಮೀರದ ರಾಜ್ಯ ಪ್ರಾಣಿ.

ಮೇಲಿನ ಯಾವ ಹೇಳಿಕೆ/ಹೇಳಿಕೆಗಳು ಸರಿ ?

- (A) 1 ಮಾತ್ರ
- (B) 2 ಮತ್ತು 3 ಮಾತ್ರ
- (C) 2 ಮತ್ತು 4 ಮಾತ್ರ
- (D) 1 ಮತ್ತು 4 ಮಾತ್ರ

29. ಭಾರತದಲ್ಲಿ 2009-10 ರಲ್ಲಿ ಕೆಳಗಿನ ಯಾವ ಪ್ರಾಣಿಯನ್ನು 'ರಾಷ್ಟ್ರೀಯ ಪರಂಪರೆ ಪ್ರಾಣಿ' ಎಂದು ಘೋಷಿಸಲಾಯಿತು ?

- (A) ಒಂಟಿ ಕೊಂಬಿನ ಖಡ್ಗಮೃಗ
- (B) ಆನೆ
- (C) ಆಲಿವ್ ರಿಡ್ಡೆ ಆಮೆ
- (D) ಹಿಮಚಿರತೆ

30. ಜೀವಿಗಳ ಜೈವಿಕ ಅಂತಃಕ್ರಿಯೆಯಲ್ಲಿ ಒಂದು ಜೀವ ಪ್ರಭೇದವು ಪ್ರಯೋಜನ ಪಡೆದು ಮತ್ತೊಂದಕ್ಕೆ ಯಾವುದೇ ಬಾಧೆ ಆಗದಿದ್ದಲ್ಲಿ ಅದನ್ನು ಹೀಗೆ ಕರೆಯಲಾಗುತ್ತದೆ ?

- (A) ಪರಸ್ಪರಾವಲಂಬನೆ
- (B) ತಟಸ್ಥತೆ
- (C) ಸಹಜೀವನ
- (D) ಸ್ಪರ್ಧೆ

31. ಜೈವಿಕ ಆಮ್ಲಜನಕ ಬೇಡಿಕೆ (ಬಿಓಡಿ) ಎನ್ನುವುದು ಯಾವುದಕ್ಕೆ ಪ್ರಮಾಣಿತ ಮಾನದಂಡವಾಗಿದೆ ?

- (A) ರಕ್ತದಲ್ಲಿನ ಆಮ್ಲಜನಕದ ಮಟ್ಟ ಅಳೆಯುವುದು
- (B) ಅರಣ್ಯ ಆಧಾರಿತ ಜೀವಿಪರಿಸರ ವ್ಯವಸ್ಥೆಯಲ್ಲಿನ ಆಮ್ಲಜನಕದ ಮಟ್ಟವನ್ನು ಅಳತೆ ಮಾಡುವುದು
- (C) ಜಲಾವಾರ ಜೀವಿಪರಿಸರ ವ್ಯವಸ್ಥೆಯಲ್ಲಿನ ಮಾಲಿನ್ಯದ ವಿಶ್ಲೇಷಣೆ ಮಾಡುವುದು
- (D) ಎತ್ತರದ ಪ್ರದೇಶಗಳಲ್ಲಿನ ಆಮ್ಲಜನಕದ ಮಟ್ಟವನ್ನು ಅಳತೆ ಮಾಡುವುದು

Space For Rough Work

31

26. Choose the word which is most OPPOSITE in meaning of the word given below as used in passage :

Refuse

- (A) Reject  
(B) Disapprove  
(C) Accept  
(D) Decline
27. "Once, while travelling by train..." In this sentence, which parts of speech does the word, 'Once' belong to ?
- (A) Verb  
(B) Adverb  
(C) Pronoun  
(D) None of these

28. Consider the following statements on project Hangul.

1. The Kashmiri stag is called Hangul.
2. The Snow Leopard found in Himalayan States is called Hangul.
3. It is believed that about only 750 Snow Leopards live in 5 Himalayan States.
4. Hangul/Kashmiri stag is the state animal of Jammu and Kashmir.

Which statement/s is/are true ?

- (A) 1 only  
(B) 2 and 3 only  
(C) 2 and 4 only  
(D) 1 and 4 only

29. Which of the following animals was declared as 'National Heritage Animal' in 2009-10 in India ?

- (A) One Horn-Rhinos  
(B) Elephant  
(C) Olive Ridley turtle  
(D) Snow Leopard

30. The biotic interaction between the organisms in which one species/organism is benefitted while the other is unaffected is known as \_\_\_\_\_.

- (A) Mutualism  
(B) Neutralism  
(C) Commensalism  
(D) Competition

31. Biological Oxygen Demand (BOD) is a Standard Criterion for

- (A) measuring oxygen levels in blood.  
(B) computing oxygen levels in forest ecosystem.  
(C) pollution assay in aquatic ecosystems.  
(D) assessing oxygen levels in high altitude regions.

Space For Rough Work

32. ಬೇಟೆಗಾರ ಪ್ರಾಣಿಗಳಿಂದ ರಕ್ಷಿಸಿಕೊಳ್ಳಲು ಒಂದು ಪ್ರಾಣಿ ಅಥವಾ ಜೀವಪ್ರಬೇಧವು ಮತ್ತೊಂದು ಪ್ರಾಣಿ ಅಥವಾ ಜೀವಪ್ರಬೇಧವನ್ನು ಹೋಲುವ ಹೊಂದಾಣಿಕೆಗೆ ಹೀಗೆ ಕರೆಯುವರು.

- (A) ಮರಮಾಚುವಿಕೆ
- (B) ವಲಸೆ
- (C) ಅನುಕರಣೆ
- (D) ಸ್ವಲೀನತೆ

33. ಆಕ್ರಮಣಕಾರಿ ಸೋಂಕಿಗೆ ಕಾರಣವಾಗಿ ಹೆಚ್ಚು ಜೀವಗಳನ್ನು ಬಲಿ ತೆಗೆದುಕೊಳ್ಳುವ ಬಹು ಔಷಧಿ ನಿರೋಧಕವಾಗಿರುವ ಯಾವ ಯೀಸ್ಟ್‌ನ ಕುರಿತಂತೆ ಐಸಿಎಂಆರ್ ಇತ್ತೀಚೆಗೆ ಮಾರ್ಗದರ್ಶಿ ಸೂತ್ರಗಳನ್ನು ಹೊರಡಿಸಿದೆ ?

- (A) ಕ್ಯಾಂಡಿಡಾ ಔರಿಸ್
- (B) ಕ್ಯಾಂಡಿಡಾ ಡಬ್ಲಿನಿಯನ್ಸ್
- (C) ಕ್ಯಾಂಡಿಡಾ ಗ್ಲಬ್ರಾಟಾ
- (D) ಕ್ಯಾಂಡಿಡಾ ಕ್ರುಸಿಯ

34. ಗೋಧಿಯನ್ನು ಚೆನ್ನಾಗಿ ಬೆಳೆಯಲು ಈ ಕೆಳಗಿನ ಯಾವ ಪ್ರಾಕೃತಿಕ ಸ್ಥಿತಿಗಳ ಜೋಡಿಯು ಅವಶ್ಯಕ ಆಗಿರುತ್ತದೆ ?

- (A) ಸಾಧಾರಣ ಉಷ್ಣತೆ ಮತ್ತು ಸಾಧಾರಣ ಮಳೆ
- (B) ಹೆಚ್ಚು ಉಷ್ಣತೆ ಮತ್ತು ಭಾರೀ ಮಳೆ
- (C) ಹೆಚ್ಚು ಉಷ್ಣತೆ ಮತ್ತು ಸಾಧಾರಣ ಮಳೆ
- (D) ಕಡಿಮೆ ಉಷ್ಣತೆ ಮತ್ತು ಕಡಿಮೆ ಮಳೆ

35. ಈ ಕೆಳಗಿನ ಯಾವುದು ಒಂದು ಪ್ರದೇಶದ ಜೀವ ವೈವಿಧ್ಯಕ್ಕೆ ಗಂಡಾಂತರಕಾರಿಯಾಗಬಹುದು ?

- (A) ಜಾಗತಿಕ ತಾಪಮಾನ ಹೆಚ್ಚಳ
- (B) ಆವಾಸಸ್ಥಾನದ ವಿಘಟನೆ
- (C) ಅನ್ಯಗ್ರಹವಾಸಿಗಳ ಆಕ್ರಮಣ
- (D) ಸಸ್ಯಾಹಾರವನ್ನು ಪ್ರಚುರಪಡಿಸುವುದು

36. 'ಸಮಗ್ರ ಜಲಾನಯನ ಅಭಿವೃದ್ಧಿ ಯೋಜನೆ' ಯ ಜಾರಿಯಿಂದ ಆಗುವ ಪ್ರಯೋಜನಗಳೇನು ?

1. ಮಣ್ಣಿನ ಕೊಚ್ಚಣೆಯನ್ನು ತಡೆಗಟ್ಟುವುದು
  2. ದೇಶದ ನಿರಂತರ ಹರಿಯುವ ನದಿಗಳನ್ನು ಕೆಲ ಕಾಲ ಮಾತ್ರ ಹರಿಯುವ ನದಿಗಳೊಂದಿಗೆ ಜೋಡಿಸುವುದು
  3. ಮಳೆ ನೀರು ಕೊಯ್ಲು ಮತ್ತು ಅಂತರ್ಜಲ ಮಟ್ಟ ಹೆಚ್ಚಿಸುವುದು
  4. ಸ್ವಾಭಾವಿಕ ಸಸ್ಯವರ್ಗದ ಪುನರ್ರಸೃಷ್ಟಿ ಕೆಳಗಿನ ಸಂಕೇತಗಳನ್ನು ಬಳಸಿ ಸರಿ ಉತ್ತರ ಆಯ್ಕೆ ಮಾಡಿ.
- (A) 1 ಮತ್ತು 2 ಮಾತ್ರ
  - (B) 2, 3 ಮತ್ತು 4 ಮಾತ್ರ
  - (C) 1, 3 ಮತ್ತು 4 ಮಾತ್ರ
  - (D) 1, 2, 3 ಮತ್ತು 4

37. ಈ ಕೆಳಗಿನ ಲೇಖಕರ ಪೈಕಿ ಯಾರು ಬುಕರ್ ಪ್ರಶಸ್ತಿಯನ್ನು ಎರಡು ಸಲ ಪಡೆದಿದ್ದಾರೆ ?

- (A) ಮಾರ್ಗರೆಟ್ ಆಟ್ವುಡ್
- (B) ಜೆ.ಎಂ. ಕೋಟ್ಟಿ
- (C) ಗ್ರಹಾಂ ಸ್ವಿಫ್ಟ್
- (D) ನ್ಯೂಯಾರ್ಕ್

38. ಕೆಳಗಿನ ಹೇಳಿಕೆಗಳನ್ನು ಗಮನಿಸಿ.

1. ಇಂಗ್ಲಿಷ್‌ನಲ್ಲಿ ಮಹಿಳೆ ಬರೆದ ಪ್ರಕಟಿಸಿದ ಕಾದಂಬರಿಗೆ ಆರೇಂಜ್ ಬಹುಮಾನ ನೀಡಲಾಗುತ್ತದೆ.
2. ಪುಲಿಟ್ಜರ್ ಪ್ರಶಸ್ತಿಯನ್ನು ಕಾಮನ್ವೆಲ್ತ್ ಪ್ರತಿಷ್ಠಾನವು ಯಾವುದೇ ಕಾಮನ್ವೆಲ್ತ್ ದೇಶದ ನಾಗರಿಕರೊಬ್ಬರಿಗೆ ಇಂಗ್ಲಿಷ್‌ನಲ್ಲಿ ಬರೆದ ಯಾವುದೇ ಸಾಹಿತ್ಯ ಪ್ರಕಾರಕ್ಕಾಗಿ ನೀಡಲಾಗುತ್ತದೆ.

ಮೇಲಿನ ಹೇಳಿಕೆಗಳಲ್ಲಿ ಯಾವುದು/ವು ಸರಿ ?

- (A) 1 ಮಾತ್ರ
- (B) 2 ಮಾತ್ರ
- (C) 1 ಮತ್ತು 2
- (D) 1 ಅಲ್ಲ, 2 ಅಲ್ಲ

Space For Rough Work

37

38

32. The adaptation in which, an animal (a species) resembles another as means of protection against predators is known as
- Camouflage
  - Migration
  - Mimicry
  - Autism
33. ICMR has recently issued guidelines for which multi-drug resistant yeast, reported to cause invasive infection with high mortality ?
- Candida auris
  - Candida dubliniensis
  - Candida glabrata
  - Candida krusei
34. Which one of the following sets of conditions is necessary for a good cultivation of wheat ?
- Moderate temperature and moderate rainfall.
  - High temperature and heavy rainfall.
  - High temperature and moderate rainfall.
  - Low temperature and low rainfall.
35. Which of the following can be a threat to the biodiversity of a region ?
- Global warming
  - Fragmentation of habitat
  - Invasion of alien
  - Promotion of vegetarianism
36. What are the benefits of implementing the 'Integrated Watershed Development Programme' ?
- Prevention of soil run off.
  - Linking the country's perennial rivers with seasonal rivers.
  - Rainwater harvesting and recharge of groundwater table.
  - Regeneration of natural vegetation.
- Select the correct answer using the code given below :
- 1 and 2 only
  - 2, 3 and 4 only
  - 1, 3 and 4 only
  - 1, 2, 3 and 4
37. Which of the following authors won the Booker Prize twice ?
- Margaret Atwood
  - J.M. Coetzee
  - Graham Swift
  - New York
38. Consider the following statements :
- Orange Prize is awarded to a work of published fiction in English by a woman.
  - Pulitzer Prize is awarded by the Common Wealth Foundation to a citizen of any Common Wealth country for any literary work in English.
- Which of the statements given above is/are correct ?
- 1 only
  - 2 only
  - Both 1 and 2
  - Neither 1 nor 2

Space For Rough Work

39. ಕೆಳಗಿನವುಗಳಲ್ಲಿ ಗಮನಿಸಿ.

1. ಮಹಾತ್ಮ ಗಾಂಧಿಯವರ 125 ನೇ ಜನ್ಮ ದಿನಾಚರಣೆಯನ್ನು ಸ್ಮರಣೀಯವಾಗಿಸಲು ಅಂತರರಾಷ್ಟ್ರೀಯ ಗಾಂಧಿ ಶಾಂತಿ ಪ್ರಶಸ್ತಿಯನ್ನು 1995 ರಲ್ಲಿ ಭಾರತ ಸರ್ಕಾರದಿಂದ ಪ್ರಾರಂಭಿಸಲಾಯಿತು.
2. ಮೇಲಿನ ಪ್ರಶಸ್ತಿಯು ರೂ. 10 ಮಿಲಿಯನ್ ನಗದು, ಫಲಕ ಹಾಗೂ ಪ್ರಶಂಸಾ ಪತ್ರ ಒಳಗೊಂಡಿದೆ.
3. ಜರ್ಮನಿಯ ಗೆರ್ಹಾರ್ಡ್ ಫಿಶರ್ ಅವರು 1995 ರಲ್ಲಿ ಈ ಪ್ರಶಸ್ತಿಯನ್ನು ಪ್ರಥಮ ಬಾರಿಗೆ ಸ್ವೀಕರಿಸಿದರು.
4. 2018 ರಲ್ಲಿ ಈ ಪ್ರಶಸ್ತಿಯನ್ನು ಜಪಾನಿನ ಯೋಹೆ ಸಸಾಕವಾ ಅವರು ಭಾರತದಲ್ಲಿನ ಕುಷ್ಮರೋಗ ನಿರ್ಮೂಲನೆಗಾಗಿ ನೀಡಿದ ಕೊಡುಗೆಗಾಗಿ ಪಡೆದಿದ್ದಾರೆ.

ಮೇಲಿನ ಹೇಳಿಕೆಗಳಲ್ಲಿ ಯಾವುದು ಸರಿ ?

- (A) 1 ಮತ್ತು 4 ಮಾತ್ರ
- (B) 1 ಮತ್ತು 3 ಮಾತ್ರ
- (C) 1, 2 ಮತ್ತು 4 ಮಾತ್ರ
- (D) 1, 3 ಮತ್ತು 4 ಮಾತ್ರ

40. ಜುಲೈ ತಿಂಗಳಲ್ಲಿ ಯುರೋಪ್‌ನಲ್ಲಿ ಐದು ಚಿನ್ನದ ಪದಕಗಳನ್ನು ಪಡೆದ ಭಾರತದ ಅಥ್ಲೀಟ್

- (A) ದುತಿ ಚಾಂದ್
- (B) ಅಂಗದ್ ವೀರ್‌ಸಿಂಗ್ ಬಾಜ್ಜಾ
- (C) ಎಲವೇನಿಲ್ ವಳರಿವನ್
- (D) ಹಿಮಾ ದಾಸ್

41. ಈ ಕೆಳಗಿನವುಗಳ ಪೈಕಿ ಯಾರು ಕಾಮನ್‌ವೆಲ್ತ್ ಮಹಾಪ್ರಧಾನ ಕಾರ್ಯದರ್ಶಿಯವರ 2019 ರ ಸುಸ್ಥಿರ ಅಭಿವೃದ್ಧಿಗಾಗಿ ನವೋನ್ನೇಷಣೆ ಪ್ರಶಸ್ತಿ ಪಡೆದಿರುವರು ?

- (A) ರಚನಾ ಕೈರಾ
- (B) ಅಪರ್ಣಾಕುಮಾರ್
- (C) ನಿತೇಶ್ ಕುಮಾರ್ ಜಂಗೀರ್
- (D) ಮೋಹನ ಸಿಂಗ್

42. ಕೆಳಗಿನ ಯಾವ ಕ್ಷೇತ್ರದಲ್ಲಿ ಮೂರ್ತಿವೇದಿ ಪ್ರಶಸ್ತಿಯನ್ನು ವಾರ್ಷಿಕವಾಗಿ ನೀಡಲಾಗುತ್ತದೆ ?

- (A) ಸಾಹಿತ್ಯ
- (B) ಪತ್ರಿಕೋದ್ಯಮ
- (C) ಚಲನಚಿತ್ರಗಳು
- (D) ಸಂಗೀತ

43. ಕಳಿಂಗ ಪ್ರಶಸ್ತಿಯನ್ನು ಈ ಕೆಳಗಿನ ಯಾವುದು ನೀಡುತ್ತದೆ ?

- (A) ಯುನೆಸ್ಕೋ
- (B) ಭಾರತ ಸರ್ಕಾರ
- (C) ಜವಹರಲಾಲ್ ನೆಹರು ಶಾಂತಿ ಪ್ರತಿಷ್ಠಾನ
- (D) ವೈಜ್ಞಾನಿಕ ಮತ್ತು ಔದ್ಯಮಿಕ ಸಂಶೋಧನಾ ಪರಿಷತ್ತು

44. ಫೆಬ್ರವರಿ 24, 2019 ರಂದು 91 ನೇ ಅಕಾಡೆಮಿ ಪ್ರಶಸ್ತಿಗಳಲ್ಲಿ ಅತ್ಯಂತ ಹೆಚ್ಚು ಸಂಖ್ಯೆಯ ಪ್ರಶಸ್ತಿಗಳನ್ನು ಪಡೆದ ಚಲನಚಿತ್ರ ಯಾವುದು ?

- (A) ಬ್ಲಾಕ್ ಪ್ಯಾಂಥರ್
- (B) ಗ್ರೀನ್ ಬುಕ್
- (C) ಬೊಹೆಮಿಯನ್ ರ್ಯಾಫ್ಸಡಿ
- (D) ರೋಮಾ

Space For Rough Work

೫೦

೫೧

39. Consider the following :

1. International Gandhi Peace Prize was launched by Government of India in 1995 to commemorate 125<sup>th</sup> birth anniversary of Mahatma Gandhi.
2. The award carries ₹ 10 million cash prize, a plaque and a citation.
3. Gerhard Fischer of Germany was the first recipient in 1995.
4. Yohei Sasakawa of Japan has received the award for his contribution to eradicate leprosy in India in 2018.

Which of the above statement/s is/are true ?

- (A) 1 and 4 only
  - (B) 1 and 3 only
  - (C) 1, 2 and 4 only
  - (D) 1, 3 and 4 only
40. The Indian athlete who won five gold medals in Europe over a month of July is
- (A) Dutte Chand
  - (B) Angad Virsingh Bajwa
  - (C) Elavenil Valarivan
  - (D) Hima Das

41. Who among the following has won Commonwealth Secretary – General's Innovation for Sustainable Development award 2019 ?

- (A) Rachana Kaira
- (B) Aparna Kumar
- (C) Nitesh Kumar Jangir
- (D) Mohana Singh

42. Moortidevi Award is given annually in which of the following ?

- (A) Literature
- (B) Journalism
- (C) Films
- (D) Music

43. The Kalinga prize is given by which of the following ?

- (A) UNESCO
- (B) Government of India
- (C) Jawaharlal Nehru Peace Foundation
- (D) Council for Scientific and Industrial Research

44. Which film won the highest number of awards in the 91<sup>st</sup> Academy Awards on February 24, 2019 ?

- (A) Black Panther
- (B) Green Book
- (C) Bohemian Rhapsody
- (D) Roma

Space For Rough Work



45. ಅಮೆರಿಕನ್ ಇನ್ಸ್ಟಿಟ್ಯೂಟ್ ಆಫ್ ಏರೊನಾಟಿಕ್ಸ್ ಮತ್ತು ಆಸ್ಪೊನಾಟಿಕ್ಸ್ ನೀಡುವ ಮಿಸೈಲ್ ಸಿಸ್ಟಂಸ್ ಪ್ರಶಸ್ತಿ 2019 ಅನ್ನು ಈ ಕೆಳಗಿನ ಯಾರಿಗೆ ನೀಡಲಾಯಿತು ?

- (A) ಕೈಲಾಸವಡಿವೂ ಶಿವನ್  
(B) ಜಿ. ಸತೀಶ ರೆಡ್ಡಿ  
(C) ಪುನೀತ್ ಗೋಯೆಂಕಾ  
(D) ಎಸ್ ಸೋಮನಾಥ

46. ಭಾರತದ ಈ ಕೆಳಗಿನ ಯಾವ ರಾಜ್ಯ ಸರ್ಕಾರವು ತಾನ್‌ಸೇನ್ ಪ್ರಶಸ್ತಿ ನೀಡುತ್ತದೆ ?

- (A) ಉತ್ತರ ಪ್ರದೇಶ  
(B) ಗುಜರಾತ್  
(C) ಮಹಾರಾಷ್ಟ್ರ  
(D) ಮಧ್ಯಪ್ರದೇಶ

47. ಹೆಸರಾಂತ ನಟ, ಲೇಖಕ, ನಾಟಕಕಾರ ಗಿರೀಶ ಕಾರ್ನಾಡರು ಇತ್ತೀಚೆಗೆ ನಿಧನರಾದರು. ಗಿರೀಶ ಕಾರ್ನಾಡರ ಕುರಿತು ಕೆಳಗಿನ ಯಾವ ಹೇಳಿಕೆ/ಗಳು ಸರಿ ?

1. ಅವರು ಪದ್ಮಶ್ರೀ ಮತ್ತು ಪದ್ಮಭೂಷಣ ಪ್ರಶಸ್ತಿ ಸ್ವೀಕೃತರು
  2. ಅವರು 2000 ರಲ್ಲಿ ಜ್ಞಾನಪೀಠ ಮತ್ತು ಕಾಳಿದಾಸ ಸಮ್ಮಾನ ಎರಡೂ ಪ್ರಶಸ್ತಿ ಸ್ವೀಕರಿಸಿದವರು
  3. 'ಒಡಕಲು ಬಿಂಬ' ಅವರ ಕೊನೆಯ ನಾಟಕ
- (A) 1, 2 ಮತ್ತು 3  
(B) 1 ಮಾತ್ರ  
(C) 1 ಮತ್ತು 3 ಮಾತ್ರ  
(D) 1 ಮತ್ತು 2 ಮಾತ್ರ

48. ಕೆಳಗಿನವುಗಳನ್ನು ಹೊಂದಿಸಿ.

- |                    |                        |    |
|--------------------|------------------------|----|
|                    | ಎ                      | ಬಿ |
| A. ರಾಕ್ಷಸ ತಂಗಡಿ    | 1. ಚಂದ್ರಶೇಖರ ಕಂಬಾರ     |    |
| B. ಹರಕೆಯ ಕುರಿ      | 2. ಪಿ. ಲಂಕೇಶ್          |    |
| C. ಅನಭಿಜ್ಞ ಶಾಕುಂತಲ | 3. ಕೆ.ವೈ. ನಾರಾಯಣಸ್ವಾಮಿ |    |
| D. ಸಂಕ್ರಾಂತಿ       | 4. ಗಿರೀಶ ಕಾರ್ನಾಡ್      |    |

	A	B	C	D
(A)	1	2	3	4
(B)	4	2	3	1
(C)	2	1	3	4
(D)	4	1	3	2

49. ಮಹಿಳಾ ರೈಲು ಪ್ರಯಾಣಿಕರಿಗೆ ಸಹಾಯ ಮಾಡುವ ಉದ್ದೇಶದಿಂದ ಜನವರಿ 2019 ರಲ್ಲಿ ಪ್ರಾರಂಭಿಸಲಾದ ಮಹಿಳೆಯರೇ ಇರುವ ರಕ್ಷಣಾ ದಳದ ಹೆಸರೇನು ?

- (A) ನಾರಿಶಕ್ತಿ  
(B) ಮಿಷನ್ ಶಕ್ತಿ  
(C) ಜ್ಯೋತಿ ವಾಹಿನಿ  
(D) ವೆಬ್ - ವಂಡರ್ ವುಮೆನ್

50. 2019ರ ಜನವರಿ 26ರ 70ನೆಯ ಗಣರಾಜ್ಯೋತ್ಸವ ಆಚರಣೆಯಲ್ಲಿ ಯಾರು ಮುಖ್ಯ ಅತಿಥಿಯಾಗಿದ್ದರು ?

- (A) ವೆಲಿ ಮೌರರ್, ಸ್ವಿಟ್ಜರ್‌ಲ್ಯಾಂಡ್ ಅಧ್ಯಕ್ಷರು  
(B) ಸಿರಿಲ್ ರಂವೋಸಾ, ದಕ್ಷಿಣ ಆಫ್ರಿಕಾ ಅಧ್ಯಕ್ಷರು  
(C) ಮೈತ್ರಿಪಾಲ ಸಿರಿಸೇನ, ಶ್ರೀಲಂಕಾ ಅಧ್ಯಕ್ಷರು  
(D) ಜಿಗ್ಮೆ ಖಿಸರ್ ನಾಂಗ್ಯಲ್ ವಾಂಗ್‌ಚುಂಕ್, ಭೂತಾನ್ ರಾಜ

Space For Rough Work

49

45. Missile Systems Award 2019 was conferred to who among the following by American Institute of Aeronautics and Astronautics ?

- (A) Kailasavadivoo Sivan
- (B) G. Sateesh Reddy
- (C) Punit Goenka
- (D) S. Somanth

46. Tansen Samman is given by the government of :

- (A) Uttar Pradesh
- (B) Gujarat
- (C) Maharashtra
- (D) Madhya Pradesh

47. Which of the following statements on Girish Karnad, a noted actor, writer and playwright who passed away recently, is/are true ?

1. He is a recipient of Padmashri and Padma Bhushan.
2. He is a recipient of both Jnanapith award and Kalidas Samman in 2000.
3. 'Odakalu Bimba' is his last play.

- (A) 1, 2 and 3
- (B) 1 only
- (C) 1 and 3 only
- (D) 1 and 2 only

48. Match the following :

A		B	
A. Rakshasa Tangadi		1. Chandrashekar Kambar	
B. Harakeya Kuri		2. P. Lahkesh	
C. Anabhigna Shakuntala		3. K.Y. Narayana Swamy	
D. Sankranti		4. Girish Karnad	

	A	B	C	D
(A)	1	2	3	4
(B)	4	2	3	1
(C)	2	1	3	4
(D)	4	1	3	2

49. What is the name of all women protection squad launched in Jan. 2019 to assist women railway commuters ?

- (A) Nari Shakthi
- (B) Mission Shakthi
- (C) Jyothi Bahini
- (D) Web-Wonder Women

50. Who was the Chief Guest of 70<sup>th</sup> Republic day celebrations of India on 26<sup>th</sup> Jan. 2019 ?

- (A) Ueli Maurer, President of Switzerland.
- (B) Cyril Ramaphosa, President of South Africa.
- (C) Maithripala Sirisena, President of Sri Lanka
- (D) Jigme Khesar Namgyel Wangchunct, the King of Bhutan.

Space For Rough Work

51. ಇತ್ತೀಚೆಗೆ ಭಾರತದ ಅಂಚೆ ಇಲಾಖೆಯು ಭಾರತದ 1.5 ಲಕ್ಷದಷ್ಟು ಅಂಚೆ ಕಛೇರಿಗಳನ್ನು ಡಿಜಿಟಲೀಕರಣಗೊಳಿಸಲು ಕೆಳಗಿನ ಯಾವ ಸಂಸ್ಥೆಯೊಂದಿಗೆ ಸಹಯೋಗ ಹೊಂದಿದೆ ?

- (A) ಮೈಕ್ರೋಸಾಫ್ಟ್
- (B) ಐಬಿಎಂ
- (C) ಟಿಸಿಎಸ್
- (D) ಇಂಟೆಲ್

52. ಅಂಡಮಾನ್ ಮತ್ತು ನಿಕೋಬಾರ್ ದ್ವೀಪಗಳಿರುವುದು \_\_\_\_\_ ನಲ್ಲಿ.

- (A) ಅರಬ್ಬಿ ಸಮುದ್ರ
- (B) ಬಂಗಾಳ ಕೊಲ್ಲಿ
- (C) ಪಾಕ್ ಜಲಸಂಧಿ
- (D) ಶಾಂತ ಸಾಗರ

53. ಇತ್ತೀಚೆಗೆ, ಫೆಬ್ರುವರಿ 2019 ರಲ್ಲಿ ಭಾರತವು ಪಾಕಿಸ್ತಾನಕ್ಕೆ ನೀಡಿದ್ದ ಅತೀ ನೆಚ್ಚಿನ ರಾಷ್ಟ್ರ (ಎಂಎಫ್‌ಎನ್) ಸ್ಥಾನಮಾನವನ್ನು ಹಿಂಪಡೆಯಿತು. ಈ ಎಂಎಫ್‌ಎನ್ ಸ್ಥಾನಮಾನವನ್ನು ಭಾರತವು ಪಾಕಿಸ್ತಾನಕ್ಕೆ ಯಾವಾಗ ನೀಡಿತು ?

- (A) 1996
- (B) 1998
- (C) 2004
- (D) 2006

54. ಕೆಳಗಿನ ಹೇಳಿಕೆಗಳನ್ನು ಗಮನಿಸಿ.

1. 2019 ಮಾರ್ಚ್ 27 ರಂದು ಭಾರತವು ಮಿಷನ್ ಶಕ್ತಿ ಎಂಬ ಉಪಗ್ರಹ ನಿರೋಧಕ ಕ್ಷಿಪಣಿ ಪರೀಕ್ಷೆ ನಡೆಸಿತು.
2. ಈ ಪೂರ್ಣ ಕಾರ್ಯಾಚರಣೆಯು ವಿದೇಶಿ ತಂತ್ರಜ್ಞಾನವನ್ನು ಬಳಸುತ್ತದೆ.
3. ಕ್ಷಿಪಣಿ ಪರೀಕ್ಷೆಯ ಯಶಸ್ಸಿನೊಂದಿಗೆ ಭಾರತವು ಅಮೆರಿಕ, ರಷ್ಯಾ, ಇಸ್ರೇಲ್ ಮತ್ತು ಚೈನಾ ನಂತರ ಜಗತ್ತಿನ 5ನೇ ಅತಿದೊಡ್ಡ ಅಂತರಿಕ್ಷದ ಸೂಪರ್ ಪವರ್ ಆಯಿತು.

ಮೇಲಿನ ಯಾವ ಹೇಳಿಕೆ/ಗಳು ಸರಿ ?

- (A) 1 ಮತ್ತು 2 ಮಾತ್ರ
- (B) 1 ಮಾತ್ರ
- (C) 1, 2 ಮತ್ತು 3
- (D) 3 ಮಾತ್ರ

55. 2019 ರ ಜನವರಿ 19 ರಂದು ಯಾರು ಮಡಗಾಸ್ಕರ್‌ನ ಅಧ್ಯಕ್ಷರಾಗಿ ಪ್ರಮಾಣ ವಚನ ಸ್ವೀಕರಿಸಿದರು ?

- (A) ಕ್ರಿಶ್ಚಿಯನ್ ಎಂಟೆ
- (B) ಆಂಡ್ರಿ ರಾಜೋಲಿನಾ
- (C) ರೋಜರ್ ಅಲೆಕ್ಸಾಂಡ್ರೊ
- (D) ವಿವಿಯನ್ ರಿಚರ್ಡ್ಸ್

Space For Rough Work

65

51. Recently, India Post has collaborated with which of the following for digitizing of 1.5 lakh post offices in India ?

- (A) Microsoft
- (B) IBM
- (C) TCS
- (D) Intel

52. The Andaman and Nicobar Islands is located in \_\_\_\_\_.

- (A) Arabian Sea
- (B) Bay of Bengal
- (C) Palk Strait
- (D) Pacific Ocean

53. Recently in Feb. 2019, India withdrew Most Favoured Nation (MFN) status from Pakistan. When had India granted MFN status to Pakistan ?

- (A) 1996
- (B) 1998
- (C) 2004
- (D) 2006

54. Consider the following statements.

1. On March 27, 2019, India conducted Mission Shakti, an anti Satellite missile test.
2. The entire mission uses foreign technology.
3. With the success of the test, India became world's 5<sup>th</sup> largest space super power after USA, Russia, Israel and China.

Which of the above statement/s is/are true ?

- (A) 1 and 2 only
- (B) 1 only
- (C) 1, 2 and 3
- (D) 3 only

55. Who, on 19<sup>th</sup> January, 2019, sworn in as the President of Madagascar ?

- (A) Christian Ntsay
- (B) Andry Rajoelina
- (C) Rojer Alexandro
- (D) Vivian Richards

Space For Rough Work

56. 2019 ರ ಜನವರಿ 24 ರಂದು ಆಚರಿಸಲಾದ "ರಾಷ್ಟ್ರೀಯ ಹೆಣ್ಣು ಮಗು ದಿನ" ದ ಶೀರ್ಷಿಕೆ ಏನಾಗಿತ್ತು ?
- (A) ಹೆಣ್ಣು ಮಗುವನ್ನು ಉಳಿಸಿ  
 (B) ಉಜ್ವಲ ಭವಿಷ್ಯಕ್ಕಾಗಿ ಹೆಣ್ಣು ಮಕ್ಕಳನ್ನು ಸಬಲೀಕರಣಗೊಳಿಸುವುದು  
 (C) ಹೆಣ್ಣು ಮಗು : ನಾಳಿನ ಆಧಾರ ಸ್ತಂಭಗಳು  
 (D) ಹೆಣ್ಣು ಮಗುವಿಗೆ ಸಹಾಯ ನೀಡಿ
57. Which of the following is not a strategy of active listening ?
- (A) Making eye contact to show the speaker that you are listening.  
 (B) Showing your interest through affirmative head nods.  
 (C) Completing the Speaker's sentence to prove your understanding of the train of thought.  
 (D) Asking questions to clarify what the speaker is saying and ensure your understanding.
58. Your plump colleague has recently put on additional weight and asks you if it shows. What would be the most appropriate way to respond ?
- (A) you honestly answer "yes, obviously".  
 (B) you honestly answer "yes" and try to change the topic as soon as possible.  
 (C) you diplomatically say "Oh, really ? I hadn't noticed".  
 (D) You reassure her by saying of course not. Nothing shows."
59. ಒಂದು ನಿರ್ದಿಷ್ಟ ಸಂಕೇತದಲ್ಲಿ 24685 ನ್ನು 33776 ಎಂದು ಬರೆದಿದೆ, ಅದೇ ನಿಯಮದಲ್ಲಿ 35791 ರ ಸಂಕೇತವು
- (A) 46682  
 (B) 44882 ✓  
 (C) 44880  
 (D) 44684
60. ಸಂಖ್ಯಾ ಶ್ರೇಣಿಯ ಮುಂದಿನ ಸಂಖ್ಯೆಯು  
 256, 229, 196, 157, 112, \_\_\_\_\_
- (A) 51  
 (B) 61  
 (C) 71  
 (D) 81
61. 4 ಸೆಂ.ಮೀ. ಅಂಚುಳ್ಳ ಒಂದು ಘನವನ್ನು 1 ಸೆಂ.ಮೀ. ಅಂಚುಳ್ಳ ಚಿಕ್ಕ ಘನಗಳನ್ನಾಗಿ ಕತ್ತರಿಸಿದೆ. ಕತ್ತರಿಸುವ ಮುನ್ನ ಎಲ್ಲಾ ಮುಖಗಳಿಗೂ ಬಣ್ಣ ಹಚ್ಚಲಾಗಿದೆ. ಒಂದು ಮುಖ ಮಾತ್ರ ಬಣ್ಣ ಹೊಂದಿರುವ ಚಿಕ್ಕ ಘನಗಳ ಸಂಖ್ಯೆಯು
- (A) 4  
 (B) 8  
 (C) 16  
 (D) 24

Space For Rough Work

157  
112  
045 50  
27 10 10 10 10 10 10 10 10 10 10 10

24685  
33776  
4682

44882


56. What was the theme of National Girl Child Day 2019 celebrated on 24<sup>th</sup> January, 2019 ?
- (A) Save Girl Child  
 (B) Empowering Girls for a Brighter Tomorrow  
 (C) Girl Child : Tomorrow's Pillars  
 (D) Help Girl Child
57. Which of the following is not a strategy of active listening ?
- (A) Making eye contact to show the speaker that you are listening.  
 (B) Showing your interest through affirmative head nods.  
 (C) Completing the speaker's sentence to prove your understanding of the train of thought.  
 (D) Asking questions to clarify what the speaker is saying and ensure your understanding.
58. Your plump colleague has recently put on additional weight and asks you if it shows. What would be the most appropriate way to respond ?
- (A) You honestly answer "yes, obviously".  
 (B) You honestly answer "yes" and try to change the topic as soon as possible.  
 (C) You diplomatically say "Oh, really ? I hadn't noticed".  
 (D) You reassure her by saying "of course not. Nothing shows".
59. In a certain codes 24685 is written as 33776, then the code for 35791 is
- (A) 46682  
 (B) 44882  
 (C) 44880  
 (D) 44684
60. The next number in the series is 256, 229, 196, 157, 112, \_\_\_\_\_
- (A) 51  
 (B) 61  
 (C) 71  
 (D) 81
61. 4 cm sided cube is cut into smaller cubes of side 1 cm each. Before cutting it was painted on all its faces. The number of small cubes which are one face coloured is
- (A) 4  
 (B) 8  
 (C) 16  
 (D) 24

Space For Rough Work



62. 1 ಸೆಂ.ಮೀ., 2 ಸೆಂ.ಮೀ. ಮತ್ತು 3 ಸೆಂ.ಮೀ. ತ್ರಿಜ್ಯದ ಮೂರು ವೃತ್ತಗಳು ಪರಸ್ಪರ ಬಾಹ್ಯವಾಗಿ ಸ್ಪರ್ಶಿಸಿವೆ. ಅವುಗಳ ಕೇಂದ್ರಗಳನ್ನು ಸೇರಿಸಿದಾಗ ಉಂಟಾಗುವ ತ್ರಿಭುಜದ ವಿಸ್ತೀರ್ಣವು
- (A) 6 ಚ.ಸೆಂ.ಮೀ.  
 (B) 12 ಚ.ಸೆಂ.ಮೀ.  
 (C) 18 ಚ.ಸೆಂ.ಮೀ.  
 (D) 24 ಚ.ಸೆಂ.ಮೀ.

63. ನೀಡಿರುವ ಚಿತ್ರದಲ್ಲಿನ ತ್ರಿಭುಜಗಳ ಸಂಖ್ಯೆಯು



- (A) 10  
 (B) 12  
 (C) 14  
 (D) 6
64. ಪ್ರಶ್ನಾರ್ಥಕ ಚಿಹ್ನೆ ? ಜಾಗದಲ್ಲಿ ಬರುವ ಸಂಖ್ಯೆಯು



- (A) 121  
 (B) 124  
 (C) 126  
 (D) 128

65. ನೀಡಿರುವ ಸಂಖ್ಯಾಶ್ರೇಣಿಯಲ್ಲಿ, ಶ್ರೇಣಿಗೆ ಸೇರದ ಇರುವ ಸಂಖ್ಯೆಯು
- 63, 31, 17, 7, 3, 1
- (A) 31  
 (B) 17  
 (C) 7  
 (D) 3

66. ನೀಡಿರುವ ಸಂಖ್ಯಾಜೋಡಿಗಳಲ್ಲಿ, ಗುಂಪಿಗೆ ಸೇರದೆ ಇರುವ ಸಂಖ್ಯಾಜೋಡಿಯು,
- (A) 441, 3  
 (B) 934, 4  
 (C) 302, 2  
 (D) 997, 5

67. 5 ಜನರ ಗುಂಪಿನಲ್ಲಿ A ಮತ್ತು B ಸದಸ್ಯರಾಗಿದ್ದಾರೆ. ಅವರೆಲ್ಲರೂ ಗ್ರೂಪ್ ಫೋಟೋಗೆ ನಿಂತುಕೊಂಡಿದ್ದಾರೆ. ಅವರು ಎಷ್ಟು ವಿಧಗಳಲ್ಲಿ, B ಯು ಯಾವಾಗಲೂ A ನ ಎಡಭಾಗದಲ್ಲಿರುವಂತೆ ನಿಲ್ಲಬಹುದಾಗಿದೆ ?
- (A) 120  
 (B) 60  
 (C) 30  
 (D) 10

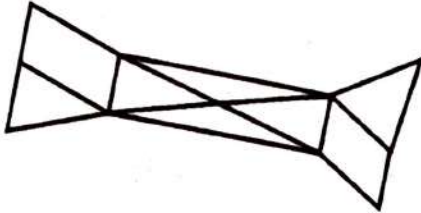
68. 40 ಕಿ.ಮೀ./ಗಂ ವೇಗದಲ್ಲಿ ಚಲಿಸುವ ರೈಲು, ಅದೇ ದಿಕ್ಕಿನಲ್ಲಿ 25 ಕಿ.ಮೀ./ಗಂ ವೇಗದಲ್ಲಿ ಹೋಗುತ್ತಿರುವ ಒಬ್ಬ ಮನುಷ್ಯನನ್ನು 48 ಸೆಕೆಂಡುಗಳಲ್ಲಿ ದಾಟಿ ಹೋಗುತ್ತದೆ. ಹಾಗಾದರೆ ರೈಲಿನ ಉದ್ದವು
- (A) 120 ಮೀ.  
 (B) 180 ಮೀ.  
 (C) 200 ಮೀ.  
 (D) 250 ಮೀ.

Space For Rough Work

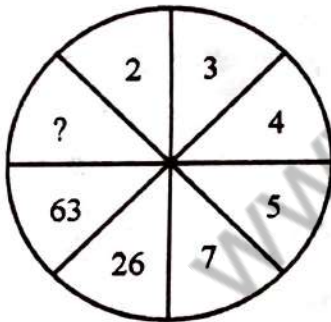


62. Three circles of radii 1 cm, 2 cm and 3 cm touch each other externally. The area of the triangle formed by joining the centre of the circle is
- (A)  $6 \text{ cm}^2$   
 (B)  $12 \text{ cm}^2$   
 (C)  $18 \text{ cm}^2$   
 (D)  $24 \text{ cm}^2$

63. The number of triangles in the given diagram is



- (A) 10  
 (B) 12  
 (C) 14  
 (D) 6
64. The number which comes in place of ? is



- (A) 121  
 (B) 124  
 (C) 126  
 (D) 128

65. The number that does not belong to the series is  
 63, 31, 17, 7, 3, 1
- (A) 31  
 (B) 17  
 (C) 7  
 (D) 3

66. The odd number that does not belong to the group is
- (A) 441, 3  
 (B) 934, 4  
 (C) 302, 2  
 (D) 997, 5

67. A and B are among 5 members of a group. They are standing for a group photo. In how many ways they can stand such that B is always left of A ?
- (A) 120  
 (B) 60  
 (C) 30  
 (D) 10

68. A train is running at the rate of 40 km/hr. A man is also going in the same direction parallel to the train at the speed of 25 kmph. If the train crosses the man in 48 seconds, the length of the train is
- (A) 120 mt.  
 (B) 180 mt.  
 (C) 200 mt.  
 (D) 250 mt.

Space For Rough Work



69. ಒಂದು ತರಗತಿಯ ಎಲ್ಲಾ ವಿದ್ಯಾರ್ಥಿಗಳು, ಅವರ ಸಂಖ್ಯೆಯಷ್ಟೇ ಮೊತ್ತದ ಹಣವನ್ನು ಪ್ರತಿಯೊಬ್ಬರು ನೀಡಿದರು, ಆ ಮೊತ್ತಕ್ಕೆ ಮುಖ್ಯ ಶಿಕ್ಷಕರು ರೂ. 2500 ನೀಡಿ, ರೂ. 4525 ಕ್ಕೆ ಒಂದು ಹವಾ ತಂಪುಕಾರಕ ಖರೀದಿಸುತ್ತಾರೆ. ಹಾಗಾದರೆ, ತರಗತಿಯಲ್ಲಿನ ವಿದ್ಯಾರ್ಥಿಗಳ ಸಂಖ್ಯೆಯು

- (A) 20  
(B) 25  
(C) 40  
(D) 45

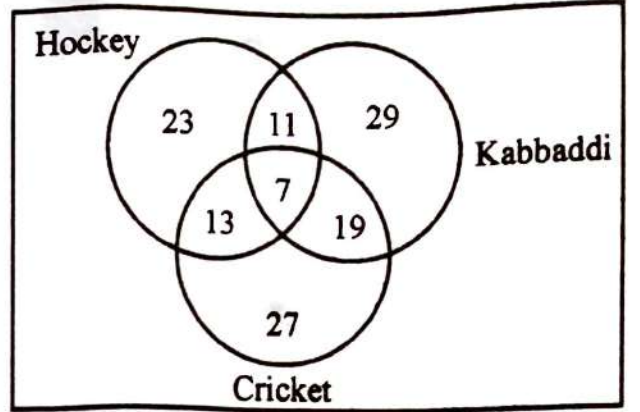
70. ರಾಜು ಒಂದು ನಿರ್ದಿಷ್ಟ ಸ್ಥಳದಿಂದ, ಉತ್ತರಕ್ಕೆ 15 ಮೀ. ನಷ್ಟು ನಡೆದು ನಂತರ ಬಲಕ್ಕೆ ತಿರುಗಿ 12 ಮೀಟರ್‌ಗಳಷ್ಟು ನಡೆದನು, ಮತ್ತೆ ಅವನು ತನ್ನ ಬಲಕ್ಕೆ ತಿರುಗಿ 15 ಮೀ. ದೂರ ನಡೆದನು. ನಂತರ ಎಡಕ್ಕೆ ತಿರುಗಿ 5 ಮೀ. ನಡೆದನು. ಈಗ ಅವನು ತಾನು ಹೊರಟ ಸ್ಥಳದಿಂದ ಎಷ್ಟು ದೂರ ಹಾಗೂ ಯಾವ ದಿಕ್ಕಿನಲ್ಲಿದ್ದಾನೆ ?

- (A) 15 ಮೀ. ಉತ್ತರ  
(B) 7 ಮೀ. ಪಶ್ಚಿಮ  
(C) 17 ಮೀ. ಉತ್ತರ  
(D) 17 ಮೀ. ಪೂರ್ವ

71. 216 ಚಿಕ್ಕ ಘನಗಳಿಂದ, ಒಂದು ಘನವನ್ನು ಮಾಡಲಾಗಿದೆ. ನಂತರ ಉಂಟಾದ ದೊಡ್ಡ ಘನವನ್ನು ಅದರ ಕರ್ಣದ ಮೂಲಕ ಎರಡು ಕಡೆಯಿಂದ ಕತ್ತರಿಸಿದೆ. ಹಾಗಾದರೆ ಕತ್ತರಿಸಲ್ಪಟ್ಟ ಚಿಕ್ಕ ಘನಗಳ ಸಂಖ್ಯೆಯು

- (A) 36  
(B) 72  
(C) 66  
(D) 64

175 ವಿದ್ಯಾರ್ಥಿಗಳಿಂದ ಅವರು ಆಟವಾಡುವ ಆಟಗಳ ಮಾಹಿತಿ ಸಂಗ್ರಹಿಸಲಾಯಿತು.



ಕೆಲವೊಂದು ವಿದ್ಯಾರ್ಥಿಗಳು ಯಾವುದೇ ಆಟವನ್ನು ಆಡುವುದಿಲ್ಲ.

72. ಒಂದು ಆಟವನ್ನು ಮಾತ್ರ ಆಡುವ ವಿದ್ಯಾರ್ಥಿಗಳ ಸಂಖ್ಯೆಯು

- (A) 86  
(B) 79  
(C) 77  
(D) 69

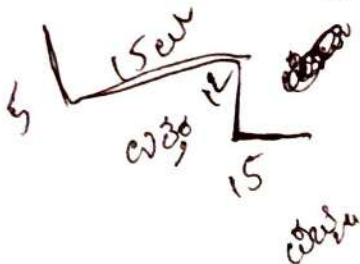
73. ಕನಿಷ್ಠ 2 ಆಟಗಳನ್ನು ಆಡುವ ವಿದ್ಯಾರ್ಥಿಗಳ ಸಂಖ್ಯೆಯು

- (A) 07  
(B) 40  
(C) 43  
(D) 50

74. ಭೂಮಿಯು ಉಚ್ಚಸ್ಥಾನದಲ್ಲಿರುವುದು

- (A) ಜೂನ್ 21  
(B) ಡಿಸೆಂಬರ್ 22  
(C) ಸೆಪ್ಟೆಂಬರ್ 23  
(D) ಜುಲೈ 4

Space For Rough Work



69. All students of a class, deposit as many rupees as their number. The Head Master also pays ₹ 2,500, to buy an air cooler for ₹ 4,525, then the number of students are

- (A) 20
- (B) 25
- (C) 40
- (D) 45

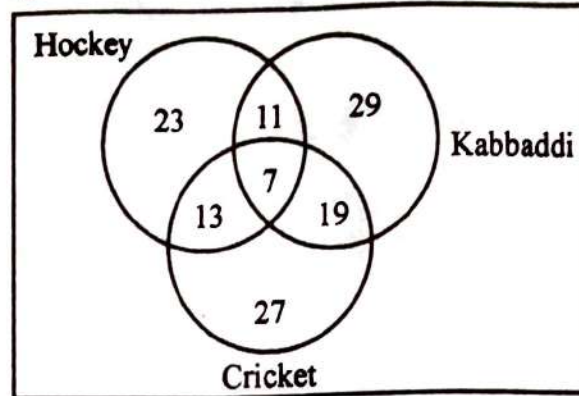
70. Starting from a point Raju walked 15 mts. towards North, he turned right and walked 12 mts., he again turned right and walked 15 mts., then he turned left and walked 5 mts. How far is he now and in which direction from the starting point ?

- (A) 15 mt. North
- (B) 7 mt. West
- (C) 17 mt. North
- (D) 17 mt. East

71. A cube is formed of 216 smaller cubes. If the longer cube is cut across both of its diagonals; then how many smaller cubes will be cut ?

- (A) 36
- (B) 72
- (C) 66
- (D) 64

175 Students were surveyed to know the sports that they can play



Some of the students did not play any sport.

72. How many students play exactly one sport ?

- (A) 86
- (B) 79
- (C) 77
- (D) 69

73. How many students play at least 2 sports ?

- (A) 07
- (B) 40
- (C) 43
- (D) 50

74. The earth is in Aphelion on

- (A) June 21<sup>st</sup>
- (B) December 22<sup>nd</sup>
- (C) September 23<sup>rd</sup>
- (D) July 4<sup>th</sup>

Space For Rough Work

75. ಕೋರಿಯಾಲಿಸ್ ಬಲಕ್ಕೆ ಸಂಬಂಧಿಸಿದಂತೆ ಈ ಕೆಳಕಂಡ ಯಾವ ಹೇಳಿಕೆಯು ಸರಿಯಾದುದಲ್ಲ ?
- (A) ಇದು ಮಾರುತದ ದಿಕ್ಕಿನ ಮೇಲೆ ಪರಿಣಾಮ ಬೀರುತ್ತದೆ.
- (B) ಇದು ಪೃಥ್ವಿಯ ದೈನಂದಿನ ಚಲನೆಯ ಪರಿಣಾಮವಾಗಿದೆ.
- (C) ಇದು ದ್ರವಗಳಲ್ಲಿ ಕನಿಷ್ಠವಾಗಿಯೂ ಮತ್ತು ಭೂಮಧ್ಯೆ ರೇಖೆ ಪ್ರದೇಶದಲ್ಲಿ ಗರಿಷ್ಠವಾಗಿಯೂ ಕಂಡು ಬರುತ್ತದೆ.
- (D) ಕೋರಿಯಾಲಿಸ್ ಪರಿಣಾಮದ ಪ್ರಮಾಣವು ಚಲಿಸುವ ವಸ್ತು ಮತ್ತು ಅಕ್ಷಾಂಶದ ಸರಣಿ ಗಾಳಿಯ ಉದ್ದರಣದಿಂದ ನಿರ್ಧರಿಸುತ್ತದೆ.

76. ಹೊಂದಿಸಿ ಬರೆಯಿರಿ.

ಪಟ್ಟಿ - I (ಜಲಜ ಶಿಲೆಗಳು)	ಪಟ್ಟಿ - II (ರೂಪಾಂತರ ಶಿಲೆಗಳು)
A. ಸುಣ್ಣಕಲ್ಲು	1. ಬಳಪದ ಕಲ್ಲು
B. ಮರಳು ಶಿಲೆ	2. ಬೆಣಚು ಶಿಲೆ
C. ಹಾಳಕಲ್ಲು	3. ಕಲ್ಲಿದ್ದಲು
D. ಪೀಟ್	4. ಅಮೃತಶಿಲೆ

ಸಂಕೇತಗಳು :

	A	B	C	D
(A)	4	2	1	3
(B)	2	4	1	3
(C)	4	2	3	1
(D)	4	1	2	3

77. ಈ ಕೆಳಕಂಡವುಗಳಲ್ಲಿ ಅಂತರ್ಜಲದ ಕಾರ್ಯದಿಂದ ಉಂಟಾಗದ ಸ್ವರೂಪಗಳನ್ನು ಗುರುತಿಸಿ.

1. ಬಾಜಡ
2. ಡೊಲೈನ್
3. ಗುಹೆ
4. ಸರ್ಪಾಕಾರದ ದಿನ್ನೆ

- (A) 1 ಮತ್ತು 2  
(B) 2 ಮತ್ತು 3  
(C) 1 ಮತ್ತು 3  
(D) 4 ಮತ್ತು 1

78. ಪಟ್ಟಿ - I ಮತ್ತು ಪಟ್ಟಿ - II ನ್ನು ಹೊಂದಿಸಿ ಮತ್ತು ಕೆಳಗಿನ ಸಂಕೇತಗಳ ಸಹಾಯದಿಂದ ಸರಿಯಾದ ಉತ್ತರವನ್ನು ಗುರುತಿಸಿ.

ಪಟ್ಟಿ - I (ಸಮುದ್ರ)	ಪಟ್ಟಿ - II (ರಾಷ್ಟ್ರ)
A. ಕಪ್ಪು ಸಮುದ್ರ	1. ಬಲ್ಗೇರಿಯಾ
B. ಕೆಂಪು ಸಮುದ್ರ	2. ಚೈನಾ
C. ಹಳದಿ ಸಮುದ್ರ	3. ಎರಿಟ್ರಿಯಾ
D. ಕ್ಯಾಸ್ಪಿಯನ್ ಸಮುದ್ರ	4. ಕಜಕ್ಸ್ತಾನ್

ಸಂಕೇತಗಳು :

	A	B	C	D
(A)	1	4	2	3
(B)	1	3	2	4
(C)	2	3	1	4
(D)	4	3	2	1

Space For Rough Work

16

75. Which one of the following is not a correct statement about Coriolis force ?
- (A) It affects wind direction.
- (B) It is an effect of the rotational movement of the earth.
- (C) It becomes minimum at the poles and maximum at the equator.
- (D) The magnitude of coriolis effect is determined by the wind speed mass of the moving body and sine of latitude.

76. Match the following :

List - I (Sedimentary Rocks)	List - II (Metamorphic Rocks)
A. Lime Stone	1. Slate
B. Sand Stone	2. Quartzite
C. Shale	3. Coal
D. Peat	4. Marble

Code :

	A	B	C	D
(A)	4	2	1	3
(B)	2	4	1	3
(C)	4	2	3	1
(D)	4	1	2	3

77. Identify the following which are not associated with the work of under ground water.

1. Bajada
2. Doline
3. Cave
4. Esker

- (A) 1 and 2  
(B) 2 and 3  
(C) 1 and 3  
(D) 4 and 1

78. Match List - I with List - II and select the correct answer using the code given below.

List - I (Sea)	List - II (Country)
A. Black Sea	1. Bulgaria
B. Red Sea	2. China
C. Yellow Sea	3. Eritrea
D. Caspian Sea	4. Kazakhstan

	A	B	C	D
(A)	1	4	2	3
(B)	1	3	2	4
(C)	2	3	1	4
(D)	4	3	2	1

Space For Rough Work

79. ಪೃಥ್ವಿಯ ಮೇಲ್ಮೈ ಪಡೆಯುವ ಸೌರವಿಕಿರಣದ ಪ್ರಮಾಣದ ಮೇಲೆ ಯಾವ ಅಂಶವು ಪರಿಣಾಮ ಬೀರುವುದಿಲ್ಲ ಗುರ್ತಿಸಿ.

(A) ಓರೆಯಾದ ಸೂರ್ಯನ ಕಿರಣಗಳು

(B) ವಾಯುಮಂಡಲದಲ್ಲಿರುವ ಮೋಡಗಳ ಉಪಸ್ಥಿತಿ

(C) ಪೃಥ್ವಿಯ ದೈನಂದಿನ ಚಲನೆ

(D) ದಿನದ ಅವಧಿ

80. ಆಸ್ಟ್ರೇಲಿಯಾ ಮತ್ತು ನ್ಯೂಜಿಲ್ಯಾಂಡ್‌ಗಳನ್ನು ಪ್ರತ್ಯೇಕಿಸುವ ಜಲಭಾಗವನ್ನು ಗುರ್ತಿಸಿ.

(A) ಟಾಸ್ಮಾನ್ ಸಮುದ್ರ

(B) ಕುಕ್ ಜಲಸಂಧಿ

(C) ಮೆಗಲನ್ ಜಲಸಂಧಿ

(D) ಗ್ರೇಟ್ ಬ್ಯಾರಿಯರ್ ರೀಫ್

81. ಕೆಳಗಿನ ಹೇಳಿಕೆಗಳನ್ನು ಗಮನಿಸಿ ಮತ್ತು ಕೆಳಗಿನ ಸಂಕೇತಗಳ ಸಹಾಯದಿಂದ ಸರಿಯಾದ ಉತ್ತರವನ್ನು ಆಯ್ಕೆಮಾಡಿ.

ಪ್ರತಿಪಾದನೆ (A) : ಜಾಗತಿಕ ಮಟ್ಟದಲ್ಲಿ ಪ್ರಾದೇಶಿಕ ಅಭಿವೃದ್ಧಿಯಲ್ಲಿ ಅಸಮಾನತೆಯಿದೆ ಮತ್ತು ಪ್ರತೀ ರಾಷ್ಟ್ರದೊಳಗೂ ಇದನ್ನು ಕಾಣಬಹುದು.

ಕಾರಣ (R) : ಅಂತಹ ಅಸಮಾನತೆಯು ಮುಖ್ಯವಾಗಿ ಸಾಕಷ್ಟು ನುರಿತ ಕಾರ್ಮಿಕರ ಕೊರತೆಯಿಂದ ಕಂಡು ಬರುತ್ತದೆ.

ಸಂಕೇತ :

(A) A ಮತ್ತು R ಗಳೆರಡೂ ಸರಿ ಆದರೆ A ಗೆ R ಸರಿಯಾದ ವಿವರಣೆಯಾಗಿದೆ.

(B) A ಮತ್ತು R ಗಳೆರಡೂ ಸರಿ ಆದರೆ A ಗೆ R ಸರಿಯಾದ ವಿವರಣೆಯಲ್ಲ.

(C) A ಸರಿ ಆದರೆ R ತಪ್ಪು.

(D) A ತಪ್ಪು ಆದರೆ R ಸರಿ.

82. ಪಟ್ಟಿ - I ಮತ್ತು ಪಟ್ಟಿ - II ನ್ನು ಹೊಂದಿಸಿ ಮತ್ತು ಕೆಳಕಂಡ ಸಂಕೇತಗಳ ಸಹಾಯದಿಂದ ಸರಿಯಾದ ಉತ್ತರವನ್ನು ಆಯ್ಕೆಮಾಡಿ.

ಪಟ್ಟಿ - I

(ನಗರ)

ಪಟ್ಟಿ - II

(ಪ್ರಮುಖ ಕೈಗಾರಿಕೆಗಳು)

A. ಶಾಂಘೈ

1. ಹಡಗು ನಿರ್ಮಾಣ

B. ಚಿಕಾಗೋ

2. ಕಬ್ಬಿಣ ಮತ್ತು ಉಕ್ಕು

C. ಶಿಂಘಾಪುರ

3. ಹತ್ತಿಬಟ್ಟೆ ಕೈಗಾರಿಕೆ

D. ಯೋಕಾಹಾಮ

4. ಇಂಜಿನಿಯರಿಂಗ್

ಸಂಕೇತಗಳು :

	A	B	C	D
(A)	3	2	1	4
(B)	1	3	4	2
(C)	4	3	2	1
(D)	3	2	4	1

Space For Rough Work

82

79. Identify the factor does not effect the amount of Solar radiation received at the surface of the earth.

- (A) Inclination of Sun's rays
- (B) Presence of clouds in the atmosphere.
- (C) Rotation of the earth.
- (D) Duration of day.

80. Identify the waterbody separates Australia from New Zealand.

- (A) Tasman Sea
- (B) Cook Strait
- (C) Megallan Strait
- (D) Great Barrier Reef

81. Consider the following statements and select the correct answer from the codes given below :

**Assertion (A)** There are disparities in regional development on a global scale and within each country too.

**Reason (R)** Such disparities are mainly due to the lack of adequate skilled labour.

**Codes :**

- (A) Both (A) and (R) are correct, but (R) is the correct explanation of (A).
- (B) Both (A) and (R) are correct, but (R) is not the correct explanation of (A).
- (C) (A) is true, but (R) is false.
- (D) (A) is false, but (R) is true.

82. Match List - I with List - II and select the correct answer from the codes given below the lists.

**List - I**  
(City)

**List - II**  
(Important Industry)

- |              |                    |
|--------------|--------------------|
| A. Shanghai  | 1. Ship building   |
| B. Chicago   | 2. Iron and Steel  |
| C. Sheffield | 3. Cotton textiles |
| D. Yokohama  | 4. Engineering     |

**Codes :**

- |     | A | B | C | D |
|-----|---|---|---|---|
| (A) | 3 | 2 | 1 | 4 |
| (B) | 1 | 3 | 4 | 2 |
| (C) | 4 | 3 | 2 | 1 |
| (D) | 3 | 2 | 4 | 1 |

**Space For Rough Work**

83. ಕೆಳಕಂಡ ತೇವಯುತ ಪ್ರದೇಶಗಳನ್ನು ರಾಮ್ಸಾರ್ ಕ್ಷೇತ್ರಗಳೆಂದು ಗೊತ್ತುಪಡಿಸಲಾಗಿದೆ. ಅವುಗಳನ್ನು ಆಯ್ಕೆ ಮಾಡಿ.

1. ಚಿಲ್ಕಾ ಸರೋವರ
2. ಲೋಕ್ಪಾಕ್
3. ಕಿಯೋಲಾಡಿಯೋ
4. ಪುಲ್ಲಾರ್ ಸರೋವರ

ಕೆಳಗೆ ನೀಡಿರುವ ಸಂಕೇತಗಳ ಸಹಾಯದಿಂದ ಸರಿಯಾದ ಉತ್ತರವನ್ನು ಆಯ್ಕೆ ಮಾಡಿ.

- (A) 1 ಮತ್ತು 2
- (B) 2 ಮತ್ತು 3
- (C) 1, 2 ಮತ್ತು 3
- (D) ಇವುಗಳಲ್ಲಿ ಎಲ್ಲವೂ

84. ಆರ್ಥಿಕ ಬೆಳವಣಿಗೆಯು ಸಾಮಾನ್ಯವಾಗಿ ಇದರೊಟ್ಟಿಗೆ ಕಾರ್ಯ ನಿರ್ವಹಿಸುತ್ತದೆ

- (A) ಹಣದುಬ್ಬರವಿಳಿತ
- (B) ಹಣದುಬ್ಬರ
- (C) ಅತ್ಯಧಿಕ ಹಣದುಬ್ಬರ
- (D) ಸ್ಟಾಗ್ನೇಷನ್

85. ಭಾರತದಲ್ಲಿ ಹಣಕಾಸು ನೀತಿಯನ್ನು ರೂಪಿಸುವವರು

- (A) ಭಾರತೀಯ ರಿಜರ್ವ್ ಬ್ಯಾಂಕ್
- (B) ಯೋಜನಾ ಆಯೋಗ
- (C) ಹಣಕಾಸು ಸಚಿವರು
- (D) ಭಾರತದ ಭದ್ರತೆ ಮತ್ತು ವಿನಿಮಯ ಮಂಡಲ

86. ರಾಷ್ಟ್ರೀಯ ಕೃಷಿ ಮತ್ತು ಗ್ರಾಮೀಣಾಭಿವೃದ್ಧಿ ಬ್ಯಾಂಕ್‌ನ ಕೇಂದ್ರ ಕಛೇರಿ ಸ್ಥಾಪನೆ- ಗೊಂಡಿರುವುದು

- (A) ಲಕ್ನೋ
- (B) ಹೈದರಾಬಾದ್
- (C) ನವದೆಹಲಿ
- (D) ಮುಂಬೈ

Space For Rough Work

83. Select the following wetlands which are designated as Ramsar Sites :

1. Chilka lake
2. Loktak
3. Keoladeo
4. Wullar lake

Select the correct answer from the code given below :

- (A) 1 and 2
- (B) 2 and 3
- (C) 1, 2 and 3
- (D) All of these

84. Economic growth is usually coupled with

- (A) Deflation
- (B) Inflation
- (C) Hyper inflation
- (D) Stagflation

85. Fiscal policy in India is formulated by

- (A) The Reserve Bank of India
- (B) The Planning Commission
- (C) The Finance Minister
- (D) The Securities and Exchange Board of India

86. The Head Office of the National Bank for Agriculture and Rural Development (NABARD) located in

- (A) Lucknow
- (B) Hyderabad
- (C) New Delhi
- (D) Mumbai

Space For Rough Work



87. ಭಾರತೀಯ ಅರ್ಥಶಾಸ್ತ್ರಜ್ಞರಲ್ಲಿ, ರಾಷ್ಟ್ರೀಯ ಆದಾಯದ ಬಗ್ಗೆ ಪ್ರವರ್ತಕ ಕೆಲಸವನ್ನು ಮಾಡಿರುವವರು ಯಾರು ?

- (A) ಪಿ.ಎನ್. ಧಾರ್
- (B) ಪ್ರೊ. ಶೆಣೈ
- (C) ಎ.ಕೆ.ಆರ್.ಎ. ರಾವ್
- (D) ಜಗದೀಶ್ ಭಗವತಿ

88. ಭಾರತದ ಮೊಟ್ಟಮೊದಲ ಪಂಚವಾರ್ಷಿಕ ಯೋಜನೆಯು ಇದರ ತಳಹದಿಯ ಮೇಲೆ ಯೋಜಿಸಲಾಗಿತ್ತು

- (A) ಹೆರ್ಬರ್ಟ್ ಡೋಮರ್ ಮಾದರಿ
- (B) ಮಹಾಲನೋಬಿಸ್ ಮಾದರಿ
- (C) ದಾದಾಬಾಯಿ ನವರೋಜಿ ಮಾದರಿ
- (D) ಜೆ.ಎಲ್. ನೆಹರು ಮಾದರಿ

89. ಹೊಂದಿಸಿ ಬರೆಯಿರಿ.

ಪಟ್ಟಿ - I

ಪಟ್ಟಿ - II

A. ಪಿಂಕ್ ಕ್ರಾಂತಿ

1. ರಸಗೊಬ್ಬರ

ಉತ್ಪಾದನೆ

B. ಬೂದು ಕ್ರಾಂತಿ

2. ತೈಲಬೀಜಗಳ

ಉತ್ಪಾದನೆ

C. ದುಂಡು ಕ್ರಾಂತಿ

3. ಈರುಳ್ಳಿ ಉತ್ಪಾದನೆ

D. ಹಳದಿ ಕ್ರಾಂತಿ

4. ಆಲೂಗೆಡ್ಡೆ

ಉತ್ಪಾದನೆ

A B C D

(A) 3 1 2 4

(B) 3 4 2 1

(C) 3 4 1 2

(D) 3 1 4 2

Space For Rough Work

27

87. Among Indian economists, who had done pioneering work of National Income ?

- (A) P.N. Dhar
- (B) Prof. Shenoi
- (C) V.K.R.V. Rao
- (D) Jagadish Bhagwati

88. First Five Year Plan of India was based on the

- (A) Harrod Domar Model
- (B) Mahalanobis Model
- (C) Dadabhai Naoroji Model
- (D) J.L. Nehru Model

89. Match the following :

List - I		List - II	
A. Pink	1. Fertilizer		
Revolution	Production		
B. Grey	2. Oilseeds		
Revolution	Production		
C. Round	3. Onion		
Revolution	Production		
D. Yellow	4. Potato		
Revolution	Production		

	A	B	C	D
(A)	3	1	2	4
(B)	3	4	2	1
(C)	3	4	1	2
(D)	3	1	4	2

Space For Rough Work

90. ಅಭಿವೃದ್ಧಿಶೀಲ ರಾಷ್ಟ್ರಗಳಲ್ಲಿ ಅಂತರರಾಷ್ಟ್ರೀಯ ಅಭಿವೃದ್ಧಿ ಸಂಸ್ಥೆಯು ಮುಖ್ಯವಾಗಿ ಕೆಳಗಿನ ಯಾವ ಕ್ಷೇತ್ರಗಳಿಗೆ ಧನಸಹಾಯ ಮಾಡುತ್ತದೆ ಎಂದು ಗುರುತಿಸಿ.

- I. ಮೂಲಭೂತ ಸೌಲಭ್ಯ
- II. ಶಿಕ್ಷಣ
- III. ಪರಿಸರ ಸ್ನೇಹ ಯೋಜನೆಗಳು
- IV. ಆರೋಗ್ಯ ರಕ್ಷಣೆ

ಕೆಳಕಂಡ ಸಂಕೇತಗಳ ಸಹಾಯದಿಂದ ಸರಿಯುತ್ತಿರುವವನ್ನು ಆಯ್ಕೆಮಾಡಿ.

- (A) I, II ಮತ್ತು IV
- (B) I, II ಮತ್ತು III
- (C) II, III ಮತ್ತು IV
- (D) ಇವುಗಳಲ್ಲಿ ಎಲ್ಲವೂ

91. 2011 ರ ಜನಗಣತಿಯ ಪ್ರಕಾರ ಭಾರತದ ರಾಜ್ಯ/ಕೇಂದ್ರಾಡಳಿತ ಪ್ರದೇಶವೊಂದು ಅತಿ ಕಡಿಮೆ ಲಿಂಗಾನುಪಾತವನ್ನು ಹೊಂದಿದೆ. ಅದನ್ನು ಪತ್ತೆ ಮಾಡಿ.

- (A) ಹರಿಯಾಣ
- (B) ದಮನ್ ಮತ್ತು ದಿಯು
- (C) ಪಂಜಾಬ್
- (D) ದಾದ್ರ ಮತ್ತು ನಗರ್ ಹವೇಲಿ

92. ದೀರ್ಘ ಕಾಲಾವಧಿಯಲ್ಲಿ ಜನಸಂಖ್ಯಾ ಬೆಳವಣಿಗೆಯಲ್ಲಿ ಉಂಟಾಗಬಹುದಾದ ನಿರಂತರ ಬದಲಾವಣಾ ಸ್ಥಿತಿಯನ್ನು ಹೀಗೆ ಕರೆಯಲಾಗಿದೆ.

- (A) ಜನಸಂಖ್ಯಾ ಬಾಹುಳ್ಯ
- (B) ಜನಸಂಖ್ಯಾ ಚಲನಶೀಲತೆ
- (C) ಜನಸಂಖ್ಯಾ ಪರಿವರ್ತನೆ
- (D) ಜನಸಂಖ್ಯಾ ರೂಪಾಂತರತೆ

93. ಕೆಳಕಂಡ ಹೇಳಿಕೆಗಳನ್ನು ಗಮನಿಸಿ ಮತ್ತು ಕೆಳಗಿನ ಸಂಕೇತಗಳ ಸಹಾಯದಿಂದ ಸರಿಯಾದ ಉತ್ತರವನ್ನು ಆಯ್ಕೆ ಮಾಡಿ.

ಪ್ರತಿಪಾದನೆ (A) : ಗ್ರಾಮೀಣ ಕಲೆಗಳಿಗೆ ಪ್ರಮುಖ ಅವಶ್ಯಕವೆಂದರೆ ಸಾಲವಾಗಿದೆ.

ಕಾರಣ (R) : ಗ್ರಾಮೀಣ ಕೈಗಾರಿಕೆಗಳ ಅಭಿವೃದ್ಧಿಗೆ ಬ್ಯಾಂಕುಗಳ ಮುಂಗಡ ಸಾಲವೇ ಸಾಕಾಗುತ್ತದೆ.

ಸಂಕೇತಗಳು :

- (A) A ಮತ್ತು R ಗಳೆರಡೂ ಸರಿ ಆದರೆ A ಗೆ R ಸರಿಯಾದ ವಿವರಣೆಯಾಗಿದೆ.
- (B) A ಮತ್ತು R ಗಳೆರಡೂ ಸರಿ ಆದರೆ A ಗೆ R ಸರಿಯಾದ ವಿವರಣೆಯಲ್ಲ.
- (C) A ಸರಿ ಆದರೆ R ತಪ್ಪು.
- (D) A ತಪ್ಪು ಆದರೆ R ಸರಿ.

Space For Rough Work

9/11

90. Identify the areas given below which are mainly funded by the International Development Agency in the developing countries.

- I. Infrastructure
- II. Education
- III. Environment friendly projects
- IV. Health care

Select the correct answer using the codes given below :

- (A) I, II and IV
- (B) I, II and III
- (C) II, III and IV
- (D) All of these

91. Identify one of the Indian State/Union territory which has the lowest sex ratio in 2011 census ?

- (A) Haryana
- (B) Daman and Diu
- (C) Punjab
- (D) Dadra and Nagar Haveli

92. A gradual change in the manner of population growth occurring over a long period of time is known as

- (A) Population Explosion
- (B) Demographic Dynamism
- (C) Demographic Transition
- (D) Demographic Transformation

93. Consider the following statements and select the correct answer from the codes given below :

**Assertion (A) :** Credit is a major need of Rural artisans.

**Reason (R) :** Bank advances enough credit for the development of Rural Industries.

**Codes :**

- (A) Both (A) and (R) are correct, but (R) is the correct explanation of (A).
- (B) Both (A) and (R) are correct, but (R) is not the correct explanation of (A).
- (C) (A) is true, but (R) is false.
- (D) (A) is false, but (R) is true.

Space For Rough Work

94. ಸಂವಿಧಾನದ ಯಾವ ಭಾಗದಲ್ಲಿ ತುರ್ತು ನಿಬಂಧನೆಯನ್ನು ವಿವರಿಸಲಾಗಿದೆ ?
- (A) ಭಾಗ X  
(B) ಭಾಗ XV  
(C) ಭಾಗ XVI  
(D) ಭಾಗ XVIII
95. ಭಾರತದ ಉಪರಾಷ್ಟ್ರಪತಿ ಸ್ಥಾನವು ಈ ಕೆಳಗಿನ ಯಾವ ದೇಶದ ಉಪರಾಷ್ಟ್ರಪತಿಯ ಸ್ಥಾನವನ್ನು ಹೋಲುತ್ತದೆ ?
- (A) ಅಮೇರಿಕಾ  
(B) ಕೆನಡ  
(C) ಫ್ರಾನ್ಸ್  
(D) ಜಪಾನ್
96. ಭಾರತದ ರಾಜ್ಯಗಳ ಗಡಿಗಳನ್ನು ಬದಲಾಯಿಸುವ ಅಧಿಕಾರ ಯಾರು ಹೊಂದಿರುತ್ತಾರೆ ?
- (A) ರಾಜ್ಯ ಸರ್ಕಾರ  
(B) ಕೇಂದ್ರ ಶಾಸಕಾಂಗ  
(C) ರಾಷ್ಟ್ರಪತಿ  
(D) ಪ್ರಧಾನಮಂತ್ರಿ
97. ಭಾರತದ ರಾಷ್ಟ್ರಪತಿಯು ವಿಧಿ 352 ರ ಅಡಿಯಲ್ಲಿ ಮೊದಲ ಬಾರಿಗೆ ತುರ್ತುಪರಿಸ್ಥಿತಿಯ ಘೋಷಣೆಯನ್ನು ಯಾವಾಗ ಮಾಡಿದರು ?
- (A) ಅಕ್ಟೋಬರ್ 1961  
(B) ಅಕ್ಟೋಬರ್ 1962  
(C) ಅಕ್ಟೋಬರ್ 1963  
(D) ಅಕ್ಟೋಬರ್ 1964

98. ಡಾ. ಬಿ. ಆರ್. ಅಂಬೇಡ್ಕರ್ ರವರ ಶತಮಾನ ಉತ್ಸವದ ವರ್ಷ 1992 ನ್ನು ಸ್ಮರಣಾರ್ಥವಾಗಿ ಏನೆಂದು ಆಚರಿಸಲಾಯಿತು ?

- (A) ಸಾಮಾಜಿಕ ಸಮಾನತೆ ವರ್ಷ  
(B) ಸಂವಿಧಾನ ವರ್ಷ  
(C) ಮಾನವೀಯತೆಯ ವರ್ಷ  
(D) ಸಾಮಾಜಿಕ ನ್ಯಾಯ ವರ್ಷ

99. ಸಂವಿಧಾನ ರಚನಾ ಸಭೆಯ ಸದಸ್ಯರು

- (A) ಪ್ರಜೆಗಳಿಂದ ನೇರವಾಗಿ ಆಯ್ಕೆಯಾಗಿದ್ದರು  
(B) ಗವರ್ನರ್ ಜನರಲ್‌ರವರಿಂದ ನಾಮನಿರ್ದೇಶಿತವಾಗಿದ್ದರು  
(C) ಪ್ರಾಂತೀಯ ಸಭೆಗಳಿಂದ ಚುನಾಯಿತರಾಗಿದ್ದರು  
(D) ಕಾಂಗ್ರೆಸ್ ಮತ್ತು ಮುಸ್ಲಿಂ ಲೀಗ್‌ನಿಂದ ನಾಮನಿರ್ದೇಶಿತವಾಗಿದ್ದರು

100. ಯಾವ ಸಮಿತಿಯ ಶಿಫಾರಸ್ಸಿನ ಮೇರೆಗೆ ಭಾರತ ಸಂವಿಧಾನಕ್ಕೆ ಮೂಲಭೂತ ಕರ್ತವ್ಯಗಳನ್ನು ಸೇರಿಸಲಾಯಿತು ?

- (A) ಸ್ವರನ್ ಸಿಂಗ್ ಸಮಿತಿ  
(B) ಸಂತಾನಂ ಸಮಿತಿ  
(C) ಸರ್ಕಾರಿಯಾ ಆಯೋಗ  
(D) ಇಂದಿರಾ ಗಾಂಧಿ ಸಮಿತಿ

Space For Rough Work

94. Emergency provision has been explained in which part of the Constitution ?  
(A) Part X  
(B) Part XV  
(C) Part XVI  
(D) Part XVIII
95. The position of the Vice-President of India greatly resembles the position of the Vice President of which of the following country ?  
(A) United States of America  
(B) Canada  
(C) France  
(D) Japan
96. The authority to alter the boundaries of the States in India rests with  
(A) State Government  
(B) Parliament  
(C) President  
(D) Prime Minister
97. When was the first proclamation of Emergency under Article 352 made by the President of India ?  
(A) October, 1961  
(B) October, 1962  
(C) October, 1963  
(D) October, 1964
98. The year 1992, the commemoration of Dr. B.R. Ambedkar's birth centenary was celebrated as  
(A) Social Equality year  
(B) Constitution year  
(C) Humanitarian year  
(D) Social Justice year
99. The members of the Constituent Assembly were  
(A) Directly elected by the people.  
(B) Nominated by Governor-General.  
(C) Elected by the Provincial Assemblies  
(D) Nominated by Congress & Muslim League.
100. Fundamental duties were added to the Indian Constitution in accordance with the recommendation of which committee ?  
(A) Swaran Singh Committee  
(B) Santhanam Committee  
(C) Sarkaria Commission  
(D) Indira Gandhi Committee

Space For Rough Work

## COMPETITIVE EXAMINATION - 2019

DATE	SUBJECT	TIME	MAXIMUM MARKS	TOTAL DURATION	MAXIMUM TIME FOR ANSWERING
08-09-2019	GENERAL STUDIES (UPSC / KAS)	10.30 am to 12.30 pm	100	150 Minutes	120 Minutes

MENTION YOUR REGISTER NUMBER				QUESTION BOOKLET DETAILS	
				VERSION CODE	SERIAL NUMBER
				<b>A</b>	

**DOs:**

1. Candidate must verify that the Register Number and Name printed on the OMR Answer Sheet is tallying with the Register Number and Name printed on the Admission Ticket. Discrepancy if any, report to invigilator.
2. This question booklet is issued to you by the invigilator after the 2<sup>nd</sup> bell i.e., after 10.25 am.
3. Candidate must verify that the Version Code of this Question Booklet is tallying with the Version code on the OMR Answer Sheet. Discrepancy if any, report to invigilator.
4. The Version Code and Serial Number of this question booklet should be entered on the Nominal Roll without any mistakes.
5. Compulsorily affix the complete signature at the bottom portion of the OMR answer sheet in the space provided.

**DONTs:**

1. **THE TIMING AND MARKS PRINTED ON THE OMR ANSWER SHEET SHOULD NOT BE DAMAGED / MUTILATED / SPOILED.**
2. **The 3<sup>rd</sup> Bell rings at 10.30 am, till then;**
  - Do not remove the seal present on the right hand side of this question booklet.
  - Do not look inside this question booklet
  - Do not start answering on the OMR answer sheet.

**IMPORTANT INSTRUCTIONS TO CANDIDATES**

1. This question booklet contains 100 questions and each question will have one statement and four distracters. (Four different options / choices.)
2. After the 3<sup>rd</sup> Bell is rung at 10.30 am, remove the seal on the right hand side of this question booklet and check that this booklet does not have any unprinted or torn or missing pages or items etc., if so, get it replaced immediately by complete test booklet by showing it to Room Invigilator. Read each item and start answering on the OMR answer sheet.
3. During the subsequent 120 minutes :
  - Read each question carefully.
  - Choose the correct answer from out of the four available distracters (options / choices) given under each question / statement.
  - Completely **darken / shade** the relevant circle with a **blue or black ink ballpoint pen against the question number on the OMR answer sheet.**

ಸರಿಯಾದ ಕ್ರಮ CORRECT METHOD	ತಪ್ಪು ಕ್ರಮಗಳು WRONG METHODS

4. Please note that even a minute unintended ink dot on the OMR answer sheet will also be recognized and recorded by the scanner. Therefore, avoid multiple markings of any kind on the OMR answer sheet.
5. Use the space provided on each page of the question booklet for Rough Work. Do not use the OMR answer sheet for the same.
6. After the **last bell is rung at 12.30 pm**, stop writing on the OMR answer sheet and affix your **left hand thumb impression** on the OMR answer sheet as per the instructions.
7. Hand over the **OMR answer sheet** to the room invigilator as it is.
8. After separating the top sheet (KEA copy), the invigilator will return the bottom sheet replica (Candidate's copy) to you to carry home for self evaluation.
9. Preserve the replica of the OMR answer sheet for a minimum period of **ONE year**.
10. For every wrong answer, 0.25 marks will be deducted.

**NOTE :** In case of any discrepancy between English and Kannada Versions, English version will be taken as final.