

A2

ಸಾಮಾನ್ಯ ಜ್ಞಾನ : ಪತ್ರಿಕೆ-1

29/10/2023 5PM .JA

3230293

| ಪ್ರಶ್ನೆಪತ್ರಿಕೆ ಕೋಡ್ | ಅವಧಿ | ಒಟ್ಟು ಪ್ರಶ್ನೆಗಳ ಸಂಖ್ಯೆ | ನಿಮ್ಮ ನೋಂದಣಿ ಸಂಖ್ಯೆಯನ್ನು ನಮೂದಿಸಿ |
|---------------------|--------------|------------------------|----------------------------------|
| 202308GK3 | ಎರಡು ಘಂಟೆಗಳು | 100 | M Y 2 5 3 |

ಅಭ್ಯರ್ಥಿಗಳಿಗೆ ಸೂಚನೆಗಳು

SHIKHARAT.COM

ಮಾಡಿ

















1. ಕೊಠಡಿ ಮೇಲ್ವಿಚಾರಕರು ಈ ಪ್ರಶ್ನೆಪತ್ರಿಕೆಯನ್ನು ನಿಮಗೆ ಎರಡನೇ ಬೆಲ್ ಆದ ನಂತರ ಕೊಡುತ್ತಾರೆ.
2. ನೋಂದಣಿ ಸಂಖ್ಯೆಯನ್ನು ಓ.ಎಂ.ಆರ್. ಉತ್ತರ ಪತ್ರಿಕೆಯಲ್ಲಿ ಬರೆದು ಅದಕ್ಕೆ ಸಂಬಂಧಿಸಿದ ವ್ಯತ್ಯಾಸಗಳನ್ನು ಸಂಪೂರ್ಣವಾಗಿ ತುಂಬಿದ್ದೀರೆಂದು ಖಾತ್ರಿಪಡಿಸಿಕೊಳ್ಳತಕ್ಕದ್ದು.
3. ಪ್ರಶ್ನೆಪತ್ರಿಕೆಯ ವರ್ಷನ್ ಕೋಡ್ ಅನ್ನು ಓ.ಎಂ.ಆರ್. ಉತ್ತರ ಪತ್ರಿಕೆಯಲ್ಲಿ ಬರೆದು ಅದಕ್ಕೆ ಸಂಬಂಧಿಸಿದ ವ್ಯತ್ಯಾಸಗಳನ್ನು ಸಂಪೂರ್ಣವಾಗಿ ತುಂಬಬೇಕು.
4. ಪ್ರಶ್ನೆ ಪತ್ರಿಕೆಯ ವರ್ಷನ್ ಕೋಡ್ ಮತ್ತು ಕ್ರಮ ಸಂಖ್ಯೆಯನ್ನು ನಾಮಿನಲ್ ರೋಲ್‌ನಲ್ಲಿ ತಪ್ಪಿಲ್ಲದೆ ಬರೆಯಬೇಕು.
5. ಓ.ಎಂ.ಆರ್. ಉತ್ತರ ಪತ್ರಿಕೆಯ ಕೆಳಭಾಗದ ನಿಗದಿತ ಜಾಗದಲ್ಲಿ ಪೂರ್ಣ ಸಹಿ ಮಾಡಬೇಕು.

ಮಾಡಬೇಡಿ

1. ಓ.ಎಂ.ಆರ್. ಉತ್ತರ ಪತ್ರಿಕೆಯಲ್ಲಿ ಮುದ್ರಿತವಾಗಿರುವ ಟೈಮಿಂಗ್ & ಮಾರ್ಕನ್ನು ತಿದ್ದಬಾರದು / ಹಾಳುಮಾಡಬಾರದು / ಅಳಿಸಬಾರದು.
2. ಮೂರನೇ ಬೆಲ್ ಆಗುವವರೆಗೂ,
 - ಪ್ರಶ್ನೆ ಪತ್ರಿಕೆಯ ಬಲಭಾಗದಲ್ಲಿರುವ ಸೀಲ್ ಅನ್ನು ತೆಗೆಯಬಾರದು.
 - ಪ್ರಶ್ನೆ ಪತ್ರಿಕೆಯ ಒಳಗಡೆ ಇರುವ ಪ್ರಶ್ನೆಗಳನ್ನು ನೋಡಲು ಪ್ರಯತ್ನಿಸಬಾರದು ಅಥವಾ ಓ.ಎಂ.ಆರ್. ಉತ್ತರ ಪತ್ರಿಕೆಯಲ್ಲಿ ಉತ್ತರಿಸಲು ಪ್ರಾರಂಭಿಸಬಾರದು.

ಅಭ್ಯರ್ಥಿಗಳಿಗೆ ಮುಖ್ಯ ಸೂಚನೆಗಳು

1. ಪ್ರಶ್ನೆಗಳಲ್ಲಿ ಬಳಸಿರುವ signs and symbols ಗಳನ್ನು, ಬೇರೆ ರೀತಿಯಲ್ಲಿ ಹೇಳಿದ ಹೊರತು, ನಿಗದಿತ ಪಠ್ಯ ಪುಸ್ತಕದಲ್ಲಿನ ಅರ್ಥವನ್ನು ಪರಿಗಣಿಸಬೇಕು.
2. ಪ್ರಶ್ನೆ ಪತ್ರಿಕೆಯಲ್ಲಿ ಒಟ್ಟು 100 ಪ್ರಶ್ನೆಗಳಿದ್ದು, ಪ್ರತಿ ಪ್ರಶ್ನೆಗೂ 4 ಬಹು ಆಯ್ಕೆ ಉತ್ತರಗಳು ಇರುತ್ತವೆ. ಪ್ರತಿ ಪ್ರಶ್ನೆಯ ಕೆಳಗೆ ಕೊಟ್ಟಿರುವ ನಾಲ್ಕು ಬಹು ಆಯ್ಕೆಯ ಉತ್ತರಗಳಲ್ಲಿ ಸರಿಯಾದ ಒಂದು ಉತ್ತರವನ್ನು ಆಯ್ಕೆ ಮಾಡಿ.
3. ಮೂರನೇ ಬೆಲ್ ನಂತರ ಪ್ರಶ್ನೆ ಪತ್ರಿಕೆಯ ಬಲಭಾಗದಲ್ಲಿರುವ ಸೀಲ್ ತೆಗೆದು ಈ ಪ್ರಶ್ನೆ ಪತ್ರಿಕೆಯಲ್ಲಿ ಯಾವುದೇ ಪುಟಗಳು ಮುದ್ರಿತವಾಗಿಲ್ಲದೇ ಇರುವುದು ಕಂಡು ಬಂದಲ್ಲಿ ಅಥವಾ ಹರಿದು ಹೋಗಿದ್ದಲ್ಲಿ ಅಥವಾ ಯಾವುದೇ ಅಕ್ಷರಗಳು ಬಿಟ್ಟುಹೋಗಿದ್ದಲ್ಲಿ ಎಂಬುದನ್ನು ಖಚಿತಪಡಿಸಿಕೊಂಡು, ಈ ರೀತಿ ಆಗಿದ್ದರೆ ಕೂಡಲೇ ಪ್ರಶ್ನೆಪತ್ರಿಕೆಯನ್ನು ಬದಲಾಯಿಸಿಕೊಳ್ಳುವುದು ನಂತರ ಓ.ಎಂ.ಆರ್. ಉತ್ತರ ಪತ್ರಿಕೆಯಲ್ಲಿ ಉತ್ತರಿಸಲು ಪ್ರಾರಂಭಿಸುವುದು.
4. ಪ್ರಶ್ನೆ ಪತ್ರಿಕೆಯಲ್ಲಿನ ಪ್ರಶ್ನೆಗೆ ಅನುಗುಣವಾಗಿರುವ ಸರಿ ಉತ್ತರವನ್ನು ಓ.ಎಂ.ಆರ್. ಉತ್ತರ ಪತ್ರಿಕೆಯಲ್ಲಿ ಅದೇ ಕ್ರಮ ಸಂಖ್ಯೆಯ ಮುಂದೆ ನೀಡಿರುವ ಸಂಬಂಧಿಸಿದ ವ್ಯತ್ಯಾಸವನ್ನು ನೀಡಿ ಅಥವಾ ಕಪ್ಪು ಶಾಯಿಯ ಬಾಲ್ ಪಾಯಿಂಟ್ ಪೆನ್‌ನಿಂದ ಸಂಪೂರ್ಣ ತುಂಬುವುದು.

| ಸರಿಯಾದ ಕ್ರಮ CORRECT METHOD | ತಪ್ಪು ಕ್ರಮಗಳು WRONG METHODS |
|---|---|
|     |             |

5. ಈ ಓ.ಎಂ.ಆರ್. ಉತ್ತರ ಪತ್ರಿಕೆಯನ್ನು ಸ್ಯಾನ್ ಮಾಡುವ ಸ್ಯಾನ್ ಬಹಳ ಸೂಕ್ಷ್ಮವಾಗಿದ್ದು ಸಣ್ಣ ಗುರುತನ್ನು ಸಹ ದಾಖಲಿಸುತ್ತದೆ. ಆದ್ದರಿಂದ ಓ.ಎಂ.ಆರ್. ಉತ್ತರ ಪತ್ರಿಕೆಯಲ್ಲಿ ಉತ್ತರಿಸುವಾಗ ಎಚ್ಚರಿಕೆ ವಹಿಸಿ.
6. ಪ್ರಶ್ನೆ ಪತ್ರಿಕೆಯಲ್ಲಿ ಕೊಟ್ಟಿರುವ ಖಾಲಿ ಜಾಗವನ್ನು ರಫ್ ಕೆಲಸಕ್ಕೆ ಉಪಯೋಗಿಸಿ. ಓ.ಎಂ.ಆರ್. ಉತ್ತರ ಪತ್ರಿಕೆಯನ್ನು ಇದಕ್ಕೆ ಉಪಯೋಗಿಸಬೇಡಿ.
7. ಕೊನೆಯ ಬೆಲ್ ಆದ ನಂತರ ಉತ್ತರಿಸುವುದನ್ನು ನಿಲ್ಲಿಸಿ, ಓ.ಎಂ.ಆರ್. ಉತ್ತರ ಪತ್ರಿಕೆಯನ್ನು ಕೊಠಡಿ ಮೇಲ್ವಿಚಾರಕರಿಗೆ ಯಥಾಸ್ಥಿತಿಯಲ್ಲಿ ನೀಡಿ.
8. ಕೊಠಡಿ ಮೇಲ್ವಿಚಾರಕರು ಮೇಲ್ಭಾಗದ ಹಾಳೆಯನ್ನು ಪ್ರತ್ಯೇಕಿಸಿ(ಕಚೇರಿ ಪ್ರತಿ) ತನ್ನ ವರದಲ್ಲಿ ಇಟ್ಟುಕೊಂಡು ತಳಬದಿಯ ಯಥಾಪ್ರತಿಯನ್ನು(ಅಭ್ಯರ್ಥಿ ಪ್ರತಿ) ಅಭ್ಯರ್ಥಿಗಳಿಗೆ ಕೊಡುತ್ತಾರೆ.
9. ಎಲ್ಲಾ ಪ್ರಶ್ನೆಗಳಿಗೆ ಸಮಾನ ಅಂಕಗಳಿರುತ್ತವೆ. ಪ್ರತಿ ತಪ್ಪು ಉತ್ತರಕ್ಕೆ ನಿಗದಿತವಿರುವ ಅಂಕಗಳ 1/4 (0.25) ರಷ್ಟು ಅಂಕಗಳನ್ನು ಕಳೆಯಲಾಗುವುದು.
10. ಯಾವುದೇ ರೀತಿಯ ಮೊಬೈಲ್ ಫೋನ್, ಕ್ಯಾಲಕ್ಯುಲೇಟರ್ ಮತ್ತು ಇತರೆ ರೀತಿಯ ಎಲೆಕ್ಟ್ರಾನಿಕ್/ಕಮ್ಯುನಿಕೇಷನ್ ಸಾಧನಗಳು ಇತ್ಯಾದಿಗಳನ್ನು ಪರೀಕ್ಷಾ ಕೇಂದ್ರದ ಆವರಣದೊಳಗೆ ತರುವುದನ್ನು ನಿಷೇಧಿಸಿದೆ.

ಸೂಚನೆ : ಕನ್ನಡ ಆವೃತ್ತಿಯ ಪ್ರಶ್ನೆಗಳಲ್ಲಿ ಉತ್ತರಿಸುವ ಅಭ್ಯರ್ಥಿಗಳಿಗೆ ಕನ್ನಡದಲ್ಲಿ ಮುದ್ರಿತವಾಗಿರುವ ಪ್ರಶ್ನೆಗಳ ಬಗ್ಗೆ ಏನಾದರೂ ಸಂದೇಹವಿದ್ದಲ್ಲಿ ಇಂಗ್ಲಿಷ್ ಆವೃತ್ತಿಯ ಪ್ರಶ್ನೆಪತ್ರಿಕೆಯನ್ನು ನೋಡಬಹುದು. ಏನಾದರೂ ವ್ಯತ್ಯಾಸ ಕಂಡುಬಂದಲ್ಲಿ ಇಂಗ್ಲಿಷ್ ಆವೃತ್ತಿಯನ್ನು ಅಂತಿಮ ಎಂದು ಪರಿಗಣಿಸಲಾಗುವುದು.

1. Micro credit programme is defined as
 - (A) credit provision made by large farmers
 - (B) credit provision made by self-help groups to their members
 - (C) credit provision made by banks
 - (D) credit provision made by small farmers

2. One of the following is not a component of foreign exchange reserves in India :
 - (A) SDR holdings of government
 - (B) Gold Stock of RBI
 - (C) Foreign exchange assets of government
 - (D) Foreign Exchange reserves of RBI

3. Soil Health Card Scheme was introduced in which of the following year ?
 - (A) 2015
 - (B) 2009
 - (C) 2016
 - (D) 2014

4. The 'World Economic Outlook Report' is released by :
 - (A) Asian Development Fund
 - (B) World Bank
 - (C) International Labour Organisation
 - (D) International Monetary Fund

5. Which of the following is / are the example(s) of Transfer Payment(s) ?
 1. Unemployment allowance
 2. Payment of salary
 3. Social security payments
 4. Old age pension
 Select the correct answer using the code given below :
 - (A) 1, 3 and 4
 - (B) 1 and 3
 - (C) None of these
 - (D) 1, 2 and 3

6. On which of the following National Panchayath Raj day is celebrated in India ?
 - (A) 5th September
 - (B) 1st May
 - (C) 24th April
 - (D) 5th August

7. Which of the following was launched by Prime Minister to strengthen Panchayath Raj in villages ?
 - (A) Grameena Ujwal se Bharath Ujwal
 - (B) Gram Uday se Bharat Uday Abhiyan
 - (C) Grameena Pragathi se Bharath Pragathi
 - (D) Gram Vikas se Bharath Vikas Movement

8. The 'Rice Gene Bank' of the world is situated in
 - (A) Japan
 - (B) China
 - (C) India
 - (D) Philippines

9. The Jawaharlal Nehru Award is for
 - (A) International Understanding
 - (B) Government Service
 - (C) Social Work
 - (D) Literary Work

Space For Rough Work

1. ಮೈಕ್ರೋ ಕ್ರೆಡಿಟ್ ಪ್ರೋಗ್ರಾಂ ಅನ್ನು ಹೀಗೆ ವ್ಯಾಖ್ಯಾನಿಸಲಾಗಿದೆ
 (A) ದೊಡ್ಡ ರೈತರು ಮಾಡಿದ ಸಾಲ ಸೌಲಭ್ಯ
 (B) ಸ್ವಸಹಾಯ ಗುಂಪುಗಳು ತಮ್ಮ ಸದಸ್ಯರಿಗೆ ಸಾಲವನ್ನು ಒದಗಿಸುತ್ತದೆ.
 (C) ಬ್ಯಾಂಕುಗಳಿಂದ ಮಾಡಿದ ಸಾಲ ಸೌಲಭ್ಯ
 (D) ಸಣ್ಣ ರೈತರು ಮಾಡಿದ ಸಾಲ ಸೌಲಭ್ಯ
2. ಈ ಕೆಳಗಿನವುಗಳಲ್ಲಿ ಯಾವುದು ಭಾರತದ ವಿದೇಶೀ ವಿನಿಮಯ ಸಂಗ್ರಹದ ಭಾಗವಾಗಿಲ್ಲ ?
 (A) ಸರ್ಕಾರ ಹೊಂದಿರುವ ಎಸ್‌ಡಿಆರ್ ಗಳು (B) ಆರ್‌ಬಿಐ ನ ಬಳಿಯಿರುವ ಚಿನ್ನದ ಸಂಗ್ರಹ
 (C) ಸರ್ಕಾರದ ಬಳಿಯಿರುವ ವಿದೇಶೀ ವಿನಿಮಯ ಸಂಗ್ರಹ (D) ಆರ್‌ಬಿಐ ಬಳಿಯಿರುವ ವಿದೇಶೀ ವಿನಿಮಯ ಸಂಗ್ರಹ
3. ಈ ಕೆಳಗಿನವುಗಳಲ್ಲಿ ಯಾವಾಗ ಮಣ್ಣಿನ ಆರೋಗ್ಯ ಕಾರ್ಡ್ ಯೋಜನೆ (Soil Health Card Scheme) ಯನ್ನು ಪರಿಚಯಿಸಲಾಯಿತು ?
 (A) 2015 (B) 2009 (C) 2016 (D) 2014
4. 'ದಿ ವರ್ಲ್ಡ್ ಇಕನಾಮಿಕ್ ಔಟ್‌ಲುಕ್ ರಿಪೋರ್ಟ್' ಅನ್ನು ಯಾರು ಬಿಡುಗಡೆ ಮಾಡುತ್ತಾರೆ ?
 (A) ಏಷ್ಯಾ ಅಭಿವೃದ್ಧಿ ನಿಧಿ (B) ವಿಶ್ವ ಬ್ಯಾಂಕ್
 (C) ಅಂತಾರಾಷ್ಟ್ರೀಯ ಕಾರ್ಮಿಕ ಸಂಘಟನೆ (D) ಅಂತಾರಾಷ್ಟ್ರೀಯ ಹಣಕಾಸಿನ ನಿಧಿ
5. ಈ ಕೆಳಗಿನವುಗಳಲ್ಲಿ ಯಾವುದು / ಯಾವುವು ವರ್ಗಾವಣೆ ಪಾವತಿ (ಗಳ) ಉದಾಹರಣೆಗಳು ?
 1. ನಿರುದ್ಯೋಗ ಭತ್ಯೆ 2. ಸಂಬಳ ಪಾವತಿ
 3. ಸಾಮಾಜಿಕ ಭದ್ರತೆ ಪಾವತಿಗಳು 4. ವೃದ್ಧಾಪ್ಯ ವೇತನ
 ಈ ಕೆಳಗಿನ ಕೋಡುಗಳಲ್ಲಿ ಸರಿಯಾದುದನ್ನು ಆಯ್ಕೆ ಮಾಡಿರಿ.
 (A) 1, 3 ಮತ್ತು 4 (B) 1 ಮತ್ತು 3 (C) ಇವುಗಳಲ್ಲಿ ಯಾವುದೂ ಅಲ್ಲ (D) 1, 2 ಮತ್ತು 3
6. ಈ ಕೆಳಗಿನ ಯಾವ ದಿನದಂದು ರಾಷ್ಟ್ರೀಯ ಪಂಚಾಯತ್ ರಾಜ್ ದಿನವನ್ನು ಭಾರತದಲ್ಲಿ ಆಚರಿಸಲಾಗುತ್ತದೆ ?
 (A) 5ನೇ ಸೆಪ್ಟೆಂಬರ್ (B) 1ನೇ ಮೇ (C) 24ನೇ ಏಪ್ರಿಲ್ (D) 5ನೇ ಆಗಸ್ಟ್
7. ಗ್ರಾಮಗಳಲ್ಲಿ ಪಂಚಾಯತ್ ರಾಜ್ ಅನ್ನು ಬಲಪಡಿಸಲು ಪ್ರಧಾನ ಮಂತ್ರಿಗಳು ಈ ಕೆಳಗಿನವುಗಳಲ್ಲಿ ಯಾವುದನ್ನು ಪ್ರಾರಂಭಿಸಿದರು ?
 (A) ಗ್ರಾಮೀಣ ಉಜ್ವಲ್ ಸೇ ಭಾರತ್ ಉಜ್ವಲ್ (B) ಗ್ರಾಮ್ ಉದಯ್ ಸೇ ಭಾರತ್ ಉದಯ್ ಅಭಿಯಾನ
 (C) ಗ್ರಾಮೀಣ ಪ್ರಗತಿ ಸೇ ಭಾರತ್ ಪ್ರಗತಿ (D) ಗ್ರಾಮ್ ವಿಕಾಸ್ ಸೇ ಭಾರತ್ ವಿಕಾಸ್ ಚಳುವಳಿ
8. ವಿಶ್ವದ 'ಭತ್ತದ ಜೀನ್ ಬ್ಯಾಂಕ್' ಎಲ್ಲಿದೆ ?
 (A) ಜಪಾನ್ (B) ಚೀನಾ (C) ಭಾರತ (D) ಫಿಲಿಪೈನ್ಸ್
9. ಜವಾಹರಲಾಲ್ ನೆಹರೂ ಪ್ರಶಸ್ತಿಯನ್ನು ಯಾವ ಕ್ಷೇತ್ರಕ್ಕೆ ನೀಡಲಾಗುತ್ತದೆ ?
 (A) ಅಂತಾರಾಷ್ಟ್ರೀಯ ತಿಳಿವಳಿಕೆ (B) ಸರ್ಕಾರಿ ಸೇವೆ
 (C) ಸಮಾಜ ಕಾರ್ಯ (D) ಸಾಹಿತ್ಯಿಕ ಕಾರ್ಯ

Space For Rough Work

10. If "TEACHER" is coded as 'VGCEJGT', what will be the code for 'CHILDREN' ?
 (A) EJKNFGTO (B) EJKNFTGP
 (C) EJKNEGTP (D) EJKNFHTP
11. In a certain code language '3a, 2b, 7c' means 'Truth is Eternal', '7c, 9a, 8b, 3a' means 'Enmity is not Eternal' and '9a, 4d, 2b, 8b' means 'Truth does not Perish'. Which of the following means 'Enmity' in that language ?
 (A) 8b (B) 3a (C) 9a (D) 7c
12. In the following question find out the missing term from the given alternatives.
 $\frac{T}{J} : 2 :: \frac{X}{H} : ?$
 (A) $\frac{23}{7}$ (B) 2 (C) 4 (D) 3
13. Pointing to a man, a woman said, "He is the only son-in-law of my mother's father". How is the woman related to that man ?
 (A) Sister (B) Aunt (C) Wife (D) Daughter
14. The waste product from coal fired thermal power plants used in bricks, pavement blocks and cement is called
 (A) Feldspar (B) Fly ash (C) Bagasse (D) Flue gas
15. The island country expected to be submerged first due to rising sea levels is
 (A) Trinidad and Tobago (B) Maldives
 (C) Seychelles (D) Kiribati
16. Global dimming refer to
 (A) reduction in suspended particulate matter in atmosphere
 (B) increased carbon-di-oxide in upper atmosphere
 (C) reduction of solar irradiance
 (D) decreased ozone levels in lower atmosphere
17. Osteoarthritic crippling disorder endemic to Malenadu region, identified around 1975 is called _____.
 (A) Swine flu (B) Kyasanur Forest Disease
 (C) Filariasis (D) Handigodu Syndrome
18. In which of the following year Co-operative Societies Act was passed ?
 (A) 1951 (B) 1912 (C) 1950 (D) 1947

Space For Rough Work

10. ಒಂದು ವೇಳೆ "TEACHER" ಅನ್ನು 'VGCEJGT' ಎಂದು ಸಂಕೇತಾಕ್ಷರದಲ್ಲಿ ಬರೆದರೆ 'CHILDREN' ಅನ್ನು ಸಂಕೇತಾಕ್ಷರದಲ್ಲಿ ಹೇಗೆ ಬರೆಯಲಾಗುತ್ತದೆ ?
 (A) EJKNFGTO (B) EJKNFTGP (C) EJKNEGTP (D) EJKNFHTP
11. ಯಾವುದೋ ಒಂದು ಸಂಕೇತ ಭಾಷೆಯಲ್ಲಿ '3a, 2b, 7c' ಎಂದರೆ 'Truth is Eternal' ಎಂದಾಗುತ್ತದೆ. '7c, 9a, 8b, 3a' ಎಂದರೆ 'Enmity is not Eternal' ಮತ್ತು '9a, 4d, 2b, 8b' ಎಂದರೆ 'Truth does not Perish' ಎಂದಾದರೆ, ಈ ಕೆಳಗಿನವುಗಳಲ್ಲಿ ಯಾವುದು ಆ ಭಾಷೆಯಲ್ಲಿ 'Enmity' ಯನ್ನು ಸೂಚಿಸುತ್ತದೆ ?
 (A) 8b (B) 3a (C) 9a (D) 7c
12. ಈ ಕೆಳಗಿನ ಪ್ರಶ್ನೆಯಲ್ಲಿ ಬಿಟ್ಟುಹೋಗಿರುವ ಸಂಖ್ಯೆಯನ್ನು ಕೆಳಗೆ ನೀಡಲಾದ ಆಯ್ಕೆಗಳಿಂದ ಹುಡುಕಿ ಬರೆಯಿರಿ.
 $\frac{T}{J} : 2 :: \frac{X}{H} : ?$
 (A) $\frac{23}{7}$ (B) 2 (C) 4 (D) 3
13. ಒಬ್ಬ ಪುರುಷನನ್ನು ತೋರಿಸಿ ಮಹಿಳೆಯೊಬ್ಬರು "ಇವನು ನನ್ನ ತಾಯಿಯ ತಂದೆಯ ಒಬ್ಬನೇ ಆಳಿಯ" ಎಂದರು. ಆ ಮಹಿಳೆಯು ಪುರುಷನಿಗೆ ಹೇಗೆ ಸಂಬಂಧಿತಳು ?
 (A) ಸಹೋದರಿ (B) ಚಿಕ್ಕಮ್ಮ / ದೊಡ್ಡಮ್ಮ (C) ಹೆಂಡತಿ (D) ಮಗಳು
14. ಇಟ್ಟಿಗೆ, ಪಾದಾಚಾರಿ ಬ್ಲಾಕ್‌ಗಳು ಮತ್ತು ಸೀಮೆಂಟ್‌ಗಳಲ್ಲಿ ಬಳಸಲಾಗುವ ಕಲ್ಲಿದ್ದಲಿನ ಉಷ್ಣ ವಿದ್ಯುತ್ ಸ್ಥಾವರಗಳ ತ್ಯಾಜ್ಯ ಉತ್ಪನ್ನವನ್ನು ಏನೆಂದು ಕರೆಯಲಾಗುತ್ತದೆ ?
 (A) ಫೆಲ್ಡ್‌ಸ್ಟರ್ (B) ಹಾರುಬೂದಿ (C) ಬಗಾಸ್ (D) ಪ್ಲೂ ಗ್ಯಾಸ್
15. ಏರುತ್ತಿರುವ ಸಮುದ್ರ ಮಟ್ಟದಿಂದಾಗಿ ಮೊದಲು ಮುಳುಗುವ ನಿರೀಕ್ಷೆಯಿರುವ ದ್ವೀಪ ದೇಶವು
 (A) ಟಿನಿದಾದ್ ಮತ್ತು ಟೊಬ್ಯಾಗೋ (B) ಮಾಲ್ಡೀವ್ಸ್
 (C) ಸೈಚೆಲ್ಲೆಸ್ (D) ಕಿರಿಬಾಟಿ
16. ಜಾಗತಿಕ ಮಬ್ಬಾಗಿಸುವಿಕೆ ಏನನ್ನು ಸೂಚಿಸುತ್ತದೆ ?
 (A) ವಾತಾವರಣದಲ್ಲಿ ಅಮಾನತುಗೊಂಡಿರುವ ಕಣಗಳ ಕಡಿತ (B) ಮೇಲಿನ ವಾತಾವರಣದಲ್ಲಿ ಹೆಚ್ಚಿದ ಇಂಗಾಲ ಡೈಆಕ್ಸೈಡ್
 (C) ಸೌರ ವಿಕಿರಣದ ಕಡಿತ (D) ಕೆಳಗಿನ ವಾತಾವರಣದ ಕಮ್ಮಿಯಾದ ಓಜೋನ್ ಮಟ್ಟ
17. ಮಲೆನಾಡು ಪ್ರದೇಶದ ಸ್ಥಳೀಯ ಅಸ್ಥಿ ಸಂಧಿವಾತದ ಕ್ರಿಪ್ಲಿಂಗ್ ಡಿಸ್‌ಆರ್ಡರ್ ಅನ್ನು 1975 ರಲ್ಲಿ ಗುರುತಿಸಲಾಗಿದ್ದು, _____ ಎಂದು ಕರೆಯಲಾಗಿದೆ.
 (A) ಸ್ಟೆನ್‌ಫೋರ್ಡ್ (B) ಕ್ಯಾಸನೂರು ಕಾಡು ರೋಗ
 (C) ಫಿಲಿರಿಯಾಸಿಸ್ (D) ಹಂದಿಗೋಡು ಸಿಂಡ್ರೋಮ್
18. ಕೆಳಗಿನ ಯಾವ ವರ್ಷದಲ್ಲಿ ಸಹಕಾರ ಸಂಘಗಳ ಕಾಯಿದೆಯನ್ನು ಅಂಗೀಕರಿಸಲಾಗಿದೆ ?
 (A) 1951 (B) 1912 (C) 1950 (D) 1947


Space For Rough Work

19. The unit of measurement of ambient noise is
(A) Decibel (B) REM (C) Millibar (D) Lumen
20. Reverse osmosis is a method employed to remove minerals from
(A) Potable water and treated waste water (B) Polluted air
(C) Industrial flue gas (D) Contaminated agricultural produce
21. The amount of oxygen required by aerobic micro-organisms in order to decompose organic matter in water bodies is referred to as
(A) VOC (B) BOD (C) DO (D) COD
22. Indar walked 25 m towards south. Then turning to his right, he walks 30 m. Then turning to his left, he walks 20 m. Again, he turns to his left and walks 30 m. How far is he from his initial position ?
(A) 45 m (B) 20 m (C) 80 m (D) 30 m
23. An ecosystem is characterized by
(A) an interaction between abiotic and biotic components associated with cycling of matter and unidirectional flow of energy
(B) a mere presence of plants that are adapted to that region
(C) an interaction among abiotic components including cycling of energy
(D) a presence of animals that live and reproduce in that region
24. A significant environmental issue associated with using incompletely treated sewage for agriculture is
(A) accumulation of heavy metals in soils
(B) pumping of treated sewage
(C) reduction of water availability in urban areas
(D) lack of nutrients
25. When molten magma reaches the Earth's surface releasing lava, gases and ash, it is called
(A) El-nino southern oscillation (B) an earthquake
(C) land slide (D) a volcano
26. The single flow model, the 'Y' shaped model and the universal model are utilized to depict _____ in an ecosystem.
(A) exchange of matter
(B) energy transfer through successive trophic levels
(C) cycling of energy
(D) transfer of biomass

Space For Rough Work

19. ಸುತ್ತವರಿದ ಶಬ್ದದ ಮಾಪನದ ಘಟಕವಾಗಿದೆ
 (A) ಡೆಸಿಬೆಲ್ (B) ಆರ್‌ಇಎಮ್
 (C) ಮಿಲಿಬಾರ್ (D) ಲ್ಯುಮೆನ್
20. ರಿವರ್ಸ್ ಓಸ್ಮೋಸಿಸ್, ಯಾವುದರಿಂದ ಖನಿಜಗಳನ್ನು ತೆಗೆದುಹಾಕಲು ಬಳಸುವ ಒಂದು ವಿಧಾನವಾಗಿದೆ ?
 (A) ಕುಡಿಯುವ ನೀರು ಮತ್ತು ಸಂಸ್ಕರಿಸಿದ ತ್ಯಾಜ್ಯ ನೀರು (B) ಕಲುಷಿತ ಗಾಳಿ
 (C) ಕೈಗಾರಿಕಾ ಪ್ಲೂಗ್ಯಾಸ್ (D) ಕಲುಷಿತ ಕೃಷಿ ಉತ್ಪನ್ನ
21. ಜಲಮೂಲಗಳಲ್ಲಿ ಸಾವಯವ ಪದಾರ್ಥಗಳನ್ನು ಕೊಳೆಯಲು ಏರೋಬಿಕ್ ಸೂಕ್ಷ್ಮಜೀವಿಗಳಿಗೆ ಅಗತ್ಯವಿರುವ ಆಮ್ಲಜನಕದ ಪ್ರಮಾಣವನ್ನು ಹೀಗೆ ಉಲ್ಲೇಖಿಸಲಾಗುತ್ತದೆ ?
 (A) VOC (B) BOD (C) DO (D) COD
22. ಇಂದರ್ ದಕ್ಷಿಣದ ಕಡೆಗೆ 25 ಮೀ. ನಡೆದು ನಂತರ, ಅವನ ಬಲಕ್ಕೆ ತಿರುಗಿ 30 ಮೀ. ನಡೆಯುತ್ತಾನೆ. ನಂತರ ಅವನ ಎಡಕ್ಕೆ ತಿರುಗಿ 20 ಮೀ. ನಡೆಯುತ್ತಾನೆ. ಪುನಃ ಅವನು ತನ್ನ ಎಡಕ್ಕೆ ತಿರುಗುತ್ತಾನೆ ಮತ್ತು 30 ಮೀ. ನಡೆಯುತ್ತಾನೆ. ಈಗ ಅವನು ತನ್ನ ಪ್ರಾರಂಭದ ಸ್ಥಾನದಿಂದ ಎಷ್ಟು ದೂರದಲ್ಲಿದ್ದಾನೆ ?
 (A) 45 ಮೀ. (B) 20 ಮೀ. (C) 80 ಮೀ. (D) 30 ಮೀ.
23. ಪರಿಸರ ವ್ಯವಸ್ಥೆಯು ವಿಶಿಷ್ಟವಾಗಿದೆ
 (A) ವಸ್ತುವಿನ ಸೈಕ್ಲಿಂಗ್ ಮತ್ತು ಶಕ್ತಿಯ ಏಕಮುಖ ಹರಿವಿಗೆ ಸಂಬಂಧಿಸಿದ ಅಜೈವಿಕ ಮತ್ತು ಜೈವಿಕ ಘಟಕಗಳ ನಡುವಿನ ಪರಸ್ಪರ ಕ್ರಿಯೆ
 (B) ಆ ಪ್ರದೇಶಕ್ಕೆ ಅಳವಡಿಸಿಕೊಂಡ ಸಸ್ಯಗಳ ಕೇವಲ ಉಪಸ್ಥಿತಿ
 (C) ಶಕ್ತಿಯ ಸೈಕ್ಲಿಂಗ್ ಸೇರಿದಂತೆ ಅಜೀವಕ ಘಟಕಗಳ ನಡುವಿನ ಪರಸ್ಪರ ಕ್ರಿಯೆ
 (D) ಆ ಪ್ರದೇಶದಲ್ಲಿ ವಾಸಿಸುವ ಮತ್ತು ಸಂತಾನೋತ್ಪತ್ತಿ ಮಾಡುವ ಪ್ರಾಣಿಗಳ ಉಪಸ್ಥಿತಿ
24. ಕೃಷಿಗಾಗಿ ಅಪೂರ್ಣ ಸಂಸ್ಕರಿಸಿದ ಒಳಚರಂಡಿಯನ್ನು ಬಳಸುವುದರೊಂದಿಗೆ ಸಂಬಂಧಿಸಿದ ಮಹತ್ವದ ಪರಿಸರ ಸಮಸ್ಯೆ
 (A) ಮಣ್ಣಿನಲ್ಲಿ ಭಾರೀ ಲೋಹಗಳ ಶೇಖರಣೆ (B) ಸಂಸ್ಕರಿಸಿದ ಒಳಚರಂಡಿಯನ್ನು ಪಂಪ್ ಮಾಡುವುದು
 (C) ನಗರ ಪ್ರದೇಶದಲ್ಲಿ ನೀರಿನ ಲಭ್ಯತೆಯ ಕಡಿತ (D) ಪೋಷಕಾಂಶಗಳ ಕೊರತೆ
25. ಕರಗಿದ ಶಿಲಾಪಾಕವು ಭೂಮಿಯ ಮೇಲ್ಮೈಯನ್ನು ತಲುಪಿದಾಗ ಲಾವಾ, ಅನಿಲಗಳು ಮತ್ತು ಬೂದಿಯನ್ನು ಬಿಡುಗಡೆ ಮಾಡುತ್ತದೆ. ಅದನ್ನು _____ ಎನ್ನುತ್ತಾರೆ.
 (A) ಎಲ್-ನಿನೋ ದಕ್ಷಿಣ ಆಸಿಲೇಷನ್ (B) ಭೂಕಂಪನ
 (C) ಭೂ ಸ್ಥಲನ (D) ಜ್ವಾಲಾಮುಖಿ
26. ಏಕ ಹರಿವಿನ ಮಾದರಿ, 'Y' ಆಕಾರದ ಮಾದರಿ ಮತ್ತು ಸಾರ್ವತ್ರಿಕ ಮಾದರಿಗಳನ್ನು ಪರಿಸರ ವ್ಯವಸ್ಥೆಯಲ್ಲಿ _____ ಚಿತ್ರಿಸಲು ಬಳಸಲಾಗುತ್ತದೆ.
 (A) ವಸ್ತುವಿನ ವಿನಿಮಯ (B) ಸತತ ಟ್ರೋಫಿಕ್ ಮಟ್ಟಗಳ ಮೂಲಕ ಶಕ್ತಿಯ ವರ್ಗಾವಣೆ
 (C) ಶಕ್ತಿಯ ಸೈಕ್ಲಿಂಗ್ (D) ಜೀವರಾಶಿಯ ವರ್ಗಾವಣೆ

Space For Rough Work



27. The totality of genes, species and ecosystems of a region is collectively called
(A) biodiversity (B) a habitat (C) biosphere (D) a green space
28. The total number of Sustainable Development Goals are
(A) 17 (B) 169 (C) 178 (D) 21
29. Pampa in his 'Pampa Bharata' compares his master Arikesari-II to which of the following Mahabharata character ?
(A) Arjuna (B) Dharmaraja (C) Sahadeva (D) Bhima
30. During whose reign Farnao Nunij, a Portuguese traveller visited Vijayanagara ?
(A) Saluva Narasimha (B) Achyuta Devaraya
(C) Ramaraya (D) Devaraya-I
31. Which of the following places is NOT associated with the second Anglo-Mysore War ?
(A) Snolingur (B) Porto Novo (C) Wandiwash (D) Pollilore
32. If 23rd February of 2008 was Saturday, what will be the day on 3rd November of the same year ?
(A) Wednesday (B) Sunday (C) Monday (D) Tuesday
33. Archaeopteryx is related to
(A) Pisces (B) Aves and reptiles
(C) Reptiles (D) Mammals
34. The book 'Yashodara Charithe' was written by
(A) Raghavanka (B) Ranna (C) Janna (D) Keshiraja
35. A food chain indicates
(A) the biomass transfer from a consumer to the producer
(B) a circular arrangement of energy transfer
(C) only a production of energy
(D) a linear energy transfer process associated with biomass transfer

Space For Rough Work

27. ಒಂದು ಪ್ರದೇಶದ ವಂಶವಾಹಿಗಳು, ಜಾತಿಗಳು ಮತ್ತು ಪರಿಸರ ವ್ಯವಸ್ಥೆಗಳ ಸಂಪೂರ್ಣತೆಯನ್ನು ಒಟ್ಟಾರೆಯಾಗಿ ಕರೆಯಲಾಗುತ್ತದೆ ?
 (A) ಜೈವಿಕ ವೈವಿಧ್ಯತೆ (B) ಒಂದು ಆವಾಸ ಸ್ಥಾನ (C) ಬಯೋಸ್ಪಿಯರ್ (D) ಒಂದು ಹಸಿರು ಸ್ಥಳ
28. ಸುಸ್ಥಿರ ಅಭಿವೃದ್ಧಿ ಗುರಿಗಳ ಒಟ್ಟು ಸಂಖ್ಯೆ
 (A) 17 (B) 169 (C) 178 (D) 21
29. ಪಂಪ ತನ್ನ 'ಪಂಪ ಭಾರತ'ದಲ್ಲಿ ತನ್ನ ಗುರು ಅರಿಕೇಸರಿ-II ರನ್ನು ಮಹಾಭಾರತದ ಯಾವ ಪಾತ್ರಕ್ಕೆ ಹೋಲಿಸುತ್ತಾನೆ ?
 (A) ಅರ್ಜುನ (B) ಧರ್ಮರಾಜ (C) ಸಹದೇವ (D) ಭೀಮ
30. ಯಾರ ಆಳ್ವಿಕೆಯಲ್ಲಿ, ಫರ್ನೋ ನುಂಜಿ ಒಬ್ಬ ಪೋರ್ಚುಗೀಸ್ ಪ್ರವಾಸಿ ವಿಜಯನಗರಕ್ಕೆ ಭೇಟಿ ನೀಡಿದ್ದರು ?
 (A) ಸಾಳುವ ನರಸಿಂಹ (B) ಅಚ್ಚುತ ದೇವರಾಯ (C) ರಾಮರಾಯ (D) ದೇವರಾಯ-I
31. ಈ ಕೆಳಗಿನ ಯಾವ ಸ್ಥಳಗಳು ಎರಡನೇ ಅಂಗೋ ಮೈಸೂರು ಯುದ್ಧದೊಂದಿಗೆ ಸಂಬಂಧ ಹೊಂದಿಲ್ಲ ?
 (A) ಸ್ನೋಲಿಂಗೂರ್ (B) ಪೋರ್ಟೋ ನೊವೊ (C) ವ್ಯಾಂಡಿವಾಶ್ (D) ಪೊಲ್ಲಿಲೋರ್
32. ಒಂದು ವೇಳೆ 23 ನೇ ಫೆಬ್ರವರಿ, 2008 ರಂದು ಶನಿವಾರವಾಗಿದ್ದರೆ, ಅದೇ ವರ್ಷದ 3 ನೇ ನವೆಂಬರ್ ಯಾವ ದಿನವಾಗಿರುತ್ತದೆ ?
 (A) ಬುಧವಾರ (B) ಭಾನುವಾರ (C) ಸೋಮವಾರ (D) ಮಂಗಳವಾರ
33. ಆರ್ಕಿಯೊಪ್ಟೆರಿಕ್ಸ್ (Archaeopteryx) ಯಾವುದಕ್ಕೆ ಸಂಬಂಧಿಸಿದೆ ?
 (A) ಪೈಸೆಸ್ (Pisces) (B) ಎವ್ಸ್ ಮತ್ತು ರೆಪ್‌ಟೈಲ್ಸ್
 (C) ರೆಪ್‌ಟೈಲ್ಸ್ (ಸರೀಸೃಪಗಳು) (D) ಸಸ್ತನಿಗಳು
34. 'ಯಶೋಧರ ಚರಿತೆ' ಎಂಬ ಪುಸ್ತಕವನ್ನು ಬರೆದವರು
 (A) ರಾಘವಾಂಕ (B) ರನ್ನ (C) ಜನ್ನ (D) ಕೇಶಿರಾಜ
35. ಆಹಾರ ಸರಪಳಿಯು ಸೂಚಿಸುತ್ತದೆ
 (A) ಬಯೋಮಾಸ್ ಗ್ರಾಹಕರಿಂದ ಉತ್ಪಾದಕರಿಗೆ ವರ್ಗಾವಣೆ
 (B) ಶಕ್ತಿ ವರ್ಗಾವಣೆಯ ವೃತ್ತಾಕಾರದ ವ್ಯವಸ್ಥೆ
 (C) ಶಕ್ತಿಯ ಉತ್ಪಾದನೆ ಮಾತ್ರ
 (D) ಬಯೋಮಾಸ್ ವರ್ಗಾವಣೆಯೊಂದಿಗೆ ಸಂಯೋಜಿತವಾಗಿರುವ ರೇಖಾತ್ಮಕ ಶಕ್ತಿ ವರ್ಗಾವಣೆ ಪ್ರಕ್ರಿಯೆ

Space For Rough Work

36. The book Gajashastra was written by
(A) Sripurusha (B) Rachawalla IV (C) Madhava I (D) Chavundaraya
37. Who was called as Yalahanka Nadaprabhu ?
(A) Ranabhyregowda (B) Kempe Gowda I
(C) Kempe Gowda II (D) Kempananje Gowda
38. 'Charaka Sangha' was founded at Bangalore by
(A) R.R. Diwakar (B) N.S. Hardikar
(C) Karnad Sadashiva Rao (D) Gangadhara Rao Deshpande
39. Who has been selected as the 14th President of the World Bank for a five year term beginning from June 2, 2023 ?
(A) Ajay Banga (B) Gita Gopinath (C) Indermit Gill (D) Kaushik Basu
40. Consider the list of governors of various states of India given below and mention which of the following is wrongly matched.
(A) Lakshman Prasad Acharya – Meghalaya
(B) Justice S. Abdul Nazeer – Andhra Pradesh
(C) C.P. Radhakrishnan – Jharkhand
(D) Shiv Pratap Shukla – Himachal Pradesh
41. Which country bagged the first place in the Global Innovation Index 2023 ?
(A) France (B) UK (C) China (D) USA
42. Which of the following State/Union Territory has been declared as India's first "Swachh Sujal Pradesh" ?
(A) Haryana (B) Andaman and Nicobar Islands
(C) Sikkim (D) Chandigarh
43. Bahamani Empire was established in the year
(A) 1347 (B) 1336 (C) 1437 (D) 1399

Space For Rough Work

36. "ಗಜಶಾಸ್ತ್ರ" ಪುಸ್ತಕವನ್ನು ಬರೆದವರು
 (A) ಶ್ರೀಪುರುಷ (B) ರಾಜಾವಲ್ಲ IV (C) ಮಾಧವ I (D) ಚಾವುಂಡರಾಯ
37. "ಯಲಹಂಕ ನಾಡಪ್ರಭು" ಎಂದು ಯಾರನ್ನು ಕರೆಯುತ್ತಾರೆ ?
 (A) ರಣಭೈರೇಗೌಡ (B) ಕೆಂಪೇ ಗೌಡ I (C) ಕೆಂಪೇ ಗೌಡ II (D) ಕೆಂಪನಂಜೇ ಗೌಡ
38. 'ಚರಕ ಸಂಘ' ವು ಬೆಂಗಳೂರಿನಲ್ಲಿ ಯಾರಿಂದ ಸ್ಥಾಪಿಸಲಾಯಿತು ?
 (A) ಆರ್.ಆರ್. ದಿವಾಕರ್ (B) ಎನ್.ಎಸ್. ಹರ್ಡೀಕರ್
 (C) ಕಾರ್ನಾಡ್ ಸದಾಶಿವ ರಾವ್ (D) ಗಂಗಾಧರ್ ರಾವ್ ದೇಶಪಾಂಡೆ
39. ಜೂನ್ 2, 2023 ರಿಂದ ಮುಂದಿನ ಐದು ವರ್ಷಗಳವರೆಗೆ ಯಾರನ್ನು ವಿಶ್ವ ಬ್ಯಾಂಕಿನ 14 ನೇ ಅಧ್ಯಕ್ಷರನ್ನಾಗಿ ಆಯ್ಕೆ ಮಾಡಲಾಗಿದೆ ?
 (A) ಅಜಯ್ ಬಂಗಾ (B) ಗೀತಾ ಗೋಪಿನಾಥ (C) ಇಂದರ್‌ಮಿತ್ ಗಿಲ್ (D) ಕೌಶಿಕ್ ಬಸು
40. ಈ ಕೆಳಗೆ ನೀಡಲಾದ ಭಾರತದ ವಿವಿಧ ರಾಜ್ಯಗಳ ರಾಜ್ಯಪಾಲರುಗಳ ಪಟ್ಟಿಯನ್ನು ಪರಿಗಣಿಸಿರಿ ಮತ್ತು ಯಾವುದು ತಪ್ಪಾಗಿ ಹೊಂದಿಕೆಯಾಗಿದೆ ಎಂದು ತಿಳಿಸಿರಿ.
 (A) ಲಕ್ಷ್ಮಣ ಪ್ರಸಾದ ಆಚಾರ್ಯ - ಮೇಘಾಲಯ
 (B) ಜಸ್ಟಿಸ್ ಎಸ್. ಅಬ್ದುಲ್ ನಜೀರ್ - ಆಂಧ್ರ ಪ್ರದೇಶ
 (C) ಸಿ.ಪಿ. ರಾಧಾಕೃಷ್ಣನ್ - ಜಾರ್ಖಂಡ್
 (D) ಶಿವ್ ಪ್ರತಾಪ್ ಶುಕ್ಲಾ - ಹಿಮಾಚಲ ಪ್ರದೇಶ
41. 2023 ನೇ ಸಾಲಿನ ಜಾಗತಿಕ ನಾವೀನ್ಯತಾ ಸೂಚ್ಯಂಕದಲ್ಲಿ ಈ ಕೆಳಗಿನ ಯಾವ ರಾಷ್ಟ್ರವು ಪ್ರಥಮ ಸ್ಥಾನ ಗಳಿಸಿದೆ ?
 (A) ಫ್ರಾನ್ಸ್ (B) ಯುಕೆ (C) ಚೀನಾ (D) ಯುಎಸ್‌ಎ
42. ಭಾರತದ ಯಾವ ರಾಜ್ಯ/ಕೇಂದ್ರಾಡಳಿತ ಪ್ರದೇಶವನ್ನು ಭಾರತದ ಪ್ರಥಮ "ಸ್ವಚ್ಛ ಸುಜಲ ಪ್ರದೇಶ" ಎಂದು ಘೋಷಿಸಲಾಯಿತು ?
 (A) ಹರ್ಯಾಣ (B) ಅಂಡಮಾನ್ ಮತ್ತು ನಿಕೋಬಾರ್ ದ್ವೀಪಗಳು
 (C) ಸಿಕ್ಕಿಂ (D) ಚಂಡೀಘಡ
43. ಬಹಮನಿ ಸಾಮ್ರಾಜ್ಯವನ್ನು _____ ವರ್ಷದಲ್ಲಿ ಸ್ಥಾಪಿಸಲಾಯಿತು.
 (A) 1347 (B) 1336 (C) 1437 (D) 1399

Space For Rough Work

44. In May 2023, which country launched a “gold backed digital currency” to stabilize and strengthen its currency ?
(A) USA (B) Russia (C) Sweden (D) Zimbabwe
45. On June 1, 2023 RBI will launch which of the following campaign to settle unclaimed bank deposits across India ?
(A) 100 Days 100 Pays (B) Branch Adalat
(C) None of these (D) How can we help you ?
46. Justice Dhananjaya Y. Chandrachud is the 50th Chief Justice of India. Who was the 49th Chief Justice of India ?
(A) Ranjan Gogoi (B) U.U. Lalith
(C) Sharad Arvind Bobde (D) N.V. Ramana
47. The Union Health and Family Welfare Ministry was awarded with which of the following award/prize in 2023 in recognition of government’s strategy in managing COVID-19 pandemic ?
(A) World ADC Award (B) TITAN Health Award
(C) Porter Prize (D) TOPRA Award
48. Which of the following Kannada book written by Mudnakadu Chinnaaswamy was awarded with Kendra Sahitya Academy Award 2022 ?
(A) Chappali Mattu Naanu
(B) Matte Male Baruva Munna
(C) Mohada Deepa
(D) Bahutvada Bharata Mattu Bouddha Tattvikate
49. Which of the following lakes in Ladakh was recently announced as its first “Biodiversity Heritage site” ?
(A) Tso Kar (B) Pangong (C) Yaya Tso (D) Yarab Tso

Space For Rough Work

44. ಮೇ, 2023 ರಲ್ಲಿ ಯಾವ ರಾಷ್ಟ್ರವು ತನ್ನ ನಾಣ್ಯ (ಕರೆನ್ಸಿ)ದಲ್ಲಿ ಸ್ಥಿರತೆ ತರಲು ಮತ್ತು ಅದನ್ನು ಬಲಗೊಳಿಸಲು "ಚಿನ್ನ ಬೆಂಬಲಿತ ಡಿಜಿಟಲ್ ಕರೆನ್ಸಿ"ಯನ್ನು ಜಾರಿಗೆ ತಂದಿತು ?
 (A) ಯುಎಸ್‌ಎ (B) ರಷ್ಯಾ (C) ಸ್ವಿಡನ್ (D) ಜಿಂಬಾಬ್ವೆ
45. ಜೂನ್ 1, 2023 ರಿಂದ ಆರ್‌ಬಿಐ ಯು ಭಾರತಾದ್ಯಂತ ಕ್ಲೈಮ್ ಮಾಡದ ಬ್ಯಾಂಕ್ ಠೇವಣಿಗಳನ್ನು ಇತ್ಯರ್ಥ ಮಾಡಲು ಈ ಕೆಳಗಿನ ಯಾವ ಅಭಿಯಾನವನ್ನು ಪ್ರಾರಂಭಿಸಿದೆ ?
 (A) 100 ದಿನಗಳು 100 ಪಾವತಿಗಳು
 (B) ಬ್ರಾಂಚ್ ಅದಾಲತ್
 (C) ಇವ್ಯಾವುದೂ ಅಲ್ಲ
 (D) ನಾವು ಹೇಗೆ ನಿಮಗೆ ಸಹಾಯ ಮಾಡಬಲ್ಲೆವು ?
46. ಜಸ್ಟಿಸ್ ಧನಂಜಯ ವಾಯ್. ಚಂದ್ರಚೂಡ್‌ರವರು ಭಾರತದ ಸರ್ವೋಚ್ಚ ನ್ಯಾಯಾಲಯದ 50ನೇ ಮುಖ್ಯ ನ್ಯಾಯಾಧೀಶರಾಗಿದ್ದಾರೆ. ಭಾರತದ ಸರ್ವೋಚ್ಚ ನ್ಯಾಯಾಲಯದ 49 ನೇ ಮುಖ್ಯ ನ್ಯಾಯಾಧೀಶರು ಯಾರಾಗಿದ್ದರು ?
 (A) ರಂಜನ್ ಗೋಗೋಯ್ (B) ಯು.ಯು. ಲಲಿತ್
 (C) ಶರದ್ ಅರವಿಂದ್ ಬೊಂಬ್ಡೆ (D) ಎನ್. ವಿ. ರಮಣ
47. ಕೋವಿಡ್-19 ಸಾಂಕ್ರಾಮಿಕವನ್ನು ನಿರ್ವಹಿಸಲು ಸರ್ಕಾರವು ಅನುಸರಿಸಿದ ತಂತ್ರವನ್ನು ಗುರುತಿಸಿ, ಕೇಂದ್ರ ಆರೋಗ್ಯ ಮತ್ತು ಕುಟುಂಬ ಕಲ್ಯಾಣ ಸಚಿವಾಲಯಕ್ಕೆ 2023 ರಲ್ಲಿ ಈ ಕೆಳಗಿನ ಯಾವ ಪ್ರಶಸ್ತಿ/ಬಹುಮಾನವನ್ನು ನೀಡಲಾಗಿದೆ ?
 (A) ವರ್ಲ್ಡ್ ಎಡಿಟಿ ಅವಾರ್ಡ್ (B) ಟೈಟಾನ್ ಹೆಲ್ತ್ ಅವಾರ್ಡ್
 (C) ಪೋರ್ಟರ್ ಪ್ರೈಜ್ (D) ಟೋಪ್ರಾ ಅವಾರ್ಡ್
48. ಮೂಡ್ಲಾಕಡು ಚಿನ್ನಸ್ವಾಮಿಯವರ ಈ ಕೆಳಗಿನ ಯಾವ ಕನ್ನಡ ಕೃತಿಗೆ 2022 ನೇ ಸಾಲಿನ ಕೇಂದ್ರ ಸಾಹಿತ್ಯ ಅಕಾಡೆಮಿ ಪ್ರಶಸ್ತಿ ದೊರೆತಿದೆ ?
 (A) ಚಪ್ಪಲಿ ಮತ್ತು ನಾನು (B) ಮತ್ತೆ ಮಳೆ ಬರುವ ಮುನ್ನ
 (C) ಮೋಹದ ದೀಪ (D) ಬಹುತ್ವದ ಭಾರತ ಮತ್ತು ಬೌದ್ಧ ತಾತ್ವಿಕತೆ
49. ಲಡಾಖ್‌ನ ಈ ಕೆಳಗಿನ ಯಾವ ಸರೋವರವನ್ನು ಇತ್ತೀಚೆಗೆ "ಪ್ರಥಮ ಜೀವವೈವಿಧ್ಯತೆಯ ಪರಂಪರೆಯ ತಾಣ" ವಾಗಿ ಘೋಷಿಸಲಾಯಿತು ?
 (A) ತ್ಸೋ ಕಾರ್ (B) ಪಾಂಗೊಂಗ್ (C) ಯಾಯಾ ತ್ಸೋ (D) ಯಾರಬ್ ತ್ಸೋ

Space For Rough Work

50. The plan of 3rd June 1947 is
(A) Set-up of more Indian Provinces (B) Transfer of power to Indians
(C) Set-up of Constituent Assembly (D) Set-up two Independent Dominions
51. The Constituent Assembly appointed a Drafting Committee on
(A) 29 August, 1947 (B) 9 December, 1946
(C) 26 November, 1949 (D) 26 November, 1946
52. *Aedes aegypti* is a vector for
(A) Both Dengue and Yellow fever (B) Dengue fever
(C) Japanese encephalitis (D) Yellow fever
53. The INA Trials took place in the
(A) High Court, Delhi (B) Red Fort, Delhi
(C) Royal Court, London (D) Supreme Court, Delhi
54. The Cabinet Mission to India was headed by
(A) Stafford Cripps (B) Lord Pethick Lawrence
(C) Mountbatten (D) A.V. Alexander
55. Under Article 371-J, the Governor have special provisions with respect to the state of
(A) Karnataka (B) Maharashtra (C) Assam (D) Andhra Pradesh
56. Untouchability is abolished and its practice is punishable under
(A) Article 17 (B) Article 14 (C) Article 18 (D) Article 15
57. Choose the right one in system introduced by the Government of India Act, 1935.
(A) Centerol control over the provinces (B) Dyarchy at the centre
(C) Provinces control over the centerol (D) Dyarchy at the provinces

Space For Rough Work

50. ಜೂನ್ 3, 1947 ರ ಯೋಜನೆಯು
 (A) ಹೆಚ್ಚು ಭಾರತೀಯ ಪ್ರಾಂತ್ಯಗಳನ್ನು ಸ್ಥಾಪಿಸುವುದು (B) ಭಾರತೀಯರಿಗೆ ಅಧಿಕಾರದ ವರ್ಗಾವಣೆ
 (C) ಸಂವಿಧಾನ ಸಭೆಯನ್ನು ಸ್ಥಾಪಿಸುವುದು (D) ಎರಡು ಸ್ವತಂತ್ರ ಪ್ರಭುತ್ವವನ್ನು ಸ್ಥಾಪಿಸುವುದು
51. ಸಂವಿಧಾನದ ಸಭೆಯು ಕರಡು ಸಮಿತಿಯನ್ನು ಈ ದಿನದಂದು ನೇಮಿಸಿತು ?
 (A) 29 ನೇ ಆಗಸ್ಟ್, 1947 (B) 9 ನೇ ಡಿಸೆಂಬರ್, 1946
 (C) 26 ನೇ ನವೆಂಬರ್, 1949 (D) 26 ನೇ ನವೆಂಬರ್, 1946
52. ಏಡೀಸ್ ಈಜಿಪ್ಟಿಯು ಯಾವುದರ ವಾಹಕ (ವೆಕ್ಟರ್) ?
 (A) ಡೆಂಗ್ಯೂ ಮತ್ತು ಹಳದಿ ಜ್ವರ ಎರಡೂ (B) ಡೆಂಗ್ಯೂ ಜ್ವರ
 (C) ಜಪಾನೀಸ್ ಎನ್ಸೆಫಲಿಟೀಸ್ (D) ಹಳದಿ ಜ್ವರ
53. INA ವಿಚಾರಣೆಗಳು ಎಲ್ಲಿ ನಡೆದವು ?
 (A) ಹೈ ಕೋರ್ಟ್, ದೆಹಲಿ (B) ಕೆಂಪು ಕೋಟೆ, ದೆಹಲಿ
 (C) ರಾಯಲ್ ಕೋರ್ಟ್, ಲಂಡನ್ (D) ಸುಪ್ರೀಂ ಕೋರ್ಟ್, ದೆಹಲಿ
54. ಭಾರತಕ್ಕೆ ಕ್ಯಾಬಿನೆಟ್ ಮಿಷನ್ ನೇತೃತ್ವವನ್ನು ಯಾರು ವಹಿಸಿದ್ದರು ?
 (A) ಸ್ವಾಭೋರ್ಡ್ ಕ್ರಿಪ್ಸ್ (B) ಲಾರ್ಡ್ ಪೆಥಿಕ್ ಲಾರೆನ್ಸ್ (C) ಮೌಂಟ್ ಬ್ಯಾಟನ್ (D) ಎ.ವಿ. ಅಲೆಕ್ಸಾಂಡರ್
55. ವಿಧಿ 371-J ಅಡಿಯಲ್ಲಿ, ರಾಜ್ಯಪಾಲರು ಯಾವ ರಾಜ್ಯಕ್ಕೆ ಸಂಬಂಧಿಸಿದಂತೆ ವಿಶೇಷ ನಿಬಂಧನೆಗಳನ್ನು ಹೊಂದಿದ್ದಾರೆ ?
 (A) ಕರ್ನಾಟಕ (B) ಮಹಾರಾಷ್ಟ್ರ (C) ಅಸ್ಸಾಂ (D) ಆಂಧ್ರ ಪ್ರದೇಶ
56. ಯಾವ ವಿಧೇಯಕದ ಪ್ರಕಾರ, ಅಸ್ಪೃಶ್ಯತೆ ನಿರ್ಬಂಧಿಸಿದೆ ಮತ್ತು ಅದರ ಆಚರಣೆಯು ಶಿಕ್ಷಾರ್ಹವಾಗಿದೆ ?
 (A) ವಿಧೇಯಕ 17 (B) ವಿಧೇಯಕ 14 (C) ವಿಧೇಯಕ 18 (D) ವಿಧೇಯಕ 15
57. ಭಾರತ ಸರ್ಕಾರದ ಕಾಯಿದೆ, 1935 ಪರಿಚಯಿಸಿದ ವ್ಯವಸ್ಥೆಯಲ್ಲಿ ಸರಿಯಾದುದನ್ನು ಆರಿಸಿ.
 (A) ಪ್ರಾಂತ್ಯಗಳ ಮೇಲೆ ಕೇಂದ್ರ ನಿಯಂತ್ರಣ (B) ಕೇಂದ್ರದಲ್ಲಿ ರಾಜಪ್ರಭುತ್ವ
 (C) ಕೇಂದ್ರದ ಮೇಲೆ ಪ್ರಾಂತ್ಯಗಳ ನಿಯಂತ್ರಣ (D) ಪ್ರಾಂತ್ಯದಲ್ಲಿ ರಾಜಪ್ರಭುತ್ವ

Space For Rough Work

58. Who is the recipient of first 'World Food Prize' that was awarded in 1987 ?
(A) Verghese Kurien (B) M.S. Swaminathan
(C) Muhammad Yunus (D) Robert Chandler
59. The Ex-officio Chairman of Rajya Sabha
(A) Deputy Chairman of Rajya Sabha (B) The President of India
(C) Speaker of Lok Sabha (D) The Vice-President of India
60. The writ may be addressed to any person whatever an official or a private person who has another person in his custody.
(A) Quo-warranto (B) Habeas corpus (C) Prohibition (D) Mandamus
61. The physical state of water at 100°C is
(A) Semi solid (B) Liquid (C) Solid (D) Gaseous
62. Which of the Constitutional Amendment limited the Council of Ministers to 15% of the Lower House ?
(A) 92nd Amendment (B) 90th Amendment (C) 93rd Amendment (D) 91st Amendment
63. Who will preside over the joint session of the Parliament in India ?
(A) Deputy Chairman of Rajya Sabha (B) The Speaker of Lok Sabha
(C) The President of India (D) The Vice President of India
64. Which among the Article empowered the State Assemblies by its resolution may establish or abolish the Legislative Council ?
(A) Article 170 (B) Article 168 (C) Article 171 (D) Article 169
65. How many molecules of H_2O_2 are present in 68g of H_2O_2 ?
(A) 3.011×10^{23} (B) 6.022×10^{23}
(C) 24.088×10^{23} (D) 12.044×10^{23}

Space For Rough Work

58. 1987 ರಲ್ಲಿ ಪ್ರದಾನ ಮಾಡಲಾದ ಪ್ರಥಮ 'ವಿಶ್ವ ಆಹಾರ ಪ್ರಶಸ್ತಿ'ಗೆ ಭಾಜನರಾದವರು ಯಾರು ?
 (A) ವರ್ಗೀಸ್ ಕುರಿಯನ್ (B) ಎಂ.ಎಸ್. ಸ್ವಾಮಿನಾಥನ್
 (C) ಮಹಮ್ಮದ್ ಯೂನುಸ್ (D) ರಾಬರ್ಟ್ ಚಾಂಡ್ಲರ್
59. ರಾಜ್ಯಸಭೆಯ ಪದನಿಮಿತ್ತ ಅಧ್ಯಕ್ಷರು
 (A) ರಾಜ್ಯಸಭೆಯ ಉಪಾಧ್ಯಕ್ಷರು (B) ಭಾರತದ ರಾಷ್ಟ್ರಪತಿ
 (C) ಲೋಕಸಭೆಯ ಸಭಾಪತಿ (D) ಭಾರತದ ಉಪ ರಾಷ್ಟ್ರಪತಿ
60. ರಿಟ್ ಅನ್ನು ಯಾವುದೇ ವ್ಯಕ್ತಿಗೆ ಯಾವುದೇ ಅಧಿಕಾರಿ ಅಥವಾ ಖಾಸಗಿ ವ್ಯಕ್ತಿಗೆ, ವ್ಯಕ್ತಿಯು ತನ್ನ ವಶದಲ್ಲಿ ಹೊಂದಿರುವ ವ್ಯಕ್ತಿಗೆ ತಿಳಿಸಬಹುದು ?
 (A) ಕೋ - ವಾರಂಟೋ (B) ಹೆಬಿಯಸ್ ಕಾರ್ಪಸ್ (C) ಪ್ರಾಹಿಬಿಶನ್ (D) ಮ್ಯಾಂಡಮಸ್
61. 100° ಸೆ. ಇದ್ದಾಗ ನೀರಿನ ಭೌತಿಕ ರೂಪವೇನು ?
 (A) ಆರೆ ಫನ (B) ದ್ರವ (C) ಫನ (D) ಅನಿಲ
62. ಯಾವ ಸಾಂವಿಧಾನಿಕ ತಿದ್ದುಪಡಿಯು ಮಂತ್ರಿಗಳ ಮಂಡಳಿಯನ್ನು ಕೆಳಮನೆಯ (Lower House) 15% ಗೆ ಸೀಮಿತಗೊಳಿಸಿತು ?
 (A) 92 ನೇ ತಿದ್ದುಪಡಿ (B) 90 ನೇ ತಿದ್ದುಪಡಿ (C) 93 ನೇ ತಿದ್ದುಪಡಿ (D) 91 ನೇ ತಿದ್ದುಪಡಿ
63. ಭಾರತದ ಸಂಸತ್ತಿನ ಜಂಟಿ ಸಭೆಯ ಅಧ್ಯಕ್ಷತೆಯನ್ನು ಯಾರು ವಹಿಸುತ್ತಾರೆ ?
 (A) ರಾಜ್ಯ ಸಭೆಯ ಉಪಾಧ್ಯಕ್ಷರು (B) ಲೋಕಸಭೆಯ ಸಭಾಪತಿ
 (C) ಭಾರತದ ರಾಷ್ಟ್ರಪತಿ (D) ಭಾರತದ ಉಪ ರಾಷ್ಟ್ರಪತಿ
64. ಯಾವ ಲೇಖನವು ಅದರ ನಿರ್ಣಯದ ಮೂಲಕ ರಾಜ್ಯ ಅಸೆಂಬ್ಲಿಗಳಿಗೆ, ಶಾಸಕಾಂಗ ಮಂಡಳಿಯನ್ನು ಸ್ಥಾಪಿಸಬಹುದಾದ ಅಥವಾ ರದ್ದು ಗೊಳಿಸಬಹುದಾದ ಅಧಿಕಾರ ನೀಡಿತು ?
 (A) ಆರ್ಟಿಕಲ್ 170 (B) ಆರ್ಟಿಕಲ್ 168 (C) ಆರ್ಟಿಕಲ್ 171 (D) ಆರ್ಟಿಕಲ್ 169
65. 68g ಗ್ರಾಂ H_2O_2 ನಲ್ಲಿ, H_2O_2 ನ ಎಷ್ಟು ಪರಮಾಣುಗಳಿರುತ್ತವೆ ?
 (A) 3.011×10^{23} (B) 6.022×10^{23}
 (C) 24.088×10^{23} (D) 12.044×10^{23}

Space For Rough Work

66. Complete the series from given options :

a _ c a a _ b c c _ a a b b b _ c c

- (A) b b a c (B) b b c a (C) b a b c (D) a b c a

67. In the following question which character will complete the given pattern, when placed at the sign of interrogation ?

| | | |
|---|---|---|
| A | D | H |
| F | I | M |
| ? | N | R |

- (A) O (B) K (C) P (D) N

68. Aqua regia is a mixture of conc. Hydrochloric acid and conc. Nitric acid in ratio

- (A) 1:5 (B) 3:1 (C) 2:3 (D) 2:1

69. The production unit producing shoe comes under

- (A) Tertiary Sector (B) Primary Sector
(C) None of these (D) Secondary Sector

70. If 40% of 1620 + 30% of 960 = ? % of 5200, the value of ? is :

- (A) 5 (B) 12 (C) 18 (D) 24

71. At the time of marriage a man was 6 years older than his wife, but 12 years after the marriage his age was $\frac{6}{5}$ times the age of his wife. Their ages (in years) at the time of the marriage were

- (A) 27, 21 (B) 26, 20 (C) 30, 24 (D) 24, 18

72. What angle will be traced by the hands of a clock at 12.55 ?

- (A) $57\frac{1}{2}^\circ$ (B) $87\frac{1}{2}^\circ$ (C) $27\frac{1}{2}^\circ$ (D) $67\frac{1}{2}^\circ$

73. If B is 20 m South from A and C is 10 m North from D and A is 10 m West from D, then where is B from C ?

- (A) South – West (B) North – East
(C) North (D) North – West

Space For Rough Work

66. ಕೆಳಗಿನ ಶ್ರೇಣಿಯನ್ನು ಕೆಳಗೆ ನೀಡಿರುವ ಆಯ್ಕೆಗಳಿಂದ ಪೂರ್ಣಗೊಳಿಸಿರಿ.
a _ c a a _ b c c _ a a b b b _ c c
(A) b b a c (B) b b c a (C) b a b c (D) a b c a
67. ಈ ಕೆಳಗಿನ ಪ್ರಶ್ನೆಯಲ್ಲಿ ಯಾವ ಅಕ್ಷರವು ಪ್ರಶ್ನಾರ್ಥಕ ಚಿಹ್ನೆಯ ಸ್ಥಾನದಲ್ಲಿ ಬರುವ ಮೂಲಕ ನೀಡಿರುವ ವಿಧಾನವು (ಪ್ಯಾಟರ್ನ್) ಪರಿಪೂರ್ಣವಾಗುತ್ತದೆ ?
- | | | |
|---|---|---|
| A | D | H |
| F | I | M |
| ? | N | R |
- (A) O (B) K (C) P (D) N
68. ಸಾಂದ್ರೀಕೃತ ಹೈಡ್ರೋಕ್ಲೋರಿಕ್ ಆಮ್ಲ ಮತ್ತು ಸಾಂದ್ರೀಕೃತ ನೈಟ್ರಿಕ್ ಆಮ್ಲ, ಇವುಗಳ ಕೆಳಗೆ ನೀಡಿರುವ ಪ್ರಮಾಣದಲ್ಲಿರುವ ಮಿಶ್ರಣವೇ ಆಕ್ಸಾ ರೆಜಿಯಾ
(A) 1:5 (B) 3:1 (C) 2:3 (D) 2:1
69. ಬೂಟು (ಶೂ) ಗಳನ್ನು ಉತ್ಪಾದಿಸುವ ಉತ್ಪಾದನಾ ಘಟಕವು ಯಾವ ವಲಯದಡಿ ಬರುತ್ತದೆ ?
(A) ತೃತೀಯ ವಲಯ (B) ಪ್ರಾಥಮಿಕ ವಲಯ
(C) ಇವುಗಳಲ್ಲಿ ಯಾವುದೂ ಅಲ್ಲ (D) ದ್ವಿತೀಯ ವಲಯ
70. ಒಂದು ವೇಳೆ, $1620 \text{ ರ } 40\% + 960 \text{ ರ } 30\% = 5200 \text{ ರ } ?\%$ ಆದರೆ, ? ದ ಮೌಲ್ಯವೆಷ್ಟು ?
(A) 5 (B) 12 (C) 18 (D) 24
71. ಮದುವೆಯ ಸಮಯದಲ್ಲಿ ಪತಿಯು ಅವನ ಪತ್ನಿಗಿಂತ 6 ವರ್ಷ ದೊಡ್ಡವನಾಗಿದ್ದನು. ಆದರೆ ಮದುವೆಯಾಗಿ 12 ವರ್ಷಗಳ ನಂತರ ಅವನ ವಯಸ್ಸು ಅವನ ಪತ್ನಿಯ ವಯಸ್ಸಿನ $\frac{6}{5}$ ಪಟ್ಟಿತ್ತು. ಹಾಗಾದರೆ ಮದುವೆಯಾದಾಗ ಅವರಿಬ್ಬರ ವಯಸ್ಸು (ವರ್ಷಗಳಲ್ಲಿ) ಎಷ್ಟಾಗಿತ್ತು ?
(A) 27, 21 (B) 26, 20 (C) 30, 24 (D) 24, 18
72. 12.55 ಗಂಟೆ ಸಮಯವಾದಾಗ ಗಡಿಯಾರದ ಮುಳ್ಳುಗಳು ಯಾವ ಕೋನದಲ್ಲಿರುತ್ತದೆ ?
(A) $57\frac{1}{2}^\circ$ (B) $87\frac{1}{2}^\circ$ (C) $27\frac{1}{2}^\circ$ (D) $67\frac{1}{2}^\circ$
73. ಒಂದು ವೇಳೆ B ಯು A ಯಿಂದ 20 ಮೀ. ದಕ್ಷಿಣಕ್ಕಿದ್ದರೆ ಮತ್ತು C ಯು D ಯಿಂದ 10 ಮೀ. ಉತ್ತರಕ್ಕಿದ್ದರೆ ಹಾಗೂ A ಯು D ಯಿಂದ 10 ಮೀ. ಪಶ್ಚಿಮಕ್ಕಿದ್ದರೆ, B ಯು C ಯಿಂದ ಯಾವ ದಿಕ್ಕಿನಲ್ಲಿರುತ್ತಾನೆ ?
(A) ನೈರುತ್ಯ (B) ಈಶಾನ್ಯ (C) ಉತ್ತರ (D) ವಾಯುವ್ಯ

Space For Rough Work

10
15
13 24 18

74. Which of the following is/are wrongly matched ?

| Name of the Organization | Founder |
|-----------------------------------|----------------------------|
| i. Prarthana Samaj | – Keshab Chandra Sen |
| ii. Arya Samaj | – Swami Dayanand Saraswati |
| iii. Ramakrishna Mission | – Ramakrishna Paramahansa |
| iv. The Servants of India Society | – Gopalakrishna Gokhale |

Codes :

- (A) Only ii, iii and iv (B) Only i
(C) None of these (D) Only i and iii

75. During recently held UK-India-Week celebration veteran Indian soldier Rajinder Singh was presented with 'Points of Light Award' by whom ?

- (A) UK Deputy Prime Minister Oliver Dowden
(B) UK Prime Minister Rishi Sunak
(C) UK Home Secretary Suella Broverman
(D) UK Secretary of State for Defence Ben Wallace

76. On June 28, 2023 the Union Cabinet approved the introduction of NRF Bill in Parliament. Expand NRF.

- (A) National Road Foundation (B) National Railways Fund
(C) New Research Fund (D) National Railways Foundation

77. If perimeter of a square is same as that of a rectangle whose length is 24 m is double of the breadth, then area of square will be

- (A) 224 m² (B) 324 m²
(C) 330 m² (D) 342 m²

Space For Rough Work

74. ಈ ಕೆಳಗಿನ ಯಾವುದು/ಯಾವುವು ತಪ್ಪಾಗಿ ಹೊಂದಾಣಿಕೆಯಾಗಿವೆ ?

| ಸಂಸ್ಥೆಯ ಹೆಸರು | ಸಂಸ್ಥಾಪಕರು |
|-------------------------------------|-------------------------|
| i. ಪ್ರಾರ್ಥನಾ ಸಮಾಜ | - ಕೇಶಬ್ ಚಂದ್ರ ಸೇನ |
| ii. ಆರ್ಯ ಸಮಾಜ | - ಸ್ವಾಮಿ ದಯಾನಂದ ಸರಸ್ವತಿ |
| iii. ರಾಮಕೃಷ್ಣ ಮಿಷನ್ | - ರಾಮಕೃಷ್ಣ ಪರಮಹಂಸ |
| iv. ದಿ ಸರ್ವೆಂಟ್ಸ್ ಆಫ್ ಇಂಡಿಯಾ ಸೊಸೈಟಿ | - ಗೋಪಾಲಕೃಷ್ಣ ಗೋಖಲೆ |

ಸಂಕೇತಗಳು :

- (A) ಕೇವಲ ii, iii ಮತ್ತು iv (B) ಕೇವಲ i
(C) ಇವುಗಳಲ್ಲಿ ಯಾವುದೂ ಅಲ್ಲ (D) ಕೇವಲ i ಮತ್ತು iii

75. ಇತ್ತೀಚೆಗೆ ಜರುಗಿದ ಯುಕೆ-ಇಂಡಿಯಾ ಸಪ್ತಾಹ ಸಮಾರಂಭದಲ್ಲಿ, ಭಾರತೀಯ ನಿವೃತ್ತ ಸೇನಾನಿ ರಾಜೀಂದರ್ ಸಿಂಗ್-ರವರಿಗೆ 'ಪಾಯಿಂಟ್ಸ್ ಆಫ್ ಲೈಟ್ ಆವಾರ್ಡ್' (Points of Light Award) ಅನ್ನು ಯಾರು ಪ್ರದಾನಿಸಿದರು ?

- (A) ಯುಕೆ ಉಪ ಪ್ರಧಾನ ಮಂತ್ರಿ ಒಲಿವರ್ ಡೌಡೆನ್
(B) ಯುಕೆ ಪ್ರಧಾನ ಮಂತ್ರಿ ರಿಷಿ ಸುನಕ್
(C) ಯುಕೆ ಗೃಹ ಕಾರ್ಯದರ್ಶಿ ಸುಯೆಲ್ಲಾ ಬ್ರೂವರ್‌ಮನ್
(D) ಯುಕೆ ರಕ್ಷಣಾ ರಾಜ್ಯ ಕಾರ್ಯದರ್ಶಿ ಬೆನ್ ವ್ಯಾಲ್ಲೇಸ್

76. 2023 ರ ಜೂನ್ 28 ರಂದು, ಎನ್‌ಆರ್‌ಎಫ್ ವಿಧೇಯಕ (NRF Bill) ಅನ್ನು ಸಂಸತ್ತಿನಲ್ಲಿ ಮಂಡಿಸಲು ಕೇಂದ್ರ ಕ್ಯಾಬಿನೆಟ್ ಅನುಮೋದಿಸಿತು. NRF ಅನ್ನು ವಿಸ್ತರಿಸಿರಿ.

- (A) ನ್ಯಾಷನಲ್ ರೋಡ್ ಫೌಂಡೇಶನ್ (B) ನ್ಯಾಷನಲ್ ರೈಲ್ವೇಸ್ ಫಂಡ್
(C) ನ್ಯೂ ರಿಸರ್ಚ್ ಫಂಡ್ (D) ನ್ಯಾಷನಲ್ ರೈಲ್ವೇಸ್ ಫೌಂಡೇಶನ್

77. ಒಂದು ಚೌಕದ ಪರಿಧಿಯು 24 ಮೀ. ಉದ್ದವಿರುವ ಆಯತದ ಪರಿಧಿಯು ಒಂದೇ ಆಗಿದ್ದು, ಅದರ ಅಗಲವು ದ್ವಿಗುಣವಾಗಿರುತ್ತದೆ. ಆಗ ಚೌಕದ ವಿಸ್ತೀರ್ಣವು

- (A) 224 m² (B) 324 m² (C) 330 m² (D) 342 m²


Space For Rough Work

78. The 300 metre long 'Atal Bridge', which was recently inaugurated is built across which river in Ahmedabad ?
 (A) Tapi (B) Narmada (C) Sabarmati (D) Mahi
79. Name India's first 24 × 7 solar-powered village, which has been achieved as a result of Project Suryagram.
 (A) Bishnoi, Rajasthan (B) Modhera, Gujarat
 (C) Khuri, Rajasthan (D) Athwal, Punjab
80. Kaziranga National Park was declared as a World Heritage site by which of the following organisations ?
 (A) FAO (B) UNICEF (C) UNCTAD (D) UNESCO
81. Which of the following state has won the 76th National Football Championship (Santosh Trophy) in March 2023 ?
 (A) Karnataka (B) Meghalaya (C) Punjab (D) West Bengal
82. Ananta Kulkarni, who was conferred with Karnataka Rajyotsana Award-2022 is a famous _____.
 (A) Journalist (B) Civil Servant (C) Classical Singer (D) Scientist
83. Which of the following is/are correctly matched ?
- | Sports Cup / Trophies | – | Related Sports |
|-----------------------|---|----------------|
| i. Ezra Cup | – | Polo |
| ii. Durand Cup | – | Hockey |
| iii. Z.R. Irani Cup | – | Football |
| iv. Muragappa Cup | – | Hockey |
- Codes :**
 (A) Only i and iv (B) Only ii, iii and iv
 (C) All of these (D) Only iv


Space For Rough Work

78. ಇತ್ತೀಚೆಗೆ ಉದ್ಘಾಟನೆಗೊಂಡ 300 ಮೀಟರ್ ಉದ್ದದ 'ಅಟಲ್ ಸೇತುವೆ' ಯನ್ನು ಅಹಮದಾಬಾದ್‌ನಲ್ಲಿ ಯಾವ ನದಿಗೆ ಅಡ್ಡಲಾಗಿ ನಿರ್ಮಿಸಲಾಗಿದೆ ?
 (A) ತಾಪಿ (B) ನರ್ಮದಾ (C) ಸಾಬರಮತಿ (D) ಮಾಹಿ
79. ಸೂರ್ಯಗ್ರಾಮ್ ಯೋಜನೆಯ ಪರಿಣಾಮವಾಗಿ ಸಾಧಿಸಲಾಗಿರುವ, ಭಾರತದ ಮೊದಲ 24 × 7 ಸೌರ ಶಕ್ತಿಯ ಗ್ರಾಮವನ್ನು ಹೆಸರಿಸಿ.
 (A) ಬಿಶ್ನೋಯ್, ರಾಜಸ್ಥಾನ್ (B) ಮೊಡೇರಾ, ಗುಜರಾತ್ (C) ಮಿರಿ, ರಾಜಸ್ಥಾನ್ (D) ಅತ್ತಾಲ್, ಪಂಜಾಬ್
80. ಕೆಳಗಿನ ಯಾವ ಸಂಸ್ಥೆಗಳಿಂದ ಕಾಜಿರಂಗ ರಾಷ್ಟ್ರೀಯ ಉದ್ಯಾನವನವನ್ನು ವಿಶ್ವ ಪರಂಪರೆಯ ತಾಣವೆಂದು ಘೋಷಿಸಲಾಗಿದೆ ?
 (A) FAO (B) UNICEF (C) UNCTAD (D) UNESCO
81. ಈ ಕೆಳಗಿನ ಯಾವ ರಾಜ್ಯವು ಮಾರ್ಚ್ 2023 ರಲ್ಲಿ 76 ನೇ ರಾಷ್ಟ್ರೀಯ ಫುಟ್‌ಬಾಲ್ ಚಾಂಪಿಯನ್‌ಶಿಪ್ (ಸಂತೋಷ್ ಟ್ರೋಫಿ) ಗೆದ್ದಿದೆ ?
 (A) ಕರ್ನಾಟಕ (B) ಮೇಘಾಲಯ (C) ಪಂಜಾಬ್ (D) ಪಶ್ಚಿಮ ಬಂಗಾಳ
82. ಕರ್ನಾಟಕ ರಾಜ್ಯೋತ್ಸವ ಪ್ರಶಸ್ತಿ-2022 ಪುರಸ್ಕೃತರಾದ ಅನಂತ ಕುಲಕರ್ಣಿ ಅವರು ಪ್ರಸಿದ್ಧ _____.
 (A) ಪತ್ರಕರ್ತ (B) ಪೌರ ಕಾರ್ಮಿಕ (C) ಶಾಸ್ತ್ರೀಯ ಗಾಯಕ (D) ವಿಜ್ಞಾನಿ
83. ಈ ಕೆಳಗಿನವುಗಳಲ್ಲಿ ಯಾವುದು/ಯಾವುವು ಸರಿಯಾಗಿ ಹೊಂದಿಕೆಯಾಗಿದೆ ?
 ಕ್ರೀಡೆಗಳ ಕಪ್/ಟ್ರೋಫಿಗಳು - ಸಂಬಂಧಿತ ಕ್ರೀಡೆಗಳು
 i. ಎರ್ಟು ಕಪ್ - ಪೋಲೋ
 ii. ಡ್ಯೂರಾಂಡ್ ಕಪ್ - ಹಾಕಿ
 iii. ಜೆಡ್.ಆರ್. ಇರಾನಿ ಕಪ್ - ಫುಟ್‌ಬಾಲ್
 iv. ಮುರಗಪ್ಪ ಕಪ್ - ಹಾಕಿ
 ಸಂಕೇತಗಳು :
 (A) ಕೇವಲ i ಮತ್ತು iv (B) ಕೇವಲ ii, iii ಮತ್ತು iv
 (C) ಇವುಗಳಲ್ಲಿ ಎಲ್ಲವೂ (D) ಕೇವಲ iv


Space For Rough Work

84. Which of the following is wrongly matched ?
- (A) Largest Museum in India – Salarjung Museum, Hyderabad
 (B) Largest Dome in India – Gol Gumbaz, Vijayapur
 (C) Largest Planetarium in India – Birla Planetarium
 (D) Largest Gurudwara in India – Golden Temple, Amritsar
85. 42nd Amendment Act, 1976 of Indian Constitution is popularly known as _____
- (A) Mega Constitution (B) Additional Constitution
 (C) Special Constitution (D) Mini Constitution
86. In Karnataka Legislative Assembly among 224 constituencies, how many constituencies are reserved for scheduled castes ?
- (A) 25 (B) 36 (C) 30 (D) 15
87. Name the scheme of Government of Karnataka under which women heads of households will be given a monthly allowance of ₹ 2,000.
- (A) Karnataka Gruha Jyothi Scheme
 (B) Karnataka Santhwana Scheme
 (C) Karnataka Gruha Lakshmi Scheme
 (D) Karnataka Shakti Scheme (Yojana)
88. The four different positions of the dice are given below. Which number is on the face opposite to 6 ?
- 


(1)



(2)

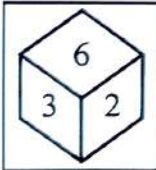


(3)

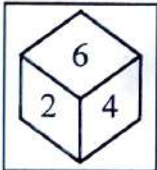


(4)
- (A) 3 (B) 1 (C) 4 (D) 2
89. Which is the first Kannada movie to receive the National Film award for Best Feature film in Kannada in 1954 ?
- (A) School Master (B) Bedara Kannappa
 (C) Kittur Channamma (D) Mahakavi Kalidasa


Space For Rough Work

84. ಕೆಳಗಿನವುಗಳಲ್ಲಿ ಯಾವುದು ತಪ್ಪಾಗಿ ಹೊಂದಿಕೆಯಾಗಿದೆ ?
- (A) ಭಾರತದ ಅತಿದೊಡ್ಡ ಸಂಗ್ರಹಾಲಯ - ಸಾಲಾರ್‌ಜಂಗ್ ಮ್ಯೂಸಿಯಂ, ಹೈದರಾಬಾದ್
 (B) ಭಾರತದ ಅತಿದೊಡ್ಡ ಗುಮ್ಮಟ - ಗೋಲ್ ಗುಂಬಜ್, ವಿಜಯಪುರ
 (C) ಭಾರತದ ಅತಿದೊಡ್ಡ ಪ್ಲಾನೆಟೋರಿಯಂ - ಬಿರ್ಲಾ ಪ್ಲಾನೆಟೋರಿಯಂ
 (D) ಭಾರತದ ಅತಿದೊಡ್ಡ ಗುರುದ್ವಾರ - ಗೋಲ್ಡನ್ ಟೆಂಪಲ್, ಅಮೃತ್‌ಸರ್
85. ಭಾರತೀಯ ಸಂವಿಧಾನದ 42ನೇ ತಿದ್ದುಪಡಿ ಕಾಯಿದೆ, 1976 ಅನ್ನು ಜನಪ್ರಿಯವಾಗಿ ಏನೆಂದು ಕರೆಯಲಾಗುತ್ತದೆ ?
- (A) ಮೆಗಾ ಸಂವಿಧಾನ (B) ಹೆಚ್ಚುವರಿ ಸಂವಿಧಾನ
 (C) ವಿಶೇಷ ಸಂವಿಧಾನ (D) ಮಿನಿ ಸಂವಿಧಾನ
86. ಕರ್ನಾಟಕ ವಿಧಾನ ಸಭೆಯಲ್ಲಿ 224 ಕ್ಷೇತ್ರಗಳ ಪೈಕಿ ಪರಿಶಿಷ್ಟ ಜಾತಿಗಳಿಗೆ ಎಷ್ಟು ಕ್ಷೇತ್ರಗಳನ್ನು ಮೀಸಲಿಡಲಾಗಿದೆ ?
- (A) 25 (B) 36 (C) 30 (D) 15
87. ಕುಟುಂಬದ ಮಹಿಳಾ ಮುಖ್ಯಸ್ಥರಿಗೆ ಮಾಸಿಕ ರೂ. 2,000 ಭತ್ಯೆ ದೊರೆಯುವ ಕರ್ನಾಟಕ ಸರ್ಕಾರದ ಯೋಜನೆಯನ್ನು ಹೆಸರಿಸಿ.
- (A) ಕರ್ನಾಟಕ ಗೃಹ ಜ್ಯೋತಿ ಸ್ಕೀಮ್ (B) ಕರ್ನಾಟಕ ಸಾಂತ್ವನ ಸ್ಕೀಮ್
 (C) ಕರ್ನಾಟಕ ಗೃಹ ಲಕ್ಷ್ಮಿ ಸ್ಕೀಮ್ (D) ಕರ್ನಾಟಕ ಶಕ್ತಿ ಸ್ಕೀಮ್ (ಯೋಜನಾ)
88. ಒಂದು ದಾಳದ ನಾಲ್ಕು ವಿವಿಧ ಸ್ಥಾನಗಳನ್ನು ಈ ಕೆಳಗೆ ನೀಡಲಾಗಿದೆ. ಯಾವ ಸಂಖ್ಯೆಯು '6' ರ ವಿರುದ್ಧ ದಿಕ್ಕಿನಲ್ಲಿರುತ್ತದೆ ?
- 


(1)



(2)



(3)



(4)
- (A) 3 (B) 1 (C) 4 (D) 2
89. 1954 ರಲ್ಲಿ ಕನ್ನಡದಲ್ಲಿ ಅತ್ಯುತ್ತಮ ಚಲನಚಿತ್ರಕ್ಕಾಗಿ ರಾಷ್ಟ್ರೀಯ ಚಲನಚಿತ್ರ ಪ್ರಶಸ್ತಿಯನ್ನು ಪಡೆದ ಮೊದಲ ಕನ್ನಡ ಚಲನಚಿತ್ರ ಯಾವುದಾಗಿದೆ ?
- (A) ಸ್ಕೂಲ್ ಮಾಸ್ಟರ್ (B) ಬೇಡರ ಕಣ್ಣಪ್ಪ
 (C) ಕಿತ್ತೂರು ಚೆನ್ನಮ್ಮ (D) ಮಹಾಕವಿ ಕಾಳಿದಾಸ

Space For Rough Work

90. Which Indian missile is capable of carrying nuclear weapons ?
(A) Prithvi (B) Trishul
(C) None of these (D) Nag
91. Arrange the following mountains based on their heights in descending order and select the right answer :
Biligiri Rangana Betta, Bababudangiri, Shivaganga, Kudremukh, Kodachadri, Chamundi Betta.
(A) Kudremukh, Kodachadri, Bababudangiri, Biligiri Rangana Betta, Shivaganga, Chamundi Betta.
(B) Bababudangiri, Kudremukh, Biligiri Rangana Betta, Shivaganga, Kodachadri, Chamundi Betta.
(C) Bababudangiri, Biligiri Rangana Betta, Shivaganga, Kudremukh, Kodachadri, Chamundi Betta.
(D) Kodachadri, Shivaganga, Bababudangiri, Biligiri Rangana Betta, Kudremukh, Chamundi Betta.
92. What is the full form of USB ?
(A) Urgent Sent Bit (B) Universal Sent Bit
(C) Ultimate Service Bit (D) Universal Serial Bus
93. Arrange the following Ghats connecting between the place and select the right one :
a. Hulikal Ghat 1. Connects Chikkamangaluru and Mangalore
b. Charmudi Ghat 2. Connects Shirur and Bindur
c. Agumbe Ghat 3. Connects Shivamoga and Udupi
d. Kollur Ghat 4. Connects Shivamoga and Kundapur
(A) a-4, b-1, c-3, d-2
(B) a-3, b-4, c-1, d-2
(C) a-4, b-3, c-2, d-1
(D) a-1, b-3, c-4, d-2
94. Which of the following is not correct in connection with the Maidan Region ?
(A) The Maidan Region largely drained by Krishna and Cauvery rivers.
(B) The Maidan Region is formed due to deposition.
(C) The Maidan Region faces severe droughts.
(D) The Maidan Region lies to the east of Malnad.
95. Foot and Mouth disease in animals is caused by
(A) protozoan (B) bacterium
(C) virus (D) fungus

Space For Rough Work

90. ಈ ಕೆಳಗಿನ ಯಾವ ಭಾರತೀಯ ಕ್ಷಿಪಣಿಯು ಅಣ್ವಸ್ತ್ರಗಳನ್ನು ಕೊಂಡೊಯ್ಯುವ ಸಾಮರ್ಥ್ಯವನ್ನು ಹೊಂದಿದೆ ?
 (A) ಪೃಥ್ವಿ (B) ತ್ರಿಶೂಲ್
 (C) ಇವುಗಳಲ್ಲಿ ಯಾವುದೂ ಅಲ್ಲ (D) ನಾಗ್
91. ಕೆಳಗಿನ ಪರ್ವತಗಳನ್ನು ಅವುಗಳ ಎತ್ತರದ ಅನುಸಾರ ಅವರೋಹಣ ಕ್ರಮದಲ್ಲಿ ಜೋಡಿಸಿ ಮತ್ತು ಸರಿಯಾದ ಉತ್ತರವನ್ನು ಆಯ್ಕೆ ಮಾಡಿ.
 ಬಿಳಿಗಿರಿರಂಗನಬೆಟ್ಟ, ಬಾಬಾಬುಡನ್‌ಗಿರಿ, ಶಿವಗಂಗ, ಕುದ್ರೆಮುಖ, ಕೋಡಚಾದ್ರಿ, ಚಾಮುಂಡಿ ಬೆಟ್ಟ
 (A) ಕುದ್ರೆಮುಖ, ಕೋಡಚಾದ್ರಿ, ಬಾಬಾಬುಡನ್‌ಗಿರಿ, ಬಿಳಿಗಿರಿರಂಗನಬೆಟ್ಟ, ಶಿವಗಂಗ, ಚಾಮುಂಡಿ ಬೆಟ್ಟ
 (B) ಬಾಬಾಬುಡನ್‌ಗಿರಿ, ಕುದ್ರೆಮುಖ, ಬಿಳಿಗಿರಿರಂಗನಬೆಟ್ಟ, ಶಿವಗಂಗ, ಕೋಡಚಾದ್ರಿ, ಚಾಮುಂಡಿ ಬೆಟ್ಟ
 (C) ಬಾಬಾಬುಡನ್‌ಗಿರಿ, ಬಿಳಿಗಿರಿರಂಗನಬೆಟ್ಟ, ಶಿವಗಂಗ, ಕುದ್ರೆಮುಖ, ಕೋಡಚಾದ್ರಿ, ಚಾಮುಂಡಿ ಬೆಟ್ಟ
 (D) ಕೋಡಚಾದ್ರಿ, ಶಿವಗಂಗ, ಬಾಬಾಬುಡನ್‌ಗಿರಿ, ಬಿಳಿಗಿರಿರಂಗನಬೆಟ್ಟ, ಕುದ್ರೆಮುಖ, ಚಾಮುಂಡಿ ಬೆಟ್ಟ
92. USB ಯ ವಿಸ್ತೃತ ರೂಪವನ್ನು ಬರೆಯಿರಿ.
 (A) ಅರ್ಜೆಂಟ್ ಸೆಂಟ್ ಬಿಟ್ (B) ಯುನಿವರ್ಸಲ್ ಸೆಂಟ್ ಬಿಟ್
 (C) ಅಲ್ಟಿಮೇಟ್ ಸರ್ವಿಸ್ ಬಿಟ್ (D) ಯುನಿವರ್ಸಲ್ ಸೀರಿಯಲ್ ಬಸ್
93. ಸ್ಥಳಗಳ ನಡುವೆ ಸಂಪರ್ಕಿಸುವ ಫಾಟ್‌ಗಳನ್ನು ಜೋಡಿಸಿ ಮತ್ತು ಸರಿಯಾದುದನ್ನು ಆಯ್ಕೆ ಮಾಡಿ.
 a. ಹುಳಿಕಲ್ ಫಾಟ್ 1. ಚಿಕ್ಕಮಗಳೂರು ಮತ್ತು ಮಂಗಳೂರು ಜೋಡಿಸುತ್ತವೆ
 b. ಚಾಮುಂಡಿ ಫಾಟ್ 2. ಶಿರೂರ್ ಮತ್ತು ಬಿಂದೂರ್ ಜೋಡಿಸುತ್ತವೆ
 c. ಆಗುಂಬೆ ಫಾಟ್ 3. ಶಿವಮೊಗ್ಗ ಮತ್ತು ಉಡುಪಿ ಜೋಡಿಸುತ್ತವೆ
 d. ಕೊಲ್ಲೂರು ಫಾಟ್ 4. ಶಿವಮೊಗ್ಗ ಮತ್ತು ಕುಂದಾಪುರ ಜೋಡಿಸುತ್ತವೆ
 (A) a-4, b-1, c-3, d-2
 (B) a-3, b-4, c-1, d-2
 (C) a-4, b-3, c-2, d-1
 (D) a-1, b-3, c-4, d-2
94. ಮೈದಾನ ಪ್ರದೇಶಕ್ಕೆ ಸಂಬಂಧಿಸಿದಂತೆ ಈ ಕೆಳಗಿನವುಗಳಲ್ಲಿ ಯಾವುದು ಸರಿಯಿಲ್ಲ ?
 (A) ಮೈದಾನ ಪ್ರದೇಶವು ಹೆಚ್ಚಾಗಿ ಕೃಷ್ಣ ಮತ್ತು ಕಾವೇರಿ ನದಿಗಳಿಂದ ಬರಿದಾಗಿದೆ.
 (B) ಮೈದಾನ ಪ್ರದೇಶವು ನಿಕ್ಷೇಪದಿಂದಾಗಿ ರೂಪುಗೊಂಡಿದೆ.
 (C) ಮೈದಾನ ಪ್ರದೇಶವು ತೀವ್ರ ಬರ ಎದುರಿಸುತ್ತಿದೆ.
 (D) ಮೈದಾನ ಪ್ರದೇಶವು ಮಲೆನಾಡಿನ ಪೂರ್ವಕ್ಕೆ ಇದೆ.
95. ಪ್ರಾಣಿಗಳಲ್ಲಿರುವ ಕಾಲು - ಬಾಯಿ ರೋಗವು ಯಾವುದರಿಂದ ಉಂಟಾಗುತ್ತದೆ ?
 (A) ಪ್ರೊಟೋಜೋವಾ (B) ಬ್ಯಾಕ್ಟೀರಿಯಂ (C) ವೈರಸ್ (D) ಫಂಗಸ್

Space For Rough Work

96. The western part of the Western Ghats is most wet in contrast to dry and drought prone eastern part which is due to
1. The Western Ghats relief features running almost from North to South.
 2. The Southwest winds blowing will frost faced by western part of Western Ghats.
 3. Western Ghats are come under raised mountain chains.
 4. The western part of Western Ghats receives heavy orographic rainfall compare to the eastern part.
- By reading above statements answer correctly.
- (A) 2nd, 3rd and 4th are correct and 1st is incorrect.
(B) 1st, 2nd and 3rd are correct and 4th is incorrect.
(C) All of these are correct.
(D) 1st, 3rd and 4th are correct and 2nd is incorrect.
97. Choose the following river basins of Karnataka in descending order based on their basin size :
- North Pennar, South Pennar, Godavari, Krishna, Cauvery, West-flowing rivers, Palar.
- (A) Krishna, Cauvery, West-flowing rivers, North Pennar, Godavari, South Pennar, Palar
(B) Cauvery, West-flowing rivers, Krishna, North Pennar, South Pennar, Godavari, Palar
(C) Krishna, Cauvery, West-flowing rivers, Godavari, South Pennar, North Pennar, Palar
(D) Krishna, Cauvery, North Pennar, West-flowing rivers, South Pennar, Godavari, Palar
98. On which river Magodu Falls is located ?
- (A) River Sita (B) River Bedti
(C) River Netravati (D) River Varahi
99. Rural development aims at which of the following ?
- (A) Developing infrastructure
(B) Improving health facilities
(C) Provision of food
(D) Reducing poverty
100. The Shimla Pact between India and Pakistan stood for
- (A) final resolution of Jammu & Kashmir problem.
(B) abstaining from first use of nuclear weapons.
(C) resolution of dispute relating to Rann of Kachchh.
(D) bilateral settlement of disputes.

Space For Rough Work

96. ಪಶ್ಚಿಮ ಘಾಟ್‌ಗಳು ಪಶ್ಚಿಮ ಭಾಗವು, ಶುಷ್ಕ ಮತ್ತು ಬರಪೀಡಿತ ಪೂರ್ವ ಭಾಗಕ್ಕೆ ವ್ಯತಿರಿಕ್ತವಾಗಿದೆ. ಇದಕ್ಕೆ ಕಾರಣ
1. ಪಶ್ಚಿಮ ಘಟ್ಟಗಳ ಪರಿಹಾರ ವೈಶಿಷ್ಟ್ಯಗಳು ಬಹುತೇಕ ಉತ್ತರದಿಂದ ದಕ್ಷಿಣಕ್ಕೆ ಚಲಿಸುತ್ತವೆ.
 2. ನೈರುತ್ಯ ಗಾಳಿ ಬೀಸುವಿಕೆಯು ಪಶ್ಚಿಮ ಘಟ್ಟಗಳ ಪಶ್ಚಿಮ ಭಾಗದಲ್ಲಿ ಹಿಮವನ್ನು ಎದುರಿಸುತ್ತದೆ.
 3. ಪಶ್ಚಿಮ ಘಟ್ಟಗಳು ಎತ್ತರದ ಪರ್ವತ ಸರಪಳಿಗಳ ಆಡಿಯಲ್ಲಿ ಬರುತ್ತವೆ.
 4. ಬಲಭಾಗಕ್ಕೆ ಹೋಲಿಸಿದರೆ, ಪಶ್ಚಿಮ ಘಟ್ಟಗಳ ಪಶ್ಚಿಮ ಭಾಗದಲ್ಲಿ ಬಹಳ ಹೆಚ್ಚು ಒರೋಗ್ರಾಫಿಕ್ ಮಳೆ ಬರುತ್ತದೆ. ಮೇಲಿನ ಹೇಳಿಕೆಗಳನ್ನು ಓದಿ ಸರಿಯಾಗಿ ಉತ್ತರಿಸಿ.
- (A) 2, 3 ಮತ್ತು 4 ಸರಿಯಾಗಿದೆ ಆದರೆ 1 ನೆಯದು ಸರಿಯಾಗಿಲ್ಲ.
- (B) 1, 2 ಮತ್ತು 3 ಸರಿಯಾಗಿದೆ ಆದರೆ 4 ನೆಯದು ಸರಿಯಾಗಿಲ್ಲ.
- (C) ಇವೆಲ್ಲವೂ ಸರಿಯಾಗಿದೆ
- (D) 1, 3 ಮತ್ತು 4 ಸರಿಯಾಗಿದೆ ಆದರೆ 2 ನೆಯದು ಸರಿಯಾಗಿಲ್ಲ.
97. ಕರ್ನಾಟಕದ ನದಿ, ಜಲಾನಯನ ಪ್ರದೇಶಗಳನ್ನು ಅವುಗಳ ಜಲಾನಯನ ಗಾತ್ರದ ಆಧಾರದ ಮೇಲೆ ಅವರೋಹಣ ಕ್ರಮದಲ್ಲಿ ಆಯ್ಕೆ ಮಾಡಿ.
- ಉತ್ತರ ಪೆನ್ನಾರ್, ದಕ್ಷಿಣ ಪೆನ್ನಾರ್ ಗೋದಾವರಿ, ಕೃಷ್ಣ, ಕಾವೇರಿ, ಪಶ್ಚಿಮದ ಕಡೆ ಹರಿಯುವ ನದಿಗಳು, ಪಾಲಾರ್.
- (A) ಕೃಷ್ಣ, ಕಾವೇರಿ, ಪಶ್ಚಿಮಕ್ಕೆ ಹರಿಯುವ ನದಿಗಳು, ಉತ್ತರ ಪೆನ್ನಾರ್, ಗೋದಾವರಿ, ದಕ್ಷಿಣ ಪೆನ್ನಾರ್, ಪಾಲಾರ್.
- (B) ಕಾವೇರಿ, ಪಶ್ಚಿಮದ ಕಡೆ ಹರಿಯುವ ನದಿಗಳು, ಕೃಷ್ಣ, ಉತ್ತರ ಪೆನ್ನಾರ್, ದಕ್ಷಿಣ ಪೆನ್ನಾರ್, ಗೋದಾವರಿ, ಪಾಲಾರ್.
- (C) ಕೃಷ್ಣ, ಕಾವೇರಿ, ಪಶ್ಚಿಮಕ್ಕೆ ಹರಿಯುವ ನದಿಗಳು, ಗೋದಾವರಿ, ದಕ್ಷಿಣ ಪೆನ್ನಾರ್, ಉತ್ತರ ಪೆನ್ನಾರ್, ಪಾಲಾರ್.
- (D) ಕೃಷ್ಣ, ಕಾವೇರಿ, ಉತ್ತರ ಪೆನ್ನಾರ್, ಪಶ್ಚಿಮದ ಕಡೆ ಹರಿಯುವ ನದಿಗಳು, ದಕ್ಷಿಣ ಪೆನ್ನಾರ್, ಗೋದಾವರಿ, ಪಾಲಾರ್.
98. ಯಾವ ನದಿಯ ಮೇಲೆ ಮಾಗೋಡು ಜಲಪಾತ ಇದೆ ?
- (A) ಸೀತಾ ನದಿ (B) ಬೆಡ್ಡಿ ನದಿ (C) ನೇತ್ರಾವತಿ ನದಿ (D) ವರಾಹಿ ನದಿ
99. ಗ್ರಾಮೀಣಾಭಿವೃದ್ಧಿಯು ಈ ಕೆಳಗಿನವುಗಳಲ್ಲಿ ಯಾವುದನ್ನು ಗುರಿಯಾಗಿಸಿಕೊಂಡಿದೆ ?
- (A) ಮೂಲಭೂತ ಸೌಕರ್ಯಗಳನ್ನು ಅಭಿವೃದ್ಧಿಪಡಿಸುವುದು
- (B) ಆರೋಗ್ಯ ಸೌಲಭ್ಯಗಳನ್ನು ಸುಧಾರಿಸುವುದು
- (C) ಆಹಾರವನ್ನು ಒದಗಿಸುವುದು
- (D) ಬಡತನ ಕಡಿಮೆ ಮಾಡುವುದು
100. ಭಾರತ ಮತ್ತು ಪಾಕಿಸ್ತಾನ ಮಧ್ಯದ ಶಿಮ್ಲಾ ಒಪ್ಪಂದವು ಯಾವ ಕಾರಣಕ್ಕಾಗಿ ಏರ್ಪಟ್ಟಿತು ?
- (A) ಜಮ್ಮು ಮತ್ತು ಕಾಶ್ಮೀರ ಸಮಸ್ಯೆಗೆ ಅಂತಿಮ ನಿರ್ಣಯ ಕೈಗೊಳ್ಳುವುದು
- (B) ಅಣ್ಣಸ್ತಗಳನ್ನು ಮೊದಲು ಬಳಸುವುದನ್ನು ತಡೆಯಲು
- (C) ರಣ್ ಆಫ್ ಕಚ್ಛ್ಗೆ ಸಂಬಂಧಿಸಿದ ವಿವಾದಗಳನ್ನು ಪರಿಹರಿಸಿಕೊಳ್ಳುವುದು
- (D) ವಿವಾದಗಳನ್ನು ದ್ವಿಪಕ್ಷೀಯವಾಗಿ ಪರಿಹರಿಸಿಕೊಳ್ಳುವುದು

Space For Rough Work

Version Code

A2

COMPETITIVE EXAMINATION-2023
GENERAL KNOWLEDGE PAPER-I

Serial No.

SQA. and JA. 29/10/2023 - SHIKHAR.COM

| PAPER CODE | DURATION | TOTAL NO. OF QUESTIONS | MENTION YOUR REGISTER NUMBER | | | | | |
|------------|-----------|------------------------|------------------------------|--|--|--|--|--|
| 202308GK3 | TWO HOURS | 100 | | | | | | |

INSTRUCTIONS FOR CANDIDATES

DOs:

1. This question booklet is issued to you by the room invigilator **after the 2nd bell**.
2. Check whether the Register Number has been entered and shaded in the respective circles on the OMR answer sheet.
3. The version code of this question booklet should be entered on the OMR answer sheet and the respective circles should also be shaded completely.
4. The Version Code and Serial Number of this question booklet should also be entered on the Nominal Roll without any mistakes.
5. Compulsorily sign at the bottom portion of the OMR answer sheet in the space provided.

DONTs:

1. **THE TIMING AND MARKS PRINTED ON THE OMR ANSWER SHEET SHOULD NOT BE DAMAGED / MUTILATED / SPOILED.**
2. **Till the 3rd Bell rings;**
 - Do not remove the seal present on the right hand side of this question booklet.
 - Do not; look inside this question booklet or start answering on the OMR answer sheet.

IMPORTANT INSTRUCTIONS TO CANDIDATES

1. In case of usage of signs and symbols in the questions, the regular textbook connotation should be considered unless stated otherwise.
2. This question booklet contains **100** questions and each question will have one statement and four different options/ responses & out of which you have to choose one correct answer.
3. **After the 3rd Bell rings**, remove the paper seal of this question booklet and check that this booklet does not have any unprinted or torn or missing pages or items etc., if so, get it replaced by a complete test booklet. Read each item and start answering on the OMR answer sheet.
4. Completely **darken / shade** the relevant circle with a **blue or black ink ballpoint pen** against the question number on the OMR answer sheet.

| ಸರಿಯಾದ ಕ್ರಮ CORRECT METHOD | ತಪ್ಪು ಕ್ರಮಗಳು WRONG METHODS | | | | | | | | | | | |
|-------------------------------|-----------------------------|-----|-----|-----|-----|-----|-----|-----|-----|---|---|-----|
| (A) ● (C) (D) | ☒ | (B) | (C) | (D) | (A) | (B) | (C) | ☒ | (A) | ● | ● | (D) |
| (A) ● (C) (D) | ☒ | (B) | (C) | (D) | (A) | ● | (C) | (D) | | | | |

5. Please note that even a minute unintended ink dot on the OMR answer sheet will also be recognized and recorded by the scanner. Therefore, avoid multiple markings of any kind on the OMR answer sheet.
6. Use the space provided on each page of the question booklet for Rough Work. Do not use the OMR answer sheet for the same.
7. **Once the last Bell rings**, stop writing on the OMR answer sheet and hand over the **OMR answer sheet** to the room invigilator as it is.
8. After separating the top sheet (Office copy), the invigilator will return the bottom sheet replica (Candidate's copy) to you.
9. All questions carry equal marks. Every question for which wrong answer has been given by the candidate, 1/4th (0.25) of the marks assigned for that question will be deducted. If a question is not answered by the candidate there will be no marks deducted.
10. Use of Mobile Phones, Calculators and other Electronic/Communication gadgets of any kind is prohibited inside the Examination venue.

NOTE : In case of any discrepancy between English and Kannada Versions, the English version will be taken as final.

202308GK3

A2

32