

ಕ್ರಮ ಸಂಖ್ಯೆ

1JA070822

ಪ್ರಶ್ನೆಪತ್ರಿಕೆಯ
ವರ್ಷನ್ ಕೋಡ್

ಸಮಯ	ಗರಿಷ್ಠ ಅಂಕಗಳು	ಒಟ್ಟು ಅವಧಿ	ಉತ್ತರಿಸಲು ಇರುವ ಗರಿಷ್ಠ ಅವಧಿ	ವಿಷಯ
ಬೆಳಿಗ್ಗೆ 10.30 ರಿಂದ ಮಧ್ಯಾಹ್ನ 12.30 ರ ವರೆಗೆ	100	150 ನಿಮಿಷಗಳು	120 ನಿಮಿಷಗಳು	JA - ASSISTANT

B1

ನಿಮ್ಮ ನೋಂದಣಿ ಸಂಖ್ಯೆಯನ್ನು ಬರೆಯಿರಿ						ಪ್ರಶ್ನೆಪತ್ರಿಕೆಯ	
						ವರ್ಷನ್ ಕೋಡ್	ಕ್ರಮ ಸಂಖ್ಯೆ

ಮಾಡಿ :

1. ಕೊಠಡಿ ಮೇಲ್ವಿಚಾರಕರಿಂದ ಈ ಪ್ರಶ್ನೆ ಪತ್ರಿಕೆಯನ್ನು ನಿಮಗೆ ಬಿ. 10.20 ಆದ ನಂತರ ಕೊಡಲಾಗಿರುತ್ತದೆ.
2. ಅಭ್ಯರ್ಥಿಗಳು ನೋಂದಣಿ ಸಂಖ್ಯೆಯನ್ನು ಓ.ಎಂ.ಆರ್. ಉತ್ತರ ಪತ್ರಿಕೆಯಲ್ಲಿ ಬರೆದು ಅದಕ್ಕೆ ಸಂಬಂಧಿಸಿದ ವೃತ್ತಗಳನ್ನು ಸಂಪೂರ್ಣವಾಗಿ ತುಂಬಿದ್ದೀರೆಂದು ಖಾತ್ರಿಪಡಿಸಿಕೊಳ್ಳಿ.
3. ಪ್ರಶ್ನೆ ಪತ್ರಿಕೆಯ ವರ್ಷನ್ ಕೋಡ್ ಮತ್ತು ಕ್ರಮ ಸಂಖ್ಯೆಯನ್ನು ಓ.ಎಂ.ಆರ್. ಉತ್ತರ ಪತ್ರಿಕೆಯಲ್ಲಿ ಬರೆದು ಅದಕ್ಕೆ ಸಂಬಂಧಿಸಿದ ವೃತ್ತಗಳನ್ನು ಸಂಪೂರ್ಣವಾಗಿ ತುಂಬಬೇಕು.
4. ಪ್ರಶ್ನೆ ಪತ್ರಿಕೆಯ ವರ್ಷನ್ ಕೋಡ್ ಮತ್ತು ಕ್ರಮ ಸಂಖ್ಯೆಯನ್ನು ನಾಮಿನಲ್ ರೋಲ್‌ನಲ್ಲಿ ತಪ್ಪಿಲ್ಲದೆ ಬರೆಯಬೇಕು.
5. ಓ.ಎಂ.ಆರ್. ಉತ್ತರ ಪತ್ರಿಕೆಯ ಕೆಳಭಾಗದ ನಿಗದಿತ ಜಾಗದಲ್ಲಿ ಪೂರ್ಣ ಸಹಿ ಮಾಡಬೇಕು.

ಮಾಡಬೇಡಿ :

1. ಓ.ಎಂ.ಆರ್. ಉತ್ತರ ಪತ್ರಿಕೆಯಲ್ಲಿ ಮುದ್ರಿತವಾಗಿರುವ ಟೈಮಿಂಗ್ ಮಾರ್ಕನ್ನು ತಿದ್ದಬಾರದು / ಹಾಳುಮಾಡಬಾರದು / ಅಳಿಸಬಾರದು.
 2. ನಾಲ್ಕನೇ ಬೆಲ್ ಬಿ. 10.30 ಕ್ಕೆ ಆಗುತ್ತದೆ. ಅಲ್ಲಿಯವರೆಗೂ.
 - ಪ್ರಶ್ನೆ ಪತ್ರಿಕೆಯ ಬಲಭಾಗದಲ್ಲಿರುವ ಸೀಲ್ ಅನ್ನು ತೆಗೆಯಬಾರದು.
 - ಪ್ರಶ್ನೆ ಪತ್ರಿಕೆಯ ಒಳಗಡೆ ಇರುವ ಪ್ರಶ್ನೆಗಳನ್ನು ನೋಡಲು ಪ್ರಯತ್ನಿಸಬಾರದು ಮತ್ತು ಓ.ಎಂ.ಆರ್. ಉತ್ತರ ಪತ್ರಿಕೆಯಲ್ಲಿ ಉತ್ತರಿಸಲು ಪ್ರಾರಂಭಿಸಬಾರದು.
- ಅಭ್ಯರ್ಥಿಗಳಿಗೆ ಮುಖ್ಯ ಸೂಚನೆಗಳು**
1. ಪ್ರಶ್ನೆಗಳಲ್ಲಿ ಬಳಸಿರುವ signs and symbols ಗಳನ್ನು, ಬೇರೆ ರೀತಿಯಲ್ಲಿ ಹೇಳದ ಹೊರತು, ನಿಗದಿತ ಪಠ್ಯಪುಸ್ತಕದಲ್ಲಿನ ಅರ್ಥವನ್ನು ಪರಿಗಣಿಸಬೇಕು.
 2. ಪ್ರಶ್ನೆ ಪತ್ರಿಕೆಯಲ್ಲಿ ಒಟ್ಟು 100 ಪ್ರಶ್ನೆಗಳಿದ್ದು, ಪ್ರತಿ ಪ್ರಶ್ನೆಗೂ 4 ಬಹು ಆಯ್ಕೆ ಉತ್ತರಗಳು ಇರುತ್ತವೆ. ಪ್ರತಿ ಪ್ರಶ್ನೆಯ ಕೆಳಗೆ ಕೊಟ್ಟಿರುವ ನಾಲ್ಕು ಬಹು ಆಯ್ಕೆಯ ಉತ್ತರಗಳಲ್ಲಿ ಸರಿಯಾದ ಒಂದು ಉತ್ತರವನ್ನು ಆಯ್ಕೆ ಮಾಡಿ.
 3. ನಾಲ್ಕನೇ ಬೆಲ್ ಅಂದರೆ ಬಿ. 10.30 ರ ನಂತರ ಪ್ರಶ್ನೆ ಪತ್ರಿಕೆಯ ಬಲಭಾಗದಲ್ಲಿರುವ ಸೀಲ್ ತೆಗೆದು ಈ ಪ್ರಶ್ನೆ ಪತ್ರಿಕೆಯಲ್ಲಿ ಯಾವುದೇ ಪುಟಗಳು ಮುದ್ರಿತವಾಗಿಲ್ಲದೇ ಇರುವುದು ಕಂಡು ಬಂದಲ್ಲಿ ಅಥವಾ ಹರಿದು ಹೋಗಿದ್ದಲ್ಲಿ ಅಥವಾ ಯಾವುದೇ ಐಟಂಗಳು ಬಿಟ್ಟುಹೋಗಿದ್ದಲ್ಲಿ ಎಂಬುದನ್ನು ಖಚಿತಪಡಿಸಿಕೊಂಡು, ಈ ರೀತಿ ಆಗಿದ್ದರೆ ಪ್ರಶ್ನೆಪತ್ರಿಕೆಯನ್ನು ಬದಲಾಯಿಸಿ ಕೊಳ್ಳುವುದು ನಂತರ ಓ.ಎಂ.ಆರ್. ಉತ್ತರ ಪತ್ರಿಕೆಯಲ್ಲಿ ಉತ್ತರಿಸಲು ಪ್ರಾರಂಭಿಸುವುದು.
 4. ಪ್ರಶ್ನೆ ಪತ್ರಿಕೆಯಲ್ಲಿನ ಪ್ರಶ್ನೆಗೆ ಅನುಗುಣವಾಗಿರುವ ಸರಿ ಉತ್ತರವನ್ನು ಓ.ಎಂ.ಆರ್. ಉತ್ತರ ಪತ್ರಿಕೆಯಲ್ಲಿ ಅದೇ ಕ್ರಮ ಸಂಖ್ಯೆಯ ಮುಂದೆ ನೀಡಿರುವ ಸಂಬಂಧಿಸಿದ ವೃತ್ತವನ್ನು ನೀಲಿ ಅಥವಾ ಕಪ್ಪು ಶಾಯಿಯ ಬಾಲ್ ಪಾಯಿಂಟ್ ಪೆನ್‌ನಿಂದ ಸಂಪೂರ್ಣ ತುಂಬುವುದು.

ಸರಿಯಾದ ಕ್ರಮ CORRECT METHOD	ತಪ್ಪು ಕ್ರಮಗಳು WRONG METHODS

5. ಈ ಓ.ಎಂ.ಆರ್. ಉತ್ತರ ಪತ್ರಿಕೆಯನ್ನು ಸ್ಕ್ಯಾನ್ ಮಾಡುವ ಸ್ಕ್ಯಾನರ್ ಬಹಳ ಸೂಕ್ಷ್ಮವಾಗಿದ್ದು ಸಣ್ಣ ಗುರುತನ್ನು ಸಹ ದಾಖಲಿಸುತ್ತದೆ. ಆದ್ದರಿಂದ ಓ.ಎಂ.ಆರ್. ಉತ್ತರ ಪತ್ರಿಕೆಯಲ್ಲಿ ಉತ್ತರಿಸುವಾಗ ಎಚ್ಚರಿಕೆ ವಹಿಸಿ.
6. ಪ್ರಶ್ನೆ ಪತ್ರಿಕೆಯಲ್ಲಿ ಕೊಟ್ಟಿರುವ ಖಾಲಿ ಜಾಗವನ್ನು ರಫ್ ಕೆಲಸಕ್ಕೆ ಉಪಯೋಗಿಸಿ. ಓ.ಎಂ.ಆರ್. ಉತ್ತರ ಪತ್ರಿಕೆಯನ್ನು ಇದಕ್ಕೆ ಉಪಯೋಗಿಸಬೇಡಿ.
7. ಕೊನೆಯ ಬೆಲ್ ಅಂದರೆ ಮ. 12.30 ಆದ ನಂತರ ಉತ್ತರಿಸುವುದನ್ನು ನಿಲ್ಲಿಸಿ.
8. ಓ.ಎಂ.ಆರ್. ಉತ್ತರ ಪತ್ರಿಕೆಯನ್ನು ಕೊಠಡಿ ಮೇಲ್ವಿಚಾರಕರಿಗೆ ಯಥಾಸ್ಥಿತಿಯಲ್ಲಿ ನೀಡಿರಿ.
9. ಕೊಠಡಿ ಮೇಲ್ವಿಚಾರಕರು ಮೇಲ್ಭಾಗದ ಹಾಳೆಯನ್ನು ಪ್ರತ್ಯೇಕಿಸಿ (ಕಚೇರಿ ಪ್ರತಿ) ತನ್ನ ವಶದಲ್ಲಿ ಇಟ್ಟುಕೊಂಡು ತಳಬದಿಯ ಯಥಾಪ್ರತಿಯನ್ನು (ಅಭ್ಯರ್ಥಿಯ ಪ್ರತಿ) ಅಭ್ಯರ್ಥಿಗಳಿಗೆ ಕೊಡುತ್ತಾರೆ.
10. ಋಣಾತ್ಮಕ ಅಂಕಗಳಿದ್ದು (negative marking), ಪ್ರತಿ ತಪ್ಪು ಉತ್ತರಕ್ಕೆ 0.25 ಅಂಕಗಳನ್ನು ಕಡಿತಗೊಳಿಸಲಾಗುತ್ತದೆ.

ಸೂಚನೆ : ಕನ್ನಡ ಆವೃತ್ತಿಯ ಪ್ರಶ್ನೆಗಳಲ್ಲಿ ಉತ್ತರಿಸುವ ಅಭ್ಯರ್ಥಿಗಳಿಗೆ ಕನ್ನಡದಲ್ಲಿ ಮುದ್ರಿತವಾಗಿರುವ ಪ್ರಶ್ನೆಗಳ ಬಗ್ಗೆ ಏನಾದರೂ ಸಂದೇಹವಿದ್ದಲ್ಲಿ ಇಂಗ್ಲೀಷ್ ಆವೃತ್ತಿಯ ಪ್ರಶ್ನೆಪತ್ರಿಕೆಯನ್ನು ನೋಡಬಹುದು. ಏನಾದರೂ ವ್ಯತ್ಯಾಸ ಕಂಡುಬಂದಲ್ಲಿ ಇಂಗ್ಲೀಷ್ ಆವೃತ್ತಿಯನ್ನು ಅಂತಿಮ ಎಂದು ಪರಿಗಣಿಸಲಾಗುವುದು.

1JA070822

(1 - B1)

Junior Assistant

Q. NO.	A1	A2	A3	B1	B2	B3	C1	C2	C3	D1	D2	D3
1	A	D	A	C	D	A	A	A	B	D	A	D
2	A	D	C	D	B	C	B	B	D	A	D	A
3	A	A	C	B	C	A	C	C	B	D	D	C
4	B	B	A	C	A	C	B	A	C	C	D	D
5	A	D	C	D	A	D	B	B	A	C	A	B
6	D	A	A	C	C	B	B	D	B	D	D	B
7	D	C	B	C	A	C	C	D	C	A	C	D
8	A	C	D	C	C	D	B	B	B	C	C	B
9	B	A	A	D	D	C	A	D	B	D	D	D
10	D	C	B	C	B	C	A	B	B	B	A	A
11	A	A	A	B	C	C	B	C	C	B	C	C
12	C	B	A	B	D	D	C	A	B	D	D	D
13	C	D	A	C	C	C	A	B	A	B	B	A
14	A	A	B	D	C	B	B	C	A	D	B	D
15	C	B	A	B	C	B	D	B	B	A	D	D
16	A	A	D	C	D	C	D	B	C	C	B	D
17	B	A	D	A	C	D	B	B	A	D	D	A
18	D	A	A	A	B	B	D	C	B	A	A	D
19	A	B	B	C	B	C	B	B	D	D	C	C
20	B	A	D	A	C	A	C	A	D	D	D	C
21	C	B	A	D	A	B	B	D	A	B	B	D
22	D	C	A	C	A	D	D	D	D	B	C	D
23	A	C	B	A	A	A	B	A	A	D	B	D
24	B	A	C	A	B	B	B	D	C	D	B	A
25	C	A	B	A	C	C	A	D	A	D	D	B
26	C	A	A	A	B	A	D	B	D	A	C	A
27	A	B	C	B	D	C	D	A	A	B	C	D
28	A	C	C	C	A	C	A	A	B	A	B	B
29	A	B	C	B	B	B	D	D	C	D	C	B
30	B	A	C	D	C	A	D	A	D	B	A	B
31	C	C	D	A	A	A	B	C	D	B	C	B
32	B	C	A	B	C	B	A	A	B	B	B	C
33	A	C	D	C	C	A	A	D	B	B	C	D
34	C	C	B	A	B	A	D	A	B	C	D	C
35	C	D	C	C	A	C	A	B	C	D	A	A
36	C	A	D	C	A	B	C	C	D	C	B	B
37	C	D	A	B	B	B	A	D	C	A	B	C
38	D	B	C	A	A	A	D	D	B	B	D	D
39	A	C	A	A	A	B	A	B	D	C	D	B
40	D	D	A	B	C	D	B	B	D	D	D	D
41	B	A	D	A	B	B	C	B	D	B	A	D
42	C	C	C	A	B	A	D	C	D	D	B	C
43	D	A	C	C	A	B	D	D	A	D	A	B
44	A	A	D	B	B	C	B	C	B	C	D	B
45	C	D	C	B	D	D	B	B	A	B	B	C
46	A	C	C	A	B	A	B	D	C	B	B	B
47	A	C	A	B	A	A	C	D	D	C	B	B
48	D	D	D	D	B	C	D	D	A	B	B	D
49	C	C	D	B	C	C	C	D	B	B	C	C
50	C	C	C	A	D	C	B	A	D	D	D	C

Junior Assistant

Q. NO.	A1	A2	A3	B1	B2	B3	C1	C2	C3	D1	D2	D3
51	D	A	D	B	A	D	D	B	B	C	C	B
52	C	D	B	C	A	A	D	A	B	C	A	C
53	C	D	D	D	C	D	D	C	A	B	B	A
54	A	C	C	A	C	C	D	D	D	C	C	C
55	D	D	D	A	C	A	A	A	D	A	D	B
56	D	B	A	C	D	A	B	B	A	C	B	C
57	C	D	B	C	A	A	A	D	D	B	D	D
58	D	C	C	C	D	A	C	B	D	C	D	A
59	B	D	C	D	C	B	D	B	B	D	C	B
60	D	A	A	A	A	C	A	A	A	A	B	B
61	C	C	A	A	A	D	B	D	B	A	B	C
62	B	C	B	B	B	C	B	D	D	A	B	B
63	B	A	B	A	A	A	C	D	B	C	A	C
64	A	C	B	B	A	A	C	B	B	B	A	B
65	C	A	D	A	D	A	C	D	C	C	D	C
66	C	A	C	A	D	C	A	B	C	B	B	B
67	C	B	D	D	C	A	D	B	C	C	B	B
68	A	B	C	D	A	C	A	C	A	B	B	A
69	C	B	D	C	A	C	D	C	D	B	D	A
70	A	D	C	A	A	D	A	C	A	A	B	D
71	A	C	C	A	C	D	D	A	D	A	D	B
72	B	D	B	A	A	D	D	D	A	D	D	B
73	B	C	B	C	C	B	C	A	D	B	A	B
74	B	D	A	A	C	A	C	D	D	B	A	D
75	D	C	C	C	D	B	B	A	C	B	A	B
76	C	C	C	C	D	A	D	D	C	D	C	D
77	D	B	C	D	D	B	D	D	B	B	B	D
78	C	B	A	D	B	A	D	C	D	D	C	A
79	D	A	C	D	A	A	B	C	D	D	B	A
80	C	C	A	B	B	D	D	B	D	A	C	A
81	D	B	D	D	B	D	B	B	B	D	B	C
82	B	C	B	D	B	C	D	C	B	C	D	C
83	B	A	A	B	B	B	C	A	D	A	A	C
84	A	B	A	B	B	D	C	A	C	B	C	A
85	D	D	C	B	D	A	A	C	C	D	C	A
86	B	D	B	B	D	C	A	B	A	A	A	D
87	C	B	B	D	C	D	A	B	A	C	D	C
88	A	A	D	D	B	B	A	D	A	C	D	A
89	B	A	D	C	D	B	C	C	A	A	B	B
90	D	C	D	B	A	D	C	C	C	D	A	D
91	D	B	D	D	C	C	B	A	C	D	A	A
92	B	B	B	A	D	C	A	A	B	B	C	C
93	A	D	B	C	B	A	C	A	A	A	C	C
94	A	D	A	D	B	D	D	A	C	A	C	A
95	C	D	D	B	D	D	B	C	D	C	C	D
96	B	D	B	B	C	B	C	C	B	C	A	D
97	B	B	C	D	C	B	A	B	C	C	A	B
98	D	B	A	C	A	B	A	A	A	C	D	A
99	D	A	B	C	D	B	C	C	A	A	C	A
100	D	D	D	A	D	D	B	D	C	A	A	C

Computer Literacy

1. You can embed an MS-Organization Chart in a slide by
 - (A) Clicking the insert new slide button on the standard toolbar, then double clicking the organization chart button on the formatting toolbar
 - (B) Pressing Ctrl+N
 - (C) Clicking the object command on the edit menu
 - (D) Clicking the organization chart button on the standard toolbar
2. The autoshape tool provides
 - (A) Clipart shapes
 - (B) Only 3D shapes
 - (C) Any shapes you want to add on a slide
 - (D) Commonly found shapes
3. Which of the following provides a means of printing out feature notes with a miniature slide on a printed page ?
 - (A) Notes page
 - (B) Audience handout
 - (C) Slide with animation
 - (D) Outline view
4. The arrangement of elements such as title and subtitle text, pictures, tables, etc. is called
 - (A) Design
 - (B) Scheme
 - (C) Layout
 - (D) Presentation
5. Which shortcut key inserts a new slide in the current presentation ?
 - (A) Ctrl+S
 - (B) Ctrl+F
 - (C) Ctrl+N
 - (D) Ctrl+M

Space for Rough Work / ಒರಟು ಕೆಲಸಕ್ಕೆ ಸ್ಥಳ

6. The _____ program compresses large files into a smaller file.
- (A) WinStyle
(B) WinMap
(C) WinZip
(D) WinShrink
7. Recently deleted files are stored in
- (A) Taskbar
(B) My Computer
(C) Recycle Bin
(D) Desktop
8. Which of the following runs on computer hardware and serves as a platform for other software to run on ?
- (A) System Software
(B) Program System
(C) Operating System
(D) Application Software
9. To send e-mail, we use
- (A) HTML
(B) Netscape Navigator
(C) MS-Excel
(D) Outlook Explorer
10. BIOS is used by
- (A) Interpreter
(B) Application Software
(C) Operating System
(D) Compiler

Space for Rough Work / ಒರಟು ಕೆಲಸಕ್ಕೆ ಸ್ಥಳ

11. Unicode standard is a
- (A) Font
 - (B) Character encoding system
 - (C) Keyboard layout
 - (D) Software
12. DOS stands for
- (A) Dirty Operating System
 - (B) Disk Operating System
 - (C) Dummy Operating System
 - (D) DOS Operating System
13. What does Ctrl + Z do ?
- (A) Add a new page
 - (B) Paste the contents from clipboard
 - (C) Undo the last action
 - (D) Redo the last action
14. What is the shortcut key to split a table ?
- (A) Alt + Shift + Enter
 - (B) Alt + Space + Enter
 - (C) Ctrl + Alt + Enter
 - (D) Ctrl + Shift + Enter
15. When a hyperlink is created, Word formats the Web address as _____ .
- (A) Underlined and coloured red
 - (B) Underlined and coloured blue
 - (C) Italicized and coloured red
 - (D) Italicized and coloured blue

Space for Rough Work / ಒರಟು ಕೆಲಸಕ್ಕೆ ಸ್ಥಳ

SHIKARAT.COM

Online Education



Website

www.shikarat.com

For more contact us



[Instagram](#)



Email

Admin@shikarat.com



[Telegram](#)



[Facebook](#)



[Twitter](#)



[Pinterest](#)

SHIKARAT.COM
Online Education

👉 **Sharing is Caring** 👉

😊 If it is helpful Please Share with your friends 😊



[9742928829](tel:9742928829)

16. Except for the _____ function, a formula with a logical function shows the word "TRUE" or "FALSE" as a result.
- (A) OR
(B) NOT
(C) IF
(D) AND
17. What does the VLOOKUP function do ?
- (A) Finds related records
(B) Arranges data in ascending order
(C) Looks up text that contains 'v'
(D) Checks whether text is the same in one cell as in the next
18. The shortcut key to replace a data with another in Excel spreadsheet is
- (A) Ctrl+H
(B) Ctrl+N
(C) Ctrl+R
(D) Ctrl+Shift+R
19. Which of the following functions is used to find the highest number in a series of numbers ?
- (A) HIGH (B1:B3)
(B) HIGHEST (B1:B3)
(C) MAX (B1:B3)
(D) MAXIMUM (B1:B3)
20. If the value in A1 is "MCQ" and in B1 is "Questions", which function will return "MCQ@Questions" in cell C1 ?
- (A) =A1&"@"&B1
(B) =A1\$"@"\$B1
(C) =A1+"@"+B1
(D) =A1#"@"#B1

Space for Rough Work / ಒರಟು ಕೆಲಸಕ್ಕೆ ಸ್ಥಳ

General Awareness and Aptitude

21. Match the following :

<i>Era / Period / Epoch</i>	<i>Life / Major Events</i>
P. Cretaceous	1. First Fish
Q. Cambrian	2. First Bird
R. Mesozoic	3. Modern Man
S. Holocene	4. Age of Dinosaurs

Codes :

	P	Q	R	S
(A)	1	2	4	3
(B)	4	1	2	3
(C)	3	2	1	4
(D)	2	1	4	3

22. The twinkling of a star is due to

- (A) Total internal reflection in the atmosphere
- (B) Fission reaction in stars
- (C) Refraction of starlight in the atmosphere
- (D) Reflection of sunlight by stars that twinkle

23. As the chemicals used as pesticides are not degradable, these get accumulated progressively at each trophic level. As human beings occupy the top level in any food chain, the maximum concentration of these chemicals gets accumulated in our bodies. This phenomenon is known as

- (A) Bio-magnification
- (B) Bio-trophication
- (C) Bio-degradation
- (D) Bio-remediation

Space for Rough Work / ಒರಟು ಕೆಲಸಕ್ಕೆ ಸ್ಥಳ

ಸಾಮಾನ್ಯ ಜ್ಞಾನ ಮತ್ತು ಸಾಮರ್ಥ್ಯ

21. ಕೆಳಕಂಡವುಗಳನ್ನು ಹೊಂದಿಸಿರಿ :

ಕಾಲ / ಅವಧಿ / ಯುಗ	ಜೀವನ / ಮುಖ್ಯ ಘಟನೆಗಳು
P. ಕ್ರಿಟೇಶಿಯಸ್	1. ಪ್ರಥಮ ಮೀನು
Q. ಕ್ಯಾಂಬ್ರಿಯನ್	2. ಪ್ರಥಮ ಪಕ್ಷಿ
R. ಮೀಸೋಜೋಯಿಕ್	3. ಆಧುನಿಕ ಮಾನವ
S. ಹೋಲೋಸೀನ್	4. ಡೈನೋಸರಸ್ ಕಾಲ

ಕೋಡ್‌ಗಳು :

	P	Q	R	S
(A)	1	2	4	3
(B)	4	1	2	3
(C)	3	2	1	4
(D)	2	1	4	3

22. ನಕ್ಷತ್ರವೊಂದು ಮಿನುಗುತ್ತಿರುವುದು ಈ ಕಾರಣದಿಂದ :

- (A) ವಾಯುಮಂಡಲದಲ್ಲಿನ ಒತ್ತಾರ ಆಂತರಿಕ ಪ್ರತಿಫಲನ
- (B) ನಕ್ಷತ್ರಗಳಲ್ಲಿ ವಿದಳನ ಪ್ರತಿಕ್ರಿಯೆ
- (C) ವಾಯುಮಂಡಲದಲ್ಲಿನ ನಕ್ಷತ್ರದ ಬೆಳಕಿನ ವಕ್ರೀಭವನದಿಂದ
- (D) ಸೂರ್ಯನ ಬೆಳಕು ನಕ್ಷತ್ರಗಳಿಂದ ಪ್ರತಿಫಲನಗೊಳ್ಳುವುದರಿಂದ

23. ಕೀಟನಾಶಕಗಳಾಗಿ ಬಳಸುವ ರಾಸಾಯನಿಕಗಳು ಕೊಳೆಯುವಂತಹವುಗಳಲ್ಲ, ಇವುಗಳು ಕ್ರಮೇಣ ಪ್ರತಿ ಟ್ರೋಫಿಕ್ ಹಂತದಲ್ಲಿ ಸಂಚಯಿಸುತ್ತದೆ. ಮಾನವನು ತನ್ನ ಆಹಾರ ಸರಪಳಿಯಲ್ಲಿ ಮೇಲ್ಭಾಗವನ್ನು ಆಕ್ರಮಿಸಿರುವುದರಿಂದ, ಗರಿಷ್ಠ ಪ್ರಮಾಣದಲ್ಲಿ ಕೇಂದ್ರೀಕರಣವಾಗಿರುವ ಈ ರಾಸಾಯನಿಕಗಳು ನಮ್ಮ ಶರೀರದಲ್ಲಿ ಸಂಚಯಿಸಲ್ಪಡುತ್ತದೆ. ಈ ವಿದ್ಯಮಾನವನ್ನು ಹೀಗೆ ಕರೆಯಲಾಗಿದೆ.

- (A) ಜೈವಿಕ-ವರ್ಧನೆ
- (B) ಜೈವಿಕ-ಟ್ರೋಫಿಕೇಶನ್
- (C) ಜೈವಿಕ-ವಿಘಟನೆ
- (D) ಜೈವಿಕ-ಪರಿಹಾರ

Space for Rough Work / ಒರಟು ಕೆಲಸಕ್ಕೆ ಸ್ಥಳ

24. Chemical energy in cells is generated by
(A) Mitochondria (B) Golgi Bodies
(C) Ribosomes (D) Endoplasmic Reticulum
25. Which of the following is not a 'Credit rating agency' operating in India ?
(A) IRCI (B) CARE
(C) CRISIL (D) ICRA
26. 'FEMA' was introduced in the year 1999 to replace an earlier Act called
(A) FERA (B) FETA (C) FEPA (D) FENA
27. Which scheme did the Government of Karnataka announce to reintroduce for providing quality medical facilities to the farmers in its 2022 – 23 Budget ?
(A) Punyakoti Dattu Yojane (B) Yashaswini Yojane
(C) Anugraha Koduge Programme (D) Namma Clinics
28. Match the following :
- | <i>List-I</i> | <i>List-II</i> |
|----------------------|---------------------------|
| P. Green Revolution | 1. Marine Production |
| Q. White Revolution | 2. Oil seeds Production |
| R. Blue Revolution | 3. Food grains Production |
| S. Yellow Revolution | 4. Milk Production |

Codes :

	P	Q	R	S
(A)	2	3	4	1
(B)	4	1	2	3
(C)	3	4	1	2
(D)	1	2	3	4

Space for Rough Work / ಬರಹು ಕೆಲಸಕ್ಕೆ ಸ್ಥಳ

24. ಜೀವಕೋಶಗಳಲ್ಲಿ ರಾಸಾಯನಿಕ ಶಕ್ತಿಯು ಇದರಿಂದ ಉತ್ಪತ್ತಿಯಾಗುತ್ತದೆ
 (A) ಮೈಟೋಕಾಂಡ್ರಿಯಾ (B) ಗಾಲ್ಲಿ ಸಂಕೀರ್ಣಗಳು
 (C) ರೈಬೋಸೋಮ್ ಗಳು (D) ಎಂಡೋಪ್ಲಾಸ್ಮಿಕ್ ರೆಟಿಕ್ಯೂಲಮ್
25. ಕೆಳಗಿನವುಗಳಲ್ಲಿ ಯಾವುದು ಭಾರತದಲ್ಲಿ ಕಾರ್ಯನಿರ್ವಹಿಸುತ್ತಿರುವ 'ಕ್ರೆಡಿಟ್ ರೇಟಿಂಗ್ ಏಜೆನ್ಸಿ' ಅಲ್ಲ ?
 (A) IRCI (B) CARE
 (C) CRISIL (D) ICRA
26. 1999ರ ವರ್ಷದಲ್ಲಿ 'FEMA' ವನ್ನು ಯಾವ ಹಿಂದಿನ ಕಾಯಿದೆಯ ಬದಲಾಗಿ ಪರಿಚಯಿಸಲಾಯಿತೆಂದರೆ,
 (A) FERA (B) FETA (C) FEPA (D) FENA
27. ಕರ್ನಾಟಕ ಸರ್ಕಾರವು ತನ್ನ 2022-23ರ ಮುಂಗಡ ಪತ್ರದ ಕೃಷಿಕರಿಗೆ ಉತ್ತಮ ವೈದ್ಯಕೀಯ ಸೌಕರ್ಯಗಳನ್ನು ಒದಗಿಸುವುದಾಗಿ ಮರುಜಾರಿಗೊಳಿಸಲು ಘೋಷಿಸಿದ ಯೋಜನೆ ಯಾವುದು :
 (A) ಪುಣ್ಯಕೋಟೆ ಮತ್ತು ಯೋಜನೆ (B) ಯಶಸ್ವಿನಿ ಯೋಜನೆ
 (C) ಅನುಗ್ರಹ ಕೊಡುಗೆ ಯೋಜನೆ (D) ನಮ್ಮ ಕ್ಷಿಣಿಕ್
28. ಹೊಂದಿಸಿ ಬರೆಯಿರಿ :
 ಪಟ್ಟಿ-I
 P. ಹಸಿರು ಕ್ರಾಂತಿ
 Q. ಬಿಳಿ ಕ್ರಾಂತಿ
 R. ನೀಲಿ ಕ್ರಾಂತಿ
 S. ಹಳದಿ ಕ್ರಾಂತಿ
 ಪಟ್ಟಿ-II
 1. ಸಾಗರ ಉತ್ಪಾದನೆ
 2. ಎಣ್ಣೆ ಬೀಜಗಳ ಉತ್ಪಾದನೆ
 3. ಆಹಾರ ಪದಾರ್ಥಗಳ ಉತ್ಪಾದನೆ
 4. ಹಾಲಿನ ಉತ್ಪಾದನೆ

ಕೋಡ್‌ಗಳು :

	P	Q	R	S
(A)	2	3	4	1
(B)	4	1	2	3
(C)	3	4	1	2
(D)	1	2	3	4

Space for Rough Work / ಒರಟು ಕೆಲಸಕ್ಕೆ ಸ್ಥಳ

29. In the context of Pradhan Mantri Kaushal Vikas Yojana, consider the following statements :

- I. It is a flagship scheme of the Ministry of Labour and Employment.
- II. It will impart training in soft skills, entrepreneurship and digital literacy.
- III. It aims to align the competencies of the unregulated workforce of the country to the National Skill Qualification Framework (NSQF).

Which of the statements given above is/are true ?

- (A) I, II and III
- (B) II and III
- (C) I and III
- (D) II only

30. In the year 2021 the largest share of Indian imports came from

- (A) England
- (B) UAE
- (C) USA
- (D) China

31. The archaeologist who discovered the earliest stone hand axe in Karnataka was

- (A) Dr. Primrose
- (B) Dr. Allechin
- (C) Robert Bruce Foote
- (D) Dr. Wheeler

32. Examine the following statements on Viharas :

- I. Viharas were primarily rock cut-outs for the residence of the monks.
- II. Each Vihara has a pillared verandah in the front.
- III. The facade has a horse-shoe shaped window called Vihara window.
- IV. Jain Viharas at Ranigumpha were excavated during Kharavela's period.

Which of the statements given above are true ?

- (A) III and IV
- (B) I, II and IV
- (C) I and II
- (D) I, II and III

Space for Rough Work / ಒರಟು ಕೆಲಸಕ್ಕೆ ಸ್ಥಳ

29. ಪ್ರಧಾನಮಂತ್ರಿ ಕೌಶಲ ವಿಕಾಸ ಯೋಜನೆಗೆ ಸಂಬಂಧಿಸಿದಂತೆ ಕೆಳಗಿನ ಹೇಳಿಕೆಗಳನ್ನು ಪರಿಗಣಿಸಿ :

- I. ಇದು ಕಾರ್ಮಿಕ ಮತ್ತು ಉದ್ಯೋಗ ಸಚಿವಾಲಯದ ಪ್ರಮುಖ ಯೋಜನೆಯಾಗಿದೆ.
- II. ಮೃದು ಕೌಶಲ್ಯಗಳು, ಉದ್ಯಮಶೀಲತೆ ಮತ್ತು ಡಿಜಿಟಲ್ ಸಾಕ್ಷರತೆಗೆ ತರಬೇತಿ ನೀಡುತ್ತದೆ.
- III. ಇದು ದೇಶದ ಅನಿಯಂತ್ರಿತ ಕಾರ್ಯಪಡೆಯನ್ನು ರಾಷ್ಟ್ರೀಯ ಕೌಶಲ್ಯ ಅರ್ಹತಾ ಚೌಕಟ್ಟಿಗೆ (NSQF) ಸಮರ್ಥವಾಗಿ ಜೋಡಿಸುವ ಉದ್ದೇಶವನ್ನು ಹೊಂದಿದೆ.

ಮೇಲೆ ನೀಡಿರುವ ಹೇಳಿಕೆಗಳಲ್ಲಿ ಯಾವುದು/ಸತ್ಯ?

- (A) I, II ಮತ್ತು III
- (B) II ಮತ್ತು III
- (C) I ಮತ್ತು III
- (D) II ಮಾತ್ರ

30. 2021ನೇ ವರ್ಷದಲ್ಲಿ ಭಾರತದ ಆಮದುಗಳ ಅತಿ ದೊಡ್ಡ ಪಾಲು ಬಂದಿರುವುದು

- (A) ಇಂಗ್ಲೆಂಡ್
- (B) ಯು ಎ ಇ
- (C) ಯು ಎಸ್ ಎ
- (D) ಚೈನಾ

31. ಕರ್ನಾಟಕದಲ್ಲಿ ಅತೀ ಪ್ರಾಚೀನವಾದ ಕಲ್ಲಿನ ಕೊಡಲಿಯನ್ನು ಕಂಡುಹಿಡಿದ ಪುರಾತತ್ವ ಶಾಸ್ತ್ರಜ್ಞ

- (A) ಡಾ. ಪ್ರಿಮ್‌ರೋಸ್
- (B) ಡಾ. ಅಲ್ವಿನ್
- (C) ರಾಬರ್ಟ್ ಬ್ರೂಕ್ ಫೋಟ್
- (D) ಡಾ. ವ್ಹೀಲರ್

32. ವಿಹಾರಗಳನ್ನು ಕುರಿತಂತೆ ಕೆಳಗಿನ ಹೇಳಿಕೆಗಳನ್ನು ಪರಿಶೀಲಿಸಿ :

- I. ವಿಹಾರಗಳು ಪ್ರಮುಖವಾಗಿ ಭಿಕ್ಷುಗಳ ವಸತಿಗಾಗಿ ಖಂಡರಿಸಿದ ಶಿಲಾಗುಹೆಗಳು.
- II. ಪ್ರತೀ ವಿಹಾರದ ಮುಂಭಾಗದಲ್ಲಿ ಸ್ತಂಭಗಳ ಜಗಲಿ ಇದೆ.
- III. ಮುಂಭಾಗದಲ್ಲಿ ಕುದುರೆಲಾಳದ ಆಕಾರದ ಕಿಟಕಿ ಇದ್ದು, ಅದನ್ನು ವಿಹಾರ ಕಿಟಕಿ ಎಂದು ಕರೆಯುತ್ತಾರೆ.
- IV. ಖಾರವೇಲನ ಕಾಲದಲ್ಲಿ ಜೈನ ವಿಹಾರಗಳನ್ನು ರಾಣಿ ಗುಫದಲ್ಲಿ ಕೊರೆಯಲಾಯಿತು.

ಮೇಲೆ ನೀಡಿರುವ ಹೇಳಿಕೆಗಳಲ್ಲಿ ಯಾವುದು ಸತ್ಯ?

- (A) III ಮತ್ತು IV
- (B) I, II ಮತ್ತು IV
- (C) I ಮತ್ತು II
- (D) I, II ಮತ್ತು III

Space for Rough Work / ಒರಟು ಕೆಲಸಕ್ಕೆ ಸ್ಥಳ

33. Match List-I and List-II to choose the correct answer from the codes given below :

<i>List-I</i>		<i>List-II</i>	
P.	Gangas	1.	Konganivarma
Q.	Kadambas	2.	Sala
R.	Rashtrakutas	3.	Mayura Varma
S.	Hoysalas	4.	Dantidurga

Codes :

	P	Q	R	S
(A)	1	3	4	2
(B)	2	3	4	1
(C)	1	4	3	2
(D)	2	4	3	1

34. The chronological order in which the Europeans relinquished their authority in India was

- (A) Dutch, British, Portuguese, French
- (B) French, British, Portuguese, Dutch
- (C) British, French, Dutch, Portuguese
- (D) Portuguese, British, French, Dutch

35. 'Rast Goftar' (Truth Teller) was a journal started by

- (A) Raja Ram Mohan Roy
- (B) Dinshaw Wacha
- (C) Dadabhai Naoroji
- (D) Pherozechah Mehta

36. The State cannot put restrictions on the freedom of formation of Association on grounds of

- (A) Sovereignty and integrity of India
- (B) Security of India
- (C) Public mortality
- (D) Public order

37. Who appoints the Chief Election Commissioner of India ?

- (A) The Prime Minister
- (B) The Parliament
- (C) The Chief Justice of India
- (D) The President

Space for Rough Work / ಒರಟು ಕೆಲಸಕ್ಕೆ ಸ್ಥಳ

33. ಪಟ್ಟಿ-I ಮತ್ತು ಪಟ್ಟಿ-II ಅನ್ನು ಹೊಂದಿಸಿ, ಕೆಳಗೆ ನೀಡಲಾಗಿರುವ ಸಂಕೇತಗಳಲ್ಲಿ ಸರಿಯಾದ ಉತ್ತರವನ್ನು ಆರಿಸಿ :

	ಪಟ್ಟಿ-I	ಪಟ್ಟಿ-II
P.	ಗಂಗರು	1. ಕೊಂಗೆವರ್ಮ
Q.	ಕದಂಬರು	2. ಸಳ
R.	ರಾಷ್ಟ್ರಕೂಟರು	3. ಮಯೂರ ವರ್ಮ
S.	ಹೊಯ್ಸಳರು	4. ದಂತಿದುರ್ಗ

ಕೋಡ್‌ಗಳು :

	P	Q	R	S
(A)	1	3	4	2
(B)	2	3	4	1
(C)	1	4	3	2
(D)	2	4	3	1

34. ಭಾರತವನ್ನು ತ್ಯಜಿಸಿದ ಯೂರೋಪಿಯನ್ನರ ಕಾಲಾನುಕ್ರಮ

- (A) ಡಚ್ಚರು, ಬ್ರಿಟೀಷರು, ಪೋರ್ಚುಗೀಸರು, ಫ್ರೆಂಚರು
 (B) ಫ್ರೆಂಚರು, ಬ್ರಿಟೀಷರು, ಪೋರ್ಚುಗೀಸರು, ಡಚ್ಚರು
 (C) ಬ್ರಿಟೀಷರು, ಫ್ರೆಂಚರು, ಡಚ್ಚರು, ಪೋರ್ಚುಗೀಸರು
 (D) ಪೋರ್ಚುಗೀಸರು, ಬ್ರಿಟೀಷರು, ಫ್ರೆಂಚರು, ಡಚ್ಚರು

35. 'ರಸ್ತ ಗೊಫಾರ್' (ಸತ್ಯ ಹೇಳುವವ) ಎಂಬ ಪತ್ರಿಕೆಯನ್ನು ಆರಂಭಿಸಿದವರು

- (A) ರಾಜಾ ರಾಮ್ ಮೋಹನ್ ರಾಯ್ (B) ದಿನ್‌ಷಾ ವಾಚಾ
 (C) ದಾದಾಭಾಯಿ ನವರೋಜಿ (D) ಫಿರೋಜ್‌ಷಾ ಮೇಹ್ತಾ

36. ಸಂಘ ಸಂಸ್ಥೆಗಳನ್ನು ರಚಿಸಿಕೊಳ್ಳುವ ಸ್ವಾತಂತ್ರ್ಯವನ್ನು ಯಾವ ಕಾರಣ ನೀಡಿ ನಿರಾಕರಿಸುವಂತಿಲ್ಲ

- (A) ಭಾರತದ ಸಾರ್ವಭೌಮತ್ವ ಮತ್ತು ಸಮಗ್ರತೆ (B) ರಾಷ್ಟ್ರ ರಕ್ಷಣೆ
 (C) ಸಾರ್ವಜನಿಕ ನೀತಿ (D) ಸಾರ್ವಜನಿಕ ವ್ಯವಸ್ಥೆ

37. ಭಾರತದ ಚುನಾವಣಾ ಆಯೋಗದ ಮುಖ್ಯಸ್ಥರನ್ನು ಯಾರು ನೇಮಕ ಮಾಡುತ್ತಾರೆ.

- (A) ಪ್ರಧಾನಮಂತ್ರಿ (B) ಪಾರ್ಲಿಮೆಂಟ್
 (C) ಸುಪ್ರೀಂಕೋರ್ಟಿನ ನ್ಯಾಯಾಧೀಶರು (D) ರಾಷ್ಟ್ರಪತಿಗಳು

Space for Rough Work / ಒರಟು ಕೆಲಸಕ್ಕೆ ಸ್ಥಳ

38. The representatives from the States and Union Territories in Council of States/Rajya Sabha shall not be more than
(A) 250 (B) 228 (C) 300 (D) 280
39. Under financial emergency :
(A) Politicians and Ministers have to pay more taxes
(B) canons of financial discipline are to be observed
(C) there is reduction of salaries of all persons
(D) even Judicial members are subject to reduction in salary
40. The Constitution of India provides for the following number of Official languages :
(A) 20 (B) 22 (C) 14 (D) 16
41. The river which the tributaries Hiranyakeshi and Markandeya join in the Belgaum district are
(A) Ghataprabha (B) Tungabhadra
(C) Malaprabha (D) Aghanashini
42. The smallest Union Territory of India is
(A) Lakshadweep (B) Andaman and Nicobar Islands
(C) Chandigarh (D) Puducherry
43. The approximate age of the Earth is
(A) 10 billion years (B) 2 billion years
(C) 4.6 billion years (D) 6 billion years
44. The country which has the largest Railway Network is
(A) India
(B) USA
(C) China
(D) Russia

Space for Rough Work / ಒರಟು ಕೆಲಸಕ್ಕೆ ಸ್ಥಳ

38. ರಾಜ್ಯಸಭೆಯಲ್ಲಿ ವಿವಿಧ ರಾಜ್ಯಗಳಿಂದ ಆರಿಸಿ ಬರುವ ಪ್ರತಿನಿಧಿಗಳ ಸಂಖ್ಯೆ _____ ಮೀರುವಂತಿಲ್ಲ.
- (A) 250 (B) 228 (C) 300 (D) 280
39. ಹಣಕಾಸು ತುರ್ತು ಪರಿಸ್ಥಿತಿಯಲ್ಲಿ :
- (A) ರಾಜಕಾರಣಿಗಳು ಮತ್ತು ಮಂತ್ರಿಗಳು ಹೆಚ್ಚು ತೆರಿಗೆ ಪಾವತಿಸಬೇಕಾಗುತ್ತದೆ
(B) ಹಣಕಾಸಿನ ನಿಯಮಗಳನ್ನು (canons) ಅನುಸರಿಸಬೇಕು
(C) ಎಲ್ಲಾ ನೌಕರರ ವೇತನ ಕಡಿತಗೊಳಿಸಲಾಗುತ್ತದೆ
(D) ನ್ಯಾಯಾಂಗದ ಸದಸ್ಯರ ವೇತನ ಕಡಿಮೆ ಮಾಡಲಾಗುವುದು
40. ಭಾರತದ ಸಂವಿಧಾನದಲ್ಲಿ ಒಟ್ಟು _____ ರಾಷ್ಟ್ರಭಾಷೆಗಳಿಗೆ ಅವಕಾಶ ನೀಡಲಾಗಿದೆ.
- (A) 20 (B) 22 (C) 14 (D) 16
41. ಹಿರಣ್ಯಕೇಶಿ ಮತ್ತು ಮಾರ್ಕಂಡೇಯ ಉಪನದಿಗಳು ಬೆಳಗಾವಿ ಜಿಲ್ಲೆಯಲ್ಲಿ ಯಾವ ಮುಖ್ಯ ನದಿಗೆ ಸೇರಿಕೊಳ್ಳುತ್ತವೆ?
- (A) ಘಟಪ್ರಭ (B) ತುಂಗಾಭದ್ರಾ
(C) ಮಲಪ್ರಭ (D) ಅಘನಾಶಿನಿ
42. ಭಾರತದ ಅತೀ ಚಿಕ್ಕ ಕೇಂದ್ರಾಡಳಿತ ಪ್ರದೇಶ:
- (A) ಲಕ್ಷದ್ವೀಪ (B) ಅಂಡಮಾನ್ ಮತ್ತು ನಿಕೋಬಾರ್ ದ್ವೀಪಗಳು
(C) ಚಂಡೀಘರ್ (D) ಪುದುಚೇರಿ
43. ಅಂದಾಜಿನ ಪ್ರಕಾರ ಭೂಮಿಯ ಆಯಸ್ಸು:
- (A) 10 ಬಿಲಿಯನ್ ವರ್ಷಗಳು (B) 2 ಬಿಲಿಯನ್ ವರ್ಷಗಳು
(C) 4-6 ಬಿಲಿಯನ್ ವರ್ಷಗಳು (D) 6 ಬಿಲಿಯನ್ ವರ್ಷಗಳು
44. ಬೃಹತ್ ಪ್ರಮಾಣದಲ್ಲಿ ರೈಲ್ವೆ ನೆಟ್ ವರ್ಕ್ ಹೊಂದಿರುವ ದೇಶ:
- (A) ಭಾರತ (B) ಅಮೆರಿಕಾ
(C) ಚೀನಾ (D) ರಷ್ಯಾ

Space for Rough Work / ಒರಟು ಕೆಲಸಕ್ಕೆ ಸ್ಥಳ

45. The percentage of foreign trade of India carried through oceans is
(A) 70% (B) 50% (C) 60% (D) 99%
46. Which famous British theatre director is known for his adaptation of the Mahabharata into drama ?
(A) Peter Brook
(B) Howard Barker
(C) Robert Bolt
(D) Jim Allen
47. The first woman of African and Arab origin to enter a tennis Grand Slam final is
(A) Serena Williams
(B) Ons Jabeur
(C) Elena Rybakina
(D) Anna Kournikova
48. _____ from Karnataka was recently nominated to the Rajya Sabha.
(A) Ramakrishna Rao
(B) Sitaram Nayak
(C) P.T. Usha
(D) Veerendra Heggade
49. The position of Karnataka State in 2022 for implementation of National Food Security Act is
(A) Seventh
(B) Eighth
(C) Fourth
(D) Fifth

Space for Rough Work / ಬರಹು ಕೆಲಸಕ್ಕೆ ಸ್ಥಳ

45. ಭಾರತದ ವಿದೇಶಿ ವ್ಯಾಪಾರದ ಎಷ್ಟು ಶೇಕಡ ಪ್ರಮಾಣವು ಸಮುದ್ರದ ಮೂಲಕ ನಡೆಯುತ್ತದೆ ?
(A) 70% (B) 50% (C) 60% (D) 99%
46. ಮಹಾ ಭಾರತವನ್ನು ನಾಟಕ ರೂಪದಲ್ಲಿ ನಿರ್ದೇಶಿಸಿದ್ದ ಪ್ರಸಿದ್ಧ ಬ್ರಿಟೀಷ್ ರಂಗ ನಿರ್ದೇಶಕ
(A) ಪೀಟರ್ ಬ್ರೂಕ್
(B) ಹೊವಾರ್ಡ್ ಬಾರ್ಕರ್
(C) ರಾಬರ್ಟ್ ಬೋಲ್ಡ್
(D) ಜಿಮ್ ಆಲೆನ್
47. ಗ್ರ್ಯಾಂಡ್ ಸ್ಲಾಮ್ ಟೆನಿಸ್ ಟೂರ್ನಿಯ ಫೈನಲ್ ಪ್ರವೇಶಿಸಿದ ಅಧಿಕಾ ಮತ್ತು ಅರಬ್ ಮೂಲದ ಮೊದಲ ಮಹಿಳೆ
(A) ಸೆರಿನಾ ವಿಲಿಯಮ್ಸ್
(B) ಆನ್ ಜಬೇರ್
(C) ಎಲೆನಾ ರಿಬಾಕಿನಾ
(D) ಅನ್ನಾ ಕುರ್ನಿಕೋವ
48. ಇತ್ತೀಚೆಗೆ ಕರ್ನಾಟಕದಿಂದ ರಾಜ್ಯಸಭೆಗೆ ನಾಮನಿರ್ದೇಶನಗೊಂಡವರು _____
(A) ರಾಮಕೃಷ್ಣ ರಾವ್
(B) ಸೀತಾರಾಮ ನಾಯಕ್
(C) ಪಿ.ಟಿ. ಉಷಾ
(D) ವೀರೇಂದ್ರ ಹೆಗ್ಡೆ
49. 2022ರಲ್ಲಿ ರಾಷ್ಟ್ರೀಯ ಆಹಾರ ಭದ್ರತಾ ಕಾಯ್ದೆಯ ಅನುಷ್ಠಾನದಲ್ಲಿ ಕರ್ನಾಟಕ ರಾಜ್ಯ ಪಡೆದಿರುವ ಸ್ಥಾನ
(A) ಏಳನೆಯದು
(B) ಎಂಟನೆಯದು
(C) ನಾಲ್ಕನೆಯದು
(D) ಐದನೆಯದು

Space for Rough Work / ಒರಟು ಕೆಲಸಕ್ಕೆ ಸ್ಥಳ

50. P is greater than Q by 60% and greater than R by 30%. The ratio of Q and R is
- (A) 13 : 16
(B) 16 : 13
(C) 1 : 2
(D) 2 : 1
51. In a plane, line X is perpendicular to line Y and parallel to line Z, line U is perpendicular to both lines V and W, line X is perpendicular to line V. Which one of the following statements is correct ?
- (A) Z, V and U are all perpendicular to W
(B) Y, V and W are parallel
(C) Z, U and W are parallel
(D) X, V and Y are parallel
52. A train is running 3 min late and further being delayed by 3 s/min. Find how long this train will be delayed in one hour.
- (A) 1160 min
(B) 1200 min
(C) 1140 min
(D) 1150 min

Space for Rough Work / ಒರಟು ಕೆಲಸಕ್ಕೆ ಸ್ಥಳ

50. P, Q ಗಿಂತ ಶೇಕಡ 60ರಷ್ಟು ಹೆಚ್ಚಾಗಿದ್ದು, R ಗಿಂತ 30ರಷ್ಟು ಹೆಚ್ಚಾಗಿರುತ್ತದೆ. Q ಮತ್ತು Rನ ಅನುಪಾತ ಹೀಗಿರುತ್ತದೆ.

- (A) 13 : 16
- (B) 16 : 13
- (C) 1 : 2
- (D) 2 : 1

51. ಒಂದು ಸಮತಳದಲ್ಲಿ X ಗೆರೆಯು Y ಗೆರೆಗೆ ಲಂಬವಾಗಿದ್ದು ಮತ್ತು Z ಗೆರೆಗೆ ಸಮಾನಾಂತರವಾಗಿರುತ್ತದೆ, U ಗೆರೆಯು V ಮತ್ತು W ಗೆರೆಗಳಿಗೆ ಲಂಬವಾಗಿರುತ್ತದೆ, X ಗೆರೆಯು V ಗೆರೆಗೆ ಲಂಬವಾಗಿರುತ್ತದೆ. ಕೆಳಗಿನ ಹೇಳಿಕೆಗಳಲ್ಲಿ ಯಾವುದು ಸರಿ.

- (A) Z, V ಮತ್ತು U ಇವು W ಗೆ ಲಂಬವಾಗಿರುತ್ತವೆ
- (B) Y, V ಮತ್ತು W ಸಮಾನಾಂತರವಾಗಿರುತ್ತವೆ
- (C) Z, U ಮತ್ತು W ಸಮಾನಾಂತರವಾಗಿರುತ್ತವೆ
- (D) X, V ಮತ್ತು Y ಸಮಾನಾಂತರವಾಗಿರುತ್ತವೆ

52. ಒಂದು ರೈಲು ಮೂರು ನಿಮಿಷ ತಡವಾಗಿರುತ್ತದೆ ಹಾಗೂ ಪ್ರತಿ ನಿಮಿಷಕ್ಕೆ ಮೂರು ಸೆಕೆಂಡಿನಂತೆ, ತಡವಾಗುವುದು ಮುಂದುವರಿದಿರುತ್ತದೆ. ಒಂದು ಗಂಟೆಯ ಅವಧಿಗೆ ಈ ರೈಲು ಎಷ್ಟು ತಡವಾಗುವುದು ಎಂದು ಕಂಡು ಹಿಡಿಯಿರಿ.

- (A) 1160 ನಿಮಿಷ
- (B) 1200 ನಿಮಿಷ
- (C) 1140 ನಿಮಿಷ
- (D) 1150 ನಿಮಿಷ

Space for Rough Work / ಒರಟು ಕೆಲಸಕ್ಕೆ ಸ್ಥಳ

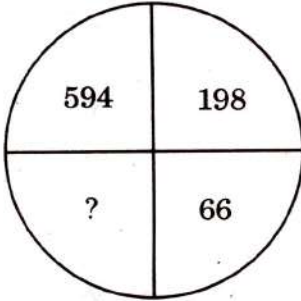
53. According to a survey report, 62% people watch news on doordarshan, 44% people read newspaper and 24% people read newspaper and watch doordarshan both. What percentage of people neither read the newspaper nor watch doordarshan ?

- (A) 10%
- (B) 0%
- (C) 8%
- (D) 18%

54. The sum of the ages of a mother, a daughter and a son is 87 years. What will be the sum of their ages after 8 years ?

- (A) 111 years
- (B) 105 years
- (C) 101 years
- (D) 110 years

55.



- (A) 22
- (B) 12
- (C) 33
- (D) 11

56. 99, 82, 18, 11, ?

- (A) 2
- (B) 9
- (C) 5
- (D) 10

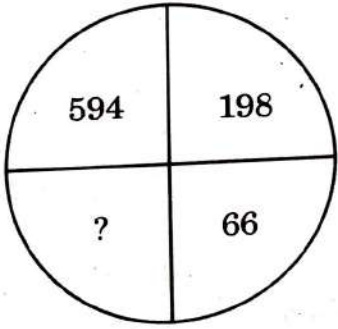
Space for Rough Work / ಒರಟು ಕೆಲಸಕ್ಕೆ ಸ್ಥಳ

53. ಒಂದು ಸರ್ವೆಯ ವರದಿಯಂತೆ ಶೇಕಡ 62ರಷ್ಟು ಜನ ದೂರದರ್ಶನದಲ್ಲಿ ವಾರ್ತೆಯನ್ನು ವೀಕ್ಷಿಸುತ್ತಾರೆ, ಶೇಕಡ 44ರಷ್ಟು ಜನ ದಿನಪತ್ರಿಕೆಯನ್ನು ಓದುತ್ತಾರೆ ಮತ್ತು ಶೇಕಡ 24ರಷ್ಟು ಜನ ದಿನಪತ್ರಿಕೆಯನ್ನು ಓದುತ್ತಾರೆ ಜೊತೆಗೆ ದೂರದರ್ಶನವನ್ನು ವೀಕ್ಷಿಸುತ್ತಾರೆ. ಶೇಕಡ ಎಷ್ಟು ಜನ ದಿನಪತ್ರಿಕೆಯನ್ನು ಓದುವುದಿಲ್ಲ ಮತ್ತು ದೂರದರ್ಶನವನ್ನು ವೀಕ್ಷಿಸುವುದಿಲ್ಲ.

- (A) 10%
- (B) 0%
- (C) 8%
- (D) 18%

54. ತಾಯಿ, ಮಗಳು ಮತ್ತು ಮಗನ ವಯಸ್ಸಿನ ಒಟ್ಟು ಮೊತ್ತ 87 ವರ್ಷ. ಎಂಟು ವರ್ಷಗಳ ನಂತರ ಅವರ ವಯಸ್ಸಿನ ಒಟ್ಟು ಮೊತ್ತವೆಷ್ಟು?

- (A) 111 ವರ್ಷ
- (B) 105 ವರ್ಷ
- (C) 101 ವರ್ಷ
- (D) 110 ವರ್ಷ



- (A) 22
- (B) 12
- (C) 33
- (D) 11

56. 99, 82, 18, 11, ?

- (A) 2
- (B) 9
- (C) 5
- (D) 10

Space for Rough Work / ಬರಹು ಕೆಲಸಕ್ಕೆ ಸ್ಥಳ

57. Common countries in both QUAD and I2U2 Coalition are

- (A) United Arab Emirates and Israel
- (B) Australia and United Arab Emirates
- (C) India and United States of America
- (D) Japan and Australia

58. Population density of India is

- (A) 764.5 persons per sq km
- (B) 933.2 persons per sq km
- (C) 473.4 persons per sq km
- (D) 1003.7 persons per sq km

59. Shinzo Abe was the Prime Minister of Japan for

- (A) Three terms
- (B) Four terms
- (C) One term
- (D) Two terms

60. Consider the following statements :

- I. Carnivorous plants of the genus *Nepenthes* supplement their nutrient deficiency by capturing insects through leaf-evolved pitchers which act as biological traps.
- II. Carnivorous plants have been known to employ a variety of techniques like nectar, smell, colour and ultraviolet fluorescence to lure and capture prey.

Which among the above statements is/are correct ?

- (A) Both I and II
- (B) Neither I nor II
- (C) I only
- (D) II only

Space for Rough Work / ಒರಟು ಕೆಲಸಕ್ಕೆ ಸ್ಥಳ

57. QUAD ಮತ್ತು I2U2, ಈ ಎರಡು ರಾಷ್ಟ್ರಗಳ ಗುಂಪುಗಳಲ್ಲಿ ಸಮಾನವಾಗಿ ಇರುವ ದೇಶಗಳು

- (A) ಅರಬ್ ಎಮಿರೇಟ್ಸ್ ಮತ್ತು ಇಸ್ರೇಲ್
- (B) ಆಸ್ಟ್ರೇಲಿಯಾ ಮತ್ತು ಅರಬ್ ಎಮಿರೇಟ್ಸ್
- (C) ಭಾರತ ಮತ್ತು ಅಮೆರಿಕಾ
- (D) ಜಪಾನ್ ಮತ್ತು ಆಸ್ಟ್ರೇಲಿಯಾ

58. ಭಾರತದಲ್ಲಿ ಜನಸಂಖ್ಯೆಯ ಸಾಂದ್ರತೆ

- (A) ಒಂದು ಕಿ.ಮೀ.ಗೆ 764.5 ಜನರು
- (B) ಒಂದು ಕಿ.ಮೀ.ಗೆ 933.2 ಜನರು
- (C) ಒಂದು ಕಿ.ಮೀ.ಗೆ 473.4 ಜನರು
- (D) ಒಂದು ಕಿ.ಮೀ.ಗೆ 1003.7 ಜನರು

59. ಶಿನ್ಸೂ ಅಬೆ ರವರು ಜಪಾನ್ ದೇಶಕ್ಕೆ ಎಷ್ಟು ಅವಧಿಗೆ ಪ್ರಧಾನಮಂತ್ರಿಯಾಗಿದ್ದರು.

- (A) ಮೂರು ಅವಧಿ
- (B) ನಾಲ್ಕು ಅವಧಿ
- (C) ಒಂದು ಅವಧಿ
- (D) ಎರಡು ಅವಧಿ

60. ಕೆಳಕಂಡ ಹೇಳಿಕೆಗಳನ್ನು ಗಮನಿಸಿ :

- I. ನೆವೆಂಥೀಸ್ ಜಾತಿಯ ಮಾಂಸಾಹಾರಿ ಸಸ್ಯಗಳು ತಮ್ಮ ಪೋಷಕಾಂಶದ ಕೊರತೆಯನ್ನು ಪೂರೈಸಿಕೊಳ್ಳಲು, ಜೈವಿಕ ಬಲೆಗಳಾಗಿ ಕಾರ್ಯನಿರ್ವಹಿಸುವ ಎಲೆ-ವಿಕಸಿತ ಹೂಜಿಗಳ ಮೂಲಕ ಕೀಟಗಳನ್ನು ಸೆರೆಹಿಡಿಯುತ್ತವೆ.
- II. ಮಾಂಸಾಹಾರಿ ಸಸ್ಯಗಳು ಬೇಟೆಯನ್ನು ಸೆಳೆಯಲು ಮತ್ತು ಸೆರೆಹಿಡಿಯಲು ಮಕರಂದ, ವಾಸನೆ, ಬಣ್ಣ ಮತ್ತು ನೇರಳಾತೀತ ಫ್ಲೋರೊಸೆನ್ಸ್ ನಂತಹ ವಿವಿಧ ತಂತ್ರಗಳನ್ನು ಬಳಸಿಕೊಳ್ಳುತ್ತವೆ ಎಂದು ತಿಳಿದುಬಂದಿದೆ.

ಮೇಲಿನ ಹೇಳಿಕೆಗಳಲ್ಲಿ ಯಾವುದು/ವು ಸರಿಯಾಗಿದೆ ?

- (A) ಎರಡೂ I ಮತ್ತು II
- (B) I ಅಥವಾ II ಎರಡೂ ಅಲ್ಲ
- (C) I ಮಾತ್ರ
- (D) II ಮಾತ್ರ

Space for Rough Work / ಒರಟು ಕೆಲಸಕ್ಕೆ ಸ್ಥಳ

General English

61. Ravi went to the dentist.

Choose the correct interrogative form of the above sentence.

- (A) Did Ravi go to the dentist ?
- (B) Does Ravi goes to the dentist ?
- (C) Did Ravi went to the dentist ?
- (D) Does Ravi go to the dentist ?

62. Add a meaningful suffix to the word 'radiate' :

- (A) ful
- (B) ion
- (C) ness
- (D) city

63. This food is inedible because it is stale.

The above sentence is

- (A) Affirmative
- (B) Interrogative
- (C) Simple
- (D) Exclamatory

64. A person who is willing to take risks while starting or running businesses is an

- (A) entreprenure
- (B) entrepreneur
- (C) antreprenneur
- (D) antreprenure

65. You open the door, please.

Which of the following questions can replace the above statement as a polite request ?

- (A) Can you open the door ?
- (B) Ought you to open the door ?
- (C) Must you open the door ?
- (D) Should you open the door ?

Space for Rough Work / ಬರಹು ಕೆಲಸಕ್ಕೆ ಸ್ಥಳ

66. Choose the correctly spelt pair of words from the following :
- (A) pronounce – pronunciation
(B) pronounce – prununciation
(C) pronounce – pronounciation
(D) pronounce – pronouncation
67. 'Pardon me' in conversation is used for
- (A) ending a conversation
(B) drawing one's attention
(C) starting a conversation
(D) requesting to repeat what has been said
68. He was _____ consumed with philanthropy _____ he gave away everything to charity.
Fill in the blanks.
- (A) pros cons
(B) such that
(C) too to
(D) so that
69. There'd be a steep hike in oil prices after the war.
The underlined contracted form of the word stands for :
- (A) There did be (B) There should be
(C) There would be (D) There had be
70. An official letter demands the use of _____ language.
- (A) formal (B) casual
(C) non-formal (D) informal

Space for Rough Work / ಒರಟು ಕೆಲಸಕ್ಕೆ ಸ್ಥಳ

71. Choose the grammatically correct sentence.
- (A) Sarala does not know the rules of the company.
(B) Sarala does not knows the rules of the company.
(C) Sarala do not know the rules of the company.
(D) Sarala not know the rules of the company.
72. In the beginning of the sentence, the word could/would/may is used for
- (A) making a request
(B) expressing an apology
(C) asserting oneself
(D) rejecting an offer
73. Since Rahul _____ the movie, he did not accompany his friends to the cinema.
- (A) watched
(B) will watch
(C) has watched
(D) had watched
74. They won't catch the burglars, _____ ?
Choose the appropriate question tag to fill in the blank.
- (A) will they
(B) would they
(C) are they
(D) should they
75. People in Malnad carry _____ umbrella whenever they go out.
- (A) a
(B) for
(C) an
(D) the

Space for Rough Work / ಬರಹು ಕೆಲಸಕ್ಕೆ ಸ್ಥಳ

76. The Government worked hard to build bridges with neighbouring countries.
The underlined words mean:
- (A) excellent work
(B) prepare for war
(C) improve relations
(D) disturb relations
77. Students studying abroad earn _____ they learn.
- (A) however
(B) in addition
(C) but
(D) while
78. Either my father or mother _____ to attend the Parent-Teacher Meeting this evening.
- (A) was going
(B) are going
(C) were going
(D) is going
79. The shrewd police officer _____ the ploy of the terrorists.
- (A) saw over
(B) saw to
(C) saw off
(D) saw through
80. Add a suitable prefix to get the opposite of the word 'accurate'.
- (A) mis
(B) in
(C) dis
(D) un

Space for Rough Work / ಒರಟು ಕೆಲಸಕ್ಕೆ ಸ್ಥಳ

ಸಾಮಾನ್ಯ ಕನ್ನಡ

81. ಕೆಳಗಿನವುಗಳಲ್ಲಿ ವ್ಯಾಕರಣ ಸರಿಯಾದ ಆಯ್ಕೆ ಯಾವುದು ?

- (A) ಸ್ವಚ ಭರತ ಅಭಿಯಾನ
- (B) ಸ್ವಚ್ಚ ಭಾರತ ಅಭಿಯಾನ
- (C) ಸ್ವಚ್ಚ ಭಾರತ ಹಭಿಯಾನ
- (D) ಸ್ವಚ್ಚ ಭಾರತ ಅಭಿಯಾನ

82. ಕೆಳಗಿನ ಪದಗಳ ಗುಂಪನ್ನು ಅರ್ಥ ಪೂರ್ಣವಾದ ವಾಕ್ಯ ರಚಿಸಲು ಕ್ರಮದಲ್ಲಿ ಜೋಡಿಸಿ :

<u>ಯಾರೂ ಇಲ್ಲ</u>	<u>ಗೆಳೆಯರು</u>
P	Q
<u>ಆತ್ಮವಿಶ್ವಾಸಕ್ಕಿಂತ</u>	<u>ದೊಡ್ಡ</u>
R	S

- (A) SRPQ (B) QRPS (C) PQRS (D) RSQP

83. ಕನ್ನಡದ ರತ್ನತ್ರಯರು

- (A) ಪೊನ್ನ - ರತ್ನಾಕರಮರ್ಣಿ - ಜನ್ನ
- (B) ಪಂಪ - ಪೊನ್ನ - ರನ್ನ
- (C) ಪಂಪ - ಜನ್ನ - ಪೊನ್ನ
- (D) ಪಂಪ - ನಾಗವರ್ಮ - ರನ್ನ

84. 'ಕರ್ನಾಟಕದ ಕಬೀರ' ಎಂದು ಕರೆಸಿಕೊಂಡವರು

- (A) ಸಿದ್ದಾರೂಢರು
- (B) ಶಿಶುನಾಳ ಶರೀಫ
- (C) ಗೋವಿಂದಭಟ್ಟ
- (D) ಕಡಿಕೋಳಮಡಿವಾಳಪ್ಪ

85. "ಪರ್ಪಂಚ ಇರೋತನಕ ಮುಂದೆ ಕನ್ನಡ ಪದಗೋಳ ನುಗ್ಗಿ" ಎಂದು ಕನ್ನಡದ ಉತ್ಕಟ ಅಭಿಮಾನವನ್ನು ಮೆರೆದ ಕವಿ

- (A) ಚನ್ನವೀರಕಣವಿ
- (B) ಜಿ.ಪಿ. ರಾಜರತ್ನಂ
- (C) ಕುವೆಂಪು
- (D) ಜಿ.ಎಸ್. ಶಿವರುದ್ರಪ್ಪ

Space for Rough Work / ಒರಟು ಕೆಲಸಕ್ಕೆ ಸ್ಥಳ

86. ಸ್ವತಂತ್ರವಾಗಿ ಉಚ್ಚರಿಸಲ್ಪಡುವ ಅಕ್ಷರ _____ .

- (A) ವ್ಯಂಜನ
- (B) ಸ್ವರ
- (C) ಅವರ್ಗೀಯ ವ್ಯಂಜನ
- (D) ಯೋಗವಾಹ

87. ಲೋಪಸಂಧಿಗೆ ಉದಾಹರಣೆ _____ .

- (A) ಚಳಿಯಲ್ಲಿ
- (B) ಗುರೂಪದೇಶ
- (C) ಕಂಬನಿ
- (D) ನಾವೆಲ್ಲಾ

88. “ಮನೆಯ ಮುತ್ತಿನ ನೀರಿನ ಎರಕಾವ ಹೊಯ್ಯೆ”

ಈ ವಾಕ್ಯದಲ್ಲಿ ಗೆರೆ ಎಳೆದಿರುವ ಪದ _____ .

- (A) ಪ್ರಕಾರವಾಚಕ
- (B) ದಿಗ್ವಾಚಕ
- (C) ಗುಣವಾಚಕ
- (D) ನಾಮವಾಚಕ

89. ‘ಯೋಗಿ’ _____ ನಾಮಕ್ಕೆ ಉದಾಹರಣೆ.

- (A) ರೂಢ
- (B) ಗುಣವಾಚಕ
- (C) ಅನ್ವರ್ಥಕ
- (D) ಅಂಕಿತ

90. ‘ಅಕ್ಕ’ ಈ ಪದದ ಬಹುವಚನ ರೂಪ _____ .

- (A) ಅಕ್ಕಯ್ಯೆಗಳು
- (B) ಅಕ್ಕಂದಿರು
- (C) ಅಕ್ಕಗಳು
- (D) ಅಕ್ಕರು

Space for Rough Work / ಒರಟು ಕೆಲಸಕ್ಕೆ ಸ್ಥಳ

91. ಕೆಳಗಿನ ಪದಗಳಲ್ಲಿ ಯಾವುದು 'ನಿತ್ಯನಪುಂಸಕ' ಲಿಂಗವಲ್ಲ

- (A) ಮಗು
- (B) ಜನ
- (C) ಶಿಶು
- (D) ತಂದೆ

92. ವಾಚ್ಯಲಿಂಗಕ್ಕೆ ಉದಾಹರಣೆ _____.

- (A) ಒಳ್ಳೆಯ
- (B) ಆಕಾಶ
- (C) ಕೆಟ್ಟವನು
- (D) ಚಿಕ್ಕವಳು

93. "ಸದ್ಧರ್ಮದಾ ಸತಿಯೇ ಸರ್ವಕೆ ಸಾಧನಂ" ಈ ವಾಕ್ಯದಲ್ಲಿ ಅಡಿಗರೆ ಎಳೆದಿರುವ ಪದವು ಸೂಚಿಸುವ ವಿಭಕ್ತಿ

- (A) ಚತುರ್ಥಿ
- (B) ಷಡಿ
- (C) ಸಂಭೋಧನಾ
- (D) ಪ್ರಥಮ

94. 'ನಿಮಗೆ ಶುಭವಾಗಲಿ' ಅಡಿಗರೆ ಎಳೆದ ಪದವು _____ ರೂಪ.

- (A) ಸಂಭಾವನಾರ್ಥಕ
- (B) ಆಜ್ಞಾರ್ಥಕ
- (C) ನಿಷೇಧಾರ್ಥಕ
- (D) ವಿದ್ಯಾರ್ಥಕ

95. ಆಕಾಶದಲ್ಲಿ ಗುಡು ಗುಡು ಎಂದು ಗುಡುಗಿತು. ಈ ವಾಕ್ಯದಲ್ಲಿ ಅಡಿಗರೆ ಎಳೆದಿರುವ ಪದವು _____.

- (A) ಕೃದಂತಾವ್ಯಯ
- (B) ಅನುಕರಣಾವ್ಯಯ
- (C) ಭಾವಸೂಚಕಾವ್ಯಯ
- (D) ಸಾಮಾನ್ಯಾವ್ಯಯ

Space for Rough Work / ಒರಟು ಕೆಲಸಕ್ಕೆ ಸ್ಥಳ

96. 'ಭೂಮಿ' ಈ ಪದವು _____ ಭಾಷೆಗೆ ಸೇರಿದೆ.

- (A) ಪೋರ್ಚುಗೀಸ್
- (B) ಸಂಸ್ಕೃತ
- (C) ಕನ್ನಡ
- (D) ಹಿಂದೂಸ್ತಾನಿ

97. ದ್ವಿರುಕ್ತಿಗೆ ಈ ಪದ ಉದಾಹರಣೆ _____ .

- (A) ಮನೆಗೆಲಸ
- (B) ಪಾರ್ಕಿಂಗ್
- (C) ಹೆಚ್ಚೇನು
- (D) ಬೇಗ ಬೇಗ

98. 'ಬ್ಯಾಸಗೆ' ಈ ಪದದ ಗ್ರಾಂಥಿಕರೂಪ _____ .

- (A) ಬೇಸರ
- (B) ಬೆಂದು
- (C) ಬೇಸಿಗೆ
- (D) ಬೇಗುದಿ

99. 'ಕಬ್ಬಿಗ' ಪದದ ಸಮಾನಾರ್ಥಕ _____ .

- (A) ಕವು
- (B) ಕಬ್ಬಿಣ
- (C) ಕವಿ
- (D) ಕಬ್ಬು

100. 'ನಿಮ್ಮ ಹೆಸರು ಏನು' - ಈ ವಾಕ್ಯದಲ್ಲಿ ಬಳಸುವ ಚಿನ್ತೆ

- (A) ಪ್ರಶ್ನಾರ್ಥಕ
- (B) ಉದ್ಧರಣೆ ಚಿನ್ತೆ
- (C) ಆಶ್ಚರ್ಯ ಚಿನ್ತೆ
- (D) ಪೂರ್ಣವಿರಾಮ

Space for Rough Work / ಒರಟು ಕೆಲಸಕ್ಕೆ ಸ್ಥಳ

1JA070822

TIME	MAXIMUM MARKS	TOTAL DURATION	MAXIMUM TIME FOR ANSWERING	SUBJECT
10.30 a.m. to 12.30 p.m.	100	150 Minutes	120 Minutes	JA - ASSISTANT

B1

MENTION YOUR REGISTER NUMBER				QUESTION BOOKLET DETAILS	
				VERSION CODE	SERIAL NUMBER

Dos:




1. This question booklet is issued to you by the invigilator **after 10.20 am**.
2. Check whether the Register Number has been entered and shaded in the respective circles on the OMR answer sheet.
3. The version code and serial number of this question booklet should be entered on the OMR answer sheet and the respective circles should also be shaded completely.
4. The Version Code and Serial Number of this question booklet should be entered on the Nominal Roll without any mistakes.
5. Compulsorily sign at the bottom portion of the OMR answer sheet in the space provided.

DONTs:

1. The timing and marks printed on the OMR answer sheet should not be damaged / mutilated / spoiled.
2. The 4th Bell rings at 10.30 am, till then;
 - Do not remove the seal present on the right hand side of this question booklet.
 - Do not; look inside this question booklet or start answering on the OMR answer sheet.

IMPORTANT INSTRUCTIONS TO CANDIDATES

1. In case of usage of signs and symbols in the questions, the regular textbook connotation should be considered unless stated otherwise.
2. This question booklet contains 100 questions and each question will have one statement and four different options / responses & out of which you have to choose one correct answer.
3. After the 4th Bell is rung at 10.30 am, remove the paper seal on the right hand side of this question booklet and check that this booklet does not have any unprinted or torn or missing pages or items etc., if so, get it replaced by a complete test booklet. Read each item and start answering on the OMR answer sheet.
4. Completely **darken / shade** the relevant circle with a **blue or black ink ballpoint pen** against the question number on the OMR answer sheet.

ಸರಿಯಾದ ಕ್ರಮ CORRECT METHOD	ತಪ್ಪು ಕ್ರಮಗಳು WRONG METHODS
(A) ● (C) (D)	 (B) (C) (D) (A) (B) (C)  (D) (A) ● ● (D)
	 (B) (C) (D) (A) ● (C) (D)

5. Please note that even a minute unintended ink dot on the OMR answer sheet will also be recognized and recorded by the scanner. Therefore, avoid multiple markings of any kind on the OMR answer sheet.
6. Use the space provided on each page of the question booklet for Rough Work. Do not use the OMR answer sheet for the same.
7. **Last bell will ring at 12.30 pm**, stop marking on the OMR answer sheet.
8. Hand over the **OMR answer sheet** to the room invigilator as it is.
9. After separating the top sheet (OFFICE COPY), the invigilator will return the bottom sheet replica (CANDIDTE's COPY) to you to carry home for self-evaluation.
10. There is a negative valuation, for each wrong answer ¼ of marks (0.25) will be deducted.

NOTE : In case of any discrepancy in the English and Kannada Versions, the English version will be taken as final.

1JA070822

(32 – B1)