

A1

1. ಮಾಹಿತಿ ಹಕ್ಕು ಕಾಯಿದೆ ಯಾವಾಗ ಜಾರಿಗೆ ಬಂದಿತು?
(A) 2002 (B) 2003
(C) 2004 (D) 2005
2. ಭಾರತದಲ್ಲಿ ಪ್ರಜೆಗಳ ಮೂಲಭೂತ ಹಕ್ಕುಗಳನ್ನು ತಿದ್ದುಪಡಿ ಮಾಡುವ ಅಧಿಕಾರ ಯಾರು ಹೊಂದಿರುತ್ತಾರೆ?
(A) ಲೋಕಸಭೆ (B) ರಾಜ್ಯಸಭೆ
(C) ಕೇಂದ್ರ ಶಾಸಕಾಂಗ (D) ಸರ್ವೋಚ್ಚ ನ್ಯಾಯಾಲಯ
3. ಭಾರತ ಸಂವಿಧಾನದ ವಿಧಿ 19ರ ಮೂಲಭೂತ ಸ್ವಾತಂತ್ರ್ಯಗಳನ್ನು ಯಾವ ತುರ್ತು ಸಮಯದಲ್ಲಿ ಅಮಾನತು ಗೊಳಿಸಬಹುದಾಗಿದೆ?
(A) ಆರ್ಥಿಕ ಬಿಕ್ಕಟ್ಟು (B) ಆಂತರಿಕ ಸಶಸ್ತ್ರ ದಂಗೆ
(C) ರಾಜ್ಯದಲ್ಲಿ ಸಂವಿಧಾನಿಕ ವ್ಯವಸ್ಥೆಯ ವೈಫಲ್ಯ (D) ಯುದ್ಧ ಮತ್ತು ಬಾಹ್ಯ ಆಕ್ರಮಣ
4. ಪಟ್ಟಿ 1 ಮತ್ತು ಪಟ್ಟಿ 2 ನ್ನು ಹೊಂದಿಸಿ ಕೆಳಗೆ ನೀಡಲಾದ ಕೋಡ್‌ಗಳಿಂದ ಸರಿಯಾದ ಉತ್ತರವನ್ನು ಆರಿಸಿ :
ಪಟ್ಟಿ 1 ಪಟ್ಟಿ 2
a. ಸಂವಿಧಾನಿಕ ತಿದ್ದುಪಡಿ 1. ವಿಧಿ 360 e
b. ಹಣಕಾಸು ಆಯೋಗ 2. ವಿಧಿ 312 d
c. ಹಣಕಾಸು ತುರ್ತುಪರಿಹಾರ 3. ವಿಧಿ 280 b
d. ಅಖಿಲ ಭಾರತ ಸೇವೆಗಳು 4. ವಿಧಿ 368 e
- | | A | B | C | D |
|-----|---|---|---|---|
| (a) | 2 | 3 | 4 | 1 |
| (b) | 3 | 4 | 1 | 2 |
| (c) | 4 | 3 | 1 | 2 |
| (d) | 1 | 2 | 3 | 4 |
5. ಈ ಕೆಳಗಿನ ಭಾರತೀಯ ರಾಷ್ಟ್ರಪತಿಗಳಲ್ಲಿ ಯಾರು ಅವಿರೋಧವಾಗಿ ಆಯ್ಕೆಯಾದರು?
(A) ನೀಲಂ ಸಂಜೀವ ರೆಡ್ಡಿ (B) ಡಾ. ಎಸ್. ರಾಧಾಕೃಷ್ಣನ್
(C) ಡಾ. ಝಕೀರ್ ಹುಸೈನ್ (D) ಫಾಕ್ರುದ್ದೀನ್ ಅಲಿ ಅಹ್ಮದ್

SPACE FOR ROUGH WORK

6. ಈ ಕೆಳಗಿನವರಲ್ಲಿ ಯಾರನ್ನು ಭಾರತದ ರಾಷ್ಟ್ರಪತಿ ನೇಮಿಸುತ್ತಾರೆ?
- ರಾಜ್ಯಗಳ ರಾಜ್ಯಪಾಲರು
 - ಉಚ್ಚನ್ಯಾಯಾಲಯದ ಮುಖ್ಯ ನ್ಯಾಯಾಧೀಶ ಹಾಗೂ ಇತರೆ ನ್ಯಾಯಾಧೀಶರು.
 - ಸರ್ವೋಚ್ಚನ್ಯಾಯಾಲಯದ ಮುಖ್ಯ ನ್ಯಾಯಾಧೀಶ ಹಾಗೂ ಇತರೆ ನ್ಯಾಯಾಧೀಶರು.
 - ಭಾರತದ ಉಪರಾಷ್ಟ್ರಪತಿಗಳು.
- (A) (i), (ii) (B) (i), (ii), (iii)
(C) (ii), (iii), (iv) (D) (i), (iii), (iv)
7. ಸಂವಿಧಾನದ ವಿವಿಧ ಅಂಶಗಳನ್ನು ಪರಿಗಣಿಸಲು ಸಂವಿಧಾನ ರಚನಾ ಸಮಿತಿಯು ಎಷ್ಟು ಸಮಿತಿಗಳನ್ನು ನೇಮಿಸಿತು?
- (A) 8 (B) 10
(C) 12 (D) 13
8. ಫೆಬ್ರವರಿ 1987ರಲ್ಲಿ ಈ ಕೆಳಗಿನ ಯಾವ ಕೇಂದ್ರಾಡಳಿತ ದೇಶವು ರಾಜ್ಯತ್ವವನ್ನು ಗಳಿಸಿತು?
- (A) ಅರುಣಾಚಲ ಪ್ರದೇಶ (B) ಪುದುಚೇರಿ
(C) ಗೋವಾ (D) ದಮನ್ ಮತ್ತು ದೀಯೂ
9. ಸಂವಿಧಾನದ ಯಾವ ವಿಧಿಯು ಒಕ್ಕೂಟದ ಕಾರ್ಯಾಂಗೀಯ ಅಧಿಕಾರವನ್ನು ರಾಷ್ಟ್ರಪತಿಗಳಿಗೆ ವಹಿಸುತ್ತದೆ?
- (A) ವಿಧಿ 52 (B) ವಿಧಿ 53
(C) ವಿಧಿ 54 (D) ವಿಧಿ 55
10. ರಾಷ್ಟ್ರಪತಿಗಳು ಹಣಕಾಸು ಆಯೋಗವನ್ನು ಎಷ್ಟು ವರ್ಷಕ್ಕೆ ಒಮ್ಮೆ ರಚಿಸುತ್ತಾರೆ?
- (A) 2 ವರ್ಷ (B) 3 ವರ್ಷ
(C) 5 ವರ್ಷ (D) 4 ವರ್ಷ
11. ಹುಣ್ಣಿಮೆ ಮತ್ತು ಅಮಾವಾಸ್ಯೆಗಳ ಸಂಜೆ ಸಮಯದಲ್ಲಿ ಬೌದ್ಧ ಸನ್ಯಾಸಿಯೊಬ್ಬನ ಸಾಮಾನ್ಯ ಗೊಂದಲದ ನಡವಳಿಗೆ ಈ ಹೆಸರಿದೆ :
- (A) ಉಪವಸಥ (B) ಬ್ರಹ್ಮ ವಿಹಾರ
(C) ಯೋಗಾಚಾರ (D) ಮೇಲಿನ ಯಾವುದೂ ಅಲ್ಲ
12. 'ನ್ಯೂಮಿಸ್ ಮ್ಯಾಟಿಕ್ಸ್' ಎಂಬುದು ಇದರ ಅಧ್ಯಯನವಾಗಿದೆ :
- (A) ಸ್ಮಾರಕಗಳು (B) ಶಾಸನಗಳು
(C) ಪವಿತ್ರ ಗ್ರಂಥಗಳು (D) ನಾಣ್ಯಗಳು

13. ದಯಾಭಾಗದ ನಿಯಮಗಳನ್ನು ಬಹುತೇಕ ಈ ರಾಜ್ಯದ ಕುಟುಂಬಗಳು ಅನುಸರಿಸುತ್ತವೆ :
 (A) ಕರ್ನಾಟಕ (B) ತಮಿಳುನಾಡು
 (C) ರಾಜಸ್ಥಾನ (D) ಅಸ್ಸಾಂ
14. 'ಇಂಡಿಕಾ' ಗ್ರಂಥ ಬರೆದವರು :
 (A) ಹುಯೆನ್ ತ್ಸಾಂಗ್ (B) ಮೆಗಾಸ್ಥನೀಸ್
 (C) ಫಾಹಿಯಾನ್ (D) ಟಿಟಿಂಗ್
15. ದೀನ್-ಇ-ಇಲಾಹಿ ಎಂಬ ಬುದ್ಧಿಜೀವಿಗಳ ಮತ್ತು ಸಂತರ ಸಂಘವು ಇವರಿಂದ ಸ್ಥಾಪಿತವಾಯಿತು
 (A) ಜಹಾಂಗೀರ್ (B) ಬಾಬರ್
 (C) ಹುಮಾಯೂನ್ (D) ಅಕ್ಬರ್
16. ಗೋಮತಿ ನದಿ ದಂಡೆಯ ಮೇಲಿರುವ ಜೌನ್‌ಪುರ್ ಅನ್ನು ಸ್ಥಾಪಿಸಿದವರು
 (A) ಸುಲ್ತಾನ್ ಫಿರೋಜ್ ತುಘಲಕ್ (B) ಅಲ್ಲಾವುದ್ದೀನ್ ಖಿಲ್ಜಿ
 (C) ಇಲ್ತಮಿಷ್ (D) ಇಬ್ರಾಹಿಂ ಲೋದಿ
17. 'ಶಿರಾಜ್ ಆಫ್ ಇಂಡಿಯ' ಎಂಬ ಬಿರುದು ಹೊಂದಿದ್ದ, ಇಸ್ಲಾಮಿಕ್ ಸಂಸ್ಕೃತಿ ಮತ್ತು ಶಿಕ್ಷಣದ ಬಹುದೊಡ್ಡ ಕೇಂದ್ರವಾಗಿದ್ದ ಸ್ಥಳ
 (A) ಬೆಂಗಾಲ್ (B) ಜೌನ್‌ಪುರ್
 (C) ಓರಿಸ್ಸಾ (D) ಗುಜರಾತ್
18. 1767-69 ರ ಮೊದಲನೇ ಆಂಗ್ಲೋ-ಮೈಸೂರ್ ಯುದ್ಧವು ಇದರಿಂದ ಕೊನೆಗೊಂಡಿತು
 (A) ಐಕ್ಸ್-ಲಾ-ಚಾಪೆಲ್ ಒಪ್ಪಂದ (B) ಮಂಗಳೂರ ಒಪ್ಪಂದ
 (C) ಮದ್ರಾಸ್ ಒಪ್ಪಂದ (D) ಶ್ರೀರಂಗಪಟ್ಟಣಂ ಒಪ್ಪಂದ
19. 1886 ರಲ್ಲಿ ಕಲ್ಕತ್ತಾ ಕಾಂಗ್ರೆಸ್ ಅಧಿವೇಶನದ ಅಧ್ಯಕ್ಷತೆ ವಹಿಸಿದ್ದವರು
 (A) ಆನಂದ ಮೋಹನ್ ಬೋಸ್ (B) ದಾದಾಭಾಯಿ ನವರೋಜಿ
 (C) ಸರ್ ಫಿರೋಜ್‌ಶಾ ಮೆಹ್ತಾ (D) ಡಿ.ಇ. ವಾಚಾ
20. ಐಕ್ಸ್-ಲಾ-ಚಾಪೆಲ್ ಒಪ್ಪಂದದ ಷರತ್ತುಗಳಡಿಯಲ್ಲಿ (1748) ಮದ್ರಾಸ್ ಅನ್ನು ಮರಳಿ ಇವರಿಗೆ ಒಪ್ಪಿಸಲಾಯಿತು
 (A) ಬ್ರಿಟಿಷರು (B) ಫ್ರೆಂಚರು
 (C) ಪೋರ್ಚುಗೀಸರು (D) ಡಚ್ಚರು

21. ಭೀಮ್ ಕುರಿತ ಕೆಳಗಿನ ಹೇಳಿಕೆಗಳನ್ನು ಗಮನಿಸಿ :

1. ಅದು ಮೊಬೈಲ್ ಫೋನ್ ಮೂಲಕ ತ್ವರಿತ, ಸುರಕ್ಷಿತ, ವಿಶ್ವಾಸಾರ್ಹ ನಗದು ಪಾವತಿಗಳನ್ನು ಸಾಧ್ಯಗೊಳಿಸುವ ಉಪಕ್ರಮವಾಗಿದೆ.
2. ಇತರ ಮೊಬೈಲ್ ವ್ಯಾಲೆಟ್ ಗಳಾದ ಪೇಟಿಎಂ, ಫೋನ್‌ಪೆ, ಏರ್‌ಟೆಲ್‌ಮನಿ ಇತ್ಯಾದಿಗಳಂತೆ ಅದು ಸಹ ಹಣವನ್ನು ಸಂಗ್ರಹಿಸಿಟ್ಟುಕೊಂಡು ಇತರ ಖಾತೆಗಳಿಗೆ/ವ್ಯಾಪಾರಿಗಳಿಗೆ ವರ್ಗಾಯಿಸಬಹುದಾಗಿದೆ.
3. ಭೀಮ್‌ನಲ್ಲಿ ಬ್ಯಾಂಕ್ ರಜಾದಿನಗಳಂದು ವ್ಯವಹಾರ ನಡೆಸಲು ಸಾಧ್ಯವಿಲ್ಲ. ಕೆಳಗಿನ ಯಾವ ಹೇಳಿಕೆ/ಹೇಳಿಕೆಗಳು ಸರಿ ಆಗಿದೆ/ವೆ?

(A) 1 ಮಾತ್ರ

(B) 1, 2 ಮತ್ತು 3

(C) 1 ಮತ್ತು 2 ಮಾತ್ರ

(D) 1 ಮತ್ತು 3 ಮಾತ್ರ

22. ಈ ಕೆಳಗಿನ ಯಾವ ಸಂಸ್ಥೆಯು ತಮಿಳುನಾಡಿನಲ್ಲಿ 'ಡಿಜಿಟಲ್ ಸಖಿ' ಎಂಬ ಶೈಕ್ಷಣಿಕ ಕಾರ್ಯಕ್ರಮವನ್ನು ಪ್ರಾರಂಭಿಸಿತು?

(A) ವಿಪ್ರೊ

(B) ಎಲ್ ಆಂಡ್ ಟಿ ಫೈನಾನ್ಸ್ ಸರ್ವಿಸಸ್ ಲಿ.

(C) ಬಜಾಜ್ ಫೈನಾನ್ಸ್ ಲಿಮಿಟೆಡ್

(D) ಇನ್ಫೊಸಿಸ್

23. ಸರ್ಕಾರದ ಯಾವ ಯೋಜನೆಯು ಡಿಜಿಟಲ್ ಶಿಕ್ಷಣದ ಮೂಲಕ 2.22 ಕೋಟಿ ಗ್ರಾಮವಾಸಿಗಳಿಗೆ ಪ್ರಯೋಜನ ಒದಗಿಸಿದೆ ಮತ್ತು ಈಗ ಒಂದು ಲಕ್ಷ ಡಿಜಿಟಲ್ ಹಳ್ಳಿಗಳ ನಿರ್ಮಾಣದಲ್ಲಿ ಕಾರ್ಯಪ್ರವೃತ್ತವಾಗಿದೆ?

(A) ಪ್ರಧಾನ್‌ಮಂತ್ರಿ ಡಿಜಿಟಲ್ ಕೌಶಲ್ ವಿಕಾಸ್ ಯೋಜನಾ (ಪಿಎಂಡಿಕೆಎವೈ)

(B) ಪ್ರಧಾನ್‌ಮಂತ್ರಿ ಸುರಕ್ಷಾ ಡಿಜಿಟಲ್ ಸಾಕ್ಷರತಾ ಯೋಜನಾ (ಪಿಎಂಎಸ್ ಡಿಎಸ್‌ವೈ)

(C) ಪ್ರಧಾನ್‌ಮಂತ್ರಿ ಗ್ರಾಮೀಣ ಡಿಜಿಟಲ್ ಸಾಕ್ಷರತಾ ಅಭಿಯಾನ್ (ಪಿಎಂಜಿಡಿಶಾ)

(D) ದೀನ್ ದಯಾಳ್ ಉಪಾಧ್ಯಾಯ ಡಿಜಿಟಲ್ ಸಾಕ್ಷರತಾ ಅಭಿಯಾನ್ (ಡಿಡಿಯುಡಿಎಸ್‌ಎ)

24. ರಾಷ್ಟ್ರೀಯ ತನಿಖಾ ಏಜೆನ್ಸಿ (ತಿದ್ದುಪಡಿ) ಮಸೂದೆ 2019ಕ್ಕೆ ಸಂಬಂಧಿಸಿದಂತೆ ಕೆಳಗಿನ ಯಾವ ಹೇಳಿಕೆ/ಹೇಳಿಕೆಗಳು ಸರಿ ಆಗಿದೆ/ವೆ?

1. ತಿದ್ದುಪಡಿಯು ಮಾನವ ಕಳ್ಳ ಸಾಗಾಣಿಕೆ ಮತ್ತು ನಕಲಿ ಚಲಾವಣೆ ಹಣಕ್ಕೆ ಸಂಬಂಧಿಸಿದ ಅಪರಾಧ ಕೃತ್ಯಗಳ ತನಿಖೆ ಮಾಡಲು ರಾಷ್ಟ್ರೀಯ ತನಿಖಾ ಏಜೆನ್ಸಿಗೆ ಅವಕಾಶ ನೀಡುತ್ತದೆ.

2. ಅದು ರಾಷ್ಟ್ರೀಯ ತನಿಖಾ ಏಜೆನ್ಸಿಯ ಅಧಿಕಾರಿಗಳಿಗೆ ಭಾರತದ ಹೊರಗೆ ಎಸಗಿದ ಅಪರಾಧ ಕೃತ್ಯಗಳ ತನಿಖೆ ಮಾಡಲು ಅಧಿಕಾರ ನೀಡುತ್ತದೆ.

(A) 1 ಮಾತ್ರ

(B) 2 ಮಾತ್ರ

(C) 1 ಮತ್ತು 2

(D) ಯಾವುದೂ ಅಲ್ಲ

SPACE FOR ROUGH WORK

25. 'ಪ್ರಧಾನಮಂತ್ರಿ ಕಿಸಾನ್ ಸಮ್ಮಾನ್ ನಿಧಿ' ಕುರಿತು ಕೆಳಗಿನ ಹೇಳಿಕೆಗಳನ್ನು ಗಮನಿಸಿ. ಕೆಳಗೆ ಕೊಟ್ಟಿರುವ ಸರಿಯಾದ ಸಂಕೇತ ಸಂಖ್ಯೆಯನ್ನು ಆರಿಸಿರಿ :

I. ಪ್ರತಿ ಕಂತಿನಲ್ಲಿ ರೂ. 2,000 ದಂತೆ ಒಟ್ಟು ಮೂರು ಕಂತುಗಳಲ್ಲಿ ರೂ. 6,000 ಅನ್ನು ವಾರ್ಷಿಕವಾಗಿ ಫಲಾನುಭವಿ ರೈತರ ಖಾತೆಗೆ ವರ್ಗಾಯಿಸಲಾಗುವುದು.

II. ಸಂಬಂಧಿಸಿದ ರಾಜ್ಯದ/ಕೇಂದ್ರಾಡಳಿತ ಪ್ರದೇಶದ ಭೂ ದಾಖಲೆಗಳ ಪ್ರಕಾರ 2 ಹೆಕ್ಟೇರ್‌ವರೆಗೆ ಸಾಗುವಳಿ ಭೂಮಿಯನ್ನು ಸಾಮೂಹಿಕವಾಗಿ ಒಡೆತನದಲ್ಲಿ ಹೊಂದಿರುವ ಸಣ್ಣ ಮತ್ತು ಅತಿಸಣ್ಣ ಭೂ ಹಿಡುವಳಿದಾರ ರೈತ ಕುಟುಂಬ ಮಾತ್ರ ಈ ಯೋಜನೆಗೆ ಅರ್ಹವಾಗಿದೆ.

(A) II ಮಾತ್ರ

(B) I ಮಾತ್ರ

(C) I ಮತ್ತು II

(D) I ಅಥವಾ II ಯಾವುದೂ ಅಲ್ಲ

26. 2021ರ ಸ್ವಾನಿಷ್ ಗ್ರ್ಯಾಂಡ್ ಪ್ರಿಕ್ಸ್ ಅನ್ನು ಗೆದ್ದವರು

(A) ಮ್ಯಾಕ್ಸ್ ವೆರ್ಸಾಟಿಪೆನೆ

(B) ಲೂವಿಸ್ ಹ್ಯಾಮಿಲ್ಟನ್

(C) ವಲ್ಟೇರಿ ಬೊಟ್ಟಾಸ್

(D) ಸೆಬಾಸ್ಟಿಯನ್ ವೆಟ್ಟೆಲ್

27. ಕೆಳಗಿನ ಯೋಜನೆಗಳ ಪೈಕಿ ಯಾವುದು ತಿಂಗಳಿಗೆ ರೂ. 15,000 ಕ್ಕಿಂತ ಕಡಿಮೆ ಆದಾಯವಿರುವ ಅಸಂಘಟಿತ ವಲಯದ ಕಾರ್ಮಿಕರಿಗೆ ಪ್ರಯೋಜನಕಾರಿಯಾಗಿದೆ?

(A) ಪ್ರಧಾನಮಂತ್ರಿ ಜಿ-ವನ್ ಯೋಜನಾ

(B) ಪ್ರಧಾನಮಂತ್ರಿ ಶ್ರಮಯೋಗಿ ಮಾನ್‌ಧನ್ ಯೋಜನಾ

(C) ಪ್ರಧಾನಮಂತ್ರಿ ಸುರಕ್ಷಾ ಭೀಮಾ ಯೋಜನಾ

(D) ಪ್ರಧಾನಮಂತ್ರಿ ಜನಧನ್ ಯೋಜನಾ

28. ಎಸ್‌ಸಿ/ಎಸ್‌ಟಿ ಸಮುದಾಯಕ್ಕೆ ಸೇರಿದ ನವೋದ್ಯಮ ಆಕಾಂಕ್ಷಿಗಳಿಗೆ ಸಹಾಯ ಮಾಡಲು ಕರ್ನಾಟಕ ಸರ್ಕಾರದಿಂದ ಪ್ರಾರಂಭಿಸಲ್ಪಟ್ಟ ಯೋಜನೆ ಯಾವುದು?

(A) ಹಣಕೋಶ

(B) ರಕ್ತಕೋಶ

(C) ಅವನತಿ

(D) ಉನ್ನತಿ

SPACE FOR ROUGH WORK

COMPREHENSION

We stand poised precariously and challengingly on the razor's edge of destiny. We are now at the mercy of atom bombs and the like which would destroy us completely if we fail to control them wisely. And wisdom in this crisis means sensitiveness to the basic values in life, it means a vivid realisation that we are literally living in one world where we must either swim together or sink together. We cannot afford to tamper with man's single minded loyalty to 'peace and international understanding'. Anyone who does it is a traitor not only to man's past and present, but also to his future, because he is mortgaging the destiny of unborn generations.

29. 1. From the tone and style of the passage it appears that the writer is
 (A) a prose writer with a fascination for images and metaphors
 (B) a humanist with a clear foresight
 (C) a traitor who wishes to mortgage the destiny of future generation
 (D) Unaware of the global power situation
30. 2. The best way to escape complete annihilation in an atomic war is to
 (A) work for international understanding and harmony
 (B) invent more powerful weapons
 (C) turn to religion
 (D) ban nuclear weapons
31. 3. The phrase 'razor's edge of destiny' means a/an
 (A) enigma that cuts through the pattern of life like the edge of a razor
 (B) a critical situation that fore ordains the future
 (C) a sharp line of division that marks the alternative courses of action in the future
 (D) destiny having sharp edges.
32. 4. According to the writer, 'Wisdom' in the present crisis means
 (A) awareness that we stand poised precariously on the razor's edge of destiny
 (B) determination to ban nuclear weapons
 (C) responsibility to the 'Unborn generations'
 (D) awareness of the basic values of life
33. 5. The author is so concerned about the threat of nuclear weapons because he feels that
 (A) a nuclear war will destroy human civilisation
 (B) all countries are interlinked and one cannot escape the consequences of what happens to another country
 (C) the world is on the brink of disaster
 (D) his country is threatened by a nuclear war

34. ಈ ಕೆಳಗಿನವುಗಳ ಪೈಕಿ ಯಾವುದು ಒಂದು ಜೀವಸಂಕುಲದ ಅಳವಿಗೆ ಕಾರಣವಾಗುವುದಿಲ್ಲ?

(A) ವಿಶಾಲವಾದ ವಾಸದ ಪ್ರದೇಶ

(B) ದೊಡ್ಡ ಗಾತ್ರದ ದೇಹ

(C) ಇಕ್ಕಟ್ಟಾದ ವಾಸದ ಪ್ರದೇಶ

(D) ವಂಶವಾಹಿ ಬದಲಾವಣೆಯ ಕೊರತೆ

35. ಕೆಳಗಿನ ಜೈವಿಕ ಗೋಳದ ಮೀಸಲು ಪ್ರದೇಶಗಳು ಹಾಗೂ ರಾಜ್ಯಗಳನ್ನು ಹೊಂದಿಸಿರಿ :

I

II

(ಜೈವಿಕ ಮೀಸಲು ಪ್ರದೇಶ)

(ರಾಜ್ಯಗಳು)

a. ಕಾಂಚನಜುಂಗಾ

1. ಉತ್ತರಾಖಂಡ್

b. ಸಿಮ್ಲಿಪಾಲ್

2. ಓಡಿಶಾ

c. ಮನ್ನಾರ್ ಕೊಲ್ಲಿ

3. ಸಿಕ್ಕಿಂ

d. ನಂದಾದೇವಿ

4. ತಮಿಳುನಾಡು

(A) a-2, b-3, c-1, d-4

(B) a-2, b-4, c-1, d-4

(C) ~~a-3, b-2, c-4, d-1~~

(D) a-3, b-2, c-1, d-4

36. 'ವರ್ಕಿಂಗ್ ಆನ್ ಎ ವಾರ್ಮರ್ ಪ್ಲಾನೆಟ್ - ದ ಇಂಪ್ಯಾಕ್ಟ್ ಆಫ್ ಹೀಟ್ ಸ್ಟ್ರೀಸ್ ಆನ್ ಲೇಬರ್ ಪ್ರಾಡಕ್ಟಿವಿಟಿ ಆಂಡ್ ಡೀಸೆಂಟ್ ವರ್ಕ್' ಅನ್ನು ಬಿಡುಗಡೆಗೊಳಿಸಿದವರು

(A) ವಿಶ್ವ ಆರ್ಥಿಕ ವೇದಿಕೆ

(B) ಅಂತರರಾಷ್ಟ್ರೀಯ ಕಾರ್ಮಿಕ ಸಂಘಟನೆ

(C) ವಿಶ್ವಸಂಸ್ಥೆಯ ಪರಿಸರ ಕಾರ್ಯಕ್ರಮ

(D) ವಿಶ್ವ ಬ್ಯಾಂಕ್

37. ಸರಿಯಾದುದನ್ನು ಆಯ್ಕೆ ಮಾಡಿ :

(A) ಸಮುದಾಯ → ಜೀವಿ → ಜನಸಂಖ್ಯೆ → ಬಯೋಮ್ → ಜೀವಿ ಪರಿಸರ ವ್ಯವಸ್ಥೆ → ಜೀವಗೋಳ

(B) ಜೀವಿ → ಸಮುದಾಯ → ಜನಸಂಖ್ಯೆ → ಬಯೋಮ್ → ಜೀವಿ ಪರಿಸರ ವ್ಯವಸ್ಥೆ → ಜೀವಗೋಳ

(C) ಜೀವಿ → ಜನಸಂಖ್ಯೆ → ಸಮುದಾಯ → ಜೀವಿ ಪರಿಸರ ವ್ಯವಸ್ಥೆ → ಬಯೋಮ್ → ಜೀವಗೋಳ

(D) ಜೀವಿ → ಜನಸಂಖ್ಯೆ → ಸಮುದಾಯ → ಜೀವಗೋಳ → ಜೀವಿ ಪರಿಸರ ವ್ಯವಸ್ಥೆ → ಬಯೋಮ್

38. ಈ ಕೆಳಗಿನವುಗಳ ಪೈಕಿ ಒಂದು ಜೀವಪರಿಸರ ವ್ಯವಸ್ಥೆಯ ಜೈವಿಕ ಘಟಕವನ್ನು ಗುರುತಿಸಿ

(A) ಸ್ಥಳಶಾಸ್ತ್ರ

(B) ಹಸಿರು ಸಸ್ಯಗಳು ಮತ್ತು ಪ್ರಾಣಿಗಳು

(C) ನೀರು, ಮಣ್ಣು

(D) ವಾತಾವರಣದ ಅನಿಲಗಳು ಮತ್ತು ಗಾಳಿ

SPACE FOR ROUGH WORK

39. 2021 ರ ವಿಶ್ವ ಭೂಮಿ ದಿನದ ವಿಷಯ ಏನಾಗಿತ್ತು?
- (A) ಭೂಮಿಯನ್ನು ಸಂರಕ್ಷಿಸಿ
(B) ಭೂಮಿಯನ್ನು ಸಂರಕ್ಷಿಸಲು ಪರಿಸರ-ಸ್ನೇಹಿ ವಸ್ತುಗಳನ್ನು ಬಳಸಿ
(C) ನಮ್ಮ ಭೂಮಿಯನ್ನು ಪುನರುಜ್ಜೀವನಗೊಳಿಸಿ
(D) ನಮ್ಮ ಜೀವಸಂಕುಲಗಳನ್ನು ರಕ್ಷಿಸಿ
40. ಕೆಳಗಿನ ಯಾವ ವಿಭಾಗದ ರಕ್ಷಿತ ಪ್ರದೇಶಗಳಲ್ಲಿ ಸ್ಥಳೀಯ ಜನರು ಜೀವರಾಶಿಯನ್ನು ಸಂಗ್ರಹಿಸಲು ಮತ್ತು ಬಳಸಲು ಅವಕಾಶ ಇರುವುದಿಲ್ಲ?
- (A) ಜೀವಗೋಳದಲ್ಲಿರುವ ಮೀಸಲು ಪ್ರದೇಶಗಳು
(B) ರಾಷ್ಟ್ರೀಯ ಉದ್ಯಾನವನಗಳು
(C) ರಾಮ್ಸರ್ ಸಮಾವೇಶದಡಿಯಲ್ಲಿ ಘೋಷಿಸಲ್ಪಟ್ಟ ಜಾಗು ಪ್ರದೇಶಗಳು
(D) ವನ್ಯಮೃಗ ಅಭಯಾರಣ್ಯಗಳು
41. ಅರೆಶುಷ್ಕ ಪ್ರದೇಶದ ರೈತನೊಬ್ಬನು ತನ್ನ ಕೃಷಿ ಪದ್ಧತಿಯು ಪರಿಸರ-ಸ್ನೇಹಿಯಾಗಿದೆ ಎಂದು ಪ್ರತಿಪಾದಿಸುತ್ತಾನೆ. ಈ ಕೆಳಗಿನ ಯಾವ ಬೇಸಾಯ ಕ್ರಮಗಳು ಅವನ ಪ್ರತಿಪಾದನೆಯನ್ನು ಸಮರ್ಥಿಸುತ್ತವೆ?
1. ಜಮೀನಿನ ಸುತ್ತ ಮರ ಬೆಳೆಸುವುದು
 2. ಬೆಳೆ ಪರಿವರ್ತನೆ ಕ್ರಮ ಅನುಸರಿಸುವುದು
 3. ಬೃಹತ್ ಪ್ರಮಾಣದ ನೀರಾವರಿ ಪದ್ಧತಿ ಅಳವಡಿಸಿಕೊಳ್ಳುವುದು
 4. ಸಾವಯವ ಗೊಬ್ಬರಗಳನ್ನು ಬಳಸುವುದು
- ಕೆಳಗಿನ ಸಂಕೇತಗಳನ್ನು ಬಳಸಿ ಸರಿಯಾದ ಉತ್ತರ ಆಯ್ಕೆ ಮಾಡಿ :
- (A) 3 ಮತ್ತು 4
(B) 1, 2 ಮತ್ತು 4
(C) 1, 3 ಮತ್ತು 4
(D) 1 ಮತ್ತು 2
42. ಮ್ಯಾಗ್ಸೆ ಪ್ರಶಸ್ತಿ ಪಡೆದ ಪ್ರಥಮ ಭಾರತೀಯ ಯಾರು?
- (A) ಇಂದಿರಾ ಗಾಂಧಿ
(B) ಟಿ.ಎನ್. ಶೇಷನ್
(C) ಕಿರಣ್ ಬೇಡಿ
(D) ವಿನೋಬಾ ಭಾವೆ
43. ಇತ್ತೀಚೆಗೆ ಘೋಷಿಸಲಾದ ರಾಷ್ಟ್ರೀಯ ಚಲನಚಿತ್ರ ಪ್ರಶಸ್ತಿಗಳಲ್ಲಿ ಅತ್ಯುತ್ತಮ ಹಿನ್ನೆಲೆ ಗಾಯನ (ಮಹಿಳಾ) ಪ್ರಶಸ್ತಿಯನ್ನು ಯಾರು ಪಡೆದಿದ್ದಾರೆ?
- (A) ಬಿಂದು ಮಣಿ
(B) ಕೀರ್ತಿ ಸುರೇಶ್
(C) ಸವಾನಿ ರವೀಂದ್ರ
(D) ಶ್ರೇಯಾ ಘೋಷಾಲ್

44. ಕೆಳಗಿನವುಗಳನ್ನು ಹೊಂದಿಸಿರಿ :

A

1. ಡಾ. ಅಮರ್ತ್ಯ ಸೇನ್
2. ಕೈಲಾಶ್ ಸತ್ಯಾರ್ಥಿ
3. ಡಾ. ಎಸ್. ಚಂದ್ರಶೇಖರ್
4. ಡಾ. ಹರಗೋವಿಂದ ಖುರಾನ

- (A) 1 - c, 2 - a, 3 - b, 4 - c
 (C) 1 - d, 2 - a, 3 - b, 4 - c.

B

- a. ಶಾಂತಿ
- b. ಭೌತಶಾಸ್ತ್ರ
- c. ವೈದ್ಯಕೀಯ
- d. ಅರ್ಥಶಾಸ್ತ್ರ

- (B) 1 - c, 2 - a, 3 - c, 4 - b
 (D) 1 - d, 2 - a, 3 - c, 4 - b

45. ಅಂಟಾರ್ಟಿಕಾಕ್ಕೆ ಭಾರತದ ವೈಜ್ಞಾನಿಕ ಯಾತ್ರೆಯನ್ನು ಈ ದಿನಾಂಕದಂದು ಉದ್ಘಾಟಿಸಲಾಯಿತು

- (A) ಫೆಬ್ರವರಿ 10, 2020
 (C) ಮಾರ್ಚ್ 15, 2019

- (B) ಜನವರಿ 5, 2021
 (D) ಆಗಸ್ಟ್ 3, 2020

46. 'ಪರಮ ವೀರ ಚಕ್ರ' ದ ಕುರಿತು ಕೆಳಗಿನ ಹೇಳಿಕೆಗಳನ್ನು ಗಮನಿಸಿ :

1. ಅದು ಶಾಂತಿ ಕಾಲದ ಅತ್ಯುನ್ನತ ಶೌರ್ಯ ಪ್ರಶಸ್ತಿ
2. ಬ್ರಿಟಿಷ್ ವಿಕೋರಿಯಾ ಕ್ರಾಸ್ ಬದಲಿಗೆ ಅದನ್ನು ನೀಡಲಾಗುತ್ತದೆ
3. ಅದನ್ನು ನಾಗರಿಕರಿಗೆ ನೀಡಬಹುದು.

ಮೇಲಿನ ಹೇಳಿಕೆಗಳಲ್ಲಿ ಯಾವುದು/ವು ಸರಿ?

- (A) 1 ಮಾತ್ರ
 (C) 2 ಮತ್ತು 3 ಮಾತ್ರ
 (B) 2 ಮಾತ್ರ
 (D) 1, 2 ಮತ್ತು 3

47. ಈ ಕೆಳಗಿನ ಯಾರು ಭಾರತದ ರಾಷ್ಟ್ರಪತಿ ಆಗುವುದಕ್ಕೂ ಪೂರ್ವದಲ್ಲಿ 'ಭಾರತ ರತ್ನ' ಪ್ರಶಸ್ತಿ ಪಡೆದಿದ್ದರು?

- (A) ಆರ್. ವೆಂಕಟರಾಮನ್
 (C) ಡಾ. ಝಕೀರ ಹುಸೇನ್
 (B) ಡಾ. ರಾಜೇಂದ್ರ ಪ್ರಸಾದ್
 (D) ವಿ.ವಿ. ಗಿರಿ

48. 36 ಬಾರಿ ಆಸ್ಕರ್ ಪ್ರಶಸ್ತಿ ಪಡೆದವರು _____.

- (A) ಚಾರ್ಲಿ ಚಾಪ್ಲಿನ್
 (C) ವಾಲ್ಟ್ ಡಿಸ್ನಿ
 (B) ಆಲ್ಫ್ರೆಡ್ ಹಿಚ್‌ಕಾಕ್
 (D) ಕುರೊಸಾವಾ

SPACE FOR ROUGH WORK

49. 2021ರಲ್ಲಿ ಈ ಕೆಳಗಿನ ಯಾರು 'ಕಲೆ' ವಿಭಾಗದಲ್ಲಿ ಪದ್ಮಶ್ರೀ ಪ್ರಶಸ್ತಿ ಪಡೆದಿದ್ದಾರೆ?

- (A) ಚಂದ್ರಶೇಖರ ಕಂಬಾರ
(C) ಉದಯ ಕುಮಾರ

- (B) ಮಾತಾ ಮಂಜಮ್ಮ ಜೋಗಿ
(D) ಪಿ. ಅನಿತಾ

50. ಈ ಕೆಳಗಿನ ಯಾವ ವ್ಯಕ್ತಿಯು 2020 ರ ಮಾರ್ಚ್‌ನಲ್ಲಿ ಪ್ರತಿಷ್ಠಿತ ಗ್ಲೋಬಲ್ ಟೀಚರ್ ಪ್ರಶಸ್ತಿಯನ್ನು ಪಡೆದಿದ್ದಾರೆ? ಪ್ರಶಸ್ತಿ ಪಡೆದವರು ಭಾರತ ದೇಶದವರೆಂದು ಗಮನಿಸಿ.

- (A) ರಂಜಿತ್‌ಸಿನ್ಹಾ ಡಿಸಲೆ
(C) ವಾಲ್ಡೆಮೀರ್ ಆಪ್ಪಾರ್ಯುವ

- (B) ಸ್ವರೂಪ ರಾವಲ್
(D) ಮಾರ್ಟಿನ್ ಸಾಲ್ವೆಟ್ಟಿ

51. ಭಾರತಕ್ಕೆ ಪ್ರಥಮ ನೊಬೆಲ್ ಪ್ರಶಸ್ತಿ ಬಂದಿರುವುದು ಈ ಕ್ಷೇತ್ರದಲ್ಲಿ

- (A) ಭೌತಶಾಸ್ತ್ರ
(C) ವೈದ್ಯಕೀಯ

- (B) ಸಾಹಿತ್ಯ
(D) ರಸಾಯನ ವಿಜ್ಞಾನ

52. ಈ ಕೆಳಗಿನ ಜಲಾಶಯಗಳು ಹಾಗೂ ವಿಭಿನ್ನ ರಾಜ್ಯಗಳ ಗಡಿಯಾಗಿರುವ ಅವುಗಳಿರುವ ಸ್ಥಳಗಳ ಜೋಡಿಗಳನ್ನು ಗಮನಿಸಿ:

- | | | |
|---------------------|---|----------------------------|
| 1. ಜಲಾಪುಟ್ ಅಣೆಕಟ್ಟು | : | ಆಂಧ್ರ ಪ್ರದೇಶ ಮತ್ತು ಓಡಿಶಾ |
| 2. ಪೀಚಿ ಅಣೆಕಟ್ಟು | : | ಕೇರಳ ಮತ್ತು ತಮಿಳುನಾಡು |
| 3. ರಾಜಘಾಟ್ ಅಣೆಕಟ್ಟು | : | ಉತ್ತರ ಪ್ರದೇಶ ಮತ್ತು ಪಂಜಾಬ್ |
| 4. ಭಾಕ್ರಾ ನಂಗಲ್ | : | ಹಿಮಾಚಲ ಪ್ರದೇಶ ಮತ್ತು ಪಂಜಾಬ್ |

ಮೇಲಿನ ಜೋಡಿಗಳಲ್ಲಿ ಯಾವುದು/ವು ಸರಿಯಾಗಿ ಹೊಂದಿಕೆಯಾಗಿವೆ?

- (A) 1 ಮತ್ತು 2
(C) 2 ಮತ್ತು 4

- (B) 2 ಮತ್ತು 3
(D) 1 ಮತ್ತು 4

53. ಭಾರತದಲ್ಲಿ ಹುಟ್ಟಿದ ಅಂತರಿಕ್ಷ ಯಾತ್ರಿ ಕೈಗೊಂಡ ಎರಡನೇ ಮಹಿಳೆ

- (A) ಕಲ್ಪನಾ ಚಾವ್ಲ
(C) ಅನುರಾಧ, ಪಿ.

- (B) ಸಿರಿಶಾ ಬಾಂಡ್
(D) ಕರ್ಣಂ ಮಲ್ಲೇಶ್ವರಿ

54. ಅಂತರರಾಷ್ಟ್ರೀಯ ಅಣುಶಕ್ತಿ ನಿಯೋಗದ ಕೇಂದ್ರ ಕಛೇರಿ ಇರುವುದು _____ ನಲ್ಲಿ.

- (A) ಜಿನೀವಾ
(C) ವಿಯೆನ್ನಾ

- (B) ವಾಷಿಂಗ್ಟನ್ ಡಿ.ಸಿ.
(D) ಲಂಡನ್

55. ಭಾರತದಲ್ಲಿ ಕೆಳಗಿನವುಗಳ ಪೈಕಿ ಯಾವುದನ್ನು ಸಣ್ಣ ಉಳಿತಾಯ ಯೋಜನೆಯಲ್ಲಿ ಸೇರಿಸಿಲ್ಲ?

- (A) ಸಾರ್ವಜನಿಕ ವಲಯದ ಬ್ಯಾಂಕ್ ಉಳಿತಾಯ ಠೇವಣಿ
(B) ಸಾರ್ವಜನಿಕ ಭವಿಷ್ಯ ನಿಧಿ
(C) ಹಿರಿಯ ನಾಗರಿಕರ ಉಳಿತಾಯ ಯೋಜನೆ
(D) ರಾಷ್ಟ್ರೀಯ ಉಳಿತಾಯ ಪತ್ರ (8ನೇ ಪ್ರಕಟಣೆ)

56. ದರ್ಡ್ ಆರ್ಯನ್ ಟ್ರಿಬ್ ಕೆಳಗಿನ ಯಾವ ರಾಜ್ಯಕ್ಕೆ ಸಂಬಂಧಿಸಿದೆ?

- (A) ಲಕ್ಷದ್ವೀಪ
(B) ಅರುಣಾಚಲ ಪ್ರದೇಶ
(C) ಜಮ್ಮು ಕಾಶ್ಮೀರ
(D) ಉತ್ತರಾಖಂಡ

57. 'ಗೋಲ್ಡ್ ಬುಲಿಯನ್' ಪ್ರಮಿತಿಯು ಯಾವುದಕ್ಕೆ ಸಂಬಂಧಿಸಿದೆ?

- (A) ಬಂಗಾರದ ನಾಣ್ಯವನ್ನು ಅಪರಿಮಿತ ಲೀಗಲ್ ಟೆಂಡರ್ ಎಂದು ಪರಿಗಣಿಸುವುದು.
(B) ಮೌಲ್ಯದ ಮಾಪನ ಮಾಡುವುದಕ್ಕೆ ಬಂಗಾರದ ಬಳಕೆ
(C) ಬಂಗಾರದ ನಾಣ್ಯಗಳನ್ನು ಮುಕ್ತವಾಗಿ ಬಳಸುವುದು
(D) ಬಂಗಾರದ ಆಮದು ಮತ್ತು ರಫ್ತಿನ ಮೇಲೆ ಯಾವುದೇ ನಿರ್ಬಂಧ ಇರದೆ ಇರುವುದು.

58. ವಿಶ್ವಬ್ಯಾಂಕ್ ಕುರಿತ ಕೆಳಗಿನ ಯಾವುದು ಸರಿ?

- (A) ಅಧಿಕಾರ ರಹಿತರಾದ ಉದಾರಿ ವ್ಯಕ್ತಿಗಳನ್ನು ಒಳಗೊಂಡ ಒಂದು ಸಂಸ್ಥೆ
(B) ಜಗತ್ತಿನಾದ್ಯಂತ ವಿದೇಶಿ ವಿನಿಮಯ ಕಾರ್ಯಾಚರಣೆಯನ್ನು ನಿಯಂತ್ರಿಸುವ ಸಂಸ್ಥೆ
(C) ಬೇರೆ ಬೇರೆ ದೇಶಗಳಲ್ಲಿ ಕಾರ್ಯನಿರ್ವಹಿಸುವ ಪ್ರಮುಖ ಬ್ಯಾಂಕ್ ಗಳ ಸಂಸ್ಥೆ
(D) ಅಭಿವೃದ್ಧಿ ಹೊಂದುತ್ತಿರುವ ದೇಶಗಳಿಗೆ ಧನಸಹಾಯ ಮಾಡುವ ಸಂಸ್ಥೆ.

59. ಪ್ರವಾಸಿ ಭಾರತೀಯ ದಿವಸವನ್ನು ಈ ದಿನ ಆಚರಿಸಲಾಗುತ್ತದೆ :

- (A) ಫೆಬ್ರವರಿ 10
(B) ಮೇ 1
(C) ಮಾರ್ಚ್ 8
(D) ಜನವರಿ 9

60. 2019ರ ಏಪ್ರಿಲ್ ನಲ್ಲಿ ಚಹ ಬೆಳೆಯುವ ಮತ್ತು ಉಪಭೋಗಿಸುವ ಐದು ದೇಶಗಳ ಒಕ್ಕೂಟವಾದ ಏಷ್ಯ ಚಹ ಒಕ್ಕೂಟ (ಎಟಿಎ) ಎಲ್ಲಿ ಪ್ರಾರಂಭವಾಯಿತು?

- (A) ಜಕಾರ್ತ, ಇಂಡೋನೇಷ್ಯಾ
(B) ಗುಯಿಜೌ, ಚೈನಾ
(C) ನವದೆಹಲಿ, ಭಾರತ
(D) ಟೊಕಿಯೊ, ಜಪಾನ್

61. ದಾದಾಸಾಹೇಬ ಫಾಲ್ಕೆ ಅಂತರರಾಷ್ಟ್ರೀಯ ಚಲನಚಿತ್ರ ಉತ್ಸವ 2021 ರಲ್ಲಿ ಅತ್ಯುತ್ತಮ ಪ್ರಶಸ್ತಿ (ಜೂರಿ) ಪಡೆದ ಚಲನಚಿತ್ರ:

(A) ದಂಗಲ್ ಕ್ರೀ

(B) ಚಾಪ್‌ಸ್ಕಿನ್

(C) ಚೋಕ್ಡೆ

(D) ವಾಟ್ ಆರ್ ದ ಆಡ್ಸ್

62. Your friend confides in you about her smoking habit. She looks quite panicky. Which of the following would be the most suitable way for you to react?

(A) Firmly and unequivocally tell her that smoking is bad especially for girls/women and ask her to stop smoking immediately.

(B) Be a good friend. Show your understanding of her problem and reassure her that everything would be alright

(C) Offer to smoke with her. Over a period of time, you can get her to stop the habit

(D) Be a supportive friend by understanding that an addiction is difficult to break out but point out that smoking is harmful and encourage her to slowly but surely to give up the habit.

63. According to proxemics, travelling in a crowded train is considered stressful because

(A) It is indirectly, a reflection of one's economic status

(B) It is directly linked to the subconscious fear of not being trapped in a crowded place

(C) It is indirect violation of one's personal space

(D) It is directly related to being late and under time pressure

64. Identify the correct question tag for the sentence:

They have eggs for breakfast _____

(A) haven't they?

(B) have they?

(C) don't they?

(D) do they?

65. Choose the most appropriate word for the following from the given alternatives.
To send back a person to his own country _____

(A) Expatriate

(B) Delegate

(C) Expel

(D) Repatriate

66. ಸಂಖ್ಯಾ ಶ್ರೇಣಿಯ ಮುಂದಿನ ಸಂಖ್ಯೆಯು 4, 3, 8, 9, 16, 27, 32, 81, ?

(A) 58

(B) 60

(C) 62

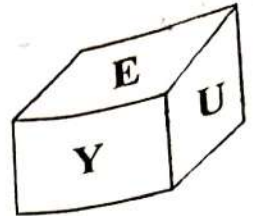
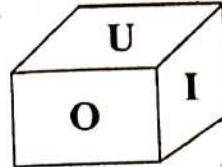
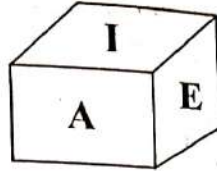
(D) 64

SPACE FOR ROUGH WORK

67. In a certain code SILVER is coded as ULPZHT then GOLDEN can be coded as
 (A) IRHPHP (B) IRPHHP
 (C) IRPHPH (D) IRPHHO

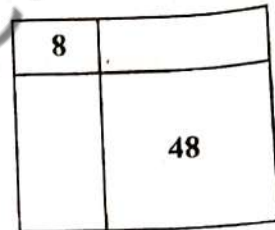
68. Three views of a cube are given, the opposite of A is

- (A) E (B) I
 (C) O (D) U



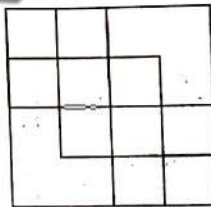
69. The given square is divided into four rectangles as shown in the figure. The number indicates area of that two rectangles. The length of the square is

- (A) 10 units (B) 12 units
 (C) 14 units (D) 16 units



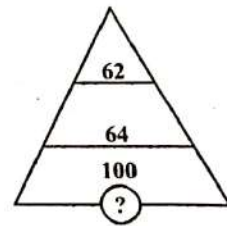
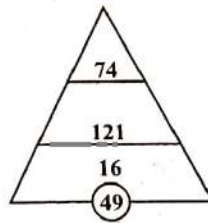
70. The number of squares in the following figure is

- (A) 14 (B) 15
 (C) 16 (D) 18



71. The missing number in the given diagram is

- (A) 1 (B) 36
 (C) 121 (D) 256



72. The odd day in the following date series is

5-1-96, 27-1-96, 18-2-96, 12-3-96, 2-4-96, 24-4-96

- (A) 27-1-96 (B) 18-2-96
 (C) 12-3-96 (D) 24-4-96

A1

73. ಅಡ್ಡ ಸಾಲು ಮತ್ತು ಕಂಬ ಸಾಲುಗಳಲ್ಲಿರುವ ಸಂಖ್ಯೆಗಳನ್ನು ಗಮನಿಸಿ. '?' ಚಿಹ್ನೆ ಜಾಗದಲ್ಲಿ ಬರುವ ಸಂಖ್ಯೆಯು :

11	104	9
8	77	9
13	?	7

WWW.SHIKARAT.COM

- (A) 126
(C) 106

74. ಒಂದು ಗುಂಪಿನಲ್ಲಿ 5 ಬಾಲಕರು ಹಾಗೂ 4 ಬಾಲಕಿಯರು ಇದ್ದಾರೆ. ಅವರಲ್ಲಿ 4 ಬಾಲಕಿಯರು ಜೊತೆಯಾಗಿಲ್ಲದಂತೆ, ಒಂದು ಸಾಲಿನಲ್ಲಿ ಕುಳಿರಿಸುವ ವಿಧಗಳ ಸಂಖ್ಯೆಯು

- (A) 3,00,000
(B) 3,45,600
(C) 3,54,600
(D) ಕಂಡುಹಿಡಿಯಲಾಗುವುದಿಲ್ಲ

75. ನೀಡಿರುವ ಸಂಖ್ಯೆಯ, ಬಿಡಿಸ್ಥಾನ ಹಾಗೂ ಹತ್ತರಸ್ಥಾನದ ಅಂಕಗಳನ್ನು ಅದಲು ಬದಲು ಮಾಡಿ ಬರೆದುಕೊಂಡರೆ, ಎರಡನೇ ಚಿಕ್ಕ ಸಂಖ್ಯೆಯ ಬಿಡಿಭಾಗದಲ್ಲಿ ಕಂಡುಬರುವ ಸಂಖ್ಯೆಯು

675, 647, 616, 689, 631

- (A) 4
(B) 6
(C) 7
(D) 9

76. ರಮೇಶನು ತನ್ನಲ್ಲಿರುವ ಹಣದಿಂದ 8 ಪುಸ್ತಕಗಳನ್ನು ಖರೀದಿಸಬೇಕೆಂದು ಕೊಂಡಿದ್ದಾನೆ. ಆದರೆ ಪುಸ್ತಕ ವ್ಯಾಪಾರಿಯು ರಮೇಶನಿಗೆ ರಿಯಾಯಿತಿಯನ್ನು ನೀಡುತ್ತಾನೆ. ಆಗ ರಮೇಶನು ಅದೇ ಮೊತ್ತಕ್ಕೆ ಇನ್ನು ಎರಡು ಹೆಚ್ಚು ಪುಸ್ತಕಗಳನ್ನು ಕೊಂಡುಕೊಳ್ಳುತ್ತಾನೆ. ಹಾಗಾದರೆ ಪುಸ್ತಕ ವ್ಯಾಪಾರಿಯು ನೀಡಿದ ರಿಯಾಯಿತಿ ದರವು

- (A) 15%
(B) 20%
(C) 25%
(D) 30%

77. + ನ್ನು \times ಎಂದು, - ಅನ್ನು \div ಎಂದು, \times ಅನ್ನು - ಎಂದು ಹಾಗೂ \div ನ್ನು + ಎಂದು ಪರಿಗಣಿಸಿದಾಗ, ಬರುವ ಬೆಲೆಯು

$$2 + 6 \div 6 - 3 \times 9 = ?$$

- (A) 18
(B) 16
(C) 15
(D) 14

78. ಒಬ್ಬ ವ್ಯಕ್ತಿಯ ವೇತನವನ್ನು ಶೇಕಡಾ 20 ರಷ್ಟು ಕಡಿಮೆ ಮಾಡಲಾಗಿದೆ. ಹಾಗಾದರೆ ಅವರು ಮೊದಲಿನಷ್ಟೇ ವೇತನವನ್ನು ಪಡೆಯಬೇಕಾದರೆ, ಹೆಚ್ಚಿಸಬೇಕಾದ ಶೇಕಡಾ ವೇತನವು

- (A) 20%
(B) 22%
(C) 24%
(D) 25%

SPACE FOR ROUGH WORK

73. Observe the numbers in rows and columns. The number which comes in the place of ? is

11	104	9
8	77	9
13	?	7

(A) 126

(C) 106

(B) 116

(D) 96

74. There are 5 boys and 4 girls. In how many ways they can be seated in a row so that all the girls do not sit together?

(A) 3,00,000

(C) 3,54,600

(B) 3,45,600

(D) Cannot be found

75. If the position of the unit and ten's digit of each number is interchanged, which of the following will now be the unit digit of the second lowest number?

675, 647, 616, 689, 631

(A) 4

(C) 7

(B) 6

(D) 9

76. Ramesh had money to buy 8 books of particular language, but the bookseller offered a discount that he can buy 2 more books for the amount he had, then the discount offered by the bookseller is

(A) 15%

(C) 25%

(B) 20%

(D) 30%

77. If + means \times , - means \div , \times means - and \div means +, then $2 + 6 \div 6 - 3 \times 9 = ?$

(A) 18

(C) 15

(B) 16

(D) 14

78. If a person's salary is decreased by 20% by what percentage his salary must be increased to get back his original salary?

(A) 20%

(C) 24%

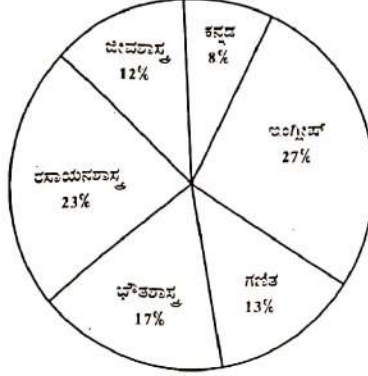
(B) 22%

(D) 25%

SPACE FOR ROUGH WORK

ನೀಡಿರುವ ವೃತ್ತಖಂಡಾಲೇಖವನ್ನು ಗಮನಿಸಿ ನೀಡಿರುವ ಪ್ರಶ್ನೆಗಳಿಗೆ ಉತ್ತರಿಸಿ :

ಆರು ವಿವಿಧ ವಿಷಯಗಳನ್ನು ಬೋಧಿಸುವ ಶಿಕ್ಷಕರ ಶೇಕಡಾವಾರು ವಿವರ, ಒಟ್ಟು ಶಿಕ್ಷಕರ ಸಂಖ್ಯೆ 1,800.



79. ರಸಾಯನಶಾಸ್ತ್ರ ಇಂಗ್ಲಿಷ್ ಹಾಗೂ ಜೀವಶಾಸ್ತ್ರ ಬೋಧಿಸುವ ಶಿಕ್ಷಕರ ಸಂಖ್ಯೆಯು :

(A) 1,226

(B) 1,116

(C) 1,176

(D) 998

80. ಗಣಿತ ಬೋಧಿಸುವ ಶಿಕ್ಷಕರ ಸಂಖ್ಯೆ ಹಾಗೂ ಕನ್ನಡ ಬೋಧಿಸುವ ಶಿಕ್ಷಕರ ಸಂಖ್ಯೆಗಳಿಗಿರುವ ಅನುಪಾತವು :

(A) 13:7

(B) 13:8

(C) 7:13

(D) 8:13

81. ಕೆಳಗಿನ ಹೇಳಿಕೆಗಳನ್ನು ಗಮನಿಸಿ ಮತ್ತು ಕೆಳಕಂಡ ಸಂಕೇತಗಳ ಸಹಾಯದಿಂದ ಸರಿಯಾದ ಉತ್ತರವನ್ನು ಆಯ್ಕೆ ಮಾಡಿ :
ಪ್ರತಿಪಾದನೆ (A) : ಸೂರ್ಯನ ಸುತ್ತಲಿನ ಕಕ್ಷಾ ಪಥದಲ್ಲಿ ಮಂಗಳ ಗ್ರಹವು ಚಲಿಸಲು ಭೂಮಿಯು ತೆಗೆದುಕೊಳ್ಳುವ ಅವಧಿಗಿಂತ ಕಡಿಮೆ ಸಮಯವನ್ನು ತೆಗೆದುಕೊಳ್ಳುತ್ತದೆ.

ಕಾರಣ (R) : ಮಂಗಳ ಗ್ರಹದ ವ್ಯಾಸವು ಭೂಮಿಯ ವ್ಯಾಸಕ್ಕಿಂತ ಕಡಿಮೆಯಿದೆ.

ಸಂಕೇತಗಳು :

(A) A ಮತ್ತು R ಎರಡೂ ಸರಿ ಮತ್ತು A ಗೆ R ಸರಿಯಾದ ವಿವರಣೆ ಆಗಿದೆ.

(B) A ಮತ್ತು R ಎರಡೂ ಸರಿ ಮತ್ತು A ಗೆ R ಸರಿಯಾದ ವಿವರಣೆಯಲ್ಲ.

(C) A ಸರಿ ಆದರೆ R ತಪ್ಪು.

(D) A ತಪ್ಪು ಆದರೆ R ಸರಿ.

82. ಪೃಥ್ವಿಯ ಅಂತರಾಳದಲ್ಲಿ 'ಕಾನ್ ರಾಡ್ ಸೀಮಾ ವಲಯವು' ಕೆಳಕಂಡ ಯಾವ ಎರಡು ಪದರುಗಳನ್ನು ಪ್ರತ್ಯೇಕಿಸುತ್ತದೆ?

(A) ಶಿಲಾಗೋಳ ಮತ್ತು ಮಿಶ್ರಗೋಳ

(B) ಹೊರ ಶಿಲಾಗೋಳ ಮತ್ತು ಒಳ ಶಿಲಾಗೋಳ

(C) ಮಿಶ್ರಗೋಳ ಮತ್ತು ಹೊರ ಕೇಂದ್ರಗೋಳ

(D) ಹೊರ ಕೇಂದ್ರಗೋಳ ಮತ್ತು ಒಳ ಕೇಂದ್ರಗೋಳ

A1

83. ಕೆಳಕಂಡ ಜೋಡಿಗಳನ್ನು ಗಮನಿಸಿ :

ಪಟ್ಟಿ I

- ಮೃತ್ಯು ಸಮುದ್ರ
- ಸುಪೀರಿಯರ್ ಸರೋವರ
- ವ್ಯಾನ್ ಸರೋವರ
- ಕಿವ್ ಸರೋವರ

ಪಟ್ಟಿ II

- ಲವಣತಾ ಸರೋವರ
- ಹಿಮ ಸರೋವರ
- ವಾಯು ಸಂಬಂಧಿ ಸರೋವರ
- ಲಾವ ಹೊರ ಹರಿವಿನಿಂದಾಗಿರುವ ಸರೋವರ

ಮೇಲ್ಕಂಡ ಯಾವ ಜೋಡಿಗಳು ಸರಿಯಾಗಿ ಹೊಂದಿಕೆಯಾಗಿವೆ?

(A) 1 ಮತ್ತು 2

(C) 1, 3 ಮತ್ತು 4

(B) 2 ಮತ್ತು 3

(D) 1, 2 ಮತ್ತು 4

84. ಕೆಳಕಂಡ ಹೇಳಿಕೆಗಳನ್ನು ಪರಿಗಣಿಸಿ :

- ಆಧಾರ ರೇಖೆಯು ಕಾಲ್ಪನಿಕ ರೇಖೆಯಾಗಿದ್ದು, ಸಮುದ್ರದ ಕಡೆಗೆ ಚಾಚಿಕೊಂಡಿರುವ ಭೂಭಾಗದಲ್ಲಿ ಇದು ಸಂಧಿಸುತ್ತದೆ.
- ಕರಾದಳಿ ತೀರ ಮತ್ತು ಆಧಾರ ರೇಖೆಯ ನಡುವೆ ವಿಸ್ತರಿಸಿರುವ ಸಮುದ್ರದ ನೀರನ್ನು ಆಂತರಿಕ ಜಲಭಾಗ ಎನ್ನುತ್ತೇವೆ.
- ಬಂದು ದೇಶದ ಭೂಭಾಗದ ಜಲಭಾಗವು ಆಧಾರ ರೇಖೆಯಿಂದ 12 ನಾಟಿಕಲ್ ಮೈಲಿವರೆಗೆ ವಿಸ್ತರಿಸಿದೆ.
- ವಿಶೇಷ ಆರ್ಥಿಕ ವಲಯ ಹೊರಭಾಗಕ್ಕಿರುವ ಸಾಗರವನ್ನು ಉನ್ನತ ಸಾಗರಗಳೆಂದು ಪರಿಗಣಿಸಲಾಗಿದೆ.

ಮೇಲಿನ ಯಾವ ಹೇಳಿಕೆಗಳು ಸರಿಯಾಗಿವೆ?

(A) 1 ಮತ್ತು 2

(C) 1, 2 ಮತ್ತು 3

(B) 1, 2, 3 ಮತ್ತು 4

(D) 2, 3 ಮತ್ತು 4

85. ಫೆರಲ್ಲನ ನಿಯಮವು ವಿವರಿಸುವುದು :

(A) ಒತ್ತಡ ಪಟ್ಟಿಗಳು

(C) ಮಾರುತದ ವೇಗ

(B) ಮಾರುತಗಳು ಬಾಗುವಿಕೆ

(D) ಮಾರುತಗಳ ದಿಕ್ಕು

86. ಕೆಳಕಂಡವುಗಳಲ್ಲಿ ಶೀತೋದಕ ಸಾಗರ ಪ್ರವಾಹವನ್ನು ಗುರುತಿಸಿ :

(A) ಕ್ಯಾನರಿ ಪ್ರವಾಹ

(C) ಗಲ್ಫ್ ಸ್ಟ್ರೀಂ

(B) ಬ್ರೆಜಿಲ್ ಪ್ರವಾಹ

(D) ಕುರೋಶಿವೋ ಪ್ರವಾಹ

87. ಕೆಳಗಿನ ಹೇಳಿಕೆಗಳನ್ನು ಗಮನಿಸಿ ಮತ್ತು ಕೆಳಕಂಡ ಸಂಕೇತದ ಸಹಾಯದಿಂದ ಸರಿಯಾದ ಉತ್ತರವನ್ನು ಆಯ್ಕೆ ಮಾಡಿ :
 ಪ್ರತಿಪಾದನೆ (A) : ನಗ್ನೀಕರಣ ಕರ್ತೃವಾಗಿ ಮಾರುತದ ಸವೆತಕಾರ್ಯವು ನದಿ ನೀರಿನಷ್ಟು ವಿಸ್ತೃತವಾಗಿಲ್ಲ.
 ಕಾರಣ (R) : ಇದು ಪ್ರಪಂಚದ ಮರುಭೂಮಿ ಪ್ರದೇಶಗಳಲ್ಲಿ ಮಾತ್ರ ಪರಿಣಾಮಕಾರಿಯಾಗಿದ್ದು, ಇಲ್ಲಿ ಮಳೆ ತೀರ ವಿರಳ ಮತ್ತು ಮಣ್ಣಿನ ಕಣಗಳು ಬಹಳ ಸಡಿಲವಾಗಿರುತ್ತವೆ.

ಸಂಕೇತಗಳು :

- (A) A ಮತ್ತು R ಗಳೆರಡೂ ಸರಿ ಮತ್ತು A ಗೆ R ಸರಿಯಾದ ವಿವರಣೆಯಾಗಿದೆ.
 (B) A ಮತ್ತು R ಗಳೆರಡೂ ಸರಿ ಮತ್ತು A ಗೆ R ಸರಿಯಾದ ವಿವರಣೆಯಲ್ಲ.
 (C) A ಸರಿ ಮತ್ತು R ತಪ್ಪು.
 (D) A ತಪ್ಪು ಮತ್ತು R ಸರಿ.

WWW.SHIKARAT.COM

88. ಹೊಂದಿಸಿ ಬರೆಯಿರಿ :

ಪಟ್ಟಿ I

(ಸ್ಥಳೀಯ ಮಾರುತಗಳು)

- a. ಚಿನೂಕ್
 b. ಫೋಹ್
 c. ಸಿರಾಕ್ಯೋ
 d. ಮಿಸ್ಸಲ್

ಪಟ್ಟಿ II

(ಚಲಿಸುವ ಪ್ರದೇಶಗಳು)

1. ಉತ್ತರ ಆಫ್ರಿಕಾದ ಮರುಭೂಮಿ
 2. ಅ. ಸಂ. ಸಂಸ್ಥಾನದ ರಾಕಿ ಪರ್ವತದ ಇಳಿಜಾರು
 3. ಆಲ್ಪ್ಸ್ ಪರ್ವತದ ಉತ್ತರದ ಇಳಿಜಾರು
 4. ಆಲ್ಪ್ಸ್ ಪರ್ವತದ ದಕ್ಷಿಣದ ಇಳಿಜಾರು

ಸಂಕೇತಗಳು :

	(A)	(B)	(C)	(D)
(a)	2	1	3	4
(b)	4	1	3	2
(c)	2	3	1	4
(d)	4	3	1	2

89. ರಾಮನ್ ಶಿಖರವು ನೆಲೆಗೊಂಡಿರುವುದು ಇಲ್ಲಿ

- (A) ಅಂಡಮಾನ್ ಮತ್ತು ನಿಕೋಬಾರ್
 (C) ಅರಬ್ಬೀ ಸಮುದ್ರ

(B) ಸಿವಾಲಿಕ್ಸ್

(D) ಝಸ್ಕಾರ್ ಶ್ರೇಣಿ

SPACE FOR ROUGH WORK

90. ಥಾರ್ ಮರುಭೂಮಿ ಪ್ರದೇಶದಲ್ಲಿ ಸ್ಥಾಂತರಿತ ಮರಳು ದಿನ್ನೆಗಳನ್ನು ಸ್ಥಳೀಯವಾಗಿ ಹೀಗೆ ಕರೆಯಲಾಗುತ್ತದೆ?
 (A) ಡ್ರಿಯಾನ್ (B) ದೌವ್
 (C) ಧೋರೋಸ್ (D) ಥಾಯ
91. ಭಾರತದಲ್ಲಿ ಕರೆನ್ಸಿ ಮತ್ತು ಹಣಕಾಸು ಕುರಿತಾದ ವರದಿಯ ವಾರ್ಷಿಕ ಪ್ರಕಟಣೆಯ ಜವಾಬ್ದಾರಿಯು
 (A) ಭಾರತದ ಭದ್ರತೆ ಮತ್ತು ವಿನಿಮಯ ಮಂಡಳಿ (B) ಭಾರತೀಯ ರಿಜರ್ವ್ ಬ್ಯಾಂಕ್
 (C) ಹಣಕಾಸು ಆಯೋಗ (D) ಹಣಕಾಸು ಸಚಿವಾಲಯ
92. ಕೆಳಗಿನ ಹೇಳಿಕೆಗಳನ್ನು ಗಮನಿಸಿ ಮತ್ತು ಕೆಳಗಿನ ಸಂಕೇತವನ್ನು ಬಳಸಿ ಸರಿಯುತ್ಪರವನ್ನು ಆಯ್ಕೆ ಮಾಡಿ :
 ಪ್ರತಿಪಾದನೆ (A) : ಹೂಡಿಕೆಯು ಬೇಡಿಕೆಯ ಪರಿಣಾಮವನ್ನು ಹೊಂದಿದೆ.
 ಕಾರಣ (R) : ಹೂಡಿಕೆಯು ಆರ್ಥಿಕತೆಯಲ್ಲಿ ಉತ್ಪಾದಕತೆ ಮತ್ತು ಆದಾಯವನ್ನು ಹೆಚ್ಚಿಸುತ್ತದೆ.
 ಸಂಕೇತಗಳು :
 (A) A ಮತ್ತು R ಗಳೆರಡೂ ಸರಿ ಆದರೆ A ಗೆ R ಸರಿಯಾದ ವಿವರಣೆಯಾಗಿದೆ.
 (B) A ಮತ್ತು R ಗಳೆರಡೂ ಸರಿ ಆದರೆ A ಗೆ R ಸರಿಯಾದ ವಿವರಣೆಯಲ್ಲ.
 (C) A ಸರಿ ಆದರೆ R ತಪ್ಪು.
 (D) A ತಪ್ಪು ಆದರೆ R ಸರಿ.
93. ಮುದ್ರಾ ಬ್ಯಾಂಕ್ ಇದರ ಅಂಗಸಂಸ್ಥೆಯಾಗಿದೆ :
 (A) ಐ.ಸಿ.ಐ.ಸಿ.ಐ. (B) ಆರ್.ಬಿ.ಐ.
 (C) ಐ.ಎಫ್.ಸಿ.ಐ. (D) ಎಸ್.ಐ.ಡಿ.ಬಿ.ಐ.
94. ಪ್ರಸ್ತುತ ಅಂಕಿಅಂಶಗಳ ಪ್ರಕಾರ ಭಾರತದ ಒಟ್ಟು ಜನಸಂಖ್ಯೆಯ ಎಷ್ಟು ಪ್ರಮಾಣ ಬಡತನ ರೇಖೆಗಿಂತ ಕೆಳಗಿದ್ದಾರೆ?
 (A) 14.2% (B) 38.2%
 (C) 29.5% (D) 31.2%
95. ಕೆಳಕಂಡ ಯಾವೊಂದು ಜೋಡಿ ಸರಿಯಾಗಿ ಹೊಂದಿಕೆಯಾಗಿಲ್ಲ ಎಂಬುದನ್ನು ಗುರುತಿಸಿ
 (A) ಕೈಗಾರಿಕಾ ಹಣಕಾಸು - ಎಸ್.ಐ.ಡಿ.ಬಿ.ಐ.
 (B) ಸಾಮಾಜಿಕ ಭದ್ರತಾ ಕ್ರಮಗಳು - ಭಾರತ್ ನಿರ್ಮಾಣ
 (C) ಗ್ರಾಮೀಣ ಸಾಲ - ನಬಾರ್ಡ್
 (D) ಗ್ರಾಮೀಣ ಉದ್ಯೋಗ - ಎಸ್.ಐ.ಎಸ್.ಆರ್.ವೈ.

SPACE FOR ROUGH WORK

96. 'ಬ್ರಿಟೀಷರ ಆಳ್ವಿಕೆಯಲ್ಲಿ ಭಾರತದ ಆರ್ಥಿಕ ಹರಿವು' ಎಂಬ ಸಿದ್ಧಾಂತದ ಗ್ರಂಥವನ್ನು ಬರೆದವರು
 (A) ಲಾಲ ಲಜಪತ್ ರಾಯ್
 (B) ಮಹಾತ್ಮ ಗಾಂಧಿ
 (C) ಜಿ.ಎನ್. ನೆಹರು
 (D) ದಾದಾಭಾಯಿ ನವರೋಜಿ

97. ಕೊಟ್ಟಿರುವ ಕಂಪೆನಿಗಳೊಡನೆ ಅವುಗಳು ನೆಲೆಯಾಗಿರುವ ಪ್ರದೇಶಗಳೊಡನೆ ಹೊಂದಿಸಿ ಮತ್ತು ಕೆಳಗಿನ ಸಂಕೇತಗಳಿಂದ ಸರಿಯುತ್ವರವನ್ನು ಆಯ್ಕೆ ಮಾಡಿ:

ಕಂಪೆನಿಗಳು

- ಬಾಲ್ಟೋ
- ಹಿಂದಾಲ್ಟೋ
- ಇಂದಾಲ್ಟೋ
- ನಾಲ್ಟೋ

ನೆಲೆಗಳು

- ಹಿರಾಕುಡ್
- ಕೊರ್ಬಾ
- ಕೋರಾಪುಟ್
- ರೇಣುಕೂಟ್

ಸಂಕೇತಗಳು:

	(A)	(B)	(C)	(D)
(a)	3	1	4	2
(b)	3	4	1	2
(c)	2	4	1	3
(d)	2	1	4	4

98. ತ್ವರಿತ ವಲಸೆಯ ಪ್ರವೃತ್ತಿಯನ್ನು ಹೊಂದಿರುವ ವಿದೇಶಿ ಕರನಿಯನ್ನು ಹೀಗೆ ಕರೆಯಲಾಗಿದೆ

- ಬಿಸಿ ಕರನ್ನಿ
- ಮೃದು ಕರನ್ನಿ
- ಸುವರ್ಣ ಕರನ್ನಿ
- ವಿರಳ ಕರನ್ನಿ

99. ಭಾರತದ ಮೊದಲ ಬಂದರು ಆಧಾರಿತ ವಿಶೇಷ ಆರ್ಥಿಕ ವಲಯ ಅಂತರರಾಷ್ಟ್ರೀಯ ಕಂಟೇನರ್ ಟ್ರಾನ್ಸ್‌ಶಿಪ್‌ಮೆಂಟ್ ಟರ್ಮಿನಲ್ ಅನ್ನು ಇಲ್ಲಿ ಸ್ಥಾಪಿಸಲಾಗಿದೆ

- ಕಾಂಡ್ಲ
- ಕೊಚ್ಚಿ
- ಗೋವ
- ತೂತುಕುಡಿ

100. ಭಾರತದಲ್ಲಿ ಅತ್ಯಧಿಕ ನಗರ ಸಾಂದ್ರತೆಯನ್ನು ಹೊಂದಿರುವ ರಾಜ್ಯವನ್ನು ಆಯ್ಕೆ ಮಾಡಿ

- ಪಂಜಾಬ್
- ತಮಿಳುನಾಡು
- ಮಹಾರಾಷ್ಟ್ರ
- ಪಶ್ಚಿಮ ಬಂಗಾಳ

SPACE FOR ROUGH WORK